
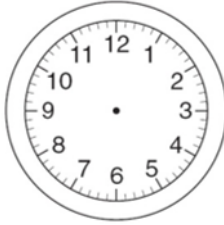


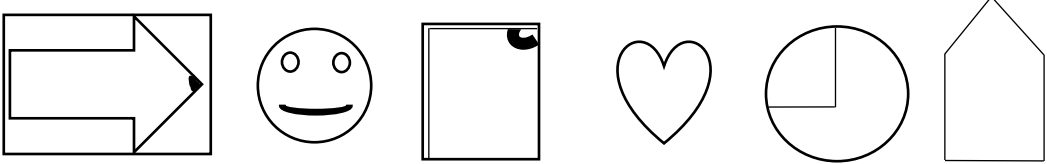



نیاز به تلاش	قابل قبول	خوب	خیلی خوب															
				<p>۱ الگوهای عددی زیر را ادامه بدهید ؟                      ..... - ..... - ..... - ..... - ..... - .....                      ۹ - ۱۱ - ۱۳ - .....                      ..... - ..... - ..... - ..... - .....                      ۴۷۳ - ۴۸۳ - ۴۹۳ - .....                      ..... - ..... - ..... - ..... - .....                      ۱۲۱ - ۲۲۱ - ۳۲۱ - .....</p>														
				<p>۲ هر یک از زمان‌های داده شده را روی صفحه ساعت نشان بدهید ؟</p> <div style="display: flex; justify-content: space-around; align-items: center;"> <div style="text-align: center;">   <div style="border: 1px solid black; padding: 5px; width: 60px; margin: 0 auto;">۲۴:۰۰</div> </div> <div style="text-align: center;">   <div style="border: 1px solid black; padding: 5px; width: 60px; margin: 0 auto;">۱۴:۲۰</div> </div> <div style="text-align: center;">   <div style="border: 1px solid black; padding: 5px; width: 60px; margin: 0 auto;">۲۰:۳۰</div> </div> <div style="text-align: center;">   <div style="border: 1px solid black; padding: 5px; width: 60px; margin: 0 auto;">۱۷:۵۰</div> </div> </div>														
				<p>۳ حاصل جمع‌های زیر را به دست بیاورید ؟</p> <div style="display: flex; justify-content: space-around;"> <div style="text-align: center;"> <math>۶ + ۵ + ۳ + ۴ + ۵ + ۲ = \bigcirc</math>  <math>۷ + ۵ + ۳ + ۱ + ۴ = \bigcirc</math> </div> <div style="text-align: center;"> <math>۷ + ۵ + ۵ + ۲ + ۷ + ۱ = \bigcirc</math>  <math>۹ + ۱ + ۲ + ۱ + ۷ + ۹ = \bigcirc</math> </div> </div>														
				<p>۴ در جاهای خالی عدد مناسب بنویس ؟</p> <table border="1" style="width: 100%; text-align: center; border-collapse: collapse;"> <tr> <td style="width: 12.5%;">۲</td> <td style="width: 12.5%;">۳۶</td> <td style="width: 12.5%;">۵۰۸</td> <td style="width: 12.5%;">۷۲</td> <td style="width: 12.5%;">۶۹۸</td> <td style="width: 12.5%;">۴۸۶</td> <td style="width: 12.5%;">۴۳</td> </tr> </table> <div style="text-align: center; margin: 10px 0;"> <div style="border: 1px solid black; width: 600px; height: 40px; margin: 0 auto;"></div> <p style="margin: 0 auto;">+ ۳۰۰</p> <div style="text-align: center; font-size: 2em;">↓</div> </div> <table border="1" style="width: 100%; text-align: center; border-collapse: collapse; margin-top: 10px;"> <tr> <td style="width: 12.5%; height: 20px;"></td> <td style="width: 12.5%;"></td> <td style="width: 12.5%;"></td> <td style="width: 12.5%;"></td> <td style="width: 12.5%;"></td> <td style="width: 12.5%;"></td> <td style="width: 12.5%;"></td> </tr> </table>	۲	۳۶	۵۰۸	۷۲	۶۹۸	۴۸۶	۴۳							
۲	۳۶	۵۰۸	۷۲	۶۹۸	۴۸۶	۴۳												
				<p>۵ به سؤالات زیر پاسخ بدهید ؟</p> <p>(الف) باز شده مکعب از چند مربع تشکیل شده است ؟ .....</p> <p>(ب) سومین عدد در شمارش ۵ تا ۵ تا بعد از بعد از ۸۵، کدام عدد می‌شود ؟ .....</p> <p>(پ) سی دقیقه بعد از ساعت پانزده و بیست دقیقه، چند می‌شود ؟ .....</p> <p>(ت) اگر به عدد ۶۶ سی و سه تا اضافه کنیم، چه عددی به دست می‌آید ؟ .....</p>														
				<p>۶ جدول زیر را کامل کنید ؟ (مربوط به زمان) ؟</p> <table border="1" style="width: 100%; text-align: center; border-collapse: collapse;"> <tr> <td style="width: 16.6%;"></td> <td style="width: 16.6%;"></td> <td style="width: 16.6%;">۲۳:۴۵</td> <td style="width: 16.6%;">۲۱:۰۰</td> <td style="width: 16.6%;"></td> <td style="width: 16.6%;">به صورت دیجیتالی</td> </tr> <tr> <td style="width: 16.6%;">یک و ربع</td> <td style="width: 16.6%;">۷:۱۰</td> <td style="width: 16.6%;"></td> <td style="width: 16.6%;"></td> <td style="width: 16.6%;">دو و نیم</td> <td style="width: 16.6%;">بعد از ظهر</td> </tr> </table>			۲۳:۴۵	۲۱:۰۰		به صورت دیجیتالی	یک و ربع	۷:۱۰			دو و نیم	بعد از ظهر		
		۲۳:۴۵	۲۱:۰۰		به صورت دیجیتالی													
یک و ربع	۷:۱۰			دو و نیم	بعد از ظهر													
				<p>ادامه سؤالات در صفحه دوم</p>														

خیلی خوب	خوب	قابل قبول	نیاز به تلاش														
<p>۷ زمان‌های داده شده را به طور مناسب به همدیگر وصل کنید ؟</p> <p>ساعت ۱۹ و ۲۰ دقیقه ● ●</p> <p>ساعت ۱۴ و بیست دقیقه ● ●</p> <p>ساعت ۱۳ و بیست دقیقه ● ●</p> <p>ساعت ۲۰ و بیست دقیقه ● ●</p> <p>۲:۲۰ ●</p> <p>۸:۲۰ ●</p> <p>۷:۲۰ ●</p> <p>۱:۲۰ ●</p>																	
<p>۸ خط تقارن‌های شکل‌های زیر را رسم کن ؟</p> 																	
<p>۹ یک مغازه دار، دفتری را ۲۵۰ ریال می‌خرد و ۳۰۰ ریال می‌فروشد. پس از پر کردن جدول زیر، به سؤال‌ها پاسخ دهید ؟</p> <table border="1" data-bbox="336 913 1428 1037"> <tr> <td>دفتر</td> <td>۱</td> <td></td> <td></td> <td></td> <td></td> <td></td> </tr> <tr> <td>سود</td> <td>۵۰</td> <td></td> <td></td> <td></td> <td></td> <td></td> </tr> </table> <p>- اگر ۳ دفتر بفروشد، چند ریال سود می‌کند؟</p> <p>- چند دفتر بفروشد تا ۲۰۰ ریال سود کند؟</p> <p>- چند دفتر بفروشد تا با سود آن یک دفتر بخرد؟</p>				دفتر	۱						سود	۵۰					
دفتر	۱																
سود	۵۰																
<p>۱۰ شکل‌های زیر را دسته بندی کنید، به کمک الگوی شمارش چند تا چند تا و نوشتن یک عبارت جمع تعداد مربع‌های هر شکل را به دست آورید ؟</p> 																	
<p>۱۱ امروز شنبه و اولین روز ماه است، تا آخر این ماه شنبه‌ها چه روزهایی از ماه است ؟</p>																	

نتیجه ارزشیابی : خیلی خوب  خوب  قابل قبول  نیاز به تلاش