

# از آگهی‌های استخدامی تا مصاحبه و گزینش (ویژه استخدامی دولتی و خصوصی)

مؤلف | تیم آموزشی  
ای استخدام

ای استخدام

سخنی کوتاه با آن دسته از عزیزانی که وجدان‌شان به روشنایی یک کهکشان، دلشان به پهنای یک دریا، نیکی‌شان به محدودهٔ یک نامحدود و توجه‌شان و از همه مهم‌تر، توجه‌شان به انسان، بیش از یک گیتی:

ما شما را به اینها خوانده‌ایم: روشن ضمیر، دریا دل، نیک‌منش و، و چه سخت است بیان آن؛ نمی‌توان نامی برای آن شخص که به انسان توجه دارد، انتخاب کرد. ما فقط می‌توانیم در حد خودمان تشریحش کنیم. کسی که به انسان توجه دارد، مانند کسی است که مثلاً می‌داند انسان بودن چه بویی دارد، و یا مثلاً می‌داند معرفت چیست و مختص به کیست و یا شاید هم بداند حق چیست و حق داشتن در گرو کیست. آن شخص حلال می‌داند چیست و حرام می‌داند در کدام است.

ما برای انسان جمع شده‌ایم و نه غیر آن؛ و از همهٔ انسان‌ها می‌خواهیم، بیایید آن‌هایی که نمی‌خواهند انسان باشند و نمی‌خواهند انسانیت بیاموزند و بجای آنکه از حلال خدا استفاده کنند، از حرامش استفاده می‌کنند، از جامعه انسان‌ها طرد کنیم. به همهٔ آنهایی که می‌خواهند حلال را به حرام تبدیل کنند و از حرام استفاده کنند، بگوییم که "انسان باشید" و لکن اگر از حرام استفاده می‌کنید، ما نمی‌توانیم شما را در دنیای دیگر پذیرا باشیم؛ آخر می‌دانی؟ دنیای دیگر، دیگر متعلق به انسان‌هاست. بنابراین، ما نیز به عنوان یک انسان، خواهیم نوشت:

«به دلیل ثبت قانونی مالکیت حقوق کتاب حاضر و نشر الکترونیک اثر برای صاحب امتیاز آن، شرکت توسعه گران آرمانگر پردازش (سامانه ای استخدام) محفوظ بوده و به موجب ماده ۵ و ۲۳ قانون حمایت از حقوق مولفان، مصنفان و هنرمندان مصوب ۱۳۴۸/۱۰/۱ هیج شخص حقیقی یا حقوقی حق کپی برداری و بهره برداری (کل و یا بخشی) از آن را ندارد. بدیهی است متخلفان به مستند این قانون تحت پیگرد و اقدامات قانونی و قضایی مالک اثر قرار خواهند گرفت.»

## فهرست مطالب

فصل اول: آگهی‌های استخدامی.....	۹
مقدمه.....	۱۰
بخش اول: کانال‌های استخدام در سازمان‌های خصوصی.....	۱۱
۱. آگهی‌های استخدامی.....	۱۱
۲. مؤسسات کاریابی.....	۱۳
۳. معرفی اعضای سازمان.....	۱۵
۴. مراجعه مستقیم.....	۱۶
۵. سامانه‌های استخدامی.....	۱۶
بخش دوم: کانال‌های استخدام در سازمان‌های دولتی.....	۱۷
۱. شرایط عمومی استخدام.....	۱۸
۲. مراحل ثبت‌نام.....	۱۹
۳. نحوه تکمیل تقاضانامه ثبت‌نام.....	۱۹
۴. زمان برگزاری آزمون و نحوه دریافت کارت شرکت در آزمون.....	۲۰
۵. موارد آزمون.....	۲۰
۶. امتیازات و سهمیه‌های قانونی.....	۲۰
۷. نحوه اعلام نتیجه.....	۲۳
۸. تذکرات.....	۲۳
۹. جداول.....	۲۴
۱۰. پیش‌نویس تقاضانامه ثبت‌نام.....	۲۴
فصل دوم: بودجه‌بندی دروس، منابع مطالعاتی، شیوه‌ها و تکنیک‌های مطالعه.....	۲۶
مقدمه.....	۲۷
بخش اول: بودجه‌بندی سؤالات.....	۲۸
۱. فناوری اطلاعات و ICDL.....	۳۰

.....	۳۲	۲. زبان و ادبیات فارسی و نگارش ادبی
.....	۳۳	۳. اطلاعات عمومی و دانش مسائل روز
.....	۳۴	۴. ریاضی و آمار
.....	۳۵	۵. زبان انگلیسی عمومی
.....	۳۶	۶. معارف اسلامی
.....	۳۷	۷. هوش و توانمندی‌های عمومی
.....	۳۸	بخش دوم: منابع مطالعاتی
.....	۳۸	۱. زبان و ادبیات فارسی
.....	۳۹	۲. مهارت‌های هفتگانه ICDL
.....	۴۰	۳. زبان انگلیسی
.....	۴۱	۴. هوش و توانمندی‌های عمومی
.....	۴۲	۵. ریاضیات و آمار
.....	۴۳	۶. معارف اسلامی
.....	۴۳	۷. اطلاعات عمومی و سیاسی
.....	۴۵	بخش سوم: شیوه‌ها و راهبردهای مطالعه دروس آزمون‌های استخدامی
.....	۴۵	نقشه ذهنی به عنوان مبنایی‌ترین شیوه فراگیری
.....	۴۸	چگونگی تقسیم‌بندی مطالعات دروس استخدامی
.....	۴۹	مرور مطالب
.....	۵۰	تکنیک دسته‌بندی تست‌ها برای مدت مشخص
.....	۵۳	فصل سوم: برگزاری آزمون‌های استخدامی
.....	۵۴	مقدمه
.....	۵۴	بخش اول: اعمال قبل از روز برگزاری آزمون
.....	۵۸	بخش دوم: اعمال روز برگزاری آزمون
.....	۶۴	بخش سوم: بعد از برگزاری آزمون

۶۶	فصل چهارم: نتایج اولیه آزمون‌های استخدامی
۶۷	مقدمه
۶۷	کارنامه اولیه
۷۰	درصدهای یک درس چگونه محاسبه می‌شود؟
۷۰	میانگین درصدهای درس‌های عمومی و تخصصی چگونه محاسبه می‌شود؟
۷۱	حد نصاب و نمره کل میانگین چیست؟
۷۲	نمره کل نهایی آزاد چیست؟
۷۳	رتبه داوطلب در سهمیه و آخرین رتبه معرفی در سهمیه چیست؟
۷۴	منظور از کادر و وضعیت داوطلب چیست؟
۷۸	فصل پنجم: تحویل مدارک
۷۹	مقدمه
۷۹	تحویل مدارک در استخدامی سازمان‌های خصوصی
۸۵	تحویل مدارک در استخدامی سازمان‌های دولتی
۸۸	فصل ششم: مصاحبه تخصصی
۸۹	مقدمه
۹۰	محورهای اصلی مصاحبه
۹۲	۱. کلیات مصاحبه‌شونده
۹۳	۲. ویژگی‌های روانشناختی
۱۰۹	۳. دانش کامپیوتر و ICDL
۱۱۴	۴. دانش مربوط به رشته و مدرک تحصیلی
۱۱۶	۵. مهارت و دانش شغلی تخصصی متناسب با نوع شغل
۱۲۱	۶. دانش لازم در مورد سازمان مورد نظر
۱۲۷	۷. کلیات عقاید
۱۲۹	۸. فعالیت‌های پژوهشی، دوره‌های آموزشی و فعالیت‌های جانبی

۱۳۱	فصل هفتم: گزینش عقیدتی
۱۳۲	مقدمه
۱۳۳	محورهای اصلی گزینش استخدامی
۱۳۵	۱. سوالات شخمی
۱۳۹	۲. احکام
۱۵۶	۳. نماز
۱۶۶	۴. عقیدتی
۱۸۶	۵. سیاسی
۲۰۱	مهمترین رویدادهای سال هجری شمسی (پرتکرارترینها در گزینش استخدامی)
۲۰۳	مهمترین رویدادهای سال هجری قمری (پرتکرارترینها در گزینش استخدامی)
۲۰۶	ضمایم
۲۰۸	کامپیوتر و ICDL
۲۳۰	کلیدهای میانبر در Excel
۲۳۳	کلیدهای میانبر در Word
۲۳۷	کلیدهای میانبر در Power Point
۲۴۰	هوش و توانمندیهای عمومی
۲۷۶	ریاضیات و آمار
۳۰۱	اطلاعات عمومی و مسائل روز
۳۲۲	معارف اسلامی
۳۵۰	زبان و ادبیات فارسی و اصول نگارش
۳۷۲	زبان انگلیسی



## پیشگفتار

کتابی که هم اکنون پیش روی شماست، مجموعه‌ای از تلاش مجموعه‌هاست. هیچ نیازی حس نمی‌شود که ای‌استخدام بخواند پیرامون تلاش‌های صورت گرفته برای تألیف این کتاب سخن بگوید؛ اما پیرامون اینکه این کتاب چه چیزی به خواننده خواهد رساند، حتماً نیاز به توضیح دارد و این حق طبیعی خواننده است که بداند با زمانی که صرف مطالعه این کتاب می‌کند، در چه بخش‌هایی از مراحل جذب و استخدام اطلاعات کسب خواهد کرد.

این کتاب از هفت فصل تشکیل شده است و دارای هفت ضمیمه است. داوطلبان و متقاضیان شغل، با مطالعه این هفت فصل و هفت ضمیمه، می‌توانند خود را برای جذب و استخدام شدن در سازمان‌های دولتی و یا خصوصی، آماده کنند. از دید ای‌استخدام، تنها شکاف محسوس در تألیف این کتاب، ارائه نکردن منابع دروس تخصصی رشته شغل‌های آزمون‌های استخدامی است. البته اگر با دید منصفانه به این موضوع بنگریم، متوجه خواهیم شد که نه تنها در این کتاب، بلکه در هیچ کتابی نمی‌توان یافت که علاوه بر اینکه این هفت فصل و هفت ضمیمه را ارائه کرده باشد، منطقی به نظر برسد که منابع تخصصی تمام رشته‌های شغلی را یکجا آورده باشد؛ از طرفی دیگر، تعداد رشته‌های شغلی در کشور بسیار زیاد است و هیچ مؤلفی نمی‌تواند ادعا کند که همه منابع را بتواند در ظرفیت یک کتاب واحد ارائه کند.

در هر صورت، ای‌استخدام سعی کرده است تا به تمام مراحل مهم جذب و استخدام که یک داوطلب به آن نیاز دارد، بپردازد. یکی از محاسن این کتاب در این است که علاوه بر توجه به ابعاد علمی مراحل جذب و استخدام، موارد مندرج در آن را به صورت کاربردی (و نه صرفاً جنبه‌تئوریک) بیان کند؛ چرا که بسیار مشاهده می‌شود که داوطلبان و متقاضیان



شغل با مطالعه کتاب‌های متنوع، با سردرگمی بیان می‌کنند که "خب حالا که چی؟ الان چیکار کنم مثلاً؟ این همه خوندم، مثلاً رفتم مصاحبه بایستی چیکار کنم؟ یا توی گزینش چه سؤالاتی می‌پرسن؟ این که همش گفته استرس نداشته باشین، نگران نباشین و ...، راهکار وقتی نداره، چرا براش وقت صرف کردم؟ خب کاش می‌گفت سؤالات گزینش و یا مصاحبه تخصصی چجوری است و یا آزمون استخدامی چطوری سؤال میدن!" اما ما خدا را شاکریم از این بابت که بخش اعظم دغدغه‌های یک داوطلب را به دلیل تجربه‌های ای‌استخدام و مشاهده تجربیات دیگران، درک کرده‌ایم و کتابی که پیش روی شماست، پاسخ بخش کثیری از پرسش‌هایی است که در ذهن شما داوطلب گرامی به گردش در آمده است و ما امیدواریم توانسته باشیم پاسخگوی این دغدغه‌ها باشیم.

قطعاً هر کتابی خالی از اشکال و ایراد نیست و ما پذیرای دریافت هر گونه نقدی بر این کتاب خواهیم بود. بنابراین، از داوطلبان گرامی خواستاریم تا انتقادات و پیشنهادات خود را به پست الکترونیکی سامانه استخدامی ای‌استخدام، ارسال کنند و ما را از این لطف بهره‌مند سازند.

# فصل اول

آگهی های استخدامی



## مقدمه

این صحیح است که به طور ظاهری و فیزیکی، آگهی‌های استخدامی هستند که عامل شروع فرآیند جذب و استخدام برای داوطلبان استخدامی می‌شوند، اما در ضمن این رویداد که باعث می‌شود فرد مسیر زندگی خود را تغییر دهد، آن افکاری می‌باشد که در ذهن شخص ریشه می‌دواند و منجر به سلسله انتخاب‌های متعدد در زمینه تغییر مسیر آینده، می‌شود.

این جهان چیست صنم خانه پندار من است / جلوه او گرو دیده بیدار من است

همه آفاق که گیرم به نگاهی او را / حلقه‌ای هست که از گردش پرگار من است

هستی و نیستی از دیدن و نادیدن من / چه زمان و چه مکان، شوخی افکار من است

ساز تقدیرم و صد نغمه پنهان دارم / هر کجا زخمه اندیشه رسد، تار من است

«اقبال لاهوری»

آگهی‌های استخدامی، نقطه عطف افکار فرد با آنچه در واقعیت مشاهده می‌شود، می‌باشد. نقطه عطفی که می‌تواند باعث شود فرد از بین بی‌نهایت نیازهای خود، به دسته‌ای از نیازهای اساسی پاسخ دهد. آری، این سلسله انتخاب‌هاست که زندگی افراد را به سمتی سوق می‌دهد که انتخاب‌ها با مطلوبیت نیازها متناسب شوند.

در این فصل، به این سوال سازمان‌ها پاسخ داده می‌شود که:

نیروی انسانی مورد نیاز را از کجا می‌توان تأمین نمود؟ این سؤالی است که مسئولان کارمندیابی سازمان‌ها باید به آن پاسخ دهند. سازمان‌ها با مراجعه به فهرست موجودی نیروی انسانی خود، منابع داخلی (کارکنان فعلی) را مورد بررسی قرار می‌دهند. چنانچه نتوانند از کارکنان فعلی، فرد مناسبی را برای احراز شغل پیدا نمود، بناچار باید به بازار کار

و منابع خارجی متوسل شد. بنابراین، به دو دسته از آگهی‌های استخدامی اشاره می‌شود. ابتدا به کانال‌ها و آگهی‌های استخدامی مربوط به سازمان‌های خصوصی و سپس کانال‌ها و آگهی‌های مربوط به سازمان‌های دولتی.

### بخش اول: کانال‌های استخدام در سازمان‌های خصوصی

در سازمان‌های خصوصی، پنج کانال وجود دارد که معمولاً بیشترین توجه سازمان‌ها به این پنج کانال متوجه می‌شود. این کانال‌ها عبارتند از: آگهی استخدامی، مؤسسات کاریابی، معرفی اعضای سازمان، مراجعه مستقیم و سامانه‌های استخدامی.

#### ۱. آگهی‌های استخدامی

آگهی در سازمان‌های خصوصی با آگهی در سازمان‌های دولتی بسیار متفاوت است. آگهی یکی از موثرترین روش‌هایی است که سازمان به وسیله آن می‌تواند قصد خود را برای استخدام نیروی انسانی به اطلاع مردم برساند. در آگهی معمولاً نوع نیرویی که سازمان خواهان آن است (مانند تعمیرکار، فروشنده و مهندس) و مشخصاتی که او باید دارا باشد (مانند تحصیلات و تجربیات) ذکر می‌گردد. همچنین، اطلاعات اولیه‌ای از قبیل محل خدمت و حداقل یا حداکثر حقوقی که به شغل تعلق می‌گیرد نیز در آگهی درج می‌شود.

آگهی‌ها انواع و اقسام متفاوتی دارند که در زیر به چندین مورد آن اشاره می‌شود:

✓ بسیاری از سازمان‌ها در آگهی‌های خود، نام و نشانی خود را ذکر نمی‌کنند. در این نوع آگهی که به آن آگهی بی‌نام، می‌گویند، معمولاً از داوطلبان شغل خواسته می‌شود که مدارک خود را به شماره صندوق پستی ارسال نمایند. داوطلبان گرامی بخاطر داشته باشید که اگر سازمان قصد نداشته

باشد از نیروهای داخلی برای تصدی شغلی استفاده کند یا اگر درصدد یافتن کارمند جدیدی باشد که جانشین یکی از کارمندان فعلی خود کند، استفاده از آگهی بی‌نام مفید خواهد بود. پس داوطلبان بایستی به همه این جوانب توجه کنند که اگر آگهی بی‌نامی را مشاهده نموده‌اند، آن آگهی بی‌نام حتماً و به قطع یقین نشان‌دهنده این نیست که آن آگهی نماینده یک سازمان بدنام باشد.

نکته جالب توجه دیگر اینکه سازمان‌ها برای اینکه بخواهند راحت‌تر افراد واجد شرایط را از دور واجدین شرایط حذف کنند، از این آگهی استفاده می‌کنند. چرا که داوطلب واجد شرایط، نمی‌داند به کدام سازمان جهت پیگیری‌های بعدی رجوع کند و از وضعیت استخدامی خود آگاه شود. بنابراین، داوطلبان بایستی بدانند که این دسته از سازمان‌ها به راحتی می‌توانند شما را از گردونه رقابت حذف کنند. از آنجا که تنها راه ارتباطی شما با سازمان مربوطه، فقط و فقط مدارکی می‌باشد که در دست شماست، پس استراتژی شما برای جلب نظر این دسته از سازمان‌ها، مهارت شما در رزومه نویسی است که در فصل تحویل مدارک با ذکر مثال، به طور کامل تشریح می‌گردد.

✓ دسته‌ای دیگر از آگهی‌های استخدام بانام هستند. در این طبقه از آگهی‌های استخدامی، سازمان مربوطه به طور واضح مشخص می‌شود. شغل مورد نظر، جنسیت، میزان سابقه کار، محل خدمت، رشته تحصیلی و به طور کلی تمامی موارد حساس که برای ارائه یک آگهی استخدامی بانام مورد نیاز است، ارائه می‌گردد.

نکته مهمی که بایستی به آن توجه نمود، این است که کانالی که سازمان برای نشر آگهی استخدام خود استفاده می‌کند، کجاست؟ داوطلبان بایستی به این نکته با دقت زیادی توجه نمایند که اگر قرار است خود را در خدمت سازمانی با کلاس کاری بالا قرار دهند، بایستی به نحوه و نوع کانالی که آن سازمان برای جذب استفاده می‌کند به چه شکلی خواهد بود. آیا سازمان از ورقه‌های کاغذی‌ای که به روی ستون تیرهای برق می‌چسبانند استفاده می‌کند و یا از سامانه‌های تخصصی استخدامی استفاده می‌کند؟ آیا سازمان از جملات کلیشه‌ای و پیش پا افتاده برای جذب متقاضی استفاده می‌کند و یا خیر، از جملات نافذ و فکر شده جهت این امر مهم استفاده می‌نماید؟

## ۲. مؤسسات کاریابی

نقش و وظیفه اصلی این مؤسسات، معرفی جویندگان کار به سازمان است. مؤسسات کاریابی بر دو گونه‌اند. مؤسسات کاریابی دولتی که کاریابی را به طور رایگان انجام می‌دهند و مؤسسات کاریابی خصوصی که برای ارائه خدمات خود کارمزد دریافت می‌کنند و تنها وجه تمایز این دو گونه مؤسسات کاریابی دولتی و خصوصی در همین کارمزد دریافت کردن است و در موارد دیگر، هیچ فرقی با هم ندارند. البته در ایران، بیشتر مؤسسات کاریابی خصوصی متداول است.

داوطلبان گرامی یادتان باشد که مؤسسات کاریابی برای حفظ وجهه خود مجبور است افراد شایسته‌تر را در اولویت قرار دهند. بنابراین، قبل از ورود به مؤسسات کاریابی، سعی کنید رزومه خوبی تشکیل دهید و همچنین برخورد مناسبی با اعضای این مؤسسات داشته باشید؛ چرا که برای همه سازمان‌ها برخورد فرد بسیار مهم‌تر از تجربیات او و حتی

تخصص اوست. بسیاری از افراد حتی سابقه کار آنچنانی نداشته‌اند اما وارد سازمانی شدند که در ملزوماتشان سابقه کار داشتن مورد اهمیت بسیاری قرار گرفته بود. این دست از افراد به دلیل سلیس بودن در صحبت و سیاست درهای بازی که در ارتباطات خود لحاظ می‌کردند، باعث شد تا بدون سابقه کار آنچنانی وارد سازمان‌های معتبری شوند که نیاز به سابقه کار داشته‌اند. این مورد از این بابت قابل لحاظ است که سازمان‌های خصوصی برخلاف سازمان‌های دولتی، در جذب منابع انسانی خود، به قوانین دست و پا گیر وابسته نیستند و هر که را بخواهند استخدام و هر که را بخواهند عزل می‌کنند. بنابراین، شایستگی در سازمان‌های خصوصی حرف اصلی را به زبان سازمان می‌آورد تا مسیرهای خشک جذب استخدام‌های دولتی.

سازمان‌های خصوصی معمولاً از بخش استخدام ضعیفی برخوردارند. یعنی به طور ویژه و تخصصی، واحد استخدامی فعالی ندارند. از این بابت، آن دسته از سازمان‌های خصوصی‌ای که جذب و استخدام خود را برون‌سپاری می‌کنند و این امر را به دوش مؤسسات دیگر می‌سپارند، معمولاً از قدرت کافی برای رد افراد صلاحیت‌دار و یا افرادی که فاقد صلاحیت هستند، برخوردار نیستند.

از طرف دیگر، سازمان‌های خصوصی به دلیل اینکه جابجایی منابع انسانی در آن‌ها پویاتر و سریعتر است، بنابراین نیاز یکباره به منابع انسانی پیدا کردن در این نوع از سازمان‌ها بیشتر از سازمان‌های دولتی است؛ چرا که جابجایی در سازمان‌های دولتی به کندی صورت می‌پذیرد و گهگاهی اصلاً امکان‌پذیر نخواهد بود. نتیجه اینکه مؤسسات کاریابی تا حدی می‌توانند پاسخگوی این نیازها باشند، اما نه اینکه مؤثرترین کانال تأمین این نیازها باشند. البته بایستی در نظر داشته باشید که مؤسسات کاریابی خصوصی، درصدی

از حقوق افراد را طی سال به منظور حق معرفی برای خود کسب می‌کنند و در ابتدا نیز سفته‌هایی را در جهت تعهد از متقاضی شغل دریافت می‌دارند.

به داوطلبان گرامی پیشنهاد می‌شود قبل از اینکه وارد مؤسسات کاریابی جهت درخواست کار وارد شوید، ابتدا در مورد شهرت و سابقه آن مؤسسه اطلاعات لازم را کسب کنید. معمولاً در هر شهری تعدادی بیش از یک مؤسسه کاریابی موجود می‌باشد.

از کجا بدانیم شایستگی‌های مورد نظر چه چیزهایی هستند که آنها را کسب کنیم؟ بهترین منبع برای اینکه بدانید چه شایستگی‌هایی لازم دارید، رجوع به سامانه‌های استخدامی، مانند ای‌استخدام می‌باشد که از طریق آن می‌توانید با سؤال و پرسش در صفحات مربوط به شغل مورد نظران از اشخاص با تجربه، کمک بگیرید. در اینجا شما با تعداد زیادی افراد باتجربه سر و کار دارید و جامعه آماری وسیعی از تحصیل کرده‌ها را در اختیار خواهید داشتید.

### ۳. معرفی اعضای سازمان

در این کانال، افراد درون سازمان اشخاص مورد نیاز را به سازمان معرفی می‌کنند. در اصطلاح عامیانه، این مورد را «پارتی بازی» می‌خوانند؛ در حالی که در سازمان‌های خصوصی، این امر پارتی بازی محسوب نمی‌شود. «پارتی بازی» زمانی «پارتی بازی» است که در شرایط یکسان، تعداد زیادی داوطلب واجد شرایط وجود داشته باشد و سازمان با سوگیری بخواهد یک نفر را بدون هیچ آزمایشی انتخاب کند.

در این کانال، خود شما هستید که بایستی با ارتباطاتی که قائل می‌شوید، خود را در سازمان اصطلاحاً جاباندازید. اگر به صورت مستقیم با سازمان مربوطه در تماس هستید و عضوی در درون آن سازمان دارید که با او مرتبط هستید که بسیار عالی، از طریق همان



شخص می‌توانید وارد سازمان شوید اما اگر به صورت مستقیم چنین عضوی در دسترس نیست، پیشنهاد می‌شود بر روی یک کاغذ ارتباطات خود را تصویر کنید. مثلاً خود را در وسط یک دایره قرار دهید. سپس خانواده‌ها و آشنایان را به صورت خوشه خوشه نامشان را یادداشت کنید و از طریق مسیر ارتباطی با سازمان‌ها در تماس باشید. به تجربه ثابت شده است که انسان‌ها می‌توانند در هر مکانی که دلشان بخواهد ارتباط برقرار کنند و این بستگی به مسیر ارتباطی شما دارد که چطور آن را متصور می‌شوید.

#### ۴. مراجعه مستقیم

اگر شما به دنبال کارهای روزمزد هستید، بهترین گزینه مراجعه مستقیم می‌باشد. در مواردی بدون دعوت سازمان، افرادی به وسیله تلفن، با نوشتن نامه و ارسال شرح حال خود یا به صورت حضوری با سازمان ارتباط برقرار می‌کنند و متقاضی شغل می‌شوند.

تجربه‌ها به سازمان‌ها نشان داده که آنهایی که خود به سازمان مراجعه می‌کنند، در انجام وظایف کاری از کسانی که سازمان با روش‌های دیگر آنها را استخدام کرده است، موفق‌تر عمل خواهند کرد. بنابراین، شما با مراجعه مستقیم و ارائه رزومه کاری و شایستگی‌های مورد نیاز، می‌توانید خواهان پست‌های خالی مربوط به تخصص خود شوید. البته بایستی در نظر داشته باشید که این روش بیشتر برای مشاغل روزمزد به کار می‌آید و داوطلبانی که خواهان مشاغل پاره‌وقت هستند، بهترین کانال ارتباطی با سازمان در زمینه به کارگیری نیرو، همین روش مراجعه مستقیم است.

#### ۵. سامانه‌های استخدامی

مهمترین، سریعترین و آسان‌ترین راه ارتباطی داوطلبان جوای شغل و حتی اشخاصی که خواستار کسب اطلاعات در مورد مشاغل هستند، سامانه‌های استخدامی نظیر

ای استخدام می‌باشد. این سامانه‌ها، امروزه مؤثرترین و کم‌هزینه‌ترین (کاراترین)، کانال کسب اطلاعات استخدامی هستند.

از این بابت، این سامانه‌ها مؤثرند که اثربخشی آنها در گرو رسیدن به هدف است و از آنجا که هدف کسب اطلاعات لازم در مورد جذب و استخدام در تک تک نقاط کشور می‌باشد، پس، این هدف به درستی محقق می‌شود؛ بنابراین، می‌گوییم این سامانه اثربخش است. از طرفی دیگر، از این بابت این سامانه‌ها کارا هستند که رسیدن به کارایی، یعنی با کمترین هزینه به هدف دست یافتن، را محقق می‌کنند. از آنجا که این سامانه‌ها هزینه‌های بالایی برای ارائه اطلاعات خود به شما دریافت نمی‌کنند، پس بر خلاف مؤسسات کاریابی که هزینه‌های خیلی زیادی را به شما تحمیل خواهند کرد، می‌گوییم این سامانه کارایی دارد. پس سامانه‌های استخدامی مثل ای استخدام، هم اثربخشی دارند و هم کارایی و این دو اصل مهم مدیریتی می‌باشد که بایستی به آن توجه ویژه کرد.

به منظور آشنایی بیشتر با سامانه‌های استخدامی، وارد سامانه ای استخدام شوید و صفحات مرتبط با شغل مورد نظر خود را بررسی کنید. در این سامانه‌های اطلاعات دوره‌های مختلف و برگزار شده قبلی هم موجود است.

## بخش دوم: کانال‌های استخدام در سازمان‌های دولتی

به غیر از موارد استثناء، در چند ساله اخیر، از آگهی استخدامی مبسوط با قوانین استخدامی کشوری استفاده شده است. این در حالی است که برخی از سازمان‌های خصوصی به دلیل فراگیر بودن و پراکنده بودن شعباتشان، آنها نیز از آگهی استخدامی فراگیر استفاده می‌کنند.

<sup>2</sup> [www.e-estekhdam.com](http://www.e-estekhdam.com)

اصولاً آنچه در آگهی‌های استخدامی دولتی گنجانده می‌شود، شامل موارد زیر است:

- ✓ شرایط عمومی استخدام
- ✓ مراحل ثبت‌نام
- ✓ نحوه تکمیل تقاضانامه ثبت‌نام
- ✓ زمان برگزاری و نحوه دریافت کارت شرکت در آزمون
- ✓ مواد آزمون
- ✓ امتیازات و سهمیه‌های قانونی
- ✓ نحوه اعلام نتایج
- ✓ جداول
- ✓ فهرست مشاغل و محل‌های مورد نیاز
- ✓ ظرفیت‌های شغل محل
- ✓ پیش‌نویس تقاضانامه ثبت‌نام

### ۱. شرایط عمومی استخدام

معمولاً شرایطی چون داشتن تابعیت ایران، تدین به دین مبین اسلام یا یکی از ادیان رسمی کشور مصرح در قانون اساسی، التزام به قانون اساسی جمهوری اسلامی ایران و... در این قسمت مطرح می‌گردد. لازم به ذکر است که داوطلبان گرامی، اگر حتی یکی از این شرایط مطرح در بند «شرایط عمومی استخدام» را ندارند، ثبت‌نام به عمل نیاورند؛ چرا که احتمال ضعیفی مبنی بر قبولی آنها وجود خواهد داشت و این احتمال بسیار اندک است.

## ۲. مراحل ثبت نام

در این بخش، از داوطلبان خواسته می‌شود تا مقوله‌های مورد نیاز برای ثبت نام، از قبیل فایل اسکن شده، عکس و... را فراهم آورند. لازم به ذکر است که لزومی ندارد حتماً عکس برای سال جاری شما باشد. طی بررسی‌های به عمل آمده، مشخص شد عده‌ای از داوطلبان با پرسش اینکه «آقا ما عکسمون برای امسال نیست»، «بیخشید من عکسم برای پارساله، عیبی داره؟» و امثالهم نسبت به این قضایا دچار حساسیت افراطی شده‌اند؛ حتی در بعضی از موارد، فرد با عکس یک سال قبل ثبت نام نموده و سپس در روز ویرایش از طریق به عمل آوردن عکس مجدد از عکاسی، فایل قبلی را ویرایش نمود و متأسفانه بعد از چند روز پیامک سایت سنجش مبنی بر کامل نبودن تصویر درج شده، به فرد مورد نظر ارسال شد. این موارد نشان از حساسیت بی مورد داوطلب نسبت به مدارک مورد نیاز است.

برادران گرامی توجه فرمایند که اگر تا روز آخر ثبت نام سرباز نظام وظیفه محسوب می‌شوند، به هیچ وجه ثبت نام به عمل نیاورند، چرا که در هر صورت، حتی پس از قبولی نیز استخدامی آنها ملغی شده و مسئولیت بعدی آن متوجه خود فرد خواهد شد.

## ۳. نحوه تکمیل تقاضانامه ثبت نام

در این بند به نحوه تکمیل کادرهای موجود در سیستم ثبت نام اشاره می‌شود. تنها نکته‌ای که حائز اهمیت است این است که داوطلب تمامی کدهای مورد نظر را به درستی وارد کنند؛ موارد بسیاری وجود دارد که داوطلب با اشتباه در وارد نمودن کدهای مورد نظر، از طریق تطبیق مدارک مردود اعلام شده است. بنابراین، در این امر مهم بسیار محتاطانه رفتار شود.

#### ۴. زمان برگزاری آزمون و نحوه دریافت کارت شرکت در آزمون

زمان اعلام شده در اطلاعیه قطعی است، به جز در موارد خاص که مکرراً تاریخ جدید آزمون توسط سامانه‌های خبری و اطلاعاتی حتماً اعلام می‌شود. بنابراین، به حدس و گمان‌ها و حتی به اینکه «دوستم زنگ زد پرسید گفتن زمان تغییر می‌کند» و از این دست گزاره‌های خبری، هیچ توجهی نکنید. زمان شما تا روز آزمون بسیار محدود و بسیار حیاتی می‌باشد؛ گهگاهی اعلام یک خبر کذب باعث وقفه در مطالعات فرد می‌شود و از رقابت عقب می‌ماند. یادتان باشد که تفاوت قبولی و عدم قبولی در صدم‌های درصد اعلامی است. پس از زمانی که به شما اختصاص داده شده، به بهترین وجه ممکن استفاده نمایید.

#### ۵. موارد آزمون

در این بخش معمولاً مواد آزمون در دفترچه عمومی و دفترچه تخصصی تشریح می‌گردد. همچنین کلیه ضرایب اختصاص یافته به سرفصل‌های دفترچه عمومی و تخصصی ذکر می‌گردد. تا به حال نشده است که دروس عمومی دارای ضرایب متفاوت باشند. همچنین دروس تخصصی نیز هر کدام دارای ضرایب متفاوت نیستند؛ اما ممکن است ضرایب دروس عمومی با ضرایب دروس تخصصی تفاوت داشته باشد. معمولاً برای اقلیت‌های دینی درس معارف اسلامی حذف می‌گردد و نمرات این درس بین دروس عمومی دیگر سرشکن خواهد شد.

#### ۶. امتیازات و سهمیه‌های قانونی

سهمیه‌های بومی بودن به دو دسته تقسیم می‌شود: بومی شهرستان و بومی استان. معمولاً وزن بومی شهرستان بیشتر از بومی استان است به غیر از اینکه شغل محل مورد نظر به صورت استانی در نظر گرفته شود. وزن بومی شهرستان و یا بومی استان با وزن فرد غیر

بومی متفاوت و همچنین بیشتر است، به غیر از اینکه شغل محل به صورت کشوری مورد توجه قرار گیرد. به داوطلبانی که بومی نیستند و خواستار شرکت کردن در آزمون را دارند پیشنهاد می‌شود، قبل از اتخاذ تصمیم در مورد انتخاب شغل محل خود، ابتدا جمعیت شهری را در نظر بگیرند و سپس نسبت ظرفیت به جمعیت را نیز حساب کنند، هر شغل محلی که نسبت بالاتری داشت، در آن شغل محل احتمال بیشتری به قبولی خواهد بود. برای مثال، سازمان امور مالیاتی در سومین آزمون دستگاه‌های اجرایی کشور، در شغل مامور تشخیص مالیات، در شهرستان تهران (بخش مرکزی) دارای ظرفیت ۱۴۹ نفر و در شهرستان ری دارای ظرفیت ۵۰ نفر بوده است. این در حالی است که طبق سرشماری سال ۱۳۹۰، شهرستان تهران ۸۲۹۳۱۴۰ نفر جمعیت داشته است و شهرستان ری ۲۹۷۷۱۱ نفر جمعیت دارد. با یک نسبت ساده ظرفیت به جمعیت در می‌یابیم که این نسبت برای شهرستان تهران تقریباً ۰،۰۰۰۱۸ و برای شهرستان ری تقریباً ۰،۰۰۰۱۶ می‌باشد. بنابراین، عقلایی می‌باشد که فرد برای رهایی از بند بومی‌های شهرستان که ضریبی به مراتب بیشتر از بقیه ضرایب به آنها تعلق می‌گیرد، شهرستان ری را به منظور رقابت انتخاب نماید. این مهم نیست که فکر کنید خب همه اگر این دیدگاه را داشته باشند، همه شهرستان ری را انتخاب می‌کنند و باز هم شرایط یکسان خواهد شد. خیر، اگر همه غیربومی‌ها شهرستان ری را انتخاب نمایند، باز هم می‌گوییم آنها غیربومی هستند و با شما شرایط یکسانی دارند، اما موضوع در اینجا بومی‌های شهرستان ری می‌باشد که به مراتب تعدادشان کمتر از بومی‌های شهرستان تهران است.

در ادامه دیگر این بخش، به سلسله بندهایی اشاره می‌شود که حاکی از این است که داوطلب بومی کیست. داوطلبان گرامی توجه فرمایند که انتخاب اشتباه در این بخش، موجب رد داوطلب در زمان تحویل مدارک می‌گردد، حتی اگر نفر اول آن شهر قلمداد گردید. پس وضعیت بومی خود را و صحت مدارک خود را در این بخش با توجه خیلی

زیاد بررسی نمایید تا مشکلی از این بابت برایتان به وجود نیاید. شایان ذکر است که سنوات تحصیلی از طریق گواهی پایان تحصیلات چه در مقطع ابتدایی، راهنمایی و دبیرستان و همچنین چه در مقطع دانشگاه مد نظر قرار می‌گیرد.

کارکنان قراردادی‌ای که شماره شناسه قراردادی دارند، مد نظر داشته باشند که درصدی از نمره کل آنها به ازای هر سال به نمره کل آنها اضافه می‌شود و این امتیازی مازاد نسبت به رقباست و این در صورتی می‌باشد که فرد به حد نصاب قانونی شغل محل خود طبق آزمون کتبی رسیده باشد. کارکنان قراردادی بالاترین اولویت را در بین بومی‌ها، در صورت مساوی بودن نمرات مکاتبه داوطلبان، خواهند داشت.

در مورد سهمیه ایثارگران، موارد زیر حائز اهمیت است:

- ✓ همه سهمیه‌داران ایثارگر، بایستی در آزمون شرکت نمایند.
- ✓ سهمیه‌داران ایثارگر فقط مجاز به استفاده از یکی از سهمیه‌های ۲۵ درصد و یا ۵ درصد هستند.
- ✓ سهمیه‌داران مشمول ۲۵ درصد و بالاتر، در حوزه سهمیه خود فقط در مشمولین سهمیه ۲۵ درصد و بالاتر رقابت می‌کنند که ظرفیت استخدامی آنها طبق جدول سهمیه ایثارگران موجود در اطلاعیه خواهد بود و ظرفیت اختصاص داده شده به این دسته از مشمولین سهمیه جدای از ظرفیت استخدامی برای داوطلبان با سهمیه آزاد است. در صورت حذف افراد مشمول سهمیه ۲۵ درصد، در رقابت بین مشمولین سهمیه، این افراد با آنهایی که به صورت آزاد ثبت نام می‌نمایند، رقابت می‌کنند.
- ✓ مشمولین سهمیه ۲۵ درصد و ۵ درصد، بایستی معرفی‌نامه خود را از بنیاد شهید و ایثارگران دریافت دارند و در روز تحویل مدارک به سازمان مورد

نظر تسلیم دارند. این نکته قابل بیان است که عنوان معرفی نامه بایستی به سازمان شغل محل قبولی شما باشد.

## ۷. نحوه اعلام نتیجه

اولین شرطی که برای قبولی در آزمون استخدامی مطرح می‌گردد، کسب حد نصاب نمره مورد نیاز است. حد نصاب در گذشته، بخشی از میانگین کسب شده در دروس بود و به عنوان مثال گفته می‌شد داوطلب بایستی میانگین دروس عمومی او بالاتر از درصدی مشخص برسد تا دروس تخصصی او تصحیح گردد اما امروزه حد نصاب، نصف نمره داوطلبی می‌باشد که بالاترین میانگین را در شغل محل مربوطه، بدون توجه به سهمیه‌های کارکنان قراردادی و یا بومی بودن به دست می‌آورد. حال ممکن است شغل محل مربوطه به صورت استانی یا کشوری نیز تعیین گردد.

داوطلبانی که به حد نصاب مورد نظر نمی‌رسند، در مرحله اول از دور رقابت حذف خواهند شد. ذکر دوباره این نکته حائز اهمیت است که داوطلبان بدانند در تعیین حدنصاب، هیچ امتیازی به داوطلب رتبه اول اعم از امتیاز بومی و یا کارکنان قراردادی تعلق نمی‌گیرد.

مشروح بندهای اعلام نتایج در فصل چهارم به طور کامل و جامع آورده شده است.

## ۸. تذکرات

داوطلبانی که در مورد مدرک ICDL، نگرانی دارند می‌توانند این مدرک را حتی پس از استخدام شدنشان به سازمان مربوطه تحویل دهند. حتی مشاهده شده که بعد از قبول شدن داوطلب و دریافت حکم نیز این مدارک که امری واجب بود، نیاز به ارائه نداشته است؛ اما به منظور دریافت امتیازات مورد نیاز در مصاحبه‌ها و همچنین رفع بهانه‌های



دستگاه پذیرنده نیرو، بهتر است این مدارک قبل از انجام مصاحبه فراهم شود. این مدارک را می‌توانید از شعبه‌های بنیاد ICDL ایران دریافت دارید.

یکی دیگر از جملات پُربحث اطلاعیه، جمله «دانشجویان مقاطع تحصیلی اعلام شده و همچنین دارندگان مدارک تحصیلی پایین‌تر از مقاطع تحصیلی اعلام شده در شرایط احراز مشاغل مذکور در آگهی و همچنین مدارک تحصیلی معادل، حق شرکت در آزمون استخدامی را ندارد.» می‌باشد. این جمله حاکی از این است که مثلاً سازمان‌ها درخواست داوطلب با مدرک کارشناسی را داده است و داوطلب مدرک کاردانی و یا دانشجوی کارشناسی باشد، رد خواهد شد؛ همچنین داوطلبانی که به هر علتی بجای دانشنامه و یا مدرک موقت، دارای مدرک معادل باشند، مدرک آنها ترتیب اثر نخواهد شد. در هر صورت در مورد این مثال مذکور، داوطلبانی که دانشجوی کارشناسی ارشد و یا بالاتر باشند، مشکلی نخواهند داشت، چرا که مدرک خواسته شده کارشناسی می‌باشد.

## ۹. جداول

مهمترین بخش اطلاعیه استخدامی، مربوط به جداول شغل محل‌ها، ظرفیت‌ها، تحصیلات مورد نیاز و خوسه‌های شغلی می‌باشد. ذکر این نکته لازم است که داوطلبان حدالمقدور پس از یادداشت نمودن کدهای شغلی مدنظر، قبل از تایید نهایی در سامانه ثبت‌نام، حتماً این کدها را هم در سامانه ثبت‌نام و هم در اطلاعیه استخدامی، بررسی نمایند تا مغایرتی نداشته باشد.

## ۱۰. پیش‌نویس تقاضانامه ثبت‌نام

پیش‌نویس تقاضانامه ثبت‌نام، حدود سه یا چهار صفحه انتهایی اطلاعیه‌های استخدامی دولتی می‌باشد. این پیش‌نویس صرفاً برای خود داوطلب طراحی شده است و هیچ ارزش قانونی‌ای برای سازمان استخدام‌کننده نخواهد داشت. بنابراین، نیاز است موارد

خواسته شده تماماً وارد سامانه ثبت‌نام شود و کد پیگیری مربوط به انجام نهایی ثبت‌نام توسط داوطلب احراز گردد.

آخرین نکته‌ای که در این فصل قابل بیان است، توجه داوطلبان به انجام عمل ثبت‌نام توسط کافی‌نت‌های سراسر شهر می‌باشد. نظر بر این است که حدالمقدور این عمل توسط خود داوطلب صورت پذیرد، چرا که مسئولین کافی‌نت علاوه بر اینکه هیچگونه مسئولیتی در قبال مغایرت اطلاعات قبول نمی‌کنند، به دلیل مشغله زیاد آنها و تردد بالای مراجعین به کافی‌نت، امکان اشتباه آنها بسیار بالا بوده و اشتباه در عمل ثبت‌نام آنها می‌تواند زحمت و هزینه‌های مالی و زمانی فرد را به راحتی از بین ببرد.

# فصل دوم

بودجه بندی سوالات، منابع  
مطالعاتی و شیوه های مطالعه



## مقدمه

اگر نتوانیم با قاطعیت بگوییم که همه موفقیت‌های افراد در آزمون‌های استخدامی، مرهون منابع مطالعاتی در آن آزمون است، قطعاً می‌توانیم بگوئیم، منابع مطالعاتی مناسب، آغازگر یک موفقیت بزرگ در مسیر اصلی زندگی فرد است. حال چرا گفته می‌شود مسیر اصلی زندگی؟ به این دلیل که این مشاغل هستند که پاسخگویی به نیازهای زندگی را میسر می‌کنند؛ این مشاغل هستند که نشان‌دهنده زمان اختصاص دادن به تفریحات، رفاه، کمک به هم‌نوع، دید و بازدیدهای خانوادگی و حتی آسایش خود و خانواده را تعیین می‌کنند. بنابراین، موفقیت در زمینه اشتغال، موفقیت در بیشتر عرصه‌های زندگی خواهد بود.

در این فصل به دلیل عمومیت موضوع در عین توجه تخصصی به شیوه‌های مطالعه سعی شده است داوطلبان گرامی را در زمینه مطالعات قبل از جلسه آزمون، کاملاً آماده سازد. بنابراین، در بخش اول توضیحاتی در مورد منابع مطالعاتی آزمون‌های استخدامی ارائه شده است و در بخش دوم شیوه‌ها و راهبردهای اصلی مطالعه دروس آزمون‌های استخدامی مطرح می‌گردد.

لازم به ذکر است که در بخش ضمایم انتهایی این کتاب، اصل مهم‌ترین و کلیدی‌ترین سوالات سازمان سنجش آموزش کشور که در دوره‌های سال ۱۳۹۳ و بعد از آن که شامل آزمون‌های فراگیر دستگاه‌های اجرایی، آموزش و پرورش، تأمین اجتماعی، دستیاران ستادی، دیوان محاسبات کشور و... می‌باشد، دقیقاً آورده شده‌اند. داوطلبان گرامی بخاطر بسپارند که کتاب‌هایی که در بازار موجود است، گفته نمی‌شود همه، اما گفته می‌شود اغلبشان اصل سوالات سازمان سنجش آموزش کشور نمی‌باشند و صرفاً به منظور تمرین برای آمادگی در آزمون ورودی کارشناسی و یا کاردانی به کارشناسی می‌باشند و اکثر

سؤالاتشان نیز تألیف مؤسسات مختلف و یا سؤالات آزمون‌های ورودی کارشناسی و یا کردانی به کارشناسی هستند؛ اما در ضمائم این کتاب، شما دقیقاً اصل سؤالات سازمان سنجش آموزش کشور را برای هر ماده درسی عمومی مشاهده خواهید نمود و بر مباحث دروس عمومی به اندازه کافی مسلط خواهید شد. لازم به ذکر است که پاسخ تشریحی این سؤالات توسط مجموعه‌ای استخدام و کارشناسان مربوطه تدوین و تحلیل شده است؛ و نکته آخر اینکه از آنجایی‌ای استخدام سعی نموده است که سؤالات از سال ۱۳۹۳ و بعد از آن در این کتاب قرار گیرد که شیوه طراحی سؤالات آزمون‌های استخدامی سازمان سنجش آموزش کشور، از این سال متفاوت از سال‌های قبل طراحی شده است و سؤالات قبل از سال ۱۳۹۳ به خودی خود راه‌گشای داوطلبان گرامی به آن صورت که زمان برای آن صرف کنند، نخواهد بود.

### بخش اول: بودجه‌بندی سؤالات

در این بخش ای استخدام سعی کرده است طبق آزمون‌های مختلفی که سازمان سنجش آموزش کشور برگزار کرده است، بودجه‌بندی‌ای برای داوطلبان عزیز ارائه دهد. از این بودجه‌بندی چندین استفاده می‌توان کرد که در زیر به بخشی از آن اشاره می‌شود:

۱. بودجه بندی سؤالات، به شما نشان خواهد داد که بخش‌های مختلفی که طراحان سؤالات آزمون‌های استخدامی بیشتر به آن توجه دارند، کدامند.

۲. بودجه‌بندی سؤالات نشان‌دهنده پراکندگی و تراکم سؤالات در بخش‌های مختلف یک درس خواهند بود. با این وجود شما با استفاده از آن می‌توانید به این موضوع پی ببرید که کدام یک از بخش‌های یک درس، مهم‌تر هستند.

۳. بودجه‌بندی سؤالات تغییرات تمایلات طراحان سؤال را در سال‌های متوالی نسبت به سؤالات نشان می‌دهد.

ایاستناد

در اینجا بودجه‌بندی سؤالات در جداول گوناگون به صورت درس به درس ذکر می‌شوند:

### ۱. فناوری اطلاعات و ICDL

سال	۱۳۹۱		۱۳۹۳		۱۳۹۴				۱۳۹۵			۱۳۹۶		۱۳۹۷					
	شهرداری	استاندارد اصفهان	مهر اقتصاد	بانک سپه	پست بانک	تامین اجتماعی	وزارت نیرو	آزمون فراگیر ۱	راه آهن	آموزش و پرورش	وزارت نیرو	آزمون فراگیر ۲	دستیاران ستادی	آموزش و پرورش	آزمون فراگیر ۳	آموزش فراگیر ۴ و آموزش و پرورش	قوه قضاییه	وزارت نیرو	آموزش فراگیر ۵ و آموزش و پرورش
دوره‌های برگزار شده	۲	۸	-	-	۶	-	۵	-	-	۶	۲	-	-	۱	۲	۴	۲	۲	۱
سرفصل‌های رایج در آزمون‌ها	۲	۱	۷	-	۷	-	۴	۱	۱	۱	۱	۱	۱	۲	۱	۲	۲	۲	۱
مفاهیم پایه کامپیوتر	۲	۱	۷	-	۷	-	۴	۱	۱	۱	۱	۱	۱	۲	۱	۲	۲	۲	۱
استفاده از رایانه و مدیریت فایل‌ها	-	۱	۷	-	۷	-	۴	۱	۱	۱	۱	۱	۱	۲	۱	۲	۲	۲	۱
کلیدهای ترکیبی ویندوز	۳	۱	-	-	۲	-	۴	-	-	۱	-	-	-	-	-	-	-	-	-
اینترنت	۲	-	۷	۲	-	۱	-	۳	۱	-	۱	-	۱	۲	۱	۲	۱	۱	۱
کلیدهای ترکیبی اینترنت	-	-	-	-	-	-	-	-	۱	-	-	-	-	-	-	-	-	-	-
پست الکترونیک	۱	-	-	۱	-	۳	-	۱	-	۱	۱	-	۱	۱	۱	۱	۲	۲	۱
شبکه	۱	۱	۱	-	۱	-	-	۱	-	۱	-	۱	-	۱	۱	۱	-	-	-
واژه پرداز	۳	۳	-	۴	-	۴	۱	۱	۴	-	۲	۲	۲	۲	۲	۲	۴	۲	۲
کلیدهای ترکیبی واژه پرداز	۱	-	-	-	۱	-	-	-	-	۱	-	-	-	۲	۱	-	-	-	-
صفحه گسترده	۳	-	-	۴	-	۲	-	۲	۲	-	۲	-	۲	۲	۲	۴	۴	۳	۱
کلیدهای ترکیبی صفحه گسترده	۱	-	-	-	-	-	-	-	-	-	-	-	-	۱	۱	-	-	-	-

سال	دوره‌های برگزار شده		سرفصل‌های رایج در آزمون‌ها	۱۳۹۱		۱۳۹۳		۱۳۹۴				۱۳۹۵		۱۳۹۶		۱۳۹۷				
	استاندارد اصفهان	شهرداری		مهر اقتصاد	بانک سپه	پست بانک	تامین اجتماعی	وزارت نیرو	آزمون فراگیر ۱	تامین اجتماعی	راه آهن	آموزش و پرورش	وزارت نیرو	آموزش فراگیر ۲	مستشاران ستادی	آموزش و پرورش	آزمون فراگیر ۳	آموزش فراگیر ۴ و آموزش و پرورش	قوه قضاییه	وزارت نیرو
پایگاه داده	۱	-	-	-	۱	-	۱	۱	-	-	-	۱	۱	۱	۱	۱	۱	۱	۱	۱
ارائه مطالب	-	۳	-	۴	-	۴	-	-	۲	-	۱	۱	۲	۲	۲	۲	۱	۲	۲	۲
کلیدهای ترکیبی ارائه مطالب	-	-	-	-	-	-	-	-	-	-	۱	۱	-	-	-	-	-	-	-	-
جمع کل	۱۵	۲۰	۱۵	۱۵	۲۰	۱۵	۱۵	۱۵	۱۰	۱۰	۱۵	۱۵	۱۰	۱۳	۱۳	۱۱	۲۰	۱۵	۱۳	



## ۲. زبان و ادبیات فارسی و نگارش ادبی

۱۳۹۷	۱۳۹۶			۱۳۹۵		۱۳۹۴							۱۳۹۳			۱۳۹۲		سال
	آموزش و پرورش آزمون فراگیر ۵ و ۴	وزارت نیرو	آموزش و پرورش آزمون فراگیر ۴ و ۳	آموزش و پرورش	آموزش فراگیر ۳	دستیاران ستادی	راه آهن	وزارت نیرو	آموزش و پرورش	آموزش فراگیر ۲	تأمین اجتماعی	آموزش فراگیر ۱	بانک صادرات	ثبت اسناد	تأمین اجتماعی	بانک سپه	شهرداری	
۲	۲	۲	۲	۱	۲	۱	۴	۲	۱	۲	۱	۲	-	-	۳	۲	۲	سرفصل‌های رایج در آزمون‌ها
۲	۲	۲	۴	۲	۱	۱	-	۲	۱	۲	۱	۲	-	۱	۱	۱	۱	معنی واژه
-	۱	۲	-	۱	۱	۲	-	۲	۲	۲	۱	۲	-	-	۱	۱	۲	غلط املایی
-	-	۱	-	-	-	-	-	-	۱	-	-	۱	-	-	۲	۱	۲	تاریخ ادبیات
۲	۲	۳	۵	۲	۲	۱	۴	۱	۲	۲	۱	۲	-	-	۱	۲	۲	قالب شعر و نثر
۲	۲	۳	۵	۱	۱	۲	-	۲	۱	۱	۱	۴	۱۴	۴	۲	۳	۱	آرایه‌ها
۴	۳	۴	۱۰	۲	۲	۱	۴	۴	۲	۲	۲	۲	۵	۴	۳	۴	۲	نگارش و ویرایش
-	-	-	-	۱	۱	-	-	-	۱	۱	۱	-	-	-	-	۱	-	تناسب معنایی و مفهوم جمله
۱	۱	۱	۴	۲	۱	۱	-	۱	۲	۱	۱	-	-	-	۱	-	۱	ساختار جمله
-	۱	-	-	۱	۲	۱	-	-	-	۱	۱	-	-	-	۱	-	۱	ساختمان واژه
۱	-	-	-	-	-	-	-	-	۱	۱	-	-	-	۱	-	-	-	نقش واژه
۱	۱	۲	۲	-	-	-	-	۱	۱	-	-	-	۱	-	-	-	۱	ساختمان فعل
۱	۱	۲	۲	-	-	-	-	۱	۱	-	-	-	۱	-	-	-	۱	متفرقه
۱۵	۱۵	۲۰	۳۰	۱۴	۱۳	۱۰	۱۰	۱۵	۱۵	۱۵	۱۰	۱۵	۲۰	۱۰	۱۵	۱۵	۱۵	جمع کل

## ۳. اطلاعات عمومی و دانش مسائل روز

۱۳۹۷		۱۳۹۶		۱۳۹۵		۱۳۹۴					۱۳۹۳				سال		
آزمون فراگیر ۵ آموزش و پرورش	وزارت نیرو	قوه قضاییه	آزمون فراگیر ۴ و آموزش و پرورش	آزمون فراگیر ۳	آموزش و پرورش	دیوان محاسبات	وزارت نیرو	آموزش و پرورش	آزمون فراگیر ۲	تأمین اجتماعی	آزمون فراگیر ۱	وزارت نیرو	ثبت اسناد	تأمین اجتماعی	بانک سپه	دوره‌های برگزار شده	
۱	-	سوالات قوه قضاییه سال ۱۳۹۶ فاقد سرفصل اطلاعات عمومی و دانش مسائل روز بوده است.	۴	-	-	۱	-	۱	۱	-	۱	۱	۲	-	۱	سرفصل‌های رایج در آزمون‌ها	
-	۱		۴	۱	۱	-	-	۱	۱	-	-	-	-	-	-	جنگ ایران و عراق	
-	-		۲	۴	۴	-	-	-	۱	۲	۳	۱	۱	-	-	-	تاریخ ادبیات و کتاب‌شناسی
۴	۴		۷	۴	۴	-	۶	۲	۴	۴	۵	۲	۳	۷	۵	-	سند چشم‌انداز ۲۰ ساله و برنامه‌های توسعه اقتصادی پنج ساله
-	-		-	-	-	-	-	۲	۱	-	-	۱	-	-	-	-	قانون اساسی
-	-		-	-	-	-	-	-	۱	۱	-	-	-	-	-	-	توافق هسته‌ای
-	-		-	-	-	-	-	-	۱	۱	-	-	-	-	-	-	دینی
۴	۱		۶	۲	۲	-	۲	۲	۱	۱	۱	۲	-	-	-	۱	جغرافیا
-	-		-	-	-	۱	۲	-	-	-	-	۲	-	-	-	-	نرخ‌های آماری ایران
-	۱		۵	۱	۱	۴	۲	۱	-	-	-	۱	۱	۲	۱	۱	تشکیلات کشور و وظایف سازمان‌ها و افراد تابعه آن
۱	-		۱	-	-	۱	۱	-	-	-	-	۱	-	۳	۱	-	سازمان‌های بین‌المللی
۱	-		-	-	-	-	-	۱	-	-	-	-	-	-	-	-	جنگ جهانی
-	۱		-	-	-	-	-	-	۱	۱	-	-	-	-	-	-	ورزشی
-	-		-	-	-	-	-	-	-	۱	-	-	-	-	-	-	تاریخ اسلام
۲	۱		۴	۲	۱	۱	۱	۳	-	۱	۲	۱	۵	-	-	-	تاریخ معاصر
-	-		-	-	۱	-	-	-	-	-	-	-	-	-	-	-	تقویم
-	-		-	-	-	-	-	-	-	-	-	-	-	-	-	۲	پیمان‌ها
-	-		۴	-	-	-	-	-	-	-	-	۱	-	-	-	۳	انقلاب ایران
-	-		-	-	-	-	-	-	-	-	-	-	-	-	۱	۱	آژانس انرژی اتمی
-	-		-	-	-	-	-	-	-	-	-	-	-	-	۱	-	وصیت‌نامه امام
۱	۱	۲	-	-	۴	-	۱	۱	-	۲	۱	۳	۱	-	-	متفرقه	
۱۲	۱۰		۳۶	۱۲	۱۲	۱۰	۱۵	۱۵	۱۰	۱۰	۱۵	۱۵	۱۵	۱۵	۱۵	جمع کل	

## ۴. ریاضی و آمار

سال	استانداری اصفهان	شهرداری	بانک سپه	پست بانک	تامین اجتماعی	آزمون فراگیر ۱	وزارت نیرو	راه آهن	دیوان محاسبات	بانک ملت	۱۳۹۴			۱۳۹۵		۱۳۹۶		۱۳۹۷	
											آزمون فراگیر ۲	آزمون فراگیر ۳	آموزش و پرورش	آموزش و پرورش	آموزش و پرورش	آموزش و پرورش	وزارت نیرو		آموزش و پرورش
دوره‌های برگزار شده																			
سرفصل‌های رایج در آزمون‌ها																			
مجموعه‌ها	۱	-	۱	۳	۱	۱	-	-	۲	۳	-	-	-	۱	-	-	-	-	
ماتریس‌ها	-	-	-	-	۱	-	-	۱	-	-	-	-	۱	-	-	-	-	-	
حل مسائل کسری و جبری	۳	۱	-	۶	-	-	۲	۱	۲	۵	۱	۱	۱	۲	۱	۲	۲	۲	
دنباله و تصاعد	۱	۱	-	۲	-	۱	-	۱	-	-	-	-	۱	-	-	-	-	-	
معادله خط	۱	۱	۱	۱	۱	۱	۱	-	۲	۳	-	-	۲	-	-	-	-	۲	
نامعادله	-	-	-	-	-	-	-	-	۱	-	-	-	-	-	-	-	-	-	
ریشه‌های معادله درجه دو و سه	-	-	-	-	-	۲	-	-	-	-	-	-	-	۲	۲	-	-	۱	
تابع	-	۷	۱	-	۱	۱	۱	۲	-	۱	-	-	۱	-	-	-	۲	۲	
برد تابع	-	-	-	-	-	۱	-	۱	-	-	-	-	-	۱	-	-	-	-	
دامنه تابع	-	-	۱	-	-	-	-	۳	-	-	-	-	-	-	-	-	-	-	
لگاریتم	-	۱	۱	-	۱	۱	۱	۱	۱	-	-	-	-	-	-	-	-	-	
حد و پیوستگی	-	-	۱	-	۲	-	۱	-	-	-	-	-	-	-	-	-	-	-	
مشتق و کاربردهای مشتق	-	-	-	۱	-	-	۳	-	-	۱	-	-	-	-	-	-	-	-	
انتگرال	-	۱	۱	۱	۱	-	۳	-	-	۱	-	-	-	-	-	-	-	-	
هندسه	۱	-	۱	۲	-	-	-	-	-	-	-	-	-	۱	۲	-	-	-	
کلیات آمار و متغیرهای آماری	۳	-	-	-	-	۱	-	-	-	-	-	-	-	۱	-	-	-	۱	
شاخص‌ها	۳	۴	۲	-	۱	۲	۱	-	-	۱	۱	۱	۲	۲	۲	۲	۳	۱	
پیشامد	۱	۱	۲	-	۱	-	۱	-	۱	۲	-	-	-	۱	-	-	-	۱	
نمودارهای آماری	-	-	-	-	۱	-	-	-	-	-	-	-	-	-	۱	-	-	۲	
رگرسیون و ضریب همبستگی	-	۱	-	-	-	۱	-	-	-	۱	-	-	-	-	-	-	-	-	
توزیع‌های آماری	-	-	-	-	-	-	-	-	-	-	-	-	-	-	-	-	-	-	
احتمال	-	۲	۳	-	۴	۲	۱	-	-	-	-	-	-	۱	-	-	-	-	
متفرقه	۱	-	-	۴	-	-	-	-	-	-	-	-	-	-	-	-	-	۱	
جمع کل	۱۵	۲۰	۱۵	۲۰	۱۵	۱۵	۱۵	۱۰	۱۰	۲۰	۱۰	۱۰	۱۰	۱۰	۱۳	۱۱	۱۰	۱۲	

سؤالات قوه قضاییه سال ۱۳۹۶ فاقد سرفصل ریاضیات و آمار مقدماتی بوده است.

## ۵. زبان انگلیسی عمومی

۱۳۹۷	۱۳۹۶			۱۳۹۵		۱۳۹۴			۱۳۹۳		سال	دوره‌های برگزار شده
	آموزش سبک	وزارت نیرو	قوه قضاییه	آزمون فراگیر ۴ و آموزش و پرورش	آزمون فراگیر ۳	آموزش و پرورش	آزمون فراگیر ۲	تأمین اجتماعی	آزمون فراگیر ۱	تأمین اجتماعی		
۴	۶	۸	۱۲	۴	۵	۶	۳	۵	۶	۶	سرفصل‌های رایج در آزمون‌ها	Vocabulary
۴	۴	۷	۱۲	۴	۳	۴	۳	-	۴	۴		Grammar
-	-	-	-	-	-	۲	-	-	-	-		Vocabulary
-	-	-	-	-	-	۳	-	۵	-	-		Grammar
۱	-	۱	۲	۱	-	۱	۱	۲	۲	۱		The word X is closest in meaning to
-	-	-	-	۲	-	۱	۱	-	۱	-		Which of the following is mentioned as
۲	۲	۱	۴	-	-	۱	۱	۲	۱	۲		Which of the following statements is true about or not true about
۱	۱	-	۱	۱	-	۱	-	۱	-	-		According to paragraph/Passage
-	-	۱	-	-	۱	۱	۱	-	۱	۲		The word X in paragraph Y refer to
-	-	۱	۳	-	۱	-	-	-	-	-		Main Idea
-	۲	۱	۲	-	۲	-	-	-	-	-		Etc
۱۲	۱۵	۲۰	۳۶	۱۲	۱۲	۲۰	۱۰	۱۵	۱۵	۱۵		جمع کل

## ۶. معارف اسلامی

سال	دوره‌های برگزار شده															
	تائیس اجتماعی	دانشگاه فرهنگیان	بانک سپه	ثبت اسناد	وزارت نیرو	پست بانک	آزمون فراگیر ۱	آموزش و پرورش	دستیاران ستادی	آزمون فراگیر ۲	آموزش و پرورش	آزمون فراگیر ۳	آموزش و پرورش	قوه قضائیه	وزارت نیرو	آزمون فراگیر ۵ و آموزش و پرورش
سرفصل‌های رایج در آزمون‌ها																
قرآن و مفهوم آیات	۱	۲	-	۱	-	۲	-	-	-	۲	-	۳	۲	۱	۴	۳
توحید	-	-	۱	-	۲	-	۱	-	۱	-	-	-	-	۱	-	۲
شرک و انواع آن	-	۱	-	-	-	-	-	-	-	-	-	-	-	-	-	-
ایمان و عمل صالح	-	۱	-	-	۱	-	-	-	-	-	-	-	-	۱	-	۱
نماز و روزه	-	۱	-	-	۱	-	-	-	-	-	-	-	-	-	-	-
هدایت	۲	-	-	-	-	-	-	-	-	-	-	-	-	-	-	-
ولایت	۱	-	-	-	-	۱	-	-	۱	-	-	-	-	۱	-	-
نبوت	-	-	-	-	-	۱	-	-	۱	-	-	-	-	۲	۱	۱
امامت	-	-	-	-	-	۱	-	-	۱	-	-	-	-	-	-	-
معاد و قیامت	۲	۲	۲	۱	۱	۱	۲	۱	۲	۱	۱	۱	۳	۱	۱	۱
عدل	-	-	-	-	-	-	-	-	-	-	-	-	-	-	۱	-
مرگ و برزخ	-	۱	۱	-	۱	-	-	۱	۱	-	-	-	-	۱	-	-
غیبت امام زمان (عج)	۲	-	-	۱	۱	-	-	۱	-	-	-	-	-	-	-	-
توبه و گناه	۱	-	-	-	۲	۱	۱	-	۲	۲	۱	۱	۴	۱	-	-
امر به معروف و نهی از منکر	-	-	-	-	-	-	-	-	-	-	-	-	-	۱	-	۱
بندگی و اخلاص	-	۱	۱	-	-	۱	-	-	-	-	-	-	-	۱	-	۱
عفاف و پاکدامنی	-	۱	۱	-	-	۱	-	-	-	-	-	-	-	-	-	-
ازدواج و خانواده	-	۲	۱	-	-	-	-	-	-	-	-	-	-	۱	-	-
احادیث مهم	۱	۱	۱	-	۱	۱	-	۲	۲	۱	۱	۱	-	-	-	-
احکام	۳	۴	۳	-	۲	۲	-	۳	۳	۳	۲	۱	-	-	-	-
متفرقه	۲	۳	۴	-	۳	۷	۲	۳	۲	۳	۳	۲	۱۰	۶	۳	۳
جمع کل	۱۵	۲۰	۱۵	۱۵	۱۵	۲۰	۱۵	۱۵	۱۵	۲۰	۱۵	۱۳	۲۰	۱۰	۱۳	۱۳

## ۷. هوش و توانمندی‌های عمومی

۱۳۹۷	۱۳۹۶			۱۳۹۵		۱۳۹۴					۱۳۹۳	سال	
	آموزش و پرورش و فراگیر ۵ و آموزش	وزارت نیرو	قوه قضاییه	آموزش و پرورش و فراگیر ۴ و آموزش	آموزش و پرورش و فراگیر ۳	دستیاران ستادی	آموزش و پرورش	بانک مهر اقتصاد	بانک صادرات	آموزش و پرورش ۲	آموزش و پرورش ۱	پست بانک	دوره‌های برگزار شده سرفصل‌های رایج در آزمون‌ها
۴	۵	۴	۶	۴	۴	۴	۴	-	-	۴	۴	-	درک مطلب
۴	۲	۴	۱	۴	۴	۴	۴	-	-	۴	۴	-	استدلال
۵	-	-	۵	۹	۵	۵	۵	۷	۱	۷	۲	-	حل مسئله از طریق اشکال
۶	۱۰	۷	۶	۸	۵	۴	۳	۱۲	۸	۳	۶	۱۴	حل مسئله جبری (عددی)
۳	۵	۵	۴	-	۵	۳	۴	۳	۱۱	۴	۴	۱	حل مسائل کیفی (غیر عددی)
۲۲	۲۲	۲۰	۲۲	۲۵	۲۳	۲۰	۲۰	۲۲	۲۰	۲۲	۲۰	۱۵	جمع کل

## بخش دوم: منابع مطالعاتی

منابع مطالعاتی در آزمون‌های استخدامی به دو دسته عمومی و تخصصی تقسیم‌بندی می‌شوند. از آنجایی که دروس عمومی برای اغلب رشته‌ها ثابت در نظر گرفته می‌شود، در اینجا صرفاً به بررسی دروس عمومی آزمون‌های استخدامی خواهیم پرداخت و در رابطه با دروس تخصصی، پیشنهاداتی را برای کسب اطلاع از منابع مناسب ارائه خواهیم نمود.

دروس عمومی شامل هفت سرفصل قلمداد می‌شوند که عبارتند از:

- ✓ زبان و ادبیات فارسی
- ✓ مهارت‌های هفتگانه ICDL
- ✓ زبان انگلیسی
- ✓ هوش و توانمندی‌های عمومی
- ✓ ریاضیات و آمار
- ✓ معارف اسلامی
- ✓ اطلاعات عمومی

### ۱. زبان و ادبیات فارسی

این درس شامل ۱۱ سرفصل اصلی می‌باشد که نیاز به تسلط کافی در این ۱۱ سرفصل خواهد بود. این سرفصل‌ها عبارتند از:

ساختمان واژه، مفهوم جمله و تناسب معنایی، ساختار جمله، ویرایش و نگارش، نقش واژه، آرایه‌ها، ساختمان فعل، قالب شعری، تاریخ ادبیات، معنی واژه و غلط املائی.

طبق تجربیات، برای تمرین بهتر است به منظور آمادگی بیشتر در این ۱۱ سرفصل از تست‌های سال گذشته آزمون‌های ورودی مقطع کارشناسی و یا کاردانی به کارشناسی استفاده شود. تکنیکی که برای این سرفصل در نظر می‌گیریم، تکنیک رجوعی می‌باشد.

از آنجایی که داوطلبان گرامی جزء افراد تحصیل کرده در مقاطع بالاتر از دیپلم هستند، دست کم ۲ سال از تحصیلات دوران دبیرستان آنها می‌گذرد و خیلی از مطالب را بخاطر نمی‌آورند، اما وقتی صحبت از آزمون استخدامی می‌شود، بدون هیچ دلیلی خواستار فراگیری کل مطالب آن روزها می‌شوند که این مسیر، بسیار مسیر اشتباهی می‌باشد؛ چرا که از طرفی زمان کافی در اختیار شخص نیست (در حالت عادی ۴۰ روز) و هم اینکه فراگیری این همه مطالب ممکن نیست. بنابراین، تکنیک رجوعی، می‌تواند جایگزین مناسبی در این خصوص شود. داوطلبان از طریق تست‌های کنکور سراسری ورود مقطع کارشناسی و یا کاردانی به کارشناسی، یکایک نکات را از طریق رجوع به آن نکته در درس مربوطه فرا خواهند گرفت و اشکالات مربوطه را برطرف خواهند نمود.

## ۲. مهارت‌های هفتگانه ICDL

این درس شامل ۱۳ سرفصل می‌شود. ویندوز، کلیدهای ترکیبی ویندوز، اینترنت، کلیدهای ترکیبی اینترنت، شبکه، میکروسافت ورد، کلیدهای ترکیبی میکروسافت ورد، میکروسافت اکسس، میکروسافت اکسل، میکروسافت پاورپوینت، کلیدهای ترکیبی میکروسافت پاورپوینت، پست الکترونیکی و چاپ از این ۱۳ سرفصل‌های مطرح مهارت‌های هفتگانه می‌باشند.

از آنجایی که در آینده برای کسب مدرک ICDL، نیاز به کتاب احساس می‌شود، بنابراین، برای این سرفصل پیشنهاد می‌شود از کتاب‌های دو جلدی مهارت‌های هفتگانه ICDL، به تالیف مهندس سیزعلی گلی، انتشارات صفار استفاده کنید. این دو کتاب هم



برای کسب مدارک ICDL، مورد نیازند و هم برای آزمون استخدامی راهگشا قرار می‌گیرند. همچنین پیشنهاد می‌شود در راستای این امر، حتماً با کامپیوتر به صورت عملی کار کنید و تا عملکردی را فرا نگیرید، وارد مرحله بعدی یادگیری قرار نگیرید. حتماً کلیدهای ترکیبی کامپیوتر را حفظ کنید و آنها را به صورت جداگانه یادداشت نمایید. همچنین، در حین کار با کامپیوتر به نوارهای ابزار مایکروسافت آفیس و گروه‌های موجود در هر برگه توجه ویژه نمایید. کار با سلول‌های مایکروسافت اکسل، اغلب جزء علاقه‌مندی‌های طراحان سوال می‌باشد. در مورد مایکروسافت اکسس، به ندرت سوال مطرح می‌گردد اما به داوطلبان گرامی توصیه می‌گردد در صورت موجود بودن زمان کافی، از این سرفصل غافل نشوند. کار با Effect ها و Transition های مایکروسافت پاورپوینت را فرا بگیرید و همچنین تغییرات Slide ها را نیز به صورت عملی انجام دهید.

### ۳. زبان انگلیسی

سرفصل‌های رایج در درس زبان انگلیسی شامل موارد زیر می‌شود:

- Vocabulary ✓
- Grammar ✓
- Grammar و Vocabulary Cloze Test که خود به دو دسته ✓

تقسیم‌بندی می‌شود.

Reading Comprehension که شامل موارد زیر می‌شود: ✓

1. Main Idea ...
2. The word X is closest in meaning to ...
3. Which of the following is mentioned as...?
4. Which of the following statements is true about or not true about...?
5. According to paragraph / passage ...

## 6. The word X in paragraph Y refer to ...

از آنجا که زبان انگلیسی درسی نمی‌باشد که با یک بازه زمانی کوتاه مدت چهل روزه بتوان آن را به طور کامل فرا گرفت و بیشتر به مهارت فرد بستگی دارد تا به آنچه در ذهن او حفظ شود، پس به ناچار بایستی استراتژیک‌ترین منابع را جهت آمادگی در آزمون‌های استخدامی برگزینیم. پیشنهاد می‌شود که به منظور توسعه دامنه لغات ابتدا از کتاب الکترونیک *Essential Word for the TOEFL* استفاده شود و سپس در زمان باقی مانده از کتاب الکترونیک 504 واژه ضروری استفاده گردد. لازم به ذکر است که این دو کتاب به صورت ترجمه شده در سایت‌ها موجود می‌باشد. البته شما می‌توانید در کنار مطالعه لغات از کنکورهای کارشناسی و یا کارشناسی ارشد مخصوص رشته‌تان استفاده کنید تا لغات در ذهنتان تثبیت گردد.

برای بخش گرامر، می‌توانید از گرامر دبیرستان و پیش دانشگاهی استفاده کنید. لازم به ذکر است که گرامر دوران سوم دبیرستان و پیش دانشگاهی (سال چهارم دبیرستان) نسبت به بقیه گرامرها ارجح است و معمولاً از بخش جملات معلوم و جملات مجهول یک سوال طرح می‌گردد.

## ۴. هوش و توانمندی‌های عمومی

این درس دارای پنج سرفصل متفاوت می‌باشد که عبارتند از: درک مطلب، استدلال، حل مسئله از طریق اشکال تجسمی، حل مسئله جبری (عددی) و حل مسئله کیفی (غیر عددی).

تنها کتابی که در این زمینه می‌تواند صرفاً باعث آمادگی شما شود، کتاب استعداد تحصیلی، ویژه آزمون دکتری با تألیف هادی مسیح خواه و محمد و کیلی از انتشارات کتابخانه فرهنگ می‌باشد. از این بابت گفته می‌شود «آمادگی صرفی» که در آزمون‌های

استخدامی، این سرفصل به شدت از لحاظ سؤالات منعطف و سؤال‌خیز بوده است و با خواندن یک کتاب نمی‌توان اطمینان حاصل نمود که سطح داوطلب در این درس چگونه خواهد بود. بنابراین، برای یک سطح از آمادگی می‌توانید مثال‌هایی از این کتاب را حل نمایید تا ذهنیت شما با سؤالات آشنا باشد.

## ۵. ریاضیات و آمار

معمولاً طراحان سؤال آزمون‌های استخدامی، برخلاف طراحان آزمون‌های تحصیلات عالی، از سرفصل‌های زیر به عنوان محورهای اصلی سؤالات آزمون استفاده می‌کنند:

مجموعه‌ها، حل مسائل جبری و کسری، دنباله، معادله خط، نامعادله، ریشه‌های معادله درجه دوم و سوم، تابع، برد تابع، دامنه تابع، لگاریتم، حد و پیوستگی، انتگرال، مساحت‌ها، انواع متغیرهای آماری، شاخص‌ها، پیشامدها، نمودارهای آماری، رگرسیون، احتمال.

به منظور آمادگی در بخش ریاضیات، از کتاب خاصی استفاده نکنید. بهتر است از سؤالات آزمون ورودی مقطع کارشناسی و یا کاردانی به کارشناسی استفاده کنید و از طریق تکنیک رجوعی، مطالبی که فراموش نموده‌اید و یا نیاز به مطالعه نکات خاصی داشته است را با رجوع به هر منبعی که در دست دارید و حتی استفاده از اینترنت، فراگیرید. اما این موضوع مهم است که حتماً منبع سؤالات شما از آزمون‌های ورودی کارشناسی و یا کاردانی به کارشناسی باشد.

به منظور آمادگی در بخش آمار، کتاب «آمادگی برای آزمون‌های استخدامی آمار» از انتشارات امید انقلاب را تهیه نمایید و مطالعه کنید.

## ۶. معارف اسلامی

عمده‌ترین مباحثی که در درس معارف اسلامی از آن به عنوان محورهای سؤالات یاد می‌شود، به شرح زیر اند:

مفهوم آیات، انواع توحید، انواع شرک، انواع ولایت، نبوت، امامت، معاد، مفاهیم عدل، مباحث مربوط به مرگ و برزخ، توبه، بندگی و اخلاص، عفاف و پاکدامنی، خانواده، احادیث مهم (ثقلین، جابر و...)، احکام و مباحث متفرقه.

دو کتاب بسیار مهم که از هر دو در سومین آزمون فراگیر دستگاه‌های اجرایی کشور هم سوال طرح شده بود، به شرح زیر می‌باشند:

۱. کتاب آمادگی برای آزمون‌های استخدامی معارف اسلامی، انتشارات امید

انقلاب

۲. کتاب دین و زندگی انتشارات گاج، خط ویژه

## ۷. اطلاعات عمومی و سیاسی

از پراکنده‌ترین دروس آزمون‌های استخدامی، اطلاعات عمومی می‌باشد. این صحیح است که اطلاعات عمومی دروسی پراکنده می‌باشد، اما می‌توان سرفصل‌های منطقی‌ای برای این درس در نظر داشت:

جنگ ایران و عراق، تاریخ ادبیات، سند چشم‌انداز بیست ساله ۱۴۰۴، قانون اساسی، توافق بر سر مسائل هسته‌ای، دینی، جغرافیا، نرخ‌های آمارهای مختلف در مورد اطلاعات جامعه‌شناسی، فرهنگی و اجتماعی ایران، تشکیلات کشور، سازمان‌های بین‌المللی، جنگ جهانی اول و دوم، ورزشی، تاریخ اسلام، تاریخ معاصر، پیمان‌ها، انقلاب اسلامی ایران، آژانس انرژی اتمی، وصیت‌نامه امام (ره) و اطلاعات متفرقه.

کتاب‌های زیر می‌تواند به عنوان منبع جهت فراگیری این سرفصل‌ها کمک‌کننده باشد: کتاب دانش مسائل روز انتشارات مدرسان شریف، کتاب جغرافیای دبیرستان، کتاب تاریخ معاصر ایران (دبیرستان)، سند چشم‌انداز ۱۴۰۴، قانون اساسی، وصیت‌نامه امام (ره) که هر سه مورد اخیر در اینترنت موجود است، یکی از کتاب‌های انقلاب اسلامی ایران در دوران دانشگاه، اینترنت.

اگر بخواهیم در مورد منابع دروس عمومی آزمون‌های استخدامی به یک جمع‌بندی واحد برسیم، بایستی گفته شود، در دوره‌های فعلی منابع دروس عمومی بسیار پراکنده بوده و نمی‌توان دقیقاً ارزیابی نمود که کدام منبع امسال مورد سوال قرار می‌گیرد؛ اما می‌توان نزدیک‌ترین منابع به سؤالات آزمون‌استخدامی را مد نظر قرار داد که ما در اینجا به همین منابع اشاره کردیم.

از آنجایی که معرفی منابع دروس تخصصی آزمون‌های استخدامی به دلیل وسعت بالای مشاغل موجود، از حوزه موضوعی این کتاب خارج است؛ بنابراین، صرفاً به نشان دادن نخ اطلاعاتی در پیرامون این موضوع اشاره می‌شود که داوطلبان گرامی می‌توانند با مراجعه به سایت‌های استخدامی مانند سایت ای استخدام<sup>۳</sup> به صفحه مربوط به رشته شغلی خود وارد شوند و با مطالعه تجربیات و نظرات کاربران قدیمی‌تر و یا پرسش از کاربران مجرب پیرامون منابع مطالعاتی نیاز خود را برطرف نمایند. توجه ویژه داشته باشید که از بین گزینه‌های موجود، بهترین گزینه همین کاربران می‌باشند؛ چرا که آنها اطلاعات به روز دارند و خود درگیر آزمون‌های استخدامی هستند.

<sup>3</sup> www.E-Estekhdam.com

### بخش سوم: شیوه‌ها و راهبردهای مطالعه دروس آزمون‌های استخدامی

برای مطالعه، شیوه‌ها و راهبردهای زیادی وجود دارد؛ اما همه این راهبردها و شیوه‌ها ختم به هدف نمی‌شود. آنچه برای ای‌استخدام به عنوان یک شعار عملی تا به امروز قرار گرفته، شعار «تلاش آگاهانه» می‌باشد. تلاش به تنهایی ممکن نیست تا هدفی را برآورده کند؛ تلاش بایستی حتماً آگاهانه باشد. شما یک شخص را در نظر بگیرید که خواستار عبور از یک سوی دیوار به سوی دیگر آن می‌باشد. او خود را محکم به دیوار می‌کوبد؛ این کار را دوباره انجام می‌دهد. دوباره و دوباره؛ تنها حادثه‌ای که در این بین اتفاق می‌افتد، صدماتی است که به شخص وارد می‌شود؛ او علاوه بر اینکه صدمه دیده است، انرژی بسیاری نیز هدر داده است. در این جا گفته می‌شود عمل او توأم با کارایی نبوده است؛ زیرا کارایی یعنی با کمترین هزینه به هدف رسیدن. اگر فرد قبل از اینکه فقط نوک بینی خود را ببیند و خود را محکم به دیوار بکوبد، یک لحظه توقف می‌کند و اطراف خود را می‌نگریست، دری را به عنوان گذرگاه مشاهده می‌نمود. او می‌توانست با کمترین انرژی، دستگیره در را حرکت داده و در را بگشاید و از این سوی دیوار به سوی دیگر آن حرکت کند. تلاش آگاهانه یعنی ما بدانیم چه می‌خواهیم و برای این خواسته خود چگونه بایستی عمل کنیم و چقدر نیاز به انرژی صرف کردن داریم. در این بخش، شیوه‌ها و راهبردهایی را مطرح می‌کنیم تا به داوطلبان گرامی به کارایی بالا برسند.

### نقشه ذهنی به عنوان مبنایی‌ترین شیوه فراگیری

امروزه، ابزارهای زیادی برای یادگیری مباحث تئوریک وجود دارد؛ اولین ابزار همین روخوانی می‌باشد. در این نوع یادگیری، فرد بایستی مطلبی را بخواند و به ذهن بسپارد. در این حالت برای مرور مطالب، بایستی کل مطالب خوانده شده، دوباره مرور شود. این روش

<sup>4</sup> Mind Mapping

بسیار وقت گیر و ناکاراست و علاوه بر این که شخص می‌داند زمان زیادی بایستی صرف مطالعه نماید و همچنین می‌داند کارایی چندانی نخواهد داشت، باز همین مسیر را مجدداً انتخاب می‌کند.

ابزار بعدی که یادگیری را عمیق‌تر می‌کند، ابزار خط‌کشی زیر جملات کلیدی است. در این حالت، شخص زیر تمام جملاتی که حس می‌کند نیاز است دوباره بخواند و فرابگیرد را خط می‌کشد. او بعد از مدتی که احساس می‌کند نیاز به مرور دارد، تک تک جملات کلیدی را دوباره می‌خواند. مشکل اصلی در این است که شخص بعد از مدتی نسبت به جملات نامربوط اما جالب نیز حساس می‌شود و در حین مطالعه، تفکیک آنکه آیا این جمله می‌تواند مورد استفاده قرار بگیرد یا خیر، کار بسیار مشکل و وقتگیر است. مسئله بعدی که متوجه خواننده می‌شود، این است که تمام جملاتی که می‌خواند، مهم هستند و مشاهده می‌شود که شخص، زیر کل متن در یک جمله خط کشیده است. در حالی که بایستی زیر کلمه یا عبارت کلیدی خط کشیده می‌شد. در نهایت، مشکل دیگری که متوجه این شیوه مطالعه می‌شود، مرور مطالبی می‌باشد که زیر آنها خط کشیده شده است. مرور در این حالت به صورت جزیره‌هایی مستقل در خواهد آمد که این جزیره‌ها حاکی از یک مفهوم مستقل هستند؛ یعنی شخص در هر جمله‌ای که زیر آن خط کشیده است با مفهومی مستقل روبرو می‌شود و در نهایت این مفاهیم، سلسله ابهاماتی می‌باشد که به سختی وارد ذهن فرد شده است. بنابراین، این شیوه هم مناسب یادگیری برای آزمون‌های استخدامی نیست.

شیوه دیگر، خلاصه‌نویسی می‌باشد. فرد جملات و پاراگراف‌ها را مطالعه می‌کند و طی مطالعاتی که به عمل آورده است، خلاصه‌ای از آن را بر روی خلاصه‌های گذشته اضافه می‌کند. نکته بارز این شیوه در آن است که برای مرور فقط کافی است همین خلاصه‌ها با فرض اینکه مختصر، مفید و اثربخش هستند، خوانده شوند. اینکار باعث ذخیره زمان خواهد

شد؛ اما مشکل اصلی اینکار در زمان صرف شده برای خلاصه‌برداری و در مواقعی هم خستگی افراطی به دلیل نوشتن‌های زیاد، می‌باشد.

شیوه نوینی که در ایران کمتر مورد استفاده قرار گرفته است، استفاده از نقشه ذهنی می‌باشد.



شکل بالا که نمونه ساده‌ای از یک نقشه ذهنی می‌باشد، خلاصه‌ای از یک مقاله چندین صفحه‌ای می‌باشد. در این تکنیک شما می‌توانید یک مقاله و یا یک فصل از کتاب را به راحتی در یک صفحه خلاصه کنید. اینکار حافظه دیداری شما را نیز به شدت تحت تأثیر قرار می‌دهد و برای مدت‌ها مطلب مورد نظر به حافظه سپرده می‌شود.

استانداردهایی که در این تکنیک به آن توجه می‌شود، به شرح زیر است:

- ✓ موضوع مورد نظر، حتماً در مغز اصلی و وسط قرار می‌گیرد.
- ✓ برای اینکه شاخه‌های اصلی از شاخه‌های فرعی در ذهن خواننده تفکیک شوند، شاخه‌های اصلی نسبت به شاخه‌های فرعی ضخیم‌تر کشیده می‌شوند.



- ✓ ارتباط شاخه‌های فرعی‌ای که از دو شاخه اصلی متفاوت به وجود آمده‌اند، از طریق فلاش و یا نقطه‌چین نشان داده می‌شوند.
- ✓ تیتراهای اصلی روی شاخه‌های اصلی قرار می‌گیرند و تیتراهای فرعی روی شاخه‌های فرعی
- ✓ توجه داشته باشید که شروع مطالعه به صورت ساعتگرد است.

طبق پژوهش‌های دانشمندان، مرور در این روش نسبت به روش‌های قبلی سریع‌تر بوده و فراموشی مطالب از طریق این روش، بسیار کمتر از دیگر تکنیک‌های مطالعه است. لازم به ذکر است که این روش توسط ای‌استخدام آزمون شده است و کارایی این روش مورد تایید قرار گرفته است.

### چگونگی تقسیم‌بندی مطالعات دروس استخدامی

از بسیاری از داوطلبان مشاهده شد که دسته‌ای همهٔ درس‌های موجود را در یک روز یکباره مطالعه می‌کنند و دسته‌ای دیگر روزی ۲ درس مطالعه می‌کنند و عده‌ای هم یک کتاب را در دست دارند و تا اتمام آن کتاب سراغ کتاب دیگری نمی‌روند.

داوطلبان گرامی بایستی بدانند که تقریباً ۴۰ روز زمان برای یک آزمون استخدامی، زمانی برای آزمون و خطا نیست. شما با اتخاذ این سیاست که یک کتاب را به پایان برسانید و سپس سراغ کتاب بعدی بروید، در واقع خودتان را گول خواهید زد؛ چرا که شما در این صورت اهدافتان جابجا شده است. هدف شما اتمام کتاب‌هاست و نه یادگیری آنها. بنابراین، کتاب‌ها بایستی به صورت دسته‌ای خوانده شوند.

توصیه‌ای که به داوطلبان آزمون‌های استخدامی در این مورد می‌شود این است که داوطلبان بایستی روزی کمتر از چهار نوع کتاب و بیشتر از پنج نوع کتاب بخوانند. اگر

تعداد کل دروس، بیش از ۹ درس بود، بایستی درس‌ها طوری برنامه‌ریزی شوند که در سه روز خوانده شوند. مثلاً روز اول کتاب ۱، ۲، ۳ و ۴؛ روز دوم کتاب ۵، ۶، ۷ و ۸؛ و روز آخر کتاب ۹، ۱۰، ۱۱ و ۱۲. حال اگر مواد آزمون ۹ درس یا کمتر بود، آنها را در دو روز مطالعه کنید.

سعی کنید ترکیبی که برای مطالعه دروس در دسته‌های روزانه انتخاب می‌کنید، ترکیبی باشد که توازن بین میزان مطالعه روزهایتان برقرار گردد؛ مثلاً طوری نباشد که یک روز ۱۰ ساعت مطالعه کنید و یک روز ۶ ساعت.

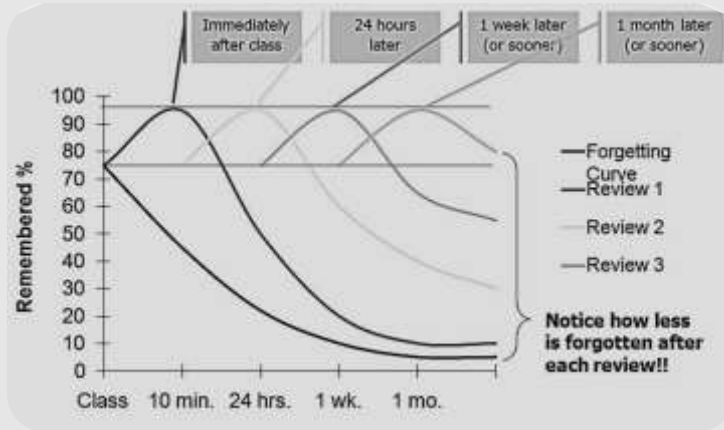
درس‌های سخت و حل‌کردنی نبایستی همگی در یک دسته روزانه قرار گیرند. اگر دسته‌های روزانه‌تان حاوی ۵ درس می‌باشد، حداکثر دو درس سنگین در آن روز قرار دهید و اگر دسته‌های روزانه‌تان حاوی ۴ درس می‌باشد، بیش از یک درس سنگین در آن روز قرار ندهید؛ زیرا انگیزه‌تان به مرور از بین می‌رود و رفته رفته تا روز آزمون خسته خواهید شد.

### مرور مطالب

همانگونه که در مقدمه فصل ذکر شد، خواندن یک منبع مناسب برای آزمون استخدامی، آغاز موفقیت شخص در مسیر زندگی اوست، از طرف دیگر، مرور مطالب تثبیت‌کننده حقیقی این موفقیت است؛ پس مرور مطالب به اندازه یادگیری مطالب اهمیت ویژه دارد. این دغدغه همیشگی داوطلبان گرامی استخدامی می‌باشد که چه زمانی مرور کنیم؟ آیا بایستی بخش بخش مرور کنیم و یا پس از اتمام کل کتاب؟

مرور کردن برای هر داوطلب، وضعیت و شرایطی متفاوت از دیگران دارد و رویه یکسانی ندارد. بنابراین، بازه زمانی مرور به خود شخص بستگی دارد، اما طبق پژوهش‌ها،

نتیجه‌ای حاصل شده است که نشان‌دهنده این است که هر شخص منحنی فراموشی تقریباً یکسانی دارد؛ شکل زیر نشان‌دهنده منحنی فراموشی انسان می‌باشد:



شما می‌توانید با توجه به منحنی‌های فراموشی، برای خود برنامه‌ریزی کنید که چه زمانی احتیاج به مرور خواهید داشت. نکته‌ای که حائز اهمیت است، این می‌باشد که به هیچ وجه سعی نکنید کتابی را به پایان برسانید و سپس به مرور آن پردازید. مرور بایستی ساختار یافته و مستمر باشد، مخصوصاً در مورد درس‌های حفظی. برای درس‌های حل‌کردنی، بهتر است از راه تمرین و تست به مرور پردازید.

### تکنیک دسته‌بندی تست‌ها برای مدت مشخص

یکی از تکنیک‌های موثر برای مطالعه و تثبیت مطالب مطالعه شده، این است که تست‌های دروس را دسته‌بندی کنیم. به عنوان مثال، شما کتاب‌هایی را در نظر بگیرید که بخش انتهایی هر فصل آن، تست‌های فراوانی را شامل می‌شود. آیا با اتمام فصل و زدن

تست‌های پایان فصل، می‌توان به نتیجه مطلوب خود رسید؟ به منظور پاسخ به این سؤال، بایستی بگوئیم: بستگی به نوع مطالعه شما دارد؛ از این بابت بستگی به نوع مطالعه شما خواهد داشت که اگر شما فردی می‌باشید که مطالب آموخته شده را بارها مرور می‌کنید و یا از یک خلاصه منسجم به منظور مرور استفاده می‌کنید و در مرور خود ثبات دارید، بایستی گفت بله؛ به همین اندازه کفایت خواهد کرد، اما اگر شما فردی می‌باشید که مرور مطالب در حوصله شما به صورت کاملاً برنامه‌ریزی شده و دقیق، نمی‌گنجد، می‌گوییم شما نیازمند به راهکار و تکنیک جایگزین هستید.

حال این راهکار چیست و چگونه می‌توان این راهکار را انجام داد. شما با رجوع به تست‌های پایان فصل دروس، بایستی آنها را طبقه‌بندی کنید. برای اینکار لازم است ابتدا بازه زمانی خود را مشخص نمایید. ما این بازه را ۹ روز متصور می‌شویم. حال، تعداد تست‌های پایان فصل‌ها را خواهیم شمرد. برای مثال، فصل اول، ۴۳ تست؛ فصل دوم ۲۶ تست؛ فصل سوم، ۵۴ تست؛ فصل چهارم، ۲۷ تست؛ فصل پنجم، ۳۳ تست؛ فصل ششم، ۱۸ تست. سپس، تعداد تست هر فصل را تقسیم بر عدد ۹ خواهیم کرد تا تعداد تست‌هایی که به هر روز اختصاص می‌یابند، مشخص شود؛ به جدول زیر خواهیم رسید:

فصل اول	فصل دوم	فصل سوم	فصل چهارم	فصل پنجم	فصل ششم	تعداد در هر روز
۴,۷۸ = ۵	۲,۸۸ = ۳	۶	۳	۳,۶۷ = ۴	۲	

حال بایستی دامنهٔ تست‌ها را برای هر روز به دست آوریم. دامنهٔ تست، یعنی اینکه هر روز بایستی از کدام تست تا کدام تست مورد بررسی قرار گیرد. به این منظور از تست شماره یک به اندازه طول دسته که همان اعداد داخل جدول قبلی می‌باشند، می‌شماریم تا دامنهٔ دسته اول مشخص شود؛ این دسته، نشان‌دهنده دسته‌ای از تست‌ها می‌باشد که قرار است در روز اول بررسی شوند. طبق این قاعده، در نهایت به جدول زیر خواهیم رسید:

فصل اول	فصل دوم	فصل سوم	فصل چهارم	فصل پنجم	فصل ششم	
۱-۵	۱-۳	۱-۶	۱-۳	۱-۴	۱-۲	روز اول
۶-۱۰	۴-۶	۷-۱۲	۴-۶	۵-۸	۳-۴	روز دوم
۱۱-۱۵	۷-۹	۱۳-۱۸	۷-۹	۹-۱۲	۵-۶	روز سوم
۱۶-۲۰	۱۰-۱۲	۱۹-۲۴	۱۰-۱۲	۱۳-۱۶	۷-۸	روز چهارم
۲۱-۲۵	۱۳-۱۵	۲۵-۳۰	۱۳-۱۵	۱۷-۲۰	۹-۱۰	روز پنجم
۲۶-۳۰	۱۶-۱۸	۳۱-۳۶	۱۶-۱۸	۲۱-۲۴	۱۱-۱۲	روز ششم
۳۱-۳۵	۱۹-۲۱	۳۷-۴۲	۱۹-۲۱	۲۵-۲۸	۱۳-۱۴	روز هفتم
۳۶-۴۰	۲۲-۲۴	۴۳-۴۸	۲۲-۲۴	۲۹-۳۱	۱۵-۱۶	روز هشتم
۴۱-۴۳	۲۵-۲۶	۴۹-۵۴	۲۵-۲۷	۳۲-۳۳	۱۷-۱۸	روز نهم
۴۳ تست	۲۶ تست	۵۴ تست	۲۷ تست	۳۳ تست	۱۸ تست	جمع

در واقع، داوطلبان با اینکار هر روز همه سرفصل‌ها را یکبار مرور خواهند کرد. این تکنیک زمانی کاربرد دارد که فرد آشنایی اولیه با سرفصل‌ها داشته باشد و یا اینکه بخواهد با نحوه ارائه تست‌ها در هر فصل آشنایی نسبی یابد. در هر صورت، تکنیک دسته‌بندی، برای مرور مطالب، کاربرد زیادی دارد و داوطلبانی که از مرور پیوسته همه نکات خسته می‌شوند و بازدهی کافی را ندارند، می‌توانند از این تکنیک بهره‌زادی ببرند.

# فصل سوم

برگزاری آزمون های استخدامی



## مقدمه

در دو فصل قبل، در این مورد صحبت کردیم که چگونه آگهی استخدامی را بیابیم، آگهی‌های استخدامی به چه شکل هستند و چه خصوصیتی دارند، بندهای موجود در آگهی‌های استخدامی چیست، منابع مطالعاتی برای آزمون‌های استخدامی کدامند و چگونه مطالعه کنیم. اما در این فصل که حساس‌ترین مرحله آزمون‌های استخدامی می‌باشد، سعی شده است به شیوه‌های مدیریت در جلسه آزمون اشاره شود.

در این فصل، فرد از هر نظر بایستی آماده باشد تا بتواند از پس یک آزمون استخدامی در جهت رسیدن به اهداف خود برآید. فرد بایستی از نظر روحی - روانی و از نظر جسمانی در یک سطح مطلوبیت قرار داشته باشد تا بتواند اندوخته‌های ذهنی و فکری خود را به راحتی با سؤالات آزمون منطبق سازد.

## بخش اول: اعمال قبل از روز برگزاری آزمون

تفاوت داوطلبانی که افکار پریشان دارند با داوطلبانی که ذهن منظم دارند در این است که داوطلبان با ذهن منظم، کارهایشان را در زمان اصلی خودش و داوطلبان با ذهن نامرتب، کارهایشان را در زمانی غیر از زمان اصلی، انجام می‌دهند. بارها مشاهده شده است که فرد به دلیل اینکه سر موعد مقرر، فراهم‌آوری نسخه سخت کارت ورود به جلسه آزمون خود را فراموش کرده است، دچار بی‌نظمی ذهنی گشته است. حال این فقط یک مثال است که نشان دهد که یک چیز کوچک، چه تأثیر بزرگی در نظم افکار فردی دارد.

به این منظور، ای‌استخدام سعی نموده است طبق تجربیات خود و دیگران، تقریباً تمام مواردی را که فرد بایستی در روزهای قبل از روز آزمون گردآوری نماید را در ادامه این فصل ارائه دهد:

✓ اولین و مهم‌ترین مقوله مورد نیاز، کارت ورود به جلسه می‌باشد. همانطور که در فصل اول قید شده است، در آگهی‌های استخدامی و متعاقباً در سامانه مورد نظر که فرد در آن ثبت‌نام نموده است، حتماً روز ارائه کارت ورود به جلسه آزمون را ذکر خواهند کرد. نکته‌ای که در اینجا لازم به ذکر است این است که حتماً از کارت ورود به جلسه خود، دو نسخه تهیه کنید و هر دو نسخه را با اثر انگشت و امضاء، به سر جلسه آزمون ببرید؛ منتهی هر دو نسخه را در یک کیف یا یک جیب قرار ندهید. زیرا به دلیل گم شدن یک نسخه، حداقل نسخه دیگری در دسترس باشد تا جایگزین آن گردد. درست است که روز جلسه آزمون با گم شدن کارت ورود به جلسه، مسئولین محل برگزاری آزمون در این امر کمک می‌کنند، اما همین موضوع باعث تشویش افکار شما می‌گردد و ای‌استخدام این نکات را در جهت کاهش تشویشات ذهنی شما گردآوری کرده است.

✓ راحت‌ترین لباس را از قبل آماده نگه دارید. همانطور که راحت هستید لباس پوشید. اگر در فصل سرما به جلسه آزمون می‌روید، سعی کنید لباسی فراهم آورید که در سالن و یا کلاس محل برگزاری آزمون، قابلیت کم کردن لباس فراهم باشد، زیرا در محل برگزاری آزمون معمولاً از سیستم گرمایشی استفاده می‌شود و گرمای بالا باعث کلافه شدن داوطلب خواهد شد و در پی آن منجر به اختلال در تمرکز حواس به منظور پاسخگویی به سؤالات می‌شود؛ از طرف دیگر، اگر آزمون استخدامی در فصل‌های گرم سال باشد، حتماً یک عدد آب معدنی به همراه خود در سر جلسه ببرید. البته اگر آب معدنی دارای یخ اندکی باشد، می‌تواند کلافگی حاصل از گرمای هوا را خنثی کند.



✓ اصلاً روز قبل از آزمون دست از مطالعه نکشید. این باور اشتباه خیلی از مشاوران است که می‌گویند روز آخر را به تفریح و سرگرمی بپردازید. خیر، مغز شما همواره بعد از یک خوابیدن و بیدار شدن، استراحت کامل می‌کند و همچنین جسم انسان نیز به تبع یک خواب آرام، تجدید انرژی می‌نماید؛ مسئله این است که در آزمون‌های استخدامی برای رسیدن به طلا بایستی کلنگ آخر را زد و طلا را نظاره نمود، وگرنه در صورت نزدن آخرین کلنگ، حتی اگر چند سانتی طلا هم باشیم، طلا را نظاره نمی‌کنیم. شاید به شما بگویند تا روز قبل از آزمون کلنگ زدید و طلا را نظاره کردید؛ بایستی گفت باز هم خیر، مطالعه برای آزمون‌های استخدامی هیچگاه پایانی ندارد و هیچگاه نمی‌توان گفت بس است. روز آخر، پُر دریافتی‌ترین روز برای موفقیت در آزمون‌های استخدامی است. روزی که مرور در آن به شدت رقابت را برای دیگر رقبای سخت خواهد کرد. پس در این روز فقط به مرور مطالب فراموش شدنی بپردازید. البته نکته‌ای که حائز اهمیت است این است که اینکار را فقط تا غروب انجام دهید و از غروب به بعد از خواندن دست بکشید.

✓ قبل از اینکه دیر شود، بایستی چند عدد شکلاتی که زود آب می‌شود فراهم کنید. شکلات و یا کاکائو از منبع عظیم کالری برخوردارند. فشار پشت سر هم به مغز انسان و مواجه شدن مغز با سؤالات متعدد منجر به سوختن بسیاری از منابع قندی در مغز می‌شود؛ بنابراین، کاکائو و یا شکلات می‌تواند جایگزین خوبی برای قندهای سوخته شده مغز باشد. از آنجا که اکثر آزمون‌های استخدامی در نوبت صبح برگزار می‌شود، سعی کنید یک عدد کلوچه باز شده، همراه خود در سر جلسه آزمون ببرید؛ چرا که داوطلب به

علت استرس اندک یا در برخی موارد زیاد، در برخورد با صبحانه عجله کرده و احساس سیری می‌کند اما سر جلسه آزمون گرسنگی منجر به سردرد فرد می‌شود.

✓ یک مداد نوکی ۰,۷ و یک مداد از گروه B، (ترجیحاً از B12 استفاده نشود)، یک پاککن و یک مداد تراش آماده کنید. مداد را از هر دو طرف آن بتراشید تا اگر یک سمت، مشکل در پُر کردن پاسخنامه ایجاد نمود، از سمت دیگر آن به سرعت استفاده کنید. سعی کنید از مداد نوکی برای حل مسائل در دفترچه سؤالات استفاده کنید و از مداد برای پُر کردن پاسخنامه استفاده نمائید. از این جهت شماره ۰,۷ را برای مداد نوکی انتخاب کردیم که در صورتی اگر مداد B از هر دو طرف دارای مشکل شد و یا گم شد و یا قابلیت تراشیدن نداشت، مداد نوکی ۰,۷ می‌تواند جایگزین خوبی برای آن باشد؛ زیرا مداد نوکی ۰,۵ بسیار نازک است و برای پُر کردن مناسب نیست اما برای نوشتن در دفترچه پرسشنامه مناسب است از طرفی مداد نوکی ۰,۹ و یا بالاتر برای پُر کردن مناسب است اما برای نوشتن در دفترچه سؤالات برای حل مسائل مناسب نیست. پس مداد نوکی ۰,۷ چیزی بین ۰,۵ و ۰,۹ و یا بالاتر بوده و مناسب‌ترین انتخاب بین این سه شماره می‌باشد.

✓ بسیاری اعتقاد به زمان‌سنج و یا ساعت دارند؛ اما طی تجربیات ای‌استخدام و تجربیات دیگران، دریافت شده است که زمان‌سنج باعث جابجایی هدف می‌شود. یعنی فرد بجای اینکه بر سؤالات تمرکز بیشتری داشته باشد، بر زمان و باقی مانده زمان تمرکز می‌کند. در بخش بعدی تیم آموزشی ای‌استخدام نحوه پاسخگویی به سؤالات را طوری شرح می‌دهد که نیاز به زمان‌سنج نداشته باشید.

✓ حتماً برای یک بار هم که شده، قبل از روز برگزاری آزمون، آدرس محل برگزاری آزمون را بررسی کنید. از آنجایی که آزمون در صبح زود برگزار می‌شود، نیاز است که آدرس دقیق محل برگزاری بررسی شود تا استرس ناشی از وهم گم کردن مکان برگزاری آزمون، منجر به تشویش ذهنتان نگردد. به منظور بررسی ماهواره‌ای آدرس محل برگزاری آزمون می‌توانید از Google Earth و یا همان Google Maps استفاده کنید و یا از دوستانتان سریعترین مسیر آن آدرس را خواستار باشید.

### بخش دوم: اعمال روز برگزاری آزمون

مدیریت روز آزمون، آخرین سنگ بنای موفقیت در مرحله کتبی آزمون‌های استخدامی می‌باشد. بنابراین، مواردی که در ادامه به آن اشاره می‌شود، در جهت مدیریت صحیح آزمون به شما یاری خواهد رساند:

✓ سعی کنید اگر آزمونتان در نوبت صبح برگزار می‌شود، از چای و یا نوشیدنی گرم کافئین دار مثل قهوه و یا کافی میکس و امثال اینها به منظور نوشیدنی میل کنید. به هیچ وجه روز خود را با نوشیدنی سرد آغاز نکنید. دلیل اینکه گفته می‌شود از چای و یا نوشیدنی گرم کافئین دار استفاده کنید این است که به دلایل استرس (چه طبیعی و چه غیرطبیعی)، خوابیدن در شب برای داوطلبان سخت می‌گردد و ممکن است گهگاهی به سه یا چهار ساعت خواب هم نرسند. بنابراین، بسیار مهم است که روز آزمون تمرکز حواس داشته باشید. نوشیدنی‌های گرم کافئین دار می‌توانند خواب‌آلودگی را از داوطلبان دور کرده و خستگی ناشی از نخوابیدن را تا حدی خنثی کنند. اگر از چای به عنوان نوشیدنی استفاده می‌کنید، می‌توانید آن را شیرین

کرده و با نان میل نمایید. چای شیرین همراه با نان، برای رفع گرسنگی بسیار انتخاب خوبی است. اگر اهل صبحانه مفصل هستید، حتماً از مربا و یا عسل (چه صنعتی و یا چه طبیعی) استفاده کنید؛ به هیچ وجه ممکن از پنیر برای سیر کردن خودتان استفاده نکنید. همچنین از مواد شیردار مثل خود شیر، پنیر و یا ماست و حتی شیر کاکائو استفاده نکنید.

✓ در روز آزمون به هیچ وجه مطالعه نکنید. بایستی تمام قوا و انرژی مغز خود را سر جلسه آزمون صرف کنید. حتی اگر این وهم برای شما به وجود آمده است که مطلبی از مطالب خوانده شده را فراموش کرده‌اید، باز هم سراغ مطالعه کردن نروید. یادتان باشد، تا به اینجا هر تلاشی بود، انجام دادید و بایستی سر جلسه آزمون خودتان را ثابت کنید.

✓ قبل از شروع آزمون رقبا را مشاهده خواهید نمود. چهره‌های بعضی از رقبا به شدت جدی می‌باشد؛ اما بایستی عرض کرد، بسیاری از رقبا و شاید بتوان گفت بیش از ۹۰ درصد رقبا جدی نیستند و در پس یک چهره جدی، عدم تلاش‌های بسیاری خفته است. نیاز به ترس از رقبا نیست. بعضی از رقبا هم برای اینکه حتی یک نفر از رقیبشان کمتر شود، خواسته یا ناخواسته شروع به صحبت‌های رایگان می‌کنند؛ صحبتی که یکی از رقبا با شخص اول و یکی از دوستان شخص اول به نمایش گذاشته بود:

... رقیب: با چه رشته‌ای شرکت کردین؟

شخص اول و دوست شخص اول: مدیریت بازرگانی

شخص اول: شما چطور؟

رقیب: حسابداری

رقیب: ارشد دارین؟

دوست شخص اول: بله، هر دومون

دوست شخص اول: آقا سخت نبود درسا؟ مثلاً قوانین مالیاتی سخت نبود؟ هر چی میخوندیم فکر میکردیم چیزی نمیخوندیم. برای شما سخت نبود؟ رقیب: خب شما این درسا رو پاس نکردین دیگه، ما اینا رو مثل آب خوردن بلدیم. قبلاً پاس کردیم. قوانین که چیزی نداره، در حد ۲۰۰ تا ماده بیشتر نیست که.

در این لحظه شخص اول از دوست خود جدا شده و برای خود در محیط محل برگزاری آزمون چرخی می‌زند و بعدها دوست شخص اول برای شخص اول تعریف می‌کند:

دوست شخص اول: بله خیلی هم عالی، درسها رو الان دیگه مسلطین دیگه؟ رقیب: من؟ آره بابا، همین چند وقت پیش آزمون کارشناسی ارشد دادم، قبول شدم؛ تسلطم الان چند برابره، شما زیاد امید به قبولی نداشته باش، رشتت نبوده؛ نمیتونی (لازم به ذکر است که دوست شخص اول همان شخصی می‌باشد که حدنصاب آن شهر را در آن دوره تعیین کرده بود).

دوست شخص اول: کجا به سلامتی؟

رقیب: (در این لحظه رقیب اسم دانشگاهی را به زبان می‌آورد که ای‌استخدام به دلیل حفظ اصالت اثر، اجازه نام بردن ندارد؛ اما جهت اطلاع گفته می‌شود که یکی از دانشگاه‌های کم اعتبار یکی از شهرها).

دوست شخص اول: ان شاء الله که موفق باشی (با همراه یک لبخند ملایم همیشگی، ارتباط کلامی آن دو قطع می‌گردد).

چون نیست جای ملامت، بهل، که مدعیان / فغان کنند و من آهسته کار خویش کنم

بنابراین، در ارتباطات کلامی‌ای که شما دارید، ملاحظه کنید که افرادی ممکن است خواسته یا ناخواسته باعث تخریب روحیه و انگیزه شما در آزمون استخدامی شوند. شما نیز همانند شخص اول برای خودتان یک چرخه در محیط برگزاری آزمون بزنید تا اعلام شود که وارد ساختمان شوید.

- ✓ اگر شما بر صندلی منصوب به آزمونتان نشسته‌اید، بدانید تا به این لحظه خیلی از رقبای بالقوه‌تان حتی فرصت نشستن بر صندلی آزمون را به دست نیاورده‌اند. اینجاست که بایستی پروردگار را به این دلیل شکر بگوئید که از بین میلیون‌ها رقیب، شما واجد این شرایط شده‌اید تا آزمون را در جهت تعیین آینده شغلی خود رقم بزنید. از طرف دیگر، خدا را شکر بگوئید که شما جزء آن دسته از داوطلبانی نیستید که محل برگزاری آزمون را گم کرده‌اند و یا روز برگزاری آزمون خواب مانده است. بنابراین، با توجه به الطاف الهی و سپاس بی‌نهایت از پروردگار، آزمونتان را آغاز نمائید.
- ✓ در زمان پاسخگویی به سؤالات هرگز آب را همراه با شکلات و یا کاکائو میل نکنید. این عمل باعث می‌شود معده‌تان از حالت عادی خارج شود و باعث اذیت شما و عدم تمرکزتان در جلسه آزمون شود.
- ✓ هر وقت احساس کردید گردنتان در حال درد گرفتن است، سعی کنید همان لحظه برای مدت زمان بسیار کوتاهی، ماساژ دهید. تأثیر درد کردن بر عدم تمرکز و همچنین سردرد، بسیار زیاد است.
- ✓ اگر می‌توانید سعی کنید پاهایتان را از کفش‌هایتان خارج کنید. پای انسان به مثابه قلب دوم اوست. آزادی پا منجر به گردش خون سریعتر شده و به

شادابی انسان بسیار کمک می‌کند. در جلسه آزمون هر چه آزادتر باشید، شادابی جسمانی و روحی - روانی‌تان بالاتر خواهد بود.

✓ کلیدی‌ترین نکته این بخش، نحوه تست زدن است. برای اینکه نیاز به زمان‌سنج پیدا نکنید و همچنین در بهینه‌ترین حالت ممکن تست‌ها را بزنید، به این صورت عمل کنید: ابتدا صورت سوال را مطالعه کنید. اگر سؤال برای شما قابل حل کردن باشد، بایستی دو حالت را برای این تست در نظر بگیرید؛

۱. حالتی که این تست حل کردنی اما وقتگیر است، که در این صورت بایستی در کنار تست مربوطه یک علامت دایره قرار دهید و به سراغ تست بعدی بروید.

۲. حالتی که این تست حل کردنی و ساده باشد و نیاز به زمان زیادی نداشته باشد. در این صورت تست را کامل حل کنید. نکته مهم در این حالت این است که حتماً گزینه انتخابی‌تان را در دفترچه سؤال مشخص کنید و بعد از مشخص کردن آن، یک تیک کنار شماره سؤال بزنید و سپس پاسخ‌نامه را با مداد B، همان لحظه پُر کنید. دلیل اینکه بایستی حتماً ابتدا در خود دفترچه سؤالات، گزینه انتخابی‌تان را تیک بزنید، این است که گهگاهی داوطلب به علت فراموشی، نیاز به بررسی گزینه‌های انتخابی خود پیدا می‌کند؛ بنابراین، فرصت مطالعه دوباره تست و تفکر روی اینکه کدامیک از گزینه‌ها صحیح بود، در حوصله داوطلب نمی‌گنجد.

حال اگر سؤال مورد نظر، غیر قابل حل بود؛ بدون اینکه علامتی در کنار این تست بزنید، از آن عبور کنید و دیگر به آن مراجعه نکنید.

با اینکار شما در بار اول تمام سؤالات ساده را حل خواهید نمود. در دور دوم به سؤالات مشکل و یا وقتگیر خواهید رسید. بنابراین، خیالتان از این بابت که یکبار تست‌ها را مطالعه کرده باشید، راحت است. اگر شما زمان‌سنج هم همراه خود ببرید و از زمان‌سنج هم استفاده کنید، نه تنها سریع‌تر از شیوه گفته شده تست‌ها را نمی‌زنید، بلکه خیلی بیشتر از شیوه گفته شده زمان صرف خواهید کرد. از طریق این شیوه، زمان شما بهینه مصرف می‌شود و اصلاً هم احتیاجی به زمان‌سنج نخواهید داشت.

✓ آیا می‌توان به صورت احتمالی به سؤالات پاسخ داد؟ جواب: بله؛ اما طی یک شرایط خاص می‌توان به صورت احتمالی به سؤالات پاسخ داد. این شرایط عبارتند از:

۱. در هر درس فقط سه تست شک‌دار را می‌توان به صورت احتمالی پاسخ داد.
۲. شک بایستی بین دو گزینه باشد و دو گزینه دیگر از حوزه شک خارج باشد و حذف شده باشد.
۳. شک برای دو گزینه بایستی بار وزنی یکسانی داشته باشد. یعنی بایستی داوطلب بین دو گزینه شک‌دار گرایشی به سوی یکی از آنها داشته باشد. اگر بین دو گزینه شک‌دار، کاملاً بی‌تفاوت هستید، بهتر است آن تست را رها کنید.

تحلیل این عمل: این استراتژی، یکی از استراتژی‌های مهم تست‌زنی می‌باشد که شما برای بار اول در این کتاب می‌آموزید (این استراتژی، با افتخار اولین بار توسط تیم آموزشی ای‌استخدام مدون شده است).



شما با این کار ممکن است از بین این سه تست، هر سه را درست پاسخ دهید؛ بنابراین، علاوه بر اینکه چیزی کم نمی‌شود، بلکه به میزان زیادی به درصدتان افزوده خواهد شد؛ اگر دو تست را درست و یکی را به اشتباه پاسخ دهید، باز هم به درصدتان اضافه خواهد شد، اما اینبار کمتر از حالتی است که هر سه تست را درست جواب داده باشید. اگر دو تست را اشتباه و یک تست را درست جواب داده باشید، در این حالت هم نه تنها چیزی از درصدتان کسر نمی‌شود، بلکه درصدی هم به میانگین درصدهایتان افزوده می‌شود. اما حالتی که هر سه تست را به اشتباه پاسخ دهید، حالتی می‌باشد که شما یکی یا همه آن سه شرط را رعایت نکرده باشید. طبق تجربه، این حالت برای کارشناسان با تجربه اتفاق نیفتاده است. پس داوطلبان قبل از اینکه در جلسه آزمون استخدامی، این استراتژی را آزمون و خطا کنند، بایستی آن را از قبل تمرین کرده باشند.

### بخش سوم: بعد از برگزاری آزمون

یکی از مرسوم‌ترین اتفاقاتی که بعد از برگزاری آزمون‌های استخدامی مشاهده می‌کنیم، بررسی چندین باره سؤالات و چک کردن پاسخ سؤالات توسط داوطلب و یا کاربران سامانه‌های استخدامی می‌باشد. در این صورت همگی به دنبال پاسخ بوده و پاسخ‌های احتمالی خود را ذکر می‌کنند؛ اما نکته‌ای که بایستی بیان کرد این است که پاسخ‌نامه‌ای که سازمان تدوین‌کننده آزمون در دسترس دارد، چیزی متفاوت از پاسخ‌های داوطلبان گرامی می‌باشد و درصدی که آن سازمان برای داوطلبان در نظر می‌گیرد، به مراتب متفاوت‌تر از درصدی است که داوطلبان استخدامی گرامی به آن می‌رسند.

در این شرایط داوطلبان گرامی بایستی توجه داشته باشند که پاسخ‌هایی که بین دوستان رد و بدل می‌شود، صرفاً پاسخ‌های احتمالی بوده و سندیت و یا حجتی ندارند؛ پس روحیه و امید خود را در این مورد از دست ندهید. تجربه نشان می‌دهد که افراد نتیجه‌ای بر خلاف انتظار خود دریافت می‌کنند؛ البته موارد اندکی نیز وجود دارد که فرد با بررسی ریز به ریز سؤالات، تا حد زیادی انتظار خود را منطبق با نتیجه می‌بیند؛ اما این حالت به ندرت اتفاق خواهد افتاد.

در این بازه زمانی تا مدتی که نتایج اولیه اعلام می‌شود، نیاز نیست پیگیری خاصی از جانب شما در جهت اینکه نتیجه چه خواهد بود صورت گیرد. شما برای بالا بردن اطلاعات خود در مورد مراحل بعدی آزمون‌های استخدامی می‌توانید به سامانه‌های خبری آزمون‌های استخدامی و یا سایت‌های تخصصی این آزمون‌ها مراجعه کنید و از تجربیات اشخاصی که مراحل بعدی آزمون‌های استخدامی را طی کرده‌اند، استفاده کنید.

# فصل چهارم

نتایج اولیه آزمون های استخدامی



## مقدمه

حساس ترین لحظه‌ای که یک داوطلب آزمون استخدامی با آن مواجه می‌شود، مشاهده نتایج اولیه آزمون می‌باشد. از لحظه قبولی تا روز مصاحبه و حتی تا روز گزینش، او در برزخ چندین ماهه سپری می‌کند که منجر به وقفه‌ای در زندگی‌اش خواهد شد. فرد نمی‌داند آیا می‌تواند به شغل دیگری روی آورد و یا خیر، ممکن است در همین شغل پذیرفته شود. در هر صورت نبایستی بی‌جهت دست و پا زد و خود را گرفتار نگرانی‌های بی‌اندازه و یا استرس‌های بی‌دلیل کرد. بایستی زمان بگذرد و گاهی زمان خود نوشداروی بسیاری از مشکلات است:

هر لحظه که تسلیم در کارگه تقدیر / آرام‌تر از آهو، بی‌باکتر از شیرم

هر لحظه که می‌کوشم، در کار کنم تدبیر / رنج از پی رنج آید، زنجیر پی زنجیر

در هر صورت، در این فصل همت روی مسئله نتایج اولیه آزمون‌های استخدامی گذاشته می‌شود و در جهت شفاف‌سازی بعضی از گزاره‌ها اقدام می‌شود.

## کارنامه اولیه

کارنامه اولیه‌ای که سازمان سنجش آموزش کشور برای داوطلبان گرامی در سامانه خود ارسال می‌نماید، به طور معمول دارای بندهای زیر می‌باشد:

- ✓ تاریخ و زمان درخواست کارنامه
- ✓ شماره پرونده
- ✓ نام و نام خانوادگی
- ✓ نام پدر
- ✓ کد ملی

- ✓ تاریخ تولد
- ✓ سهمیه ثبت نامی
- ✓ نوع سهمیه ایثارگری ۵ درصد
- ✓ نوع سهمیه ایثارگری ۲۵ درصد
- ✓ شماره داوطلبی
- ✓ مقطع تحصیلی
- ✓ نام رشته تحصیلی
- ✓ سازمان محل خدمت
- ✓ مدت خدمت
- ✓ وضعیت معلولیت
- ✓ حالت بومی اعلام شده در مرحله ثبت نام و یا ویرایش کارت
- ✓ شغل محل معرفی شده
- ✓ ضابطه بومی شغل محل (طبق دفترچه)
- ✓ نمرات دروس عمومی و تخصصی
- ✓ میانگین درصد عمومی
- ✓ میانگین درصد تخصصی
- ✓ نمره کل میانگین
- ✓ حد نصاب
- ✓ نمره کل نهایی آزاد
- ✓ رتبه داوطلب در سهمیه
- ✓ آخرین رتبه معرفی در سهمیه
- ✓ وضعیت داوطلب

✓ در زیر کارنامه، توضیحات لازم موارد ستاره دار، ذکر می گردد.

داوطلبان گرامی بایستی بدانند که این کارنامه، نشان دهنده قبولی نهایی داوطلب نخواهد بود؛ این کارنامه فقط به داوطلب نشان می دهد که آیا مجاز به شرکت در سایر مراحل جذب و استخدام خواهد بود یا خیر. از طرف دیگر، وضعیت داوطلبان با توجه به میانگین نمرات، متغیر خواهد بود. به کارنامه اولیه زیر توجه کنید:

شماره پرونده	نام و نام خانوادگی	نام پدر	کد ملی	تاریخ تولد	سهمیه ثبت نامی	نوع سهمیه استخدامی	شماره اعلام کردی
---	---	---	---	---	آزاد	22 سهمیه استخدامی	---
شماره داوطلبی	مقطع تحصیلی	نام رشته تحصیلی	سازمان محل خدمت	محل خدمت	وضعیت داوطلبی	---	---
---	لیسانس	حقوق کارکنی	---	---	---	---	---

حالت بودن اعلام شده در مرحله ثبت نام یا بررسی اولیه  
شماره پرونده

شماره اعلام کردی	مقطع تحصیلی	نام رشته تحصیلی	سازمان محل خدمت	محل خدمت	وضعیت داوطلبی
---	---	---	---	---	---

شماره اعلام کردی				نوع سهمیه		نوع سهمیه	
---				---		---	
شماره اعلام کردی	مقطع تحصیلی	نام رشته تحصیلی	سازمان محل خدمت	محل خدمت	وضعیت داوطلبی	نوع سهمیه	نوع سهمیه
---	---	---	---	---	---	---	---
شماره اعلام کردی	مقطع تحصیلی	نام رشته تحصیلی	سازمان محل خدمت	محل خدمت	وضعیت داوطلبی	نوع سهمیه	نوع سهمیه
---	---	---	---	---	---	---	---

\* نمره کتلی نهایی آزاد از مجموع 40 درصد میانگین درصد عمومی و 60 درصد میانگین درصد تخصصی به علاوه امتیاز سهمیه عمومی و ضامین مثبت آمده است. ضامین: ذکر است انتخاب افراد مطابق نوبت های عمومی و اختصاصی صرفاً جاسی برای نیروهای قراردادی است. ضمن برنامیس اطلاعات تکمیلی توسط داوطلب در زماننامه انتخابی می باشد. گردیده که در صورت عدم انتخاب مدارک ارائه شده در خصوص عمومی بودن، قراردادی است. ضمن و یا استخدامی، موضوع اولویت نام ملحق گردیده و مطابق ضوابط مورد عمل اقدام می گردد.

این کارنامه به عنوان مثالی مناسب در جهت تبیین موارد مندرج آن، در اینجا ذکر شده است.

### درصدهای یک درس چگونه محاسبه می‌شود؟

طبق قوانین آزمون‌ها، به ازای هر سه سؤال غلطی که داوطلب به آن پاسخگو باشد، یک سؤال صحیح حذف خواهد شد. بنابراین، برای محاسبه درصدهای هر کدام از مواد آزمون، فرمول زیر را خواهیم داشت:

$$\text{درصد} = \frac{\text{تعداد پاسخ غلط} - (\text{تعداد پاسخ صحیح} \times 3)}{\text{تعداد کل سوالات} \times 3}$$

### میانگین درصدهای درس‌های عمومی و تخصصی چگونه محاسبه می‌شود؟

در صورتی که مواد آزمون در دروس عمومی و یا تخصصی از وزن‌های یکسانی برخوردار باشند، می‌توان میانگین ساده دروس عمومی و یا تخصصی را با فرمول زیر محاسبه نمود:

$$\frac{\sum X_i}{\text{تعداد دروس}} = \text{میانگین دروس عمومی یا تخصصی}$$

که در آن  $\sum X_i$ ، همان مجموع درصدهای دروس در هر بخش از دروس عمومی یا تخصصی می‌باشد. اما اگر، وزن مواد عمومی آزمون و یا وزن مواد تخصصی آزمون، در هر کدام از دروس متفاوت باشد؛ آنگاه برای به دست آوردن میانگین وزنی از فرمول زیر برای هر کدام از بخش‌های عمومی و یا تخصصی جداگانه محاسبه می‌کنیم:

$$\frac{\sum W_i X_i}{\sum W_i} = \text{میانگین وزنی دروس عمومی یا تخصصی}$$

که در آن  $\sum W_i X_i$  مجموع حاصل ضرب درصد هر یک از درس‌ها در وزن مخصوص به خودشان و  $\sum W_i$  مجموع وزن‌های دروس عمومی یا تخصصی می‌باشد. از آنجایی که وزن‌های دروس عمومی و یا تخصصی در این مثال برابرند، پس داریم:

میانگین درصدهای دروس عمومی برابر است با:

$$\frac{38.46 + 22.22 + 53.84 + 66.66 + 88.88 + 48.48 + 26.66}{7} = 49.31$$

میانگین درصدهای دروس تخصصی برابر است با:

$$\frac{55.55 + 40 + 56.66 + 78.33}{4} = 57.63$$

### حد نصاب و نمره کل میانگین چیست؟

حد نصاب در چند سال قبل، حداقل درصدی از دروس عمومی و تخصصی بود؛ اما در ادوار فعلی، حد نصاب نصف نمره میانگین کل، بدون اعمال هیچ سهمیه‌ای می‌باشد. آنچه از کارنامه مذکور بر می‌آید، داوطلب، حد نصاب آن شهر را تعیین نموده است. هر چند که داوطلب، غیر بومی نیز می‌باشد. نحوه محاسبه حد نصاب به شرح زیر است:

میانگین درصد عمومی داوطلب: ۴۹,۳۱

میانگین درصد تخصصی داوطلب: ۵۷,۶۳

این دو میانگین با هم جمع می‌گردند و میانگین این دو عدد به دست خواهد آمد. عدد

بدست آمده، برابر خواهد بود با: ۵۳,۴۷



عدد ۵۳,۴۷ نمره میانگین کل داوطلب در آزمون استخدامی می‌باشد و از آنجا که برای تعیین حدنصاب، بایستی این نمره میانگین فارغ از هر نوع امتیاز و سهمیه‌ای بیان شود، پس همین عدد را تقسیم بر دو می‌کنیم تا نصف نمره میانگین کل داوطلب به عنوان حدنصاب آن شغل محل، مشخص شود: ۵۳,۴۷ تقسیم بر دو برابر است با ۲۶,۷۳.

بنابراین، هر داوطلبی که نمره میانگین کل او بدون اعمال هیچ سهمیه‌ای و یا هیچ امتیازی، بالاتر از عدد ۲۶,۷۳ شود، گفته می‌شود داوطلب به حد نصاب تعیین شده رسیده است و مجاز به اعمال سهمیه‌های استخدامی برای او خواهند بود ولی اگر به هر دلیلی داوطلبان نتوانند نمره میانگین کل شان را به ۲۶,۷۳ برسانند، هیچگونه سهمیه و یا امتیازی برای آنها در نظر گرفته نمی‌شود و از دور رقابت به سادگی حذف خواهند شد. پس، نمره کل میانگین یعنی میانگین حاصل جمع میانگین درصدهای عمومی و تخصصی بدون اعمال هیچگونه سهمیه و یا امتیازی.

### نمره کل نهایی آزاد چیست؟

نمره کل نهایی آزاد، همان نمره کل میانگینی می‌باشد که تمام سهمیه‌ها و امتیازها به آن افزوده می‌شود و ملاک رقابت با سایرین به منظور رتبه‌بندی افراد قرار می‌گیرد. این نمره از طریق محاسبات زیر طبق مثال به دست خواهد آمد:

میانگین درصد عمومی داوطلب: ۴۹,۳۱

میانگین درصد تخصصی داوطلب: ۵۷,۶۳

میانگین درصد عمومی داوطلب  $\times 40$  درصد برابر خواهد شد با: ۱۹,۷۲۴

میانگین درصد تخصصی داوطلب  $\times 60$  درصد برابر خواهد شد با: ۳۴,۵۷۸

نمره نهایی آزاد برابر است با:  $۱۹,۷۲۴ + ۳۴,۵۷۸$  که برابر است با:  $۵۴,۳۰$

البته که باید بیان نمود، این داوطلب یک داوطلب غیربومی می‌باشد و در صورتی که این داوطلب بومی باشد، نمره نهایی آزاد وی به شرح زیر محاسبه می‌گردد:

اگر داوطلب بومی شهرستان باشد:  $۱,۴ \times ۵۴,۳۰$  برابر است با:  $۷۶,۰۲$

اگر داوطلب بومی استان باشد:  $۱,۲ \times ۵۴,۳۰$  برابر است با:  $۶۵,۱۶$

ضرایب ۴۰ درصد برای میانگین دروس عمومی، ۶۰ درصد برای میانگین دروس تخصصی، ۱,۴ برای بومی‌های شهرستان و ۱,۲ برای بومی‌های استان طبق قوانین مندرج در اطلاعیه سازمان برگزارکننده آزمون تعیین شده است.

### رتبه داوطلب در سهمیه و آخرین رتبه معرفی در سهمیه چیست؟

رتبه داوطلب در سهمیه، رتبه‌ای می‌باشد که داوطلب گرامی با توجه به همه سهمیه‌های اعمال شده بدست خواهد آورد. همچنین در کنار این کادر، کادری با عنوان آخرین رتبه معرفی در سهمیه نیز مشاهده می‌شود. در این کادر آخرین داوطلب مجاز شده که همه سهمیه‌های او نیز اعمال شده است، در ظرفیت اعلام شده و یا دو یا سه برابر ظرفیت اعلامی، مشخص شده است. برای مثال، فرض کنید آخرین رتبه معرفی در سهمیه عدد شش باشد. این عدد بستگی به شرایط ارائه شده در اطلاعیه دارد. یعنی ممکن است بنا بر اینکه داوطلبان در ظرفیت برابر به رقابت پردازند و این عدد شش، حاکی از این باشد که همین شش نفر ظرفیت برای آن شغل محل موجود باشد و یا رقابت در دو یا سه برابر ظرفیت انجام شود. بنابراین اگر رقابت در دو برابر ظرفیت باشد، پس ظرفیت سه خواهد بود و اگر رقابت در سه برابر ظرفیت انجام شده باشد، ظرفیت دو خواهد بود. در مجموع، افرادی که رتبه‌ای بیش از

شش داشته باشند [البته در این مثال] حذف خواهند شد و افرادی که رتبه‌ای برابر و یا کمتر از شش داشته باشند، به بقیه مراحل جذب و استخدام معرفی خواهند شد.

### منظور از کادر وضعیت داوطلب چیست؟

کادر وضعیت داوطلب، نشان‌دهنده پاسخ به این سؤال است که آیا داوطلب می‌تواند بقیه مراحل آزمون استخدامی را طی کند و یا بقیه مراحل جذب و استخدام او ملغی می‌شود. بنابراین، هر یک از نوشته‌ها نشان از پیامی به داوطلب در جهت مجاز یا غیرمجاز بودن او می‌باشد. به صورت کلی دو رنگ برای نتایج اولیه داوطلب در کادر وضعیت داوطلب، در نظر گرفته می‌شود. اگر نوشته‌ها به رنگ سبز باشند، نتیجه این می‌باشد که داوطلب مجاز به طی ادامه مراحل جذب و استخدام خواهد بود و اگر نوشته به رنگ قرمز باشد، نتیجه آن خواهد بود که متأسفانه با اعمال تمامی سهمیه‌ها و امتیازات، داوطلب قادر نیست تا بقیه مراحل جذب و استخدام طی کند.

جمله زیر نمونه‌ای از مجاز شدن داوطلب صرفاً از لحاظ حدنصاب است و اینکه آیا او به مراحل بعدی یعنی مصاحبه و گزینش دعوت خواهد شد، بستگی به کارنامه بعدی او و لیست مصاحبه‌شوندگان خواهد داشت:

«شما دارای حدنصاب لازم می‌باشید، لذا بر اساس اعمال سهمیه‌ها (معلولین، ایثارگران)، ظرفیت شغل محل مورد تقاضا و حالت بومی ثبت شده در مرحله کارنامه، نتایج نهایی شما مبنی بر واجد شرایط بودن برای معرفی به مرحله مصاحبه، متعاقباً اعلام خواهد شد.»

اگر داوطلب استخدامی، حدنصاب آزمون در شغل محل مورد نظر را کسب نکند، از دور رقابت حذف شده و در کادر وضعیت او جمله زیر با رنگ قرمز به نمایش در خواهد آمد:

«شما دارای حدنصاب لازم در آزمون نمی‌باشید.»

اگر داوطلب به حدنصاب آزمون در حوزه شغل محل خود برسد اما نتواند در ظرفیت موجود و یا دو یا سه برابر ظرفیت اعلام شده در اطلاعیه، قرار گیرد، طبیعی است که با وجود کسب حدنصاب، از دور رقابت حذف می‌شود و جمله زیر به رنگ قرمز در کادر وضعیت داوطلب مشاهده خواهد شد:

«با توجه به ظرفیت سهمیه استخدامی، نمره کل نهایی و سهمیه‌های قانونی

(ایثارگران، معلولین)، در شغل محل انتخابی اصلی برای شرکت در سایر مراحل جذب و

استخدامی در اولویت قرار نگرفته‌اید.»

و یا:

مردود

«با توجه به امتیاز مکتسبه در آزمون کتبی مورخ ۰۰/۰۰/۰۰۰۰ جزء دو برابر ظرفیت

عنوان شغلی مورد تقاضا نمی‌باشید.»

اما اگر داوطلب هم حدنصاب لازم برای شغل محل انتخابی خود را بدست آورد و هم اینکه در ظرفیت اعلامی و یا دو یا سه برابر ظرفیت اعلامی قرار گیرد، جمله زیر برای او با رنگ سبز به نمایش گذاشته می‌شود:

«با توجه به ظرفیت سهمیه استخدامی، نمره کل نهایی و سهمیه‌های قانونی (ایثارگران، معلولین)، در شغل محل انتخابی اصلی برای شرکت در سایر مراحل جذب و استخدام، معرفی شده‌اید.»

در این مرحله ممکن است بعضی از داوطلبان از بعضی دیگر، تفکیک شوند و این رویداد مربوط به وضعیت داوطلب می‌باشد. طبق تجربه، مشاهده شده است که افرادی با مشکلات متعدد و به سختی و تحمل فشارهای بسیار زیاد، این آزمون‌ها را شرکت کرده‌اند و چه بسا نتوانسته‌اند آن وضعیتی که باعث قبولی آنها می‌شد را مشاهده کنند. سخن ای استخدام با این دسته از افراد این است که روحیه خودتان را حفظ کنید و خود را نبازید؛ چرا که شما تلاش خود را کرده‌اید و نتیجه را به خدا سپرده‌اید. اگر نتیجه را به خدا سپرده باشید، بایستی خرسند از هر نتیجه و رها از آن باشید.

اوضاع زندگی و آینده شما با باختن شما بهتر نمی‌شود که هیچ، بدتر هم خواهد شد و چه بسا اشخاصی بوده‌اند که بر خلاف شما راضی بوده‌اند و با وجود تمام سختی‌ها دوباره روی پای خود ایستاده‌اند و تلاش کرده‌اند. جا دارد که تیم آموزشی ای استخدام، این فصل را با یک غزل زیبا از حافظ به پایان برساند و آن را تقدیم به همه انسان‌های پرتلاش کند:

یوسف گمگشته باز آید به کنعان غم مخور / کلبه احزان شود روزی گلستان غم مخور  
 ای دل غمدیده، حالت به شود، دل بد مکن / وین سر شوریده باز آید به سامان غم مخور  
 گر بهار عمر باشد باز بر تخت چمن / چتر گل در سر کشی ای مرغ خوشخوان غم مخور  
 دور گردون گر دو روزی بر مراد ما نرفت / دائماً یکسان نباشد حال دوران غم مخور  
 هان مشو نومید چون واقف نه‌ای از سر غیب / باشد اندر پرده، بازی‌های پنهان غم مخور  
 ای دل ار سیل فنا و بنیاد هستی بر کند / چون تو را نوح است کشتیان، ز طوفان غم مخور

در بیابان گر به شوق کعبه خواهی زد قدم / سرزنش‌ها گر کند خار مخیلان غم مخور

گر چه منزل بس خطرناک است و مقصد بس بعید / هیچ راهی نیست کان را نیست پایان غم مخور

حال ما در فرقت جانان و ابرام رقیب / جمله می‌داند خدای حال گردان، غم مخور

حافظا در کنج فقر و خلوت شب‌های تار / تا بود وردت دعا و درس قرآن غم مخور

«حافظ، غزل شماره ۲۵۵»

تیم آموزشی ای‌استخدام به منظور ارائه اطلاعات بیشتر در مورد نمونه کارنامه‌های داوطلبان در ادوار گذشته در نظر دارد با وجود این لینک به داوطلبانی که خواستار تخمین درصد هستند، یاری رساند.

<sup>1</sup> [www.e-estekhdam.com/?p=877137](http://www.e-estekhdam.com/?p=877137)

# فصل پنجم

تحويل مدارك

## مقدمه

از دیگر مراحل اصلی آزمون‌های استخدامی، تحویل مدارک می‌باشد. تحویل مدارک در استخدام‌های سازمان‌های خصوصی با تحویل مدارک در استخدام‌های سازمان‌های دولتی اندکی متفاوت به نظر می‌رسد اما تشابهات فراوانی با هم دارند. در این فصل، سعی شده است که به هر دو جنبه تحویل مدارک در سازمان‌های خصوصی و سازمان‌های دولتی اشاره شود.

## تحویل مدارک در استخدامی سازمان‌های خصوصی

در سازمان‌های خصوصی، سیاست‌های محوری آن بر شایسته‌سالاری می‌باشد. البته این موارد در این دسته از سازمان‌ها که به تولید انبوه می‌پردازند، ممکن است این سیاست‌ها به شکل سیاست‌های یک سازمان بروکراتیک (دیوان‌سالارانه) عمل شود؛ هر چند شایسته‌سالاری در سازمان‌های خصوصی‌ای که به تولید انبوه می‌پردازند نیز مشاهده می‌شود. بنابراین، در سازمان‌های خصوصی نسبت به سازمان‌های دولتی انعطاف بیشتری مشاهده می‌شود و اساساً آنگونه که با دقت و موشکافانه در سازمان‌های دولتی مدارک بررسی می‌شود، در سازمان‌های خصوصی به چشم نمی‌خورد.

این در حالی است که در سازمان‌های خصوصی می‌توان از مدارک‌های تحصیلی غیرمرتبط نیز به منظور جذب و استخدام بکار گرفت.

آنچه امروزه در کشور مرسوم است و بیشترین کانال جذب و استخدام از آن طریق انجام می‌شود، سامانه‌های استخدامی کشور است. این سامانه‌ها کار جذب و استخدام شما را انجام نمی‌دهند؛ اما در عوض، با اطلاع‌رسانی‌هایی که انجام می‌دهند، می‌توانند به اندازه‌نیمی از مراحل جذب و استخدام، به شما داوطلبان گرامی، یاری رسانند.



سامانه ای استخدام، با سال‌ها تجربه در زمینه اطلاع‌رسانی در باب جذب و استخدام، همواره می‌کوشد تا بین داوطلبان عزیز و کارفرمایان انواع سازمان‌ها، چه خصوصی و چه دولتی، ارتباط برقرار نماید. بنابراین، در راستای تحویل مدارک به سازمان‌های خصوصی، تیم آموزشی ای استخدام می‌تواند مواردی را پیشنهاد کند که در ادامه به تشریح آن خواهد پرداخت.

از عواملی که باعث می‌شود افراد نسبت به دیگران ارجح باشند، رزومه است. اشاره به کوچک‌ترین موضوع عملکردی فرد در رزومه، منجر به تغییر مثبت افکار کارفرما نسبت به شما می‌شود. بسیاری از تحلیلگران بیان می‌دارند که در رزومه کاری نبایستی هر مطلبی را که انجام داده‌اید، ذکر کنید؛ اما ای استخدام طبق تجربه خود و دیگر متقاضیان شغل، معتقد است که تا زمانی که شما هنوز به کاری مشغول نشده‌اید، بهتر است از هر جزئیاتی غافل نشوید. در ادامه نمونه‌ای از رزومه که مربوط به یکی از کاربران ای استخدام است، به عنوان یک مثالی در جهت آشنایی با بندهای مربوط به رزومه، آورده شده است. لازم به ذکر است که این رزومه، توسط سیستم حرفه‌ای سامانه ای استخدام که دسترسی آن برای هر کاربری قابل می‌باشد، تهیه شده است:

<sup>1</sup> CV or Curriculum Vitae

ebook@e-estekhdam.com  
09131313131

## کاربر ای استخدام

کارشناسی ارشد مدیریت  
استان مازندران، آمل



### اطلاعات پایه

استان	شهر	جنسیت	سال تولد	وضعیت لائحه	وضعیت شغلی
مازندران	آمل	مرد	۱۳۷۹	مجرد	بازار هدفمند

### اطلاعات شغلی

وضعیت اشتغال	آمادگی کار در	حداقل حقوق درخواستی
در حال حاضر مشغول به کار نیستم و به دنبال کار میگردم	کامل کشور	۳۰۰۰۰۰۰ ریال

### اطلاعات تحصیلی

انگلیسی	فارسی	نوع دانشگاه	نام دانشگاه	رشته تحصیلی	گرایش	معدل
انگلیسی	فارسی	سراسری	دانشگاه آمل	مدیریت	-	۱۶.۲۲

### زبان های خارجی

انگلیسی	عربی
متوسط	متوسط

### مهارت ها

ارزیابیات	پادگیری مهارت های حل مسئله و سلامت ذهنی	پادگیری مهارت های فنی	حل مسئله	فنون ارتباطات	کار با سیستم عامل
متوسط	متوسط	متوسط	متوسط	متوسط	متوسط
کار با سیستم عامل ایواس	کار با مایکروسافت Word	کار با مایکروسافت Excel	کار با مایکروسافت PowerPoint	کار با Adobe Photoshop	تایپ سریع بدون انگلیسی
متوسط	متوسط	متوسط	متوسط	متوسط	متوسط
تایپ سریع بدون انگلیسی	محلث افزار رایانه	ارم افزار MSN	ارم افزار Microsoft	ارم افزار AVI Video Maker	ارم افزار Adobe Captivate
متوسط	متوسط	متوسط	متوسط	متوسط	متوسط
ارم افزار Total Video Converter	ارم افزار Abasoft MPV Converter	ارم افزار Pro Show Gold	ارم افزار VCD Cut Pro	ارم افزار AutoPlay Media Studio	ارانه آرشیدو جز گوته اطلاعات و فایل های صوتی گرافیکی و کارام پسد

				مهارت کار با کامپیوتر (ICM)	بازاریابی

### مدارک، گواهینامه ها ، جوایز و افتخارات

• دوره آموزشی صنایع هوشی با گوگل، سیستم آموزش الکترونیکی درسامه، شناسه: 587500، سال 1384	• دوره آموزشی میکروسافت باور پویته، سیستم آموزش الکترونیکی درسامه، شناسه: 088039، سال 1384
• دوره آموزشی میکروسافت باور پویته، سیستم آموزش الکترونیکی درسامه، شناسه: 880185، سال 1384	• دوره آموزشی تکنیک های تمرکز در مطالعه، سیستم آموزش الکترونیکی درسامه، شناسه: 880189، سال 1384
• دوره آموزشی اعتماد به نفس، سیستم آموزش الکترونیکی درسامه، شناسه: 880449، سال 1384	• دوره آموزشی PLS، دانشگاه تهران، سال 1394
• دوره آموزشی نقش فناوری اطلاعات در اشتغال، دانشگاه تهران، سال 1393	• دوره آموزشی توانین شرکت های دانش بنیان دانشگاه مازندران، بهمنسر، سال 1391
• دوره آموزشی اصول و فنون علمی نگارش، دانشگاه مازندران، بهمنسر، سال 1391	• دوره آموزشی مبانی کارآفرینی، دانشگاه مازندران، بهمنسر، سال 1391
• دوره آموزشی مالیات بر ارزش افزوده، دانشگاه مازندران، بهمنسر، سال 1390	• دوره آموزشی مدیریت نام تجاری برند، دانشگاه مازندران، بهمنسر، سال 1390

### سوابق کاری

#### نشریه فرهنگی و اجتماعی سرگشاده دانشگاه تهران

موقعیت شغلی:	نویسنده و طراح گرافیک
تاریخ شروع به کار:	1399/1
تاریخ تمام همکاری:	1399/1

#### نشریه علمی، فرهنگی و اجتماعی دانشگاه تهران

موقعیت شغلی:	مشاور و نویسنده
تاریخ شروع به کار:	1399/1
تاریخ تمام همکاری:	1399/1

#### شرکت پنبه ریز

موقعیت شغلی:	بازاریاب
تاریخ شروع به کار:	1397/2
تاریخ تمام همکاری:	1397/6

#### دفتر کارآفرینی و ارتباط با صنعت دانشگاه مازندران

موقعیت شغلی:	مدیر کارگروه و طراح گرافیک
تاریخ شروع به کار:	1399/6
تاریخ تمام همکاری:	1399/6

## هسته علمی مدیریت دانشگاه مازندران

موقعیت شعاعی:	شهر اجرایی
تاریخ شروع به کار:	۱۳۹۰/۱
تاریخ انعام همکاری:	۱۳۹۷/۱

## دانشگاه مازندران

موقعیت شعاعی:	ارائه خدمات دانشجویی و کامپیوتری
تاریخ شروع به کار:	۱۳۹۰/۱
تاریخ انعام همکاری:	۱۳۹۷/۶

## توضیحات

اینجاب در دو پروژه زیر فعالیت داشته ام:  
 ۱. پروژه زمایی منجمی و حرکت منجمی شرکت هاتج آفل سال ۱۳۹۳  
 ۲. پروژه مستند سازی به روش الکترونیک فایل های آموزشی- دانشگاه مازندران، بهمنسر- سال ۱۳۹۲

Generated By [www.e-estibales.com](http://www.e-estibales.com)

در رزومه ذکر چند نکته کلیدی می‌تواند شما را در بهتر تدوین کردن آن، یاری دهد. این نکات به شرح زیر می‌باشد:

- ✓ به هیچ وجه از پس زمینه‌های رنگی رنگی استفاده نکنید. یک رنگ واحد را در نظر بگیرید و آن را در تمام بخش‌های رزومه یک‌دست اعمال کنید.
- ✓ رنگ نوشته‌ها بایستی متمایز از رنگ پس‌زمینه باشد.
- ✓ جملاتی که برای موارد مندرج در رزومه استفاده می‌کنید، بایستی حالت گزاره‌ای داشته باشد و نه حالت جمله شده. مثلاً بجای اینکه بنویسید: «من در ترجمه مهارت بالایی دارم»، بایستی بنویسید: «مهارت بالا در ترجمه»
- ✓ تمامی سوابق کاری، دوره‌های آموزشی، تحصیلات دانشگاهی و سوابق تحصیلی و اجرایی بایستی از جدید به قدیم نوشته شوند؛ به عبارتی دیگر، اولین گزاره‌های موجود در رزومه، در هر بخش، جدیدترین رویداد خواهند بود.
- ✓ سعی کنید قسمت علایق خود را طوری تنظیم کنید که از لحاظ روانشناختی شخصی که آنها را بررسی و یا مطالعه می‌کند، به شما به عنوان یک مخالف و یا سد راه ننگرد. مثلاً نبایستی در علایق خود «نقادی مسائل اجتماعی و یا فرهنگی» را درج کنید؛ چرا که فرد مقابل، شما را یک شخص نقادی می‌نگرد که هر لحظه می‌خواهد در سازمان‌شان مخالفت کنید.
- ✓ واژه‌هایی که در رزومه استفاده می‌کنید بایستی بدون هیچ سوگیری نوشته شود. مثلاً نبایستی باعث تخریب و یا تقویت چیز، شخص و یا یک سازمان بشود.

✓ استفاده از واژه‌های تبلیغاتی در متن رزومه، به هیچ وجه مرسوم نیست و منجر به این می‌شود که خواننده ذهنیت متقابل به خود گیرد و موجب دیدگاه «آنچه علیه من است» شود.

✓ حتماً صداقت را ضمیمه متون خود کنید؛ چرا که خوانندگان مجرب، با تعداد بی‌شماری رزومه‌آشنایی داشته‌اند و به راحتی متوجه عدم صداقت شما خواهند شد و فارغ از اینکه آنها به راحتی متوجه عدم صداقت شما می‌شوند، اصولاً عدم صداقت، در هیچ آیین و عرفی و در هیچ قانونی، عمل پسندیده‌ای به شمار نمی‌رود.

البته شایان ذکر است که سامانه‌ای استخدام به منظور ساخت یک رزومه حرفه‌ای و کاری، به داوطلبان عزیز یاری رسانده است. بنابراین، شما با مراجعه به سایت‌ای استخدام و یا از این لینک<sup>۱</sup> می‌توانید رزومه حرفه‌ای خود را بسازید و آن را به سازمان مربوطه، ارائه دهید.

از طرف دیگر، رزومه به عنوان اساس تحویل مدارک شما قرار می‌گیرد و مدارک دال بر تایید و صحت موارد مندرج در رزومه، در صورت خواستن کارفرما، به او ارائه خواهد شد.

### تحویل مدارک در استخدامی سازمان‌های دولتی

در سازمان‌های دولتی بر خلاف سازمان‌های خصوصی از تشریفات شایسته‌سالاری استقبال آنچنانی نمی‌شود. در سازمان‌های دولتی، رزومه کاری با آن دقتی که در سازمان‌های

<sup>1</sup> [www.e-estekhdam.com/?p=346152](http://www.e-estekhdam.com/?p=346152)

خصوصی مورد بررسی قرار می‌گیرد، مورد ارزیابی قرار نمی‌گیرد. در اکثر مواقع، سازمان‌های دولتی به هیچ‌وجه رزومه کاری قبول نمی‌کنند.

آنچه در تحويل مدارك مورد نظر قرار می‌گیرد، موارد زیر خواهد بود:

- ✓ اصل شناسنامه و کپی تمام صفحات آن؛
  - ✓ اصل و کپی کارت ملی (پشت و رو)
  - ✓ اصل کارت پایان خدمت و یا کارت معافیت دائم (ویژه برادران) و کپی آن
  - ✓ عکس (های) ۳ × ۴ با پس زمینه سفید؛ ترجیحاً این عکس (ها) حالت رسمی داشته باشد.
  - ✓ مدارك دال بر سابقه کارمندان قراردادی (شماره شناسه کارمندی نیز مورد نیاز می‌باشد)
  - ✓ مدارك دال بر سهمیه‌های ایثارگران و شاهد (این مدرك را می‌توانید از بنیاد شهید و ایثارگران، با عنوان اختصاصی برای سازمان مربوطه دریافت کنید).
  - ✓ مدارك دال بر بومی بودن (طبق بندهای اختصاصی در اطلاعیه)
  - ✓ اصل و کپی مدرك تحصیلی
  - ✓ کارنامه قبولی در آزمون استخدامی (کارنامه اولیه)
- توجه داشته باشید که برگه کپی شده دارای حاشیه‌های اضافی نباشد و از قبل، حاشیه‌های برگه کپی شده را برش دهید.
- همچنین، مد نظر داشته باشید که در آزمون‌های استخدامی برای هر آزمون، موارد بالا ممکن است اندکی تغییر کند و مواردی به آن اضافه یا کم شود؛ اما صورت کلی آن به شکلی که آمده است، می‌باشد.

در پایان، سعی کنید مدارکی که تا به حال در دوران مختلف تحصیلی و کاری خود کسب کرده‌اید، دوره‌های آموزشی‌ای که سپری کرده‌اید، مدرک مهارت‌های هفت‌گانه و یا همان ICDL، و ... را در پوشه مخصوص به مدارک قرار دهید و از هر کدام یک کپی تهیه کنید. آنها را در روز تحویل مدارک به همراه داشته باشید، تا اگر دستگاه استخدام‌کننده درخواست مدارک این‌چنینی نمود، بتوانید در همان لحظه مدارک را تحویل دهید.



# فصل ششم

مصاحبه تخصصی



## مقدمه

تا به این لحظه تیم آموزشی ای استخدام خود را لازم می‌دارد تا تبریک ویژه خود را به داوطلبان گرامی تقدیم کند؛ چرا که شما از بین واجدین شرایط، انتخاب شده‌اید و مسیر طولانی‌ای طی کرده‌اید تا به این مرحله از مسیر شغلی خود که برایتان آینده‌ساز می‌باشد، برسید. مسیری به بلندی حداقل ۱۴ سال مطالعه، رنج، گرمای تابستان، سرمای زمستان، فشار جسمی، فشار روانی، گهگاهی هم با بدبختی و بیچارگی مالی، از خود گذشتن‌های والدین و یا به دوش کشیدن‌های والدین، و نه مسیری به کوتاهی شش ماه که امروز به مصاحبه رسیده باشید. پس آن مسیر طولانی جای تبریک داشته است تا امروز واجد شرایط جذب و استخدام شوید.

در این فصل تیم آموزشی ای استخدام سعی دارد تا به شرایط ویژه مصاحبه در سازمان‌های خصوصی و سازمان‌های دولتی اشاره کند. البته بایستی توجه داشت که شرایط مصاحبه در سازمان‌های خصوصی با شرایط مصاحبه در سازمان‌های دولتی تفاوت چندانی ندارد، مگر در موارد خاص. بنابراین، حدالمقدور، متقاضیان شغل در سازمان‌های خصوصی با مطالعه این فصل نیز می‌توانند اطلاعات اساسی را در مورد شرایط مصاحبه به دست آورند.

تنها تفاوت مصاحبه در سازمان‌های خصوصی و سازمان‌های دولتی در رسمیت بیش از حد مصاحبه در سازمان‌های دولتی می‌باشد. از آنجایی که در استخدام سازمان‌های دولتی بحث انتخاب بهترین و شایسته‌ترین شخص از بین گزینه‌های موجود مطرح نیست و صرفاً رتبه داوطلب در آزمون استخدامی بیشتر به چشم می‌آید تا خود مصاحبه، پس تفاوت بین مصاحبه در سازمان‌های خصوصی و سازمان‌های دولتی، در شایستگی محوری می‌باشد.

بنابراین، ای‌استخدام در این فصل قصد دارد کلیات مباحث مورد نظر در مصاحبه‌های استخدامی، چه در سازمان‌های دولتی و چه در سازمان‌های خصوصی را مد نظر قرار داده و با عنایت به دیدگاه تحلیلی و اتخاذ راهبردهای مناسب در جهت عبور از این مسیر، به داوطلبان گرامی یاری ویژه‌ای ارائه نماید. ضمن بیان این موضوع، بایستی ذکر شود که این مطالب جنبه کاملاً کاربردی مسئله مصاحبه را در نظر می‌گیرد و به دغدغه‌های اصلی داوطلبان شغل در سازمان‌های دولتی و خصوصی پاسخگو خواهد بود و نه جنبه تئوریک موضوع که شاید تا ابد کاربردی در موفقیت افراد نداشته باشد.

### محورهای اصلی مصاحبه

در این بخش به صورت کلی محورهای اصلی مصاحبه‌های تخصصی ذکر می‌شود، اما جزئیات مصاحبه‌های تخصصی به صورت بیان مسئله که دغدغه‌های خود داوطلبان استخدامی می‌باشد، تشریح شده و به این دغدغه‌ها پاسخ‌های تحلیلی داده می‌شود. عمده محورهای اصلی مصاحبه‌های تخصصی به شرح زیر است:

۱. معرفی کلی مصاحبه‌شونده
۲. مسائل روانشناختی
۳. مسائل مربوط به کامپیوتر و یا همان ICDL
۴. سوالاتی در مورد رشته تحصیلی داوطلب
۵. مهارت و دانش شغلی تخصصی متناسب با نوع شغل
۶. سوالاتی در مورد سازمان مورد نظر
۷. سوالاتی در مورد عقاید سیاسی و مذهبی (در حد کلیات)

## ۸. فعالیت‌های پژوهشی و دوره‌های آموزشی

در بخش معرفی کلی داوطلب، صرفاً به کلیات شخصی داوطلب پرداخته می‌شود. معمولاً در این بخش، وارد جزئیات شخصی داوطلب نمی‌شوند. در بخش روانشناختی، سؤالات متعدد و پشت همی در مورد عصبانیت، خشونت و امثال این‌ها پرسیده می‌شود. در بخش کامپیوتر، دو حالت امکان دارد پرسیده شود؛ یک حالت اینکه مصاحبه‌کننده به صورت تئوریک از مصاحبه‌شونده سؤالات کامپیوتری بپرسد و حالت دیگر اینکه مصاحبه‌کننده از مصاحبه‌شونده بخواهد عملی را با کامپیوتر انجام دهد و از این طریق شخص را بسنجد. در بخش مدرک تحصیلی، مصاحبه‌کننده سؤالاتی را در مورد رشته شما خواهد پرسید. سؤالات به صورت جزئی نمی‌باشد، بلکه اصول بنیادین رشته تحصیلی شما مورد ارزیابی قرار خواهد گرفت. اینکه بخواهید چه کاری انجام دهید و وظایف شما چیست، در زمره سؤالات مربوط به شغل انتخابی شما قرار خواهد گرفت. حتماً در مورد سازمان از شخص سؤال به عمل خواهد آمد؛ زیرا برای مصاحبه‌کنندگان این مهم است که آیا شخص با اطلاعات کافی وارد سازمان می‌شود و یا خیر. از طرف دیگر، یکایک کارمندان سازمان‌ها، ویرینی از سازمان می‌باشند و این مهم است که مصاحبه‌شونده که خود قرار است عضوی از این ویرین باشد، آیا در مورد سازمان اطلاعات به روزی داشته است و یا نه، با چشم بسته وارد سازمان شده است؛ و در انتها ممکن است در مورد عقاید سیاسی و مذهبی مصاحبه‌شونده سؤالاتی به عمل آید. جنس این سؤالات با جنس سؤالات گزینش عقیدتی و سیاسی متفاوت می‌باشد و در آخر فعالیت‌های پژوهشی شما مورد بررسی قرار می‌گیرد.

تیم آموزشی ای‌استخدام سعی کرده است تا در ادامه از طریق تجزیه و تحلیل مضمون یا همان تجزیه و تحلیل تم که برای روش‌های کیفی بکار می‌رود، عمده سؤالات مصاحبه

را با یک دسته‌بندی سازماندهی شده، ارائه کند تا داوطلبان آزمون‌های استخدامی بتوانند توجه ویژه‌ای به این بخش داشته باشند و عمده دغدغه‌های آنها در مرحله مصاحبه، از بین برود.

### ۱. کلیات مصاحبه‌شونده

مقوله‌ها	سؤالات مصاحبه	پاسخ‌ها / استراتژی‌ها
بیوگرافی شخصی	اول گفت که بیوگرافی خودت روبه صورت خلاصه بگو	شامل موارد زیر است: <ul style="list-style-type: none"> <li>نام و نام خانوادگی ✓</li> <li>سن ✓</li> <li>تحصیلات ✓</li> <li>رشته تحصیلی ❖</li> <li>محل تحصیل ❖</li> <li>محل زندگی ✓</li> </ul>
بیوگرافی خانواده	شغل اعضای خانواده‌ت رو بگو	<ul style="list-style-type: none"> <li>شغل پدر ✓</li> <li>شغل مادر ✓</li> <li>شغل برادر ✓</li> <li>شغل خواهر ✓</li> <li>شغل همسر ✓</li> </ul>

## ۲. ویژگی‌های روانشناختی

پاسخ‌ها / استراتژی‌ها	سؤالات مصاحبه	مقوله‌ها
<p>این دست از سؤالات، همواره در مصاحبه‌های استخدامی پرسیده می‌شود. اینکه چگونه می‌خواهید بین زندگی شخصی و زندگی کاری تعادل برقرار کنید. معمولاً پاسخ‌هایی که به این دست از سؤالات داده می‌شود این است که شغل در اولویت قرار داده شود. بنابراین، بایستی اینگونه به این دست از سؤالات پاسخ داد:</p> <p>«خب، با این وضعیت سخت اقتصادی، ما نمی‌تونیم هوا بخوریم، پس کارم توی اولویت قرار می‌گیره. یکی از فوایدی کارمندی داره، ثباته. من با وجود این ثبات، می‌تونم تصمیم بگیرم که چطور بین زندگی کاریم و زندگی شخصیم تعادل برقرار کنم. وقتی من میدونم از فلان ساعت تا فلان ساعت بایستی کار کنم، پس میتونم برای باقی زمانم که به زندگی شخصیم مرتبط میشه، تصمیم بگیرم.»</p>	<p>برنامت برای زندگیت بعد از اینکه بری سر کار چیه؟</p> <p>چطور می‌خوای تعادل بین زندگی شخصی و زندگی کاریت ایجاد کنی؟</p>	<p>زندگی شخصی و زندگی کاری</p>

پاسخ‌ها / استواری‌ها	سؤالات مصاحبه	مقوله‌ها
<p>معمولاً در جامعه فعلی چنین حالت‌هایی برای آقایان وجود دارد: "میریم خواستگاری، میگن کار نداری، دخترمون رو به شما نمیدیم" و "میریم کار بگیریم، میگن اولویت با متأهل‌هاست".</p> <p>از طرفی دیگر، چنین حالت‌هایی برای خانم‌ها وجود دارد: "آقای که شرایط مناسبی که میخوام رو داشته باشه، هنوز پیدا نکردم" و "شرایطی که بایستی مناسب ازدواج باشه رو پیدا نکردم".</p> <p>در هر صورت، این یک موضوع شخصی می‌باشد و بایستی به این موضوع شخصی، خودتان با توجه به شرایط پاسخگو باشید.</p>	<p>چرا ازدواج نکردی؟</p>	<p>دلایل ازدواج نکردن</p>
<p>مصاحبه‌شوندگان عزیز، توجه فرمایید که هر پاسخی در این خصوص سؤالات بدهید، سؤال بعدی این خواهد بود: "درموردش توضیح بده". پس با صداقت کامل به سؤالات پاسخ دهید. سعی کنید از کتاب‌هایی نام ببرید که بار معنایی منفی نداشته باشد؛ کتاب‌هایی باشد که به رشد انسان کمک کند و یا مرتبط با رشته تحصیلی‌تان باشد.</p>	<p>چه کتاب‌هایی رو مطالعه می‌کنی؟</p>	<p>مطالعات</p>

پاسخ‌ها / استراتژی‌ها	سوالات مصاحبه	مقوله‌ها
<p>یکی از حیاتی‌ترین و مهم‌ترین بخش در مصاحبه‌های استخدامی، توجه ویژه مصاحبه‌کننده به زبان بدن، شیوایی و قدرت بیان و مهارت‌های ارتباطی شخص مصاحبه‌شونده است. در اکثر موارد، یک شخص مستقل که در تیم مصاحبه‌کننده قرار می‌گیرد، تمامی حرکات شما را مشاهده می‌کند، بدون اینکه از شما سؤالی بپرسد. او به نحوه سخن گفتن شما، قدرت بیان شما، زبان بدن شما و همه مواردی که نشان از اعتماد به نفس و طرز برخورد شماست، توجه می‌کند و آنها را ثبت می‌کند. هر چند اینکار توسط دیگر اعضای مصاحبه‌کننده نیز صورت می‌پذیرد، اما به صورت تخصصی این فرد وظیفه اینکار را بر عهده خواهد داشت.</p>	-	<p>زبان بدن، شیوایی و قدرت بیان و مهارت‌های ارتباطی</p>



پاسخ‌ها / استراتژی‌ها	سؤالات مصاحبه	مقوله‌ها
<p>این سؤال می‌تواند با دو هدف متفاوت انجام شود. ممکن است هدف این باشد که مصاحبه‌کننده بسنجد که آیا شما تمایل به هدایت دیگران دارید و یا خیر، تمایل به شنیدن دیگران و هدف دوم ممکن است این باشد که آیا شما انسانی صمیمی و برونگرا هستید و یا انسانی درونگرا. به نظر می‌رسد پاسخ به این سؤال بایستی متعادل باشد. یعنی طوری پاسخ دهید که بستگی به جمع‌تان داشته باشد. یعنی اگر جمع از دوستان بسیار صمیمی‌تان باشد و شرایط طوری محیا باشد که بتوانید صحبتی ارائه دهید، می‌گویید تمایل به سخنرانی در این جمع منطقی به نظر می‌رسد. اما در جمعی دیگر، ممکن است این حالت منطقی به نظر نرسد.</p>	<p>دوست داری وقتی وارد جمعی شدی، برای جمع سخنرانی کنی؟</p>	<p>سخنرانی برای دیگران</p>

پاسخ‌ها / استراژی‌ها	سؤالات مصاحبه	مقوله‌ها
<p>آغاز یک سخنرانی بستگی دارد در چه جمعی باشد. اگر مجموعه، دوستانه است، ابتدا با «بسم الله الرحمن الرحيم» و یک مقدمه خلاصه و مختصر شروع می‌شود.</p> <p>اگر مجموعه، اساتید دانشگاهی است و برای ارائه کلاسی، پایان نامه، کنفرانس علمی، کارگاه آموزشی و همایش‌ها باشد؛ ابتدا با «بسم الله الرحمن الرحيم» و سپس «سلام» و عرض ادب خدمت... شروع و در ادامه از عنوان بحث و بیان مسئله یاد می‌شود.</p> <p>پس بایستی از مصاحبه‌کننده پرسید که آن مجموعه‌ای که می‌خواهیم برایشان سخنرانی کنیم، اهمیت دارد و بستگی دارد که آن مجموعه را چه کسانی تشکیل داده باشند.</p>	<p>اگره بخوای سخنرانی کنی، سخنرانی رو چطور شروع می‌کنی؟</p>	
<p>دقت کنید که این سؤال برای این پرسیده می‌شود که پی ببرند شخص در چه رده‌ای از تحمل و سختی قرار گرفته است؟ آیا فرد از تعادل روانی برخوردار است یا خیر؟ آیا شخصی که محدودیتی در زندگی نداشته است، می‌تواند و کشش این را دارد که مدیریت آن را در محدودیت و مشقت قرار دهد یا خیر؟ و امثال این مفاهیم که نیاز به تشریح نخواهد داشت.</p>	<p>توی زندگی توی تنگنا قرار گرفتی؟ چه محدودیت‌هایی؟ همیشه چندان‌تاشو بگی؟</p>	<p>محدودیت‌های زندگی</p>

پاسخ‌ها / استراژی‌ها	سؤالات مصاحبه	مقوله‌ها
<p>پاسخ به این سؤال با عنوان «بستگی دارد» شروع می‌شود. "بستگی داره که طرف کی باشه". بایستی پاسخ شما منطقی باشد. اینکه بگویید "بله" و یا "خیر"، پاسخ صحیحی نمی‌باشد. چون نه می‌شود به همه اعتماد کرد و نه می‌شود به کسی اعتماد نکرد.</p>	<p>میتونی به دیگران اعتماد کنی؟</p>	<p>اعتماد به دیگران</p>
<p>بهترین پاسخ به این دست از سؤالات، پاسخ‌های خنثی است. پاسخ‌هایی که در جهت تقویت رابطه با همکار به کار می‌رود. مثلاً:</p> <p>«ببینید، هیچوقت نمیشه که آدم به لحظه فکر نکنه توی جامعه انسانی داره زندگی میکنه. همونطور که خودش به موقع‌هایی شاده، به موقع‌هایی غمگین، به موقع‌هایی عصبانی و به موقع‌هایی هم خوشحال، اینها برای همه جوامع انسانی اتفاق میفته.</p> <p>پس، اگه به روزی با همکارم مشکل پیدا کنم، نباید همکارم رو به دیو ببینم و خودمو به انسان. من معمولاً از اینکه با یکی مشکل داشته باشم و حل نکنم مشکل رو ناراحت میشم. سعی میکنم به به طریقی باهاش صحبت کنم و حتماً صداقت خودم رو توی این مسئله که «من اومدم تا مشکل رو حل کنم»، به همکارم نشون بدم».</p>	<p>اگه با همکارت مشکل پیدا کنی، چیکار می‌کنی؟</p>	<p>برخورد با همکاران</p>

پاسخ‌ها / استراژی‌ها	سؤالات مصاحبه	مقوله‌ها
<p>این سؤال با هدف «خودآگاهی» اشخاص پرسیده می‌شود؛ به عبارتی، مصاحبه‌کننده این مورد را می‌سنجد که آیا شخص از تعاریفی که در مورد نقاط ضعف، نقاط قوت، کنترل رفتارهای خود و ... می‌کند، آگاهی ارادی دارد و یا خیر. این سؤال را بایستی در راستای تعاریفی که از خود ارائه می‌دهید، مانند تعاریفی در خصوص نقاط ضعف و نقاط قوت و امثال اینها، پاسخ دهید تا در پاسخ‌های شما تناقضی یافت نشود.</p>	<p>خودت فکر میکنی چطور شخصیتی داری؟</p>	
<p>این سؤال، یکی دیگر از انواع سؤالات شخصیت‌پردازی می‌باشد. تشریح شخصیت یک کارمند خوب از زبان شما، تقریباً نماینده شخصیت شما در دوران کارمندیست؛ به غیر از اینکه با عدم صداقت مصاحبه را جلو ببرید که در این صورت، روانشناس متوجه این عدم صداقت خواهد شد.</p> <p>بنابراین، سعی کنید با صداقت کامل، آنچه در مورد یک کارمند خوب می‌دانید و آن شاخص‌ها را رعایت خواهید کرد، ذکر کنید و نه شاخص‌های آرمانی دست‌نیافتنی.</p>	<p>شرایط یک کارمند خوب چیه؟</p>	<p>شخصیت‌پردازی</p>

پاسخ‌ها / استراتژی‌ها	سؤالات مصاحبه	مقوله‌ها
<p>این دست از سؤالات به مفاهیمی می‌پردازد که به این سؤال پاسخ می‌دهد: شخص چقدر نسبت به مسائل حساس است؟ و همچنین اینکه فرد تا چه حد کشش حل مسائل را دارد؟</p> <p>یادتان باشد، با صداقت صحبت کنید. ممکن است شما واقعاً کشش حل مسائل آن شغل را نداشته باشید و صرفاً تمام تلاش خود را در جهت کسب آن شغل انجام دهید؛ اما یادتان باشد، اگر از حساسیت بسیار بالا برخوردارید، بهتر است قبل از مصاحبه از طریق مشاوره‌های تخصصی این مسائل را با خود حل کنید؛ چرا که محیط‌های کاری جایگاه خوبی برای آزمون و خطا نیستند.</p>	<p>چه معضلات مهمی توی زندگیت میبینی؟ باهاتش چطور برخورد میکنی (حل مسئله)؟ آیا جامعه ما دارای معضلات مهمی هست؟ چندتااش رو مثال بزن</p>	<p>معضلات</p>
<ol style="list-style-type: none"> <li>۱. کلید اول را کاری نداریم.</li> <li>۲. کلید دوم و سوم را روشن میکنیم.</li> <li>۳. ۵ دقیقه صبر می‌کنیم که لامپها گرم شوند.</li> <li>۴. حال کلید دوم را خاموش می‌کنیم.</li> <li>۵. بلافاصله به اتاق بعدی می‌رویم.</li> <li>۶. آن لامپی که روشن است، کلید سوم به آن مربوط است. آن لامپی که خاموش است و گرم است، کلید دوم مربوط به آن است. آن لامپی که خاموش است و سرد است، کلید اول مربوط به آن است.</li> </ol>	<p>سه تا کلید توی به اتاق داریم و سه تا لامپ توی اتاق دیگه‌ای داریم، بین این دو اتاق دیوار هست و فقط یکبار میشه توی هر کدوم از این دو اتاق حضور داشت، چطور بفهمیم که کلیدها مال کدوم لامپ‌ها هستن؟</p>	<p>تست هوش</p>

پاسخ‌ها / استراژی‌ها	سؤالات مصاحبه	مقوله‌ها
<p>سعی کنید از جملات کلیشه‌ای برای پاسخ به این سؤال استفاده نکنید. چرا که پاسخ فانتزی و کلیشه‌ای به این سؤال موجب می‌شود که شخص مصاحبه‌کننده به این فکر کند که شما در مورد سؤال او هیچ نظر واحدی ندارید و ممکن است اگر بعدها از شما همین سؤال پرسیده شود، پاسخ متفاوتی دهید؛ چرا که نمی‌شود انسان هدفی داشته باشد و در آینده هدف جدیدی اتخاذ کند که با هدف قبلی در تناقض و یا حداقل متفاوت است و این دمدمی مزاج بودن شخص مصاحبه‌شونده را خواهد رساند.</p> <p>بنابراین، تیم آموزشی ای‌استخدام در این مورد نمی‌تواند پاسخی دهد. به این دلیل که هدف زندگی شما، بایستی از قبل توسط خود شما مشخص شود.</p>	<p>مهمترین هدف توی زندگی رومی شود بهمون بگی؟</p>	<p>هدف زندگی</p>
<p>در راستای پاسخ دادن به این سؤال، بایستی دقیق باشید. نه برنامه آرمانی‌ای بگویید که شخص مصاحبه‌کننده به عدم صداقت برسد و نه برنامه کاملاً تنبل‌گونه‌ای بگویید که مصاحبه‌کننده شما را بی‌برنامه بخواند. هر روز زندگی انسان ممکن است با روزهای دیگر متفاوت باشد. بنابراین، برنامه‌ای را مد نظرتان قرار دهید که بیشترین تکرار را در زندگی با آن برنامه داشته‌اید و مربوط به اواخر باشد.</p>	<p>برنامه به روز از زندگی همیشه بگی؟</p>	<p>برنامه‌ریزی روزانه</p>

مقوله‌ها	سؤالات مصاحبه	پاسخ‌ها / استراتژی‌ها
برنامه آینده	چه برنامه‌ای برای دو سال آینده داری؟ اصلاً برنامه داری؟	سعی کنید این سؤال را با دقت پاسخ دهید، طوری که مصاحبه‌کننده فکر نکند شما به جزئیات برنامه توجه ندارید و صرفاً همان لحظه برنامه ریخته‌اید تا پاسخ مصاحبه‌کننده را بدهید. پاسخ بایستی به گونه‌ای باشد که مصاحبه‌کننده به عمق برنامه شما پی برده و آن را شدنی بداند.
نگاه به زندگی	دنیا توی دیدگاه شما چطوریه؟	این سؤال با این منظور پرسیده می‌شود که «امید شخص به زندگی» سنجیده شود. "دنیای پویا"، "دنیای سبز"، "دنیای تاریک"، "دنیای عجیب و مرموز"، "دنیای بی ارزش"، "دنیای باارزش"، "دنیای محدود"، "دنیای بی انتها" و ... از مضامین پاسخ‌دهی مصاحبه‌شوندگان می‌باشد. بنابراین، مصاحبه‌شوندگان بایستی مشخص کنند که دنیا از منظر آنها چگونه است.
پست‌های جایگزین	اگه به پست بالاتر توی یکجای دور بهت پیشنهاد شود، چیکار میکنی؟	پاسخ شما به این سؤالات بایستی طوری باشد که نشان دهد شما به «وضعیت موجود» راضی هستید. مثلاً: «همیشه به این فکر میکنم که انتخاب بهتری هم بایستی وجود داشته باشه برام، ولی هر وقت آدم بخواد بخاطر یه انتخاب بهتر هی کار و زندگی خودش رو عقب بندازه، فکر نمیکنم بصرفه. شاید پستش بالاتر باشد، ولی ترجیح من اینه که وقتی این سازمان رو با این شرایط انتخاب کردم، دیگه روی انتخابم بمونم و ثبات تصمیم خودم رو حفظ کنم».

پاسخ‌ها / استراژی‌ها	سؤالات مصاحبه	مقوله‌ها
<p>یکی از سؤالاتی که در مورد آستانه شما پیرامون دلایل ترک خدمت پرسیده می‌شود، همین سؤال است. مصاحبه‌کننده خواستار درک این مسئله است که آیا شما برای هر دلیل کوچکی حاضر به ترک خدمت هستید یا خیر.</p> <p>پاسخ معمول به این سؤال می‌تواند شامل این جمله باشد:</p> <p>"زمانی ترک خدمت می‌کنم که موندنم باعث بشه تمام هزینه‌هایی که برام به وجود میاد خیلی بیشتر از فایده‌هایی باشه که به دست میارم. این هزینه‌ها میتونه مادی باشه و یا جانی؛ در هر صورت تفاوت منفی بین هزینه‌ها و فایده‌ها اگه بیش از حد باشه و نشه تحملش کرد، هر عقل سلیمی می‌گه که بایستی ترک خدمت کرد؛ اما اگه این تفاوت زیاد نباشه و مقطعی باشه، خب چه عیبی داره، میشه تحملش کرد!"</p>	<p>در چه صورت کارت که الان قبول شدی رو ول میکنی و میری؟</p>	<p>دلایل ترک خدمت</p>
<p>شاید برای روانشناس‌ها، روانشناسی رنگ یکی از ابزارهای سنجش در بخش روانشناسی تلقی گردد. البته این ابزار، ابزار مناسبی جهت سنجش یک انسان نیست.</p> <p>اگر نسبت به رنگی گرایش انتخاب ندارید، سعی کنید در وبگاه‌های مربوطه به دنبال مطلب در مورد روانشناسی رنگ‌ها باشید و رنگی را انتخاب کنید که از دید مصاحبه‌کننده خنثی باشد.</p>	<p>رنگ مورد علاقت چیه؟</p>	<p>علاقه</p>



پاسخ ها / استراژی ها	سؤالات مصاحبه	مقوله ها
<p>به نظر می‌رسد پاسخ باستی بین پنجشنبه، جمعه و یا شنبه گردش کند.</p> <p>البته شنبه، به دلیل پویایی بیشتر مردم و عدم خاموشی جامعه می‌تواند پاسخ مناسبی باشد.</p>	<p>چه روزی یا روزهایی از هفته رو بیشتر دوست داری؟ برای چی؟</p>	
<p>یکی از اهداف این سؤال پی بردن به این موضوع است که آیا شخص به صورت حرفه‌ای ورزشی را پیگیری می‌کند و یا هیچ برنامه‌ای برای ورزش کردن ندارد. مثلاً "گهگاهی میرم پیاده‌روی"، مثلاً "بعضی اوقات شطرنج بازی میکنم" و یا "هر وقت حالش رو داشتم میرم فوتبال". این دست از پاسخ‌ها نشان از عدم پیگیری به صورت حرفه‌ای، پیرامون ورزش کردن می‌باشد.</p>	<p>ورزش مورد علاقت چیه؟</p>	
<p>این سؤالات اساساً به صورت مستقیم، نمره خاصی ندارد، اما در جهت تکمیل پرونده شما توسط روانشناس و اثرگذاری بر نمرات مصاحبه‌کنندگان دیگر، تأثیر دارد.</p>	<p>معدل دیپلمت؟ اسم معلم کلاس سوم ابتدائیت؟ چند سالش بود؟ الان چند سالشه؟</p>	
<p>این سؤال نیز مشابه سؤال قبلی، به منظور پی بردن به میزان توجه شما به جزئیات می‌باشد. نظر ای‌استخدام این است که وقتی وارد هر اتاقی می‌شوید، تعداد افراد داخل اتاق را مورد شمارش قرار دهید؛ حتی اینکه چند نفر مرد و چند نفر زن داخل اتاق هستند. حتی تعداد مصاحبه‌شوندگان را نیز سرشماری کنید.</p>	<p>افراد داخل اتاق رو نمیخواد بشماری، همینطوری بگو چند نفریم؟</p>	<p>تمرکز حواس</p>

پاسخ‌ها / استراژی‌ها	سؤالات مصاحبه	مقوله‌ها
<p>مانند دو سؤال قبلی، این سؤال نیز به منظور تمرکز حواس شما و توجه به جزئیات ریز پرسیده می‌شود. سعی کنید قبل از ورود به سازمان مورد نظر، تابلوی ورودی سازمان را مطالعه کنید و بخاطر بسپارید و همچنین به راهروها و رنگ درها و ... توجه کنید. تعداد پله‌هایی که وارد مکان مورد نظر شده‌اید را نیز بشمارید.</p>	<p>سر در ورودی سازمان چی نوشته شده؟ رنگ در ورودی چی بود؟</p>	
<p>این سؤال با این هدف پرسیده می‌شود که مصاحبه‌کننده بداند شما از چه سطح اعتماد به نفسی در انجام کارهای خود برخوردارید؟ شما نبایستی حال فعلی خود را در نظر بگیرید. همیشه به این فکر کنید که وقتی یک کار را یاد گرفتید، آیا قابلیت این را دارید که آن کار را به درستی انجام دهید و یا خیر. پس جوابتان برای زمانی باشد که شما آن کار را فراگرفته و قصد انجام آن کار را به صورت جدی دارید؛ با این وجود پاسخ دقیق خود را ابراز کنید و سعی کنید با اعتماد به نفس مطلوب جواب بدهید و شکسته شکسته صحبت نکنید.</p>	<p>کاری که بهت داده شده، چقدر به خودت اعتماد داری که انجامش بدی؟</p>	<p>اطمینان به توانایی‌ها</p>

پاسخ‌ها / استراژی‌ها	سؤالات مصاحبه	مقوله‌ها
<p>پاسخ به این سؤال نیز با جمله «بستگی دارد» آغاز می‌شود. چرا که بستگی به جنس کار دارد. اگر جنس کار بطلبد که گروهی بایستی انجام شود، می‌گوییم تمایل به انجام کار گروهی بیشتر است و اگر جنس کار می‌طلبد که کار را با شیوه انفرادی انجام دهید، می‌گوییم تمایل ما به انجام انفرادی این کار بیشتر از انجام گروهی آن است.</p>	<p>کار گروهی بیشتر دوست داری و یا کار فردی؟</p>	<p>شیوه انجام کار (گروهی و یا فردی)</p>
<p>آینده شغلی را بایستی بر طبق «مسیر شغلی» ترسیم کنید. شما با اطلاع داشتن در مورد مسیر شغلی، می‌توانید به این سؤال پاسخ دهید که تا رسیدن با انتهای این مسیر، چند سطح بایستی طی کنید و برای هر سطح چند سال زمان می‌برد. پاسخ این سؤال را می‌توانید با کمک گرفتن از اشخاص درون سازمانی بیابید. سؤال شما از آن اشخاص بایستی پیرامون این سؤال باشد: "برای شغل ... چه مسیر شغلی‌ای وجود دارد و اینکه چقدر طول میکشد به آخر این مسیر شغلی برسیم؟ و برای هر رده شغلی، چند سال زمان نیاز؟"</p>	<p>آینده شغلیت رو چطور میبینی؟</p>	<p>آینده شغلی</p>

پاسخ‌ها / استراتژی‌ها	سؤالات مصاحبه	مقوله‌ها
<p>این سؤال از گونه سؤالاتی می‌باشد که با دو هدف انجام می‌شود که برای هر هدف، یک برخورد وجود دارد.</p> <p>هدف اول: مصاحبه‌کننده خواستار این است که بداند آیا نقطه ضعف شما باعث ایجاد مسئله حاد در سازمان خواهد نمود یا خیر.</p> <p>مثال‌های زیر نمونه‌ای از نقطه ضعف حاد می‌باشد:</p> <p>«یکی بهم فحش بده، زود از کوره در میرم»  «خیلی زود ناراحت میشم» «یکی بهم بگه بالا چشات ابروئه، عصبی میشم و نمیتونم درست فکر کنم» و از این قبیل.</p> <p>نمونه‌های زیر مثال‌هایی از نقطه ضعف‌های موثر است:</p> <p>«من توی کارم خیلی وسواس دارم» «همیشه فکر میکنم این منم که بایستی کارم رو انجام بدم و کسی بهتر از من نمیتونه این کار رو انجام بده» «آرامانی فکر میکنم، دوست دارم همه چی سر جاش باشد و همه کارا درست جلو بره»</p> <p>هدف دوم: مصاحبه‌کننده پس از شنیدن نقطه ضعف شما، خود او و یا یکی از اعضای تیم او به شما می‌خندد و خنده‌های او حالت روانی خاصی را به شما القا می‌کند که شما ممکن است ناراحت شوید. اما در این لحظه بدانید که او آستانه تحمل شما را می‌سنجد و با گم کردن خود، ممکن است مصاحبه‌تان با شکست مواجه شود.</p>	<p>نقطه ضعف چیست؟</p>	<p>نقاط قوت و ضعف</p>

پاسخ‌ها / استراژی‌ها	سؤالات مصاحبه	مقوله‌ها
<p>این سؤال با این هدف پرسیده می‌شود که میزان اعتماد به نفس شما سنجیده شود. آیا اعتماد به نفس تان کاذب می‌باشد و یا خیر، اعتماد به نفس تان حقیقی است. در صورتی که اعتماد به نفس کاذب داشته باشید، مصاحبه‌کننده به خیال خود فکر می‌کند که شما کارمندی فرافکن خواهید شد و چیزهایی را به دیگران نسبت می‌دهید که باعث کوچک شدن دیگران و چیزهایی را به خود نسبت می‌دهید که نشان دهد شما بهتر هستید.</p>	<p>نقطه قوت چیست؟</p>	

## ۳. دانش کامپیوتر و ICDL

پاسخها / استراتژیها	سؤالات مصاحبه	مقولهها
کامپیوتر مجموعه‌ای از نرم افزار و سخت افزار است که سه عمل را انجام می‌دهد. ابتدا از طریق وسایل ورودی، داده‌ها را دریافت می‌کند؛ سپس از طریق فرایند پردازش، داده‌ها را پردازش می‌کند و اطلاعات را به وسایل خروجی انتقال می‌دهد تا کاربر آن را مشاهده کند.	کامپیوتر رو تعریف کن	
نرم افزار مجموعه‌ای از دستورالعمل‌هایی می‌باشد که موجب کار کردن و عمل کردن سخت افزارها می‌شوند. مثل نرم افزار ورد	نرم افزار رو تعریف کن	
به ساختمان الکترونیکی، مدارات، اجزای داخلی کامپیوتر و به طور کلی قسمت فیزیکی کامپیوتر، سخت افزار می‌گویند. مثل ماوس، کیبورد	سخت افزار رو تعریف کن	تعاریف متداول
سیستم عامل نرم‌افزاری است که به وسیله آن کاربر می‌تواند دستورات و فرامین خود را به کامپیوتر انتقال دهد. اولین سیستم عامل DOS است.	سیستم عامل رو تعریف کن	
این کلمه مخفف فارسی کلمات: گواهینامه بین‌المللی کاربری رایانه و مخفف انگلیسی کلمات: International Computer Driving License است.	مخفف کلمه ICDL	

پاسخ‌ها / استراژی‌ها	سؤالات مصاحبه	مقوله‌ها
مادر برد، پردازنده سی پی یو، حافظه رم و رام که رم موقت است و رام دائمی، هارد دیسک، کارت گرافیک، کارت صدا، کارت مودم، سی دی درایو و یا دی وی دی درایو، فلاپی درایو، بلندگو، کیس، مانیتور، ماوس، کیبورد. سعی کنید کار همه این اجزا را بدانید و حداقل تعریفی از آنها در ذهن داشته باشید.	اجزای کامپیوتر چیا هستن؟	اجزای کامپیوتر
سعی کنید وارد ایمیل تان شوید و با قسمت‌های مختلف ایمیل به صورت عملی آشنا شوید و یا قسمت‌هایی که نمی‌توان به صورت عملی آموخت، مثل کار پوشه Spam، بهتر است وارد گوگل شوید و در مورد آن مطالعه کنید.	کار Trash؟ کار Forward؟ کار Reply؟ و ...	کار با ایمیل
Microsoft Edge Google Chrome Mozilla Firefox Internet Explorer Netscape Opera	چند تا از مرورگرها رو نام ببر	پرش‌های متداول <sup>۸</sup>
به سیر تکاملی یک نرم‌افزار نسخه و یا همان ورژن گویند.	منظور از ورژن چیه؟	
از طریق برگه Layout می‌توان صفحه ورد را تنظیم نمود.	تنظیمات صفحه ورد چطور اعمال میشه؟	
DOS Microsoft Windows OS Linux OS Mc OS	چند تا از سیستم عامل‌های مطرح رو نام ببر	

<sup>۸</sup> جهت ارتقای اطلاعات، از کتاب دو جلدی ICIDL، مهندس مجید سبزه‌علی گلی و مهندس سید علی موسوی، انتشارات صفار استفاده کنید.

مقوله‌ها	سؤالات مصاحبه	پاسخ‌ها / استراژی‌ها
	مهمترین کارت با کامپیوتر چی بوده؟	سعی کنید فکر کنید و یک کار فنی مهم با کامپیوتر را ذکر کنید. این پاسخ می‌تواند امتیاز خوبی برای شما داشته باشد.
	کار آفیس چیه؟	کار Word (واژه پرداز): نوشتن متون مورد نظر جهت چاپ و یا ساختن نسخه الکترونیک فایل‌های خواندنی. کار PowerPoint (ارایه مطالب): ساختن فایل‌هایی جهت ارائه‌های پروژه و یا ارائه‌های علمی و همچنین ارائه‌های سازمانی. کار Excel (صفحه گسترده): انجام عملیات حسابداری، مالی و ریاضیاتی و تهیه گزارش‌های مربوط به آنها. کار Access (پایگاه داده): تهیه پروفایل‌های سازمانی و یا غیر سازمانی و همچنین تهیه پایگاه داده.
	چطور اسلاید می‌سازن؟	از برگه Insert، گزینه New Slide را انتخاب می‌کنیم.
	چطور میشه جدول کشید و یا تصویری رو وارد محیط ورد کرد؟	از برگه Insert و از گروه Tables میشه جدول رسم کرد و از گروه illustrations میشه تصاویر و یا اشکال آماده را وارد محیط ورد نمود.
	پسوند فایل‌های آفیس؟	Word: doc, docx PowerPoint: ppt, pptx Excel: xls,xlsx Access: accdb
	پسوند فایل الگوهای آفیس؟	Word: dot Powerpoint: pot Excel: xlt Access: accdt



پاسخ ها / استراژی ها	سؤالات مصاحبه	مقوله ها
Ink	پسونده قابل Shortcut	
حتماً فرمول‌های رایج اکسل را یاد بگیرید. فرمول Sum برای چیست، فرمول If برای چیست. این سؤالات را از خودتان پرسید و به آن پاسخ دهید.	فرمول‌های اکسل	
از برگه Home و گروه Clipboard گزینه Format Painter را بر می‌گزینیم.	توی ورد آگه بخوای قالب به کلمه روی کلمه دیگه ای کپی کنی، چیکار میکنی؟	
روی کلمه‌ای که زیرش خط قرمز یا آبی کشیده شده است، راست کلیک می‌کنیم و گزینه جایگزین درست را انتخاب می‌کنیم و یا در قسمت نوار وضعیت ورد، بر شکل کتاب کلیک می‌کنیم تا غلط‌ها را بباید.	نحوه غلط‌گیری املایی ورد چگونه؟	
حتماً در مورد حافظه‌های Rom, Ram و حافظه‌های هارد دیسک‌ها و حافظه‌های فلاپی و دیسک‌های فشرده تحقیق کنید و فرق بین Ram و Rom را بدانید. در مورد حافظه Cache و حافظه‌های موجود در CPU نیز اطلاعات کسب کنید.	انواع حافظه	
بیت، بایت، کیلوبایت که هر ۱۰۰۰ بایت یک کیلو است، مگابایت که هر ۱۰۰۰ کیلو، یک مگابایت است، گیگابایت که هر ۱۰۰۰ مگابایت یک گیگابایت است. ترابایت که هر هزار گیگابایت یک ترابایت است.	واحد‌های ذخیره اطلاعات	
$1T = 10^3 G = 10^6 M = 10^{12} K = 10^{24} \text{ Byte}$		

پاسخ‌ها / استراژی‌ها	سؤالات مصاحبه	مقوله‌ها
<p>حتماً کلیدهای میانبر مهم کامپیوتر را یاد بگیرید. برای سهولت یادگیری شما، در قسمت ضمیمه، در بخش انتهایی کامپیوتر و ICDDL، تمامی کلیدهای میانبر مورد نیاز ارائه شده است.</p>	-	<p><b>کلیدهای میانبر</b></p>
<p><b>تذکره:</b> به منظور تقویت بیشتر در بخش تئوریک کامپیوتر و ICDDL، از سؤالات بخش ضمایم نیز می‌توانید استفاده کنید.</p>		
<p>ممکن است بجای پرسش شفاهی، کامپیوتری در محیط مصاحبه تعبیه کرده باشند و از شما بخواهند که مواردی را جهت سنجش، انجام دهید.</p> <p>تایپ سریع متون، یکی از امتیازات مربوط به کار با کامپیوتر است. از طرفی دیگر، پیشنهاد می‌شود جهت آشنایی با کامپیوتر و تقویت مهارت‌های هفتگانه کامپیوتری، از کتاب دو جلدی (سطح یک و دو) ICDDL، به تألیف مهندس مجید سبزه‌علی‌گلی و مهندس سید علی موسوی، انتشارات صفار، استفاده کنید. سعی کنید همراه با مطالعه این کتاب، با کامپیوتر به صورت عملی کار کنید. در جهت تقویت مهارت‌ها، به جزئیات نپردازید.</p>	-	<p><b>کار با کامپیوتر</b></p>

## ۴. دانش مربوط به رشته و مدرک تحصیلی

پاسخ‌ها / استراتژی‌ها	سؤالات مصاحبه	مقوله‌ها
<p>در این بخش سؤالات بسیار کلی در مورد کتب‌های پایه‌ای رشته تحصیلی شما پرسیده می‌شود. مثلاً در مورد رشته مدیریت، تعریف کارایی و اثربخشی، تعریف برنامه‌ریزی، تعریف مدیریت، تعریف سازماندهی و امثال اینها که در طول تحصیل با آن آشنا شده‌اید. سعی کنید یک کتاب مبانی را به صورت خیلی کلی مطالعه کنید. مطالعه شما بایستی از تعاریف کلی باشد و نه مطالعه جزئی متون آن.</p>	-	پرسش از کتب دانشگاهی

پاسخ‌ها / استراژی‌ها	سؤالات مصاحبه	مقوله‌ها
<p>این بخش از مصاحبه ممکن است برای تمامی مصاحبه‌ها اعمال نشود؛ اما به منظور آمادگی در مورد زبان تخصصی، پیشنهاد می‌شود لغت‌های پاورقی کتاب‌های تخصصی‌تان را یکبار هم که شده، مرور کنید. پیشنهاد جایگزین می‌تواند نصب کردن نرم‌افزارهای زبان تخصصی بر گوشی‌های هوشمندتان باشد. سعی کنید برای لغات عمومی، از کتاب ۵۰۴ کمک بگیرید.</p> <p>لازم به ذکر است که در برخی موارد، از شما خواسته می‌شود به انگلیسی خودتان را معرفی کنید، اما نگران نباشید؛ سوالات این بخش بسیار ساده است و سعی کنید موارد زیر را از قبل تمرین کنید:</p> <ul style="list-style-type: none"> <li>✓ نام و نام خانوادگی</li> <li>✓ محل زندگی</li> <li>✓ مجرد و یا متأهل</li> <li>✓ سن: سعی کنید به سال میلادی نیز از سن خود آگاهی داشته باشید.</li> <li>✓ تعداد خواهر و برادر</li> <li>✓ مدرک تحصیلی: سعی کنید از محل تحصیلات خود، از اول ابتدایی تا آخرین مدرک تحصیلی آگاه باشید و همچنین از رشته‌ها و گرایش‌های تحصیلی‌تان.</li> <li>✓ رنگ مورد علاقه شما</li> </ul>	<p>این متن رو بخون و ترجمه کن</p>	<p>زبان عمومی و تخصصی</p>

## ۵. مهارت و دانش شغلی تخصصی متناسب با نوع شغل

مقوله‌ها	سؤالات مصاحبه	پاسخ‌ها / استراتژی‌ها
دلیل و انگیزه انتخاب شغل مورد نظر	از رشته شغلیت بگو، چرا این شغل رو انتخاب کردی؟	در اینگونه سؤالات شما بایستی طوری به آن پاسخ دهید که نشان از گرایش شما به شغل مربوطه باشد و نبایستی جوابتان اینگونه باشد که «آره، شغل نیست توی جامعه، دیگه دیدیم استخدامی گذاشتن، اومدیم». این نوع جواب دادن، منجر به این می‌شود که مصاحبه‌کننده در ذهن خود خیال کند که شما اگر شغل دیگری برایتان محیاء باشد، از شغلی که اکنون در آن قبول شده‌اید دست خواهید کشید.
لزوم وجود شغل	آیا این شغل نیازه؟ چه نیازی به این شغل داریم؟	این سؤال به منظور تعیین جایگاه شغلی به کار می‌رود. مصاحبه‌شونده بایستی بداند که چه لزومی به وجود شغل او در سازمان دارد و در صورت عدم وجود این شغل چه مسائل و مشکلاتی به وجود خواهد آمد. برای پاسخ به این سؤال، شخص بایستی روی مبحث وظایف شغلی تسلط کافی، داشته باشد.

پاسخ‌ها / استراتژی‌ها	سؤالات مصاحبه	مقوله‌ها
<p>همواره برای موفقیت شغلی ابتدا بایستی «وضعیت موجود» را حفظ نمود و سپس به فکر «وضعیت مطلوب» بود. بنابراین، پاسخ شما: «اولین کاری که میکنم خودمو با سازمان و اهدافش هماهنگ میکنم و توی ریل سازمانی قرار میدم. قطعاً کار انجام دادن توی سازمان برام شرط نیست، چون کسی که میخواد موفق باشه بایستی کاراش رو اول به موقع و بعدش با کیفیت بالا انجام بده. پس وقتی با سازمان منطبق شدم، حالا سعی میکنم توی کارم مهارت بیشتری کسب کنم و موفقیت غیر از ماهرانه عمل کردن نیست.»</p>	<p>برای موفقیت توی شغلت می‌خوای چیکار کنی؟</p>	<p>اقدامات موفقیت‌آمیز شغلی</p>
<p>معمولاً مصاحبه‌شوندگان، با حفظ کردن آنچه مطالعه نموده‌اند، به این دست از سؤالات پاسخ خواهند داد؛ اما بهتر است طوطی‌وار به سؤالات پاسخ ندهید. شما می‌توانید از قبل با اشخاصی که شغل شما را در سازمان ایفا می‌کنند، ارتباط برقرار کنید و از آنها بخواهید در حد چند دقیقه در مورد وظایف شغلیشان به شما پاسخ بدهند. این کار به این دلیل انجام می‌شود که وظایف شغلی با آنچه در تئوری خوانده می‌شود، تفاوت زیادی داشته و مصاحبه‌کننده بیشتر جذب واقعیات کاری می‌شود تا تئوری‌های آن. همچنین شما می‌توانید با رجوع به سازمان‌های مربوطه، از نزدیک با وظایف شغلی خود آشنا شوید.</p>	<p>شما توی این شغلی که قبول شدی میدونی باید چیکار کنی؟ انتظار داری توی این سمت شغلی چه کارهایی انجام بدی؟</p>	<p>وظایف شغلی</p>

پاسخ‌ها / استراتژی‌ها	سؤالات مصاحبه	مقوله‌ها
<p>نامه‌های اداری، دارای چارچوب‌های خاص خود می‌باشند. اما متداول‌ترین چارچوب آن به شرح زیر است:</p> <p>ابتدا در وسط و بالاترین قسمت نامه «بسمه تعالی» قرار می‌گیرد. در چپ و پایین تر از «بسمه تعالی»، ابتدا از تاریخ و سپس از پیوست دارد یا خیر یاد می‌شود. در سمت راست یک سطر پایین‌تر، با این جمله آغاز می‌شود «جناب / سرکار خانم ...، لقب فرد»؛ و یک سطر پایین‌تر زیر سطر قبلی نوشته می‌شود: با سلام و احترام. سپس متن اصلی که بدنه اصلی نامه اداری می‌باشد نوشته شده و در یک سطر پایین‌تر از متن اصلی بهتر است از این جمله استفاده کرد: «پیشاپیش از حسن توجه شما صمیمانه سپاسگزارم (بم)».</p> <p>و در انتها در سمت چپ و سطر پایینی سطر قبلی، نوشته می‌شود: با احترام و یا با تشکر و زیر آن نام و نام خانوادگی نویسنده نامه نوشته شده و روی آن امضاء قید می‌شود.</p>	<p>به نامه اداری با هدف... بنویس</p>	<p>نامه اداری</p>

پاسخ‌ها / استراژی‌ها	سؤالات مصاحبه	مقوله‌ها
<p>یکی از بخش‌های مهم برای مصاحبه‌کنندگان، سؤالات مربوط به قوانین مربوط به شغل‌تان می‌باشد. این بخش امتیاز آفرین است اما بایستی توجه کنید که نیاز نیست متن قانون را واو به واو و جمله به جمله بخوانید و حفظ کنید. کافی است مواد قانونی پُر کاربرد و پُر استناد را کشف کرده و همان را مورد مطالعه قرار دهید.</p> <p>معمولاً از اصطلاحات تخصصی قانون سؤال پرسیده می‌شود. مثلاً در شغل کارشناس بیمه‌های تأمین اجتماعی، اصطلاح حق بیمه، اصطلاح از کار افتاده و ... مورد سؤال قرار می‌گیرد.</p> <p>یکی دیگر از موارد متداول، درصد‌های پُر کاربرد موجود در قانون است. مثلاً مالیات بر ارزش افزوده شیر، چند درصد است؟</p>	<p>سؤالات مربوط به مواد قانونی مرتبط با شغل</p>	<p>قانون</p>
<p>از آنجا که متن این قانون، با موارد مربوط به وظایف شغلی مرتبط می‌باشد و از درون این متن، سؤالات مرتبط با چگونگی انجام وظایف شغلی مطرح می‌گردد، لازم است مصاحبه‌شوندگان به صورت خیلی کلی و سطحی، متن این قانون را مطالعه نمایند. برای مثال، این سؤال که «آگه مافوقت به کار غیر قانونی بخواد، چیکار میکنی؟» از درون متن این قانون استخراج شده است و یا سؤالاتی از قبیل انواع مرخصی‌ها و یا انواع استخدام‌ها و ...</p>	<p>قانون مدیریت خدمات کشوری</p>	



پاسخ‌ها / استراتژی‌ها	سؤالات مصاحبه	مقوله‌ها
<p>ممکن است مصاحبه‌کنندگان از طریق پرسش در مورد "شماره ماده فلان چی میگه"، بخواهند بار روانی به شما وارد کنند و شما را با پاسخ ندادن و یا اشتباه پاسخ دادن، مورد فشار روانی و تحقیر کردن قرار دهند. این کار آنها به منظور تحقیر واقعی نیست؛ بلکه آنها قصد دارند تا تحمل شما را به عنوان یک زیر دست بسنجند؛ بنابراین، توصیه می‌گردد، بنا به شرایط، واکنش مثبت و منطقی نشان دهید.</p>	<p>اعمال فشار روانی از طریق پرسش با شماره مواد قانونی</p>	

## ۶. دانش لازم در مورد سازمان مورد نظر

مقوله‌ها	سؤالات مصاحبه	پاسخ‌ها / استراتیژی‌ها
دلیل انتخاب	چرا این سازمان رو انتخاب کردی؟	رجوع کنید به دلیل و انگیزه انتخاب شغل مورد نظر در محور مهارت و دانش شغلی تخصصی متناسب با نوع شغل
مدیریت	اگه مافوقت به کار غیرقانونی بخواد، چیکار میکنی؟	طبق ماده ۹۶ قانون مدیریت خدمات کشوری: «کارمندان دستگاه‌های اجرایی مکلف می‌باشند در حدود قوانین و مقررات، احکام و اوامر رؤسای مافوق خود را در امور اداری اطاعت نمایند، اگر کارمندان حکم یا امر مقام مافوق را برخلاف قوانین و مقررات اداری تشخیص دهند، مکلفند کتباً معایرت دستور را با قوانین و مقررات را به مقام مافوق اطلاع دهند. در صورتی که بعد از این اطلاع، مقام مافوق کتباً اجرای دستور خود را تأیید کرد، کارمندان مکلف به اجرای دستور صادره خواهند بود و از این حیث مسئولیتی متوجه کارمندان نخواهد بود و پاسخگویی با مقام دستوردهنده می‌باشد.»
اگه مدیریت بگه بایستی تا غروب ساعت ... بمونی، چیکار میکنی؟	معمولاً در پاسخ به این سؤال که «بله، می‌مونم»، سؤالات پشت سر همی نیز پرسیده می‌شود؛ اینکه "اگه بگه حقوقی در کار نیست"، "اگه بگه شاید تا ۱۰ روز اینطور بمونه اوضاع" و ... شما بایستی متناسب با پرسش‌های پشت سر هم، جواب قانع‌کننده‌ای هم داشته باشید. اگر بگویید، "خیر، در حوزه وظایف من نیست که بخوام ساعت کار اضافی بمونم"، این جواب نه تنها قانع‌کننده نیست، بلکه ممکن است برای مصاحبه‌کننده، استخدام شما، خطرناک تلقی شود.	

مقوله‌ها	سؤالات مصاحبه	پاسخ‌ها / استراتژی‌ها
	مدیریت می‌خواهد بنده ازت یه جای دور، میری کار میکنی؟	شما در پاسخ به این سؤالات، سعی کنید پاسخ مثبت دهید.
	انتظارت از مدیر چیه؟	بایستی این سؤال را طوری پاسخ دهید که فرد مصاحبه‌کننده به انتظاری منطقی پی ببرد و نه انتظاری دست و پا گیر. مثلاً بگویید "آگه نقدی بهم هست، انتظار دارم به خودم بگه؛ چه مثبت و چه منفی" و یا "انتظار دارم آگه دارم جایی از کار رو اشتباه انجام میدم، حتماً بهم تذکر بده و ندازه که همه اشتباهاتم جمع بشه و یهو همه رو یکجا بگه که نتونم به تک تک اشتباهاتم بیردازم".
	آگه روی یه پروژه نوی سازمان خیلی وقت صرف کنی و کارت با کیفیت از آب در بیاد و مدیریت بهت توجه نکنه، واکنشت چیه؟	در پاسخ به این سؤال، بایستی خیلی صادقانه بگویید: "خب ناراحت میشم" و در رابطه با واکنش خود می‌توانید طوری بگویید که منجر به اختلال در نظم سازمان نشود. مثلاً: "من ناراحت میشم واقعاً از اینکه کار رو با کیفیت بالا انجام بدم ولی هیچ باز خوردی دریافت نکنم؛ اما اینکه واکنشم چی میشه، دفعه بعدی سعی میکنم خودمو قانع کنم که نباس انتظار باز خورد مثبت از مدیریت داشته باشم؛ اینطور باعث آسودگی خاطر خودم میشه".
	اسم مدیریت سازمان چیه؟	سعی کنید قبل از ورود به مصاحبه، هم از نام مدیریت شعبه باخبر شوید و هم از نام مدیر کل سازمان در ستاد مرکزی.
تعریف سازمان	سازمان ... رو تعریف کن.	برای پاسخگویی به این سؤال، بایستی از قبل تعریف روشنی از سازمان مورد نظر خود در نظر داشته باشید.

پاسخ‌ها / استراتژی‌ها	سؤالات مصاحبه	مقوله‌ها
<p>این سؤال متداول اکثر سازمان‌هاست. اینکه چگونه با سازمان مربوطه آشنا شده‌اید. ای‌استخدام پیشنهاد می‌کند قبل از اینکه به مصاحبه بروید، حداقل دو بار به سازمان مربوط به شغل خود رجوع کنید و محیط سازمان را مشاهده کنید. از وظایف کاری خود، اطلاع کسب کنید. پاسخ درست به این سؤال، موجب کسب امتیاز خواهد شد.</p>	<p>نحوه آشنائیت با سازمان ... چطور بوده؟ در مورد سازمان ... شهرتون صحبت کن.</p>	<p>چگونگی آشنایی با سازمان</p>
<p>پاسخ مناسب به این سؤال:          "ببین، همیشه باستی در نظر داشت که هر چیز بهتری، ممکنه مناسب نباشه. همیشه انتخاب بهترین‌ها، بهترین انتخاب نیست؛ بنابراین، ممکنه اون جای بهتر، مناسب من نباشه. حالا اگه هم جای بهتر مناسبم باشه، من ترجیح میدم همین جا که هستم، باشم؛ چون که همیشه جای بهتر و مناسب‌تر ممکنه وجود داشته باشه و وقتی من وارد جای بهتری هم بشم، دوباره جای بهتر از اون و شاید مناسب‌تر از اون برام پیدا بشه؛ این عقلایی نیست که آدم بخواد توی زندگی کاریش ثابت نداشته باشه و هر روز دنبال به جای بهتر و مناسب‌تر باشه؛ پس تصمیمم ثباته و انتخابم رو انجام دادم"</p>	<p>اگه یه موقعیت بهتری برات جور بشه، چیکار میکنی؟</p>	<p>موقعیت جایگزین</p>

مقوله‌ها	سؤالات مصاحبه	پاسخ‌ها / استراتژی‌ها
آدرس سازمان	-	اگر سازمانی که از شما مصاحبه به عمل می‌آورد، دارای شعبات مختلف باشد، ممکن است مصاحبه‌کننده از شما در پیرامون اینکه "چند تا شعبه توی شهر ... وجود داره" و "آدرسشون کجاست" پرسش شود. بنابراین، در مورد آدرس‌های شعبات سازمان نیز تحقیق کنید تا بتوانید به این دست از سؤالات پاسخ دهید.
وظایف سازمان	وظیفه این سازمان چیه؟ چه کمکی به جامعه می‌کنه؟	برای پاسخ گویی به این دسته از سؤالات، پیشنهاد می‌شود وارد وبگاه سازمان مربوطه شوید و اطلاعاتی در مورد اهداف و ارزش‌های سازمانی آن کسب کنید. وظایف سازمان با توجه به اهداف سازمان مشخص می‌شود. یعنی همه وظایف سازمان، چه مستقیم و چه غیرمستقیم، در راستای اهداف آن سازمان است.
سازمان ناظر و سازمان‌های وابسته	این سازمان زیر نظر کدوم وزارتخونست؟	حتماً اطلاعاتی در مورد اینکه سازمان مورد نظر زیر نظر کدامیک از وزارت‌خانه‌های مربوطه می‌باشد و اینکه سازمان‌های وابسته به سازمان مورد نظران کدام هستند، کسب کنید. این اطلاعات در وبگاه سازمان و یا وبگاه وزارت‌خانه‌ها موجود می‌باشد.
درآمد سازمان	درآمد سازمان از کجا به دست می‌آد؟	قبل از اینکه وارد مصاحبه شوید، حتماً در مورد پاسخ این سؤال تحقیق کنید. بعضی از سازمان‌ها درآمدشان را از عموم مردم به دست می‌آورند و بعضی از سازمان‌ها درآمدشان از سازمان‌های دیگر حاصل می‌شود. بایستی با ساز و کار کسب درآمد سازمان نیز آشنا باشید.

پاسخ‌ها / استراتژی‌ها	سؤالات مصاحبه	مقوله‌ها
<p>حتماً در مورد اینکه سازمان چگونه بودجه به دست می‌آورد و چه سازمانی بودجه آن را تأمین می‌کند و یا بودجه سالانه سازمان به چه میزانی می‌باشد، اطلاعات کسب کنید.</p>	<p>بودجه سازمان از کجا می‌آید؟</p>	<p>بودجه سازمان</p>
<p>این سؤال با دو هدف پرسیده می‌شود. اولین هدف سد بودن شخص برای سازمان می‌باشد. معمولاً شخص پیشنهاد خود را ارائه می‌دهد و شخص مصاحبه‌کننده با پیشنهاد او مخالفت می‌کند؛ این مخالفت به منظور دریافت واکنش مصاحبه‌شونده است. اینکه آیا او پیشنهاد خود را تحمیل خواهد نمود و یا خیر، صرفاً پیشنهاد خود را ارائه می‌دهد و تحمیلی صورت نمی‌گیرد. از طرفی دیگر، هدف دوم به منظور میزان سلاست فکری مصاحبه‌شونده این سؤال پرسیده می‌شود. اینکه آیا شخص مصاحبه‌شونده دارای فکری متمرکز و آماده به منظور بهتر شدن سازمان دارد یا خیر.</p>	<p>آگه بخوای همین الان به پیشنهاد به سازمان ما بدی، چه پیشنهادی مد نظرته؟</p>	<p>پیشنهادات سازمانی</p>
<p>این سؤال به منظور پی بردن به سطح تحلیلی شماست. اینکه چقدر قدرت تحلیل دارید. آیا می‌توانید مشکلات پیرامون سازمان و یا حتی وظیفه شغلی خود را تحلیل کنید یا خیر. این مورد را بایستی از قبل از چندین شخص که در سازمان مربوطه هستند پرسید تا به یک اجماع کلی برسید. ممکن است ۱۰ نفر جواب مشترک و ۲ نفر نیز جواب غیر داشته باشند. جوابی که بیشترین فراوانی را دارد، جواب به اجماع رسیده شما خواهد بود.</p>	<p>عمده‌ترین مشکلی که سازمان ... دارد چیست؟</p>	<p>مشکلات سازمان</p>

پاسخ‌ها / استراتژی‌ها	سؤالات مصاحبه	مقوله‌ها
<p>جواب شما به این سؤال در سازمان‌های خصوصی با سازمان‌های دولتی متفاوت بوده و اثرگذاری پاسخ‌ها نیز متفاوت است.</p> <p>در سازمان‌های دولتی، شما هر پاسخی بدهید، در میزان حقوق دریافتی شما تفاوتی ایجاد نخواهد کرد. پس بهترین پاسخ به این سؤال برای مصاحبه‌های استخدامی دولتی، این است که بگویید: «معمولاً حدود حقوق و مزایا رو قوانین و مقررات سازمان مشخص می‌کند و من کاره‌ای نیستم که بگم حداقل حقوق چقدر باشه که راضی بشم».</p> <p>البته نیاز است که در مورد حقوق و مزایای تقریبی سازمان اطلاعاتی از قبل به دست آورید تا اگر مصاحبه‌کنندگان اصرار به دانستن داشتند، بتوانید یک عدد تقریبی را اعلام کنید.</p> <p>اما در سازمان‌های خصوصی در صورتی که میزان حقوق توافقی باشد، نیاز است که حتماً یک تحقیق اولیه در مورد شغل و وظایف شغلی انجام دهید تا حقوق و مزایای نسبتاً دقیق به دست آورده و در مورد همان حقوق و مزایا با کارفرما مذاکره کنید.</p>	<p>حداقل حقوقی که میخوای چقدره؟</p>	<p>توقع و انتظار از سازمان</p>
<p>بتر است شما به دید قانع بودن پاسخ دهید؛ اینکه "مهم نیست، مهم اینه که از اون ماه‌های بعدش حقوق دارم و میتونم براش برنامه‌ریزی کنم".</p>	<p>میدونی چند ماه اول اصلاً بهت حقوق نمیدن؟ واکنشت چیه؟</p>	

## ۷. کلیات عقاید

پاسخها / استراتی‌ها	سؤالات مصاحبه	مقوله‌ها
<p>در این بخش از مصاحبه تخصصی، صرفاً عقاید کلی مصاحبه‌شونده مورد سؤال قرار می‌گیرد و جزئیات عقاید مذهبی و سیاسی، در بخش گزینش سنجیده می‌شود.</p> <p>در این بخش، نیاز است که تاریخ مهمترین مناسبت‌های سال را بدانید. به منظور رفع این دغدغه، تیم آموزشی‌ای استخدام تمام مناسبت‌های مهم را در فصل انتهایی این کتاب، یعنی فصل هفتم، ارائه کرده است.</p> <p>همچنین لازم است دیدگاه خود را نسبت به مسائل پر بحث روز بیان کنید. مانند معضلات کشور چه در داخل کشور و چه در عرصه بین‌المللی.</p> <p>نام مسجدهای محل، کلیات نماز جماعت، کلیات رئسای سه قوا و وظایف آنها و وظایف رهبری، نام امام جمعه شهرستان و طریقه خواندن نماز جمعه، خواندن یک سوره.</p> <p>همچنین، در مورد شخصیت‌های مهم مذهبی اطلاع داشته باشید.</p> <p>نام سال و دلیل انتخاب نام سال را بدانید؛ یعنی امسال چه سالی است و چرا به این نام اسم‌گذاری شده است.</p> <p>البته تیم آموزشی‌ای استخدام پیشنهاد می‌کند به منظور کسب آمادگی بالا در این بخش، سعی کنید حتماً فصل هفتم که گزینش عقیدتی و سیاسی می‌باشد را به صورت کلی مطالعه کنید. چرا که این بخش همواره برای هر شخص می‌تواند متفاوت باشد.</p>	-	کلیات



پاسخ‌ها / استراژی‌ها	سؤالات مصاحبه	مقوله‌ها
<p>پاسخ:</p> <p>"درسته که روی نماز اول وقت خیلی تأکید شده، اما نخوندن نماز اول وقت، دلیل بر بی توجهی به خدا و یا سبک شمردن نماز نیست؛ بلکه خدمت به خلق، خودش خدمت به خداست و اینکه اگه نماز اول وقت خونده نشه، گناه نیست؛ اما من دارم حقوق می‌گیرم که کار مردم رو راه بندازم و نیازه که در راستای وظایفم کار مردم رو راه بندازم؛ البته کار مردمی رو توی این شرایط خاص راه میندازم که تا وسطای کارشون انجام شده و با چند تا مرحله دیگه تموم میشه کارشون، اونایی که کارشون اوله، اول میرم نماز رو میخونم و بعدش شروع میکنم به شروع کار ارباب رجوع. البته بستگی به کار ارباب رجوع هم داره و اینکه کارش خیلی مهمه یا نه؛ اگه ببینیم خیلی مهمه و بایستی خیلی سریع راه بیفته، اینکار رو براش انجام میدم."</p>	<p>اگه ارباب رجوع داشته باشی، اول نماز میخونی و یا اول کار ارباب رجوع رو راه میندازی؟</p>	<p>اولویت با ارباب رجوع یا نماز؟</p>

## ۸. فعالیت‌های پژوهشی، دوره‌های آموزشی و فعالیت‌های جانبی

مقوله‌ها	سؤالات مصاحبه	پاسخ‌ها / استراتژی‌ها
فعالیت‌های پژوهشی	-	<p>در این بخش، هرگونه پژوهش، پروژه، مقاله‌های علمی پژوهشی و یا علمی ترویجی (مروری)، پایان‌نامه و یا رساله تا به حال تدوین کرده‌اید، با خود به همراه ببرید.</p> <p>حتماً به مباحث موجود در پروژه‌ها، اینکه چه کارهایی در آن پروژه انجام داده‌اید، ناظر شما چه کسی بوده است، بودجه شما چگونه تامین شده است و ... و همچنین مباحث مربوط به مقالات و یا پایان‌نامه‌ها، تسلط کافی داشته باشید. کپی پذیرش مقاله و صورت جلسه پایان‌نامه را حتماً به همراه داشته باشید.</p>
دوره‌های آموزشی	-	<p>اگر دوره آموزشی‌ای شرکت کرده‌اید، چه در آن دوره به عنوان آموزنده و چه به عنوان مدرس و یا چه به عنوان بخش اجرائیات همایش، کارگاه و امثال این‌ها بوده است، با مدرک مربوطه رجوع کنید.</p> <p>تاکید این نکته لازم است که در مورد یکایک مدارکی که ارائه می‌دهید، بایستی آگاهی و اطلاعات لازم را داشته باشید؛ زیرا از این مدارک ارائه شده، پرسش به عمل خواهد آمد. کپی مدارک را حتماً به همراه داشته باشید.</p>
مدارک زبان و کامپیوتر	-	<p>اگر دارای مدرک ICDL و هرگونه مدرک مربوط به زبان هستید، بهتر از همراه با کپی آنها، وارد مصاحبه شوید. این مدارک در اکثر موارد دارای امتیاز هستند.</p>

پاسخ‌ها / استراتژی‌ها	سؤالات مصاحبه	مقوله‌ها
<p>اگر شما عضوی از شورای پایگاه بسیج هستید و یا دارای کارت بسیج هستید، حتماً همراه با کپی آن‌ها به مرحله مصاحبه وارد شوید.</p> <p>شاید مدارک بسیج دارای امتیاز رسمی نداشته باشد، اما منجر به دیدگاه‌های مثبت مصاحبه‌کنندگان خواهد شد.</p>	-	<p>مدرک شورای پایگاه بسیج و یا کارت بسیج</p>
<p>در صورت کسب مقام قهرمانی و یا دریافت حکم ورزشی، می‌توانید مدارک مربوطه به همراه کپی آن را نیز برای مصاحبه به همراه داشته باشید.</p>	-	<p>فعالیت‌های ورزشی</p>

# فصل ہفتم

گزینش عقیدتی



## مقدمه

اکنون با عنایت پروردگار متعال، شما به مرحله نهایی آزمون‌های استخدامی راه پیدا کرده‌اید. از خود اگر پرسید، از بین چندین نفر من به عنوان یک واجد شرایط استخدامی وارد این مرحله شده‌ام، قطعاً دست خدا را بر سر خودتان مشاهده خواهید کرد. شما پس از طی روزهای سخت پیگیری‌های آگهی‌های استخدامی، روزهای طاقت‌فرسای مطالعه برای آزمون‌های استخدامی و روزهای پرتنش برای گذر از مصاحبه استخدامی، اکنون وارد مرحله‌ای می‌شوید که به آن گزینش عقیدتی و سیاسی گفته می‌شود.

در گزینش‌های عقیدتی و سیاسی، معمولاً هیچ امتیازی برای آیتم‌های گزینشی، در نظر گرفته نمی‌شود. گزینش عقیدتی و سیاسی، صرفاً به منظور اینکه شما به عنوان یک کارمند این کشور، آیا فردی موجه هستید یا خیر، به عمل می‌آید که یا از قبل و یا پس از گزینش، تحقیقاتی در مورد شما که اصطلاحاً به آن تحقیقات محلی گفته می‌شود، به عمل آمده است و یا به عمل خواهد آمد که صحت اطلاعات شما را تأیید و یا رد خواهد کرد.

بنابراین، آنچه به گزینش‌کننده آزمون استخدامی پاسخ می‌دهید، بایستی با صداقت کامل باشد و چیزی را انکار نکنید؛ چرا که ممکن است چیزی که انکار می‌کنید، حساس نباشد اما به دلیل عدم صداقت، شما را از بقیه مراحل جذب و استخدام مردود اعلام کنند. پس، پیش‌فرض اول برای آزمون‌های استخدامی قطعاً صداقت کامل شماست.

در این فصل، تیم آموزشی‌ای استخدام سعی نموده است، با توجه به آخرین بروز رسانی‌های انجام شده، در پیرامون سؤالات گزینش استخدامی که اصل سؤالات روز گزینش به همراه پاسخ تشریحی می‌باشد را با دسته‌بندی ویژه‌ای ارائه کند تا گزینش‌شوندگان گرامی با مطالعه آن بخش اعظم نگرانی‌های خود را برطرف نمایند.

## محورهای اصلی گزینش استخدامی

محورهای اصلی گزینش استخدامی، شامل پنج بخش زیر می‌شود:

- ✓ سؤالات شخصی: پاسخ تشریحی این بخش به عهده خود داوطلب می‌باشد اما در بخش‌های بعدی، سؤالات به همراه پاسخ تشریحی‌شان آورده شده‌اند. این بخش شامل چهار مجموعه سؤال می‌شود که عبارتند از: خانواده و دوستان، فعالیت‌های زندگی، دیدگاه‌ها و خصوصیات شما، ظاهر و لباس.
- ✓ احکام: این بخش شامل پنج مجموعه سؤال می‌باشد؛ عبارتند از: مبانی احکام، وضو و تیمم، غسل، نماز و روزه.
- ✓ نماز: شامل چهار مجموعه سؤال است، عبارتند از: نماز جمعه، نماز جماعت، نمازهای یومیه و دیگر نمازهای مرسوم.
- ✓ عقیدتی: این بخش، شامل شش مجموعه سؤال است که عبارتند از: قرآن، دعاها و احادیث، فعالیت‌های عقیدتی و مذهبی، مبانی دینی، تاریخ اسلام و سایر سؤالات.
- ✓ سیاسی: این بخش که آخرین بخش این فصل می‌باشد، شامل شش مجموعه پرسش برای گزینش می‌باشد که عبارتند از: ساختار جمهوری اسلامی ایران و قانونی اساسی، رهبری و ولایت فقیه، توافق هسته‌ای ایران، مسائل روز و اخبار، انتخابات و راهپیمایی و سایر سؤالات.

**تذکر بسیار مهم:** ذکر این نکته بسیار مهم، لازم می‌باشد که پاسخ‌هایی که در روز مصاحبه، پیرامون ویژگی‌های شخصیتی خود داده‌اید را حتماً برای خود یادداشت کنید؛ پاسخ پرسش‌هایی چون نقطه قوت شما، نقطه ضعف شما و ... اکثر این سؤالاتی که در مورد ویژگی شخصیتی شماست، بار دیگر توسط گزینش‌کننده پرسیده می‌شود و صحت پاسخ‌ها بررسی خواهد شد.

داوطلبان گرامی می‌توانند از طریق این لینک<sup>۹</sup> که مربوط به سامانه ای‌استخدام است، به منظور ارتقای سطح دانش خود در زمینه گزینش عقیدتی مربوط به هر سازمان، اقدام نمایند.

در لینک ارائه شده، شما می‌توانید برای هر سازمانی که مد نظرتان است، پاسخ‌های خود را بیابید.

<sup>۹</sup> [www.e-estekhdam.com/?p=109630](http://www.e-estekhdam.com/?p=109630)

## ۱. سؤالات شخصی

مقوله	سؤالات	پاسخ‌ها
خانواده و دوستان	از خانواده ات بگو، تک تک افراد خانواده و بیوگرافی و محل کارشون، تحصیلات خانواده؟ منبع درآمدتون؟	پاسخ به عهده گزینش شوندگان
	روابط خانوادگی با اقوام؟	پاسخ به عهده گزینش شوندگان
	ملاک انتخاب برای دوست چیه؟ درباره اینکه دوستانم چه خصوصیتی دارن؟ پدر و مادرت چه نقشی تو انتخاب دوستان دارن؟	پاسخ به عهده گزینش شوندگان
	اگر از دوستان بیرسیم توی دانشگاه چطور آدمی بودی چی می‌کن دقیق بگو؟	پاسخ به عهده گزینش شوندگان
	محکومیت توی فامیل دارین؟ ایا سوء پیشینه و یا اعتیاد در خانواده دارین؟	پاسخ به عهده گزینش شوندگان
	مسافرت رو دوست داری با دوستان بری یا با خانواده؟	پاسخ به عهده گزینش شوندگان
فعالیت‌های زندگی	میزان مطالعه غیر درسی؟	پاسخ به عهده گزینش شوندگان
	کتاب میخونی؟ چه کتاب‌هایی؟	پاسخ به عهده گزینش شوندگان
	اوقات فراغت چه کار میکنی؟	پاسخ به عهده گزینش شوندگان
	اخرین کتابی که خواندی؟	پاسخ به عهده گزینش شوندگان
	سوابق علمی، پژوهشی و فرهنگی	پاسخ به عهده گزینش شوندگان
	عضو انجمن خاصی بودی؟	پاسخ به عهده گزینش شوندگان



پاسخ‌ها	سؤالات	مقوله
پاسخ به عهده گزینش شوندگان	در حال حاضر مشغول به چکار هستی؟	
پاسخ به عهده گزینش شوندگان	کامپیوتر بلدی؟ تو چه سایت‌هایی رفت آمد داری؟	
پاسخ به عهده گزینش شوندگان	مدرکت رو کجا گرفتی؟	
پاسخ به عهده گزینش شوندگان	چه فعالیت‌های اجتماعی داشتی تا حالا؟	
پاسخ به عهده گزینش شوندگان	چه مقام‌های علمی و ورزشی داری؟	
پاسخ به عهده گزینش شوندگان	توی دانشگاه توی کارهای گروهی کدوم‌ها را انجام می‌دادی؟ به نظرت برای این کار افراد باید چه ویژگی‌هایی داشته باشند؟	
پاسخ به عهده گزینش شوندگان	چه سریال‌هایی می‌بینی؟	
پاسخ به عهده گزینش شوندگان	سربازی رفتی؟ چرا معاف شدی؟	
پاسخ به عهده گزینش شوندگان	ورزش میکنی؟ چه رشته‌ای؟	
پاسخ به عهده گزینش شوندگان	تا حالا برای سازمان مصاحبه دادی؟ جای دیگه چطور؟ آگه قبول شدی چرا نرفتی؟	
پاسخ به عهده گزینش شوندگان	پرونده حراستی داری؟	
پاسخ به عهده گزینش شوندگان	اهل سیگار هستی؟	
پاسخ به عهده گزینش شوندگان	وایبر و واتس‌آپ داری؟ کدوم گروه‌ها عضوی تو وایبر؟	

پاسخ‌ها	سوالات	مقوله
پاسخ به عهده گزینش شوندگان	نظرت در مورد تهاجم فرهنگی؟ راههای مقابله با تهاجم فرهنگی؟	دیدگاه‌ها و خصوصیات شما
پاسخ به عهده گزینش شوندگان	خصوصیات بارز اخلاقیات چه؟	
پاسخ به عهده گزینش شوندگان	نقاط قوت و نقاط ضعف شما؟	
پاسخ به عهده گزینش شوندگان	نظرت در مورد حرفهای مردم به خاطر شرایط سخت زندگی؟	
پاسخ به عهده گزینش شوندگان	نظرت راجع به فساد؟	
پاسخ به عهده گزینش شوندگان	پیشنهاد رشوه بهت بدن چکار میکنی؟	
پاسخ به عهده گزینش شوندگان	برخورد با مشتری و مشتری ناراضی؟	
پاسخ به عهده گزینش شوندگان	نظرت در مورد آرایش کردن؟ چرا با آرایش مخالفی؟	
پاسخ به عهده گزینش شوندگان	ماهواره می بینی؟ چرا نمی بینی؟ چرا می بینی؟	
پاسخ به عهده گزینش شوندگان	نظرت در مورد حجاب؟	
پاسخ به عهده گزینش شوندگان	این لباسایی که پوشیدی رو کی خریدی؟	ظاهر و لباس
پاسخ به عهده گزینش شوندگان	در مورد پوشش تو سازمان و اینکه همیشه با چادر میگردی؟ پوششت همیشه اینطوره؟ از چه پوششی استفاده میکنی در مجالس و بیرون از خونه؟	
پاسخ به عهده گزینش شوندگان	وقتی مهمونی میری حجابت؟	

پاسخ‌ها	سؤالات	مقوله
پاسخ به عهده گزینش شوندگان	توی مسافرت چادر می پوشی توی اتوبوس یا ترمینال که وسایل زیاد داریم؟	
پاسخ به عهده گزینش شوندگان	تا حالا خط چشم کشیدی؟	
پاسخ به عهده گزینش شوندگان	به حجاب موهات از ۱۰۰ چند میدی؟	
پاسخ به عهده گزینش شوندگان	صورتتو تیغ میندازی؟	
پاسخ به عهده گزینش شوندگان	همیشه شلوار پارچه ای میپوشی؟	
پاسخ به عهده گزینش شوندگان	همیشه موهات اینجوری ساده هستن؟	

## ۲. احکام

مقوله	سؤالات	پاسخ‌ها
مبانی احکام	تقسیمات احکام به چه شکله؟	احکام به پنج دسته تقسیم می‌شود: واجب، حرام، مستحب، مکروه و مباح
	مرجع تقلید کیه؟	شخصی است که عادل باشد، زنده باشد، مرد باشد، شیعه دوازده امامی باشد و اعلم باشد. او مجتهدی است که دیگران از او تقلید می‌کنند.
	راه‌های شناخت مجتهد و اعلم چیه؟	خود انسان یقین کند؛ دو نفر عالم عادل بگویند؛ عده از اهل علم به اتفاق بگویند.
	راه‌های بدست آوردن فتوای مجتهد چیه؟	شنیدن از خود مجتهد دیدن در رساله او شنیدن از یک یا دو نفر عادل شنیدن از یک شخص مورد اعتماد و راستگو
	واجب عینی چیه؟ مثال بزن	مثل نماز خواندن. آگه من نماز بخوانم، نماز خواندن من تکلیف نماز خواندن شما را از گردنتان ساقط نمی‌کند؛ یعنی شما هم بایستی نماز بخوانید و این بر شما واجب است.
	واجب کفایی چیه؟ مثال بزن	مثل امر به معروف و نهی از منکر کردن. یعنی وقتی کسی، دیگری را امر به معروف و نهی از منکر می‌کند، کافی می‌باشد و نیاز به این نیست که شخص دیگر او را امر به معروف و نهی از منکر کند.
	احتیاط واجب چیه؟	همراه با فتوا نیست و مقلد یا به همان فتوا عمل می‌کند و یا به فتوای مجتهد دیگری رجوع می‌کند.
	احتیاط مستحب چیه؟	همراه با فتوا است و در آن مسئله نباید به دیگری رجوع کند.

مقوله	سوالات	پاسخ‌ها
	استحاله چیه؟	یعنی از حالی به حال دیگر در آمدن. مانند سگی که به نمک‌زاری برود و آنجا بمیرد و بدن او تجزیه شود.
	چه کسی رو مقید نماز و روزه می‌دونیم؟	عاقل بالغ
	سن تکلیف پسرها و دخترها (هجری شمسی)	آقایان: ۱۴ سال و ۶ ماه خانم‌ها: ۸ سال و ۹ ماه
	زکات و موارد مصرفش؟	گندم، جو، خرما، کشمش، شتر، گاو، گوسفند، طلا و نقره (در صورتی که معامله با آن مرسوم باشد).... موارد مصرف: فقیر و مسکین / مأمور امام یا نائب امام / کافرایی که اگر به آنها زکات بدهیم، به اسلام در می‌آیند یا در جنگ به مسلمانان کمک می‌کنند / خریداری برده و آزاد کردن آنها / پرداخت بدهی کسی که نمی‌تواند بدهی‌های خود را بدهد / فی سبیل ... / ابن سبیل.
	زکات فطره چیه؟	زکات فطره، یک صاع به ازای هر نفر یکی از موارد زیر تعلق می‌گیرد: گندم، جو، خرما، کشمش، برنج، ذرت اگر پول یکی از موارد ذکر شده را هم بدهد، کافی است.
	خمس و موارد مصرفش؟	۱. منفعت کسب ۲. معدن ۳. گنج ۴. مال حلال آمیخته به حرام ۵. جواهری که از غواصی در اعماق دریا استخراج شود ۶. غنیمت جنگ موارد مصرف: نصف آن که سهم امام است به مجتهد جامع‌الشرایط داده می‌شود و نصف دیگر آن سهم سادات است.
	به چیا خمس تعلق نمی‌گیره؟	به موارد زیر خمس تعلق نمی‌گیرد: ۱. ارث

پاسخ‌ها	سؤالات	مقوله
۲. چیزی که به انسان بخشیده‌اند ۳. جایزه‌هایی که دریافت کرده‌اند ۴. عیدی ۵. مالی که به عنوان زکات، خمس و یا صدقه به کسی داده‌اند.		
یک-پنجم آن معامله باطل است.	اگه مالی رو خرید و فروش کنند که خممش داده نشده، حکمش چیه؟	
نماز در آن خانه باطل است.	اگه یه خونه خریداری بشه که خمس اون پول داده نشده، حکم چیه؟	
یعنی از وطن یا محلّ اقامتش به اندازه ای دور شود که صدای اذان شهر را نشنود و مردم شهر او را نینند، اماً دیدن و ندیدن دیوارهای شهر اثری ندارد، ولی باید در هوا گرد و غبار یا مه یا چیز دیگری که مانع دیدن است یا سرو صدایی که مانع شنیدن است وجود نداشته باشد و اگر یکی از این دو علامت حاصل شود کافی است، به شرط اینکه یقین به نبودن دیگری نداشته باشد، و الا احتیاط جمع میان نماز شکسته و تمام است.	حد ترخص؟	
۷۵۰ گرم گندم، آرد، جو، برنج، نان و ...	یک مُد طعام چیه؟	
عطر زدن در اسلام برای هیچ گروه و جنسیتی از جمله برای زنان و دختران جوان حرام نیست؛ اماً چیزی که اسلام از آن نهی کرده است استعمال عطرهای خوشبوکننده مقابل نامحرم است. طبق نظر همه مراجع، استعمال اینگونه عطرها در مجامع عمومی که نامحرم نیز وجود دارد، جایز	حکم استفاده از عطر و ادکلان برای زنان و مردان؟	

پاسخ‌ها	سؤالات	مقوله
نیست. ولی قطعاً استفاده از آن برای همسر و یا در مقابل محارم دیگر و یا در جمع بانوان جایز است، علت این امر هم واضح است؛ چرا که اسلام حفظ حجاب و حیا برای زنان و نگاه‌داشتن حریم با مردان نامحرم، را برای صیانت خانواده و اجتماع از مفسده‌های فراوانی که به همراه دارد واجب شمرده است. عطر زدن برای مردان، مانعی ندارد.		
آب، زمین، آفتاب، اسلام و بر طرف شدن نجاست.	مطهرات چیا هستن؟	
مضاف: چیز نجس را پاک نمی‌کند. مطلق: آب چاه، آب باران، آب جاری، آب راکد (آب گُر و آب قلیل)	انواع آب	
ادرار، مدفوع، منی، مردار، خون، سگ، خوک، شراب، آجیو، کافر و عرق شتر نجاست‌خوار.	نجاسات رو نام ببر	
اگر فرد شك کند که عضوی از بدن را مسح کرده یا نه، بایستی دوباره از آن قسمتی که شك کرده، مسح کند تا آخر. شك در قبل از نماز: باید برود و دوباره وضو بگیرد. شك بین نماز: نماز باطل است، برود وضو بگیرد، و دوباره نماز بخواند. شك در بعد از نماز: نماز صحیح است اما برای نماز بعدی بایستی وضو بگیرد. شك در بعد از وضو: وضو صحیح است.	شك در وضو؟	وضو و تیمم
۱. بول ۲. غائط ۳. باد معده و روده ۴. خوابیدن (طوری که چشم نبیند و گوش نشنود) ۵. مستی و دیوانگی ۶. استحاضه زنان ۷. جنابت ۸. مس میت	مبطلات وضو؟	

مقوله	سوالات	پاسخ‌ها
	اگه دست‌ها و صورت از پایین شسته بشن، حکمش چیه؟	وضو باطل است.
	اگه توی مسح دست ثابت باشه ولی عضو بجاش تکون بخوره، حکمش چیه؟	وضو باطل است.
	اگه آب برای مسح کم باشه، چیکار میکنی؟	نمی‌توان از آب بیرون از اندام‌ها استفاده کرد. بلکه باید از آبی که بر روی اندام‌های دیگر موجود می‌باشد، استفاده نمود.
	مسح با دست چپ حکمش چیه؟	جایز است اما احتیاط واجب آن است که با دست راست وضو گرفته شود.
	برای چه چیزایی وضو میگیری؟	برای: ۱. نماز ۲. طواف خانه کعبه ۳. رساندن جایی از بدن به نوشته قرآن و اسم خداوند
	جبیره چیه؟ وضوی جبیره ای؟	جبیره همانی است که روی زخم یا محل شکستگی قرار می‌دهند. وضو جبیره ای آن است که آب وضو را به اطراف جبیره بریم و یا اگر جبیره تمیز باشد، روی آن آرام دست بکشیم.
	تیمم رو انجام بده؟	۱. نیت می‌کنیم ۲. زدن کف دو دست بر چیزی که تیمم بر آن صحیح باشد ۳. کشیدن کف هر دو دست به تمام پیشانی و دو طرف آن از جایی که موی سر روییده باشد تا ابروها و بالای بینی و بنا بر احتیاط واجب دست‌ها باید روی ابروها نیز کشیده شود ۴. کشیدن کف دست چپ بر تمام پشت دست راست ۵. کشیدن کف دست راست بر تمام پشت دست چپ.



مقوله	سوالات	پاسخ‌ها
	آب مضاف چیه؟	آبی که آن را از چیز دیگری بگیرند؛ مثل آب هندوانه یا گلاب.
	شرایط آب وضو؟	<p>۱. آب وضو پاک باشد ۲. مطلق باشد ۳. ظرف آب وضو غصبی نباشد ۴. ظرف آب وضو، از طلا و نقره نباشد ۵. اعضای وضو پاک باشد ۶. وقت برای وضو کافی باشد ۷. به قصد قربت انجام گیرد ۸. ترتیب ۹. موالات ۱۰. خود فرد وضو را انجام دهد و نه دیگری برای او ۱۱. استعمال آب ضرر نداشته باشد ۱۲. در اعضای وضو مانع وجود نداشته باشد.</p> <p>محل مسح باید پاک باشد، پس اگر نجس است و نمی‌تواند آن را آب بکشد، باید تیمم کند.</p>
	انواع تیمم، شرایط تیمم؟	<p>تیمم بدل از وضو و تیمم بدل از غسل / بر خاک، ریگ، کلوخ و سنگ اگر پاک باشد و بر آجر و کوزه قبل از پخته شدن / شرایط: ۱. پیدا نکردن آب ۲. مشقت بیش از حد ۳. ترس از ضرر ۴. نیاز به آب برای حفظ جان ۵. نیاز به آب برای تطهیر ۶. نداشتن آب مباح ۷. کمبود آب.</p> <p>* مبطلات آن مانند مبطلات وضو و غسل است.</p>
	انواع غسل و توضیح؟	غسل ترتیبی و غسل ارتماسی.
	در ماه رمضان کدام غسل رو همیشه انجام داد و چرا؟	ارتماسی؛ چون یکی از مبطلات روزه، فرو بردن سر در آب است.
	غسل ارتماسی در ماه رمضان؟	باعث باطل شدن روزه می‌گردد.
غسل	غسل‌های واجب چیا هستن؟	<p>۱. غسل جنابت ۲. غسل استحاضه ۳. غسل حیض ۴. غسل نفاس ۵. غسل میت ۶. غسل مس میت ۷. غسلی که به واسطه نذر و قسم واجب می‌شود.</p>

پاسخ‌ها	سؤالات	مقوله
فقط با غسل جنابت می‌توان نماز خواند و برای غسل‌های دیگر (به منظور نماز خواندن) باید وضو گرفت.	با کدام غسل‌ها همیشه نماز خوانده؟	
۱. غسل با آب سدر ۲. غسل با آب کافور ۳. غسل با آب خالص مانند غسل جنابت است (واجب است و تا غسل ترتیبی امکان دارد، غسل ارتماسی ارجح نیست)	طریقه انجام غسل میت؟	
زمانی که انسان جایی از بدن خود را به بدن انسان مرده‌ای که سرد شده است، غسلش نداده باشند و در میدان نبرد شهید نشده باشد، برساند.	غسل مس میت چه زمانی واجب همیشه؟	
۱. واجب: الف) یومیه: صبح، ظهر، عصر، مغرب و عشاء ب) مقطعی: آیات، طواف واجب، میت، قضای پدر بر پسر بزرگتر، نمازی که به واسطه نذر و قسم واجب شود. ۲. مستحب: در ادامه توضیح داده می‌شود. * نماز مستحبی را می‌توان به جماعت خواند، بجز نماز طلب باران.	اقسام نماز رو بگو	
نصف فاصله بین غروب آفتاب تا اذان صبح	نیمه شب شرعی کی هست؟	نماز
۱. پاک باشد. ۲. غصبی نباشد. ۳. از اجزای مردار نباشد. ۴. از حیوان حرام گوشت نباشد. ۵. اگر نمازگزار مرد است، لباس او طلابافت و یا ابریشم خالص نباشد.	شرایط لباس نمازگزار چیه؟	
۱. بی حرکت باشد. ۲. تنگ و سقف آن کوتاه نباشد.	شرایط مکان نمازگزار باید چگونه باشد؟	

مقوله	سوالات	پاسخ‌ها
		<p>۳. محل فرارگیری پیشانی پاک باشد.</p> <p>۴. ارتفاع محل پیشانی و محل فرارگیری زانو بیش از ۴ انگشت نباشد.</p> <p>۵. مباح باشد. (غصبی نباشد)</p>
	<p>اگر همسایه مسجد عذری نداشته باشد و توی مسجد نماز نخونه، حکمش چیه؟</p>	<p>مکروه است.</p>
	<p>در چه صورتی میتونی سوره رو نخونی؟</p>	<p>در رکعت اول و دوم با شرایط زیر می‌توان سوره را نخواند:</p> <p>۱. وقت نماز تنگ باشد، فقط یکبار بجای آن تسیحات اربعه خوانده می‌شود.</p> <p>۲. بترسد اگر سوره را بخواند، دزدی مال او را بدزد و یا درنده‌ای او را بدرد.</p>
	<p>حکم بلند خواندن بسم‌ال... الرحمن الرحیم؟</p>	<p>در حمد و سوره نماز ظهر و عصر مستحب است که بسم‌ال... الرحمن الرحیم را بلند بخواند.</p>
	<p>کسی که نتونه نشسته رکوع بخونه، باید چیکار کنه؟</p>	<p>باید ایستاده نماز بخواند و برای رکوع با سر اشاره کند.</p>
	<p>اگر جز پیشانی فرد عمداً عضوی از بدن رو جابجا کنه، حکمش چیه؟</p>	<p>اگر در حال ذکر گفتن باشد، نمازش باطل است. اگر در حال ذکر گفتن نباشد و جز پیشانی، عضوی را جابجا کند، ایرادی ندارد.</p>
	<p>سجده سهو؟ سجده سهو واجب یا نه؟ ذکر سجده سهو؟ کی استفاده میشه؟</p>	<p>در موارد زیر دو تا سجده سهو انجام می‌دهیم: ۱. سهواً در نماز حرف بزنینم. ۲. فقط یک سجده فراموش شود. ۳. شک بین چهار و پنج پس از سجده دوم. ۴. غیر از جای اصلی سلام دادن، سلام دهیم. ۵. غیر ارکان را اگر سهواً کم و زیاد کنیم. سجده سهو واجب است. ۶. اگر</p>

مقوله	سؤالات	پاسخ‌ها
		تشهد را سهواً فراموش کنیم. ذکر آن: بِسْمِ اللَّهِ وَ بِاللَّهِ السَّلَامُ عَلَيْكَ أَيُّهَا النَّبِيُّ وَ رَحْمَةُ اللَّهِ وَ بَرَكَاتُهُ * سجده سهو، تکبیره الاحرام ندارد.
	شرایط یک مؤذن چیا هست؟	۱. عادل باشد. ۲. وقت شناس باشد. ۳. صدایش بلند باشد.
	نماز مستحبی اذان و اقامه داره؟	خیر
	قیام بعد از رکوع حکمش چیه؟	واجب است و اگر ترک شود نماز باطل است.
	اگه سهوا پشت به قبله نماز بخونی حکمش چیه؟	چه عمداً و چه سهواً نماز باطل می‌شود.
	نماز ۳ رکعتی در سفر چطور خوانده می‌شه؟	سه رکعت کامل
	شکایات نماز؟	۲۳ قسم است. ۶ قسم آن را اعتنا نمی‌کنیم. ۸ قسم آن مبطل است. ۹ قسم آن صحیح است.
	شک در شمار رکعت های نماز ۲ و ۳ رکعتی حکمش چیه؟	نماز را باطل می‌کند. شک‌های باطل کننده نماز هشت حالت دارند: ۱. شک در شمار رکعت‌های نماز دو رکعتی ۲. شک در شمار رکعت‌های نماز سه رکعتی ۳. در شک‌های نمازهای چهار رکعتی که پای یک در میان باشد. ۴. اگر در نمازهای چهار رکعتی پیش از سجده دوم شک کند. ۵. شک بین ۲ و ۵ و یا ۲ و بیشتر از ۵. ۶. شک بین ۳ و ۶ و یا ۳ و بیشتر از ۶. ۷. شک بین ۴ و ۶ و یا ۴ و بیشتر از ۶. ۸. شک در رکعت‌های نمازی که نداند چند رکعت خوانده است.

پاسخ‌ها	سؤالات	مقوله
<p>شک‌های صحیح شش حالت دارند:</p> <ol style="list-style-type: none"> <li>۱. شک در چیزی که نمازگزار از محل آن گذشته است؛ مثل اینکه در رکوع شک کند که آیا حمد و سوره را خوانده یا نه.</li> <li>۲. شک بعد از سلام نماز</li> <li>۳. شک بعد از گذشتن وقت نماز</li> <li>۴. شک شخصی که زیاد در نماز شک می‌کند که به او کثیرالشک گویند.</li> <li>۵. شک امام در صورتی که مأوم تعداد رکعت‌ها را بداند و یا شک مأوم در صورتی که امام تعداد رکعت‌ها را بداند.</li> <li>۶. شک در نمازهای مستحبی</li> </ol>	<p>شک‌هایی که نباید بهش اعتنا کرد؟</p>	
<p>۹ صورت دارد که فقط برای نماز چهار رکعتی می‌باشد:</p> <ol style="list-style-type: none"> <li>۱. شک بعد از سجده دوم باشد و بین ۲ و ۳ باشد: بنا را روی ۳ می‌گذارد، یک رکعت دیگر می‌خواند و یک رکعت نماز احتیاط ایستاده و یا دو رکعت نماز احتیاط نشسته بخواند.</li> <li>۲. شک بعد از سجده دوم باشد و بین ۲ و ۴ باشد: بنا را روی ۴ رکعت بگذارد، نماز را تمام کند و دو رکعت نماز احتیاط بخواند.</li> <li>۳. شک بعد از سجده دوم و بین ۲، ۳ و ۴: بنا را روی ۴ بگذارد، نماز را تمام کند و دو رکعت نماز احتیاط ایستاده و دو رکعت نماز احتیاط نشسته بخواند.</li> <li>۴. شک بین ۴ و ۵ و بعد از سجده دوم باشد: بنا را روی ۴ بگذارد و نماز را تمام کند و بعد از نماز دو سجده سهو بخواند.</li> </ol>	<p>شک‌های صحیح چطوریه؟ حکمشون چیه؟</p>	

پاسخ‌ها	سؤالات	مقوله
<p>۵. شك بين ۳ و ۴، در هر كجای نماز كه باشد: بنا را روی ۴ بگذارد و نماز را تمام كند و يك ركعت نماز احتیاط ایستاده بخواند.</p> <p>۶. شك بين ۴ و ۵ در حالت ایستاده: نماز گزار بدون ركوع بنشیند، تشهد را بخواند و نماز را سلام دهد و يك ركعت نماز احتیاط ایستاده بخواند.</p> <p>۷. شك بين ۳ و ۵ در حالت ایستاده: نماز گزار بدون ركوع بنشیند، تشهد و سلام را بخواند و ۲ ركعت نماز احتیاط ایستاده بخواند.</p> <p>۸. شك بين ۳، ۴ و ۵ در حالت ایستاده: نماز گزار بنشیند و سلام دهد و سپس دو ركعت نماز احتیاط ایستاده و دو ركعت نشسته بخواند.</p> <p>۹. شك بين ۵ و ۶ در حالت ایستاده: نماز گزار بنشیند و تشهد بخواند و سلام دهد، سپس دو سجده سهو را بجا آورد.</p>		
<p>مبطل نماز است.</p>	<p>شك بين دو و سه در سه ركعتی؟</p>	
<p>اركان نماز: نیت - تكبیره الاحرام - قیام (قبل از تكبیره الاحرام و متصل به ركوع) - ركوع - سجود.</p> <p>غير اركان: قرائت - ذكر - تشهد - سلام - ترتیب - موالات. تفاوت در این است كه اگر اركان را چه سهوا و چه عمدا كم و زیاد كنیم، نماز باطل است ولی غیر ركن اگر سهوا كم یا زیاد شود، برایش دو سجده سهو بجا می آوریم و نماز باطل نمی شود؛ اما اگر عمدا باشد، نماز را باطل می كند.</p>	<p>واجبات نماز؟ اركان نماز، غیر ركن؟ تفاوت ركن و غیر ركن</p>	

مقوله	سوالات	پاسخ‌ها
	اگر یک سجده در نماز فراموش بشه حکم چیه؟ اگر دو تا سجده فراموش بشه چی؟	اگر یک سجده فراموش شود، بایستی دو سجده سهو بجا آورد ولی اگر دو سجده فراموش شود، یک رکن نماز کم شده و این باعث باطل شدن نماز می‌شود.
	ارکان نماز چه فرقی با دیگر واجبات نماز دارند؟	تفاوت در این است که اگر ارکان را چه سهوا و چه عمدا کم و زیاد کنیم، نماز باطل است ولی غیر رکن اگر سهوا کم یا زیاد شود، برایش دو سجده سهو بجا می‌آوریم و نماز باطل نمی‌شود. اما اگر عمدا باشد، نماز را باطل می‌کند.
	اگه وقت نماز تنگ باشه کدوم قسمت‌هاشو می‌تونیم حذف کنیم؟	به جای وضو، تیمم می‌کنیم و این موارد را حذف می‌کنیم: اذان، اقامه، بجای اینکه سه بار تسبیحات اربعه بگوئیم، یکبار بگوئیم، قنوت را نیز می‌توان حذف کرد.
	اگر در یک نماز هم نماز احتیاط واجب شود و هم سجده سهو ابتدا کدام یک را انجام میدی؟	اول احتیاط و بعد سجده سهو.
	روی چه چیزایی میشه سجده کرد؟	خاک، سنگ، گل پخته، گچ، چوب و چمن. چیزهایی که از زمین می‌روید ولی خوراکی و پوشاک برای انسان نیست. * سجده بر چیزهای معدنی مثل طلا و نقره، عقیق و فیروزه صحیح نیست. * سجده بر کاغذ صحیح است.
	شرایط نماز مسافر؟	۸ شرط: ۱. سفر او کمتر از هشت فرسخ (۴۳ کیلومتر) شرعی نباشد. ۲. قصد هشت فرسخ سفر را داشته باشد. ۳. در بین راه از قصدش برنگردد. ۴. قبل از رسیدن به هشت فرسخ از وطن خود عبور نکند و نخواهد ده روز یا بیشتر در اثناء راه توقف کند. ۵. سفر او برای کار حرامی نباشد. ۶.

مقوله	سوالات	پاسخ‌ها
		از صحرائشین های خانه بدوش نباشد. ۷. شغل و کار او مسافرت نباشد. ۸. به حدّ ترخّص برسد.
	اگه مسافر از اول قصد هشت فرسنگ نداشت، حکم نمازش چطوریه؟	اگر مسافر، از ابتدا قصد هشت فرسنگ نداشته باشد، مانند شخصی که دنبال گمشده‌ای بگردد، نماز او کامل است.
	کسی که به سفر حرام میره، حکم نمازش چطوریه؟	نماز او کامل است؛ مانند شخصی که قصد سفر برای اذیت پدر و مادر دارد.
	اگه شخص بین راه سفر به ۴ فرسخ (۲۲/۵ کیلومتر) نرسید و برگشت، نمازش به چه شکل خونده میشه؟	نماز او کامل خوانده می‌شود.
	کسی که شغلش مسافرتیه، نمازش به چه شکل خونده میشه؟	نماز او کامل خوانده می‌شود.
	اگه انسان بدون قصد موندن جایی، اونقدر توی اون محل بمونه که مردم اون رو اهل اونجا بدونن، حکم نمازش به چه شکله؟	نمازش باید کامل خوانده بشود.
	اگه جایی که قبلاً وطن شخص محسوب میشد و فرد حالا ازش صرف نظر کرده، نماز خوندن توی اون محل به چه صورته؟	نمازش شکسته خوانده می‌شود.
	چه زمانی میشه نماز واجب رو شکست؟	رها کردن نماز واجب حرام است مگر در حالت ناچاری، مانند: ۱. حفظ جان ۲. حفظ مال



مقوله	سؤالات	پاسخ‌ها
		<p>۳. جلوگیری از ضرر مالی و بدنی</p> <p>۴. پرداخت بدهی</p> <p>* شکستن نماز برای مالی که اهمیت ندارد، مکروه است.</p>
	مکروهات نماز چیستند؟	<p>۱. بازی کردن با انگشتان دست</p> <p>۲. برگرداندن صورت به چپ و راست به مقدار کم</p> <p>۳. هر کاری که خضوع و خشوع را از بین ببرد.</p> <p>۴. سکوت کردن در هنگام قرائت یا ذکر برای شنیدن حرف کسی</p> <p>۵. بر هم گذاشتن چشم‌ها</p>
	چطور مأموم به امام بگه "نماز امام صحیح و شک نکنه"؟	<p>مأموم با گفتن کلمه الـ. اکبر امام را متوجه می‌کند که در خواندن رکعات شک نکند و نمازش صحیح است.</p>
	شک بین سه و چهار رو چه میکنی؟	<p>در هر حالتی نماز صحیح است ولی بایستی دو تا نماز احتیاط نشسته و یا یکی نماز احتیاط ایستاده خواند.</p>
	فرق بین اذان و اقامه؟	<p>اذان در ابتدا چهارتا الله اکبر دارد ولی اقامه دو تا / اذان در انتها دو تا لا اله الا الله دارد ولی اقامه در انتها یکی.</p>
	نماز احتیاط چطور خونده میشه؟	<p>بعد از سلام نماز، بدون اینکه نماز را باطل کنند، باید نمازگزار بایستد و بدون خواندن اذان و اقامه، تکبیر بگوید.</p> <p>* نیت نباید به زبان آورده شود.</p> <p>* سوره و قنوت، هر چند که نماز احتیاط دو رکعتی باشد، نیاز به خواندن نیست.</p> <p>* در نماز احتیاط فقط حمد با صدای آهسته خوانده می‌شود.</p>

پاسخ‌ها	سؤالات	مقوله
<p>۱. باطل شدن وضو یا غسل در بین نماز، چه عمدی و یا چه سهوی</p> <p>۲. گذاشتن عمدی دست‌ها روی هم</p> <p>۳. گفتن آمین بعد از حمد</p> <p>۴. روی برگرداندن از قبله</p> <p>۵. حرف زدن عمدی</p> <p>۶. خندیدن عمدی</p> <p>۷. برای امور دنیا با صدای بلند گریه کردن</p> <p>۸. دست زدن و به هوا پریدن</p> <p>۹. خوردن و آشامیدن در حین نماز</p> <p>۱۰. شک در نمازهای واجب دو رکعتی و سه رکعتی</p>	مبطلات نماز؟	
<p>۱. خوردن و آشامیدن ۲. جماع ۳. استمناء</p> <p>۴. دروغ بستن به خدا و پیامبر (ص) و جانشینان پیغمبر و معصومین (ع) ۵. رساندن غبار به حلق</p> <p>۶. فرو بردن تمام سر در آب ۷. باقی ماندن بر جنابت و حیض و نفاس تا اذان صبح ۸. قی کردن ۹. اماله کردن با چیزهای روان.</p>	مبطلات روزه؟	
<p>در هر موردی که نمازش شکسته باشد، نایبستی روزه بگیرد ولی اگر شغلش مسافرت باشد و یا قصد ده روز کرده که نمازش کامل است، نایبستی روزه تمام بگیرد.</p>	اگر بخوایم بریم مسافرت و بخوایم روزه هم بگیریم چی کار باید بکنیم؟	روزه
<p>اگر سهوی باشد، روزه باطل نمی‌شود ولی نایبستی زود از آب سرش را خارج کند.</p>	استثنائاتی که با فرو بردن سردر آب در ماه رمضان روزه باطل نمیشه؟	
<p>روزه عید فطر - روزه عید قربان - روزه ۱۱، ۱۲ و ۱۳ ماه ذی‌الحجه برای کسی که در مناست - روزه یوم‌الشک به طوری که نیت ماه رمضان</p>	چه روزهایی روزه حرامه؟	

مقوله	سوالات	پاسخ‌ها
		کند - روزه غیر واجب برای زن اگر مزاحم حق زوج شود - روزه غیر واجب برای فرزند اگر موجب اذیت والدین شود.
	کفاره روزه؟	دو ماه روزه و ۳۱ روز آن پیاپی باشد و یا به ۶۰ فقیر طعام بدهیم.
	روزه‌های مستحب؟	<p>۱. هر پنجشنبه و جمعه</p> <p>۲. روز مبعث (۲۷ رجب)</p> <p>۳. عید غدیر (۱۸ ذیحجه)</p> <p>۴. روز تولد پیامبر(ص) (۱۷ ربیع الاول)</p> <p>۵. روز عرفه (۹ ذی الحجّه)</p> <p>۶. تمام ماه رجب و شعبان</p> <p>۷. عید نوروز</p> <p>۸، ۱۳، ۱۴ و ۱۵ ام هر ماه</p>
	روزه های مکروه؟	<p>۱. روزه مستحبی مهمان بدون اجازه میزبان</p> <p>۲. روزه مستحبی فرزند بدون اجازه پدر</p> <p>۳. روزه روز عاشورا</p> <p>۴. روزه عرفه اگر باعث بازماندن از دعاهای آن روز شود</p> <p>۵. روزه روزی که نمی‌داند عرفه است یا عید قربان</p>
	کارهای مکروه شخص روزه‌دار؟	<p>۱. انجام دادن هر کاری که سبب ضعف شود، مانند خون دادن</p> <p>۲. بویدن گیاهان معطر (عطر زدن مکروه نیست)</p> <p>۳. خیس کردن لباسی که بر تن دارد.</p> <p>۴. مسواک زدن با چوب تر</p>
	تزریق آمپول زمانی که روزه داری حکمش چیه؟	اگر به جای غذا نباشد، روزه را باطل نمی‌کند، هر چند عضو را بی‌حس کند.

مقوله	سؤالات	پاسخ‌ها
	روزه در مورد غبار در چه صورتی صحیح‌ه؟	اگر غبار غلیظ نباشد، به حلق نرسد، بی اختیار به حلق برسد، شک کند که غبار غلیظ به حلقش رسیده یا نه، روزه اش صحیح است.
	اگر روزه دار بی اختیار قی کنه، حکم روزه اش چطوره؟	روزه او صحیح است.
	اگر روزه دار بی اختیار در خواب جنب شود، حکم روزه اش چطوره؟	روزه او صحیح است.
	کسی که به واسطه پیری نمی‌تواند روزه بگیرد و بعد از رمضان هم نمی‌تواند قضای آن را انجام دهد، ولی اگر روزه گرفتن برایش دشوار است، باید برای هر روز، یک مُد طعام به فقیر بدهد.	کسی که به واسطه پیری نمی‌تواند روزه بگیرد و بعد از رمضان هم نمی‌تواند قضای آن را انجام دهد، ولی اگر روزه گرفتن برایش دشوار است، باید برای هر روز، یک مُد طعام به فقیر بدهد.
	مسافر آگه شکسته نماز بخونه، حکم روزه چیه؟	روزه نباید بگیرد و اگر کامل نماز بخواند، روزه باید بگیرد.
	روزه های واجب؟	روزه ماه مبارک رمضان - روزه کفاره (کفاره نذر، کفاره ماه رمضان و ...) - روزه روز سوم اعتکاف (۱۵ رجب) - قضای روزه پدر بر پسر بزرگتر - روزه نذر.

## ۳. نماز

مقوله	سؤالات	پاسخ‌ها
نماز جمعه	توضیح کلی	هر جمعه، اول ظهر و به جای نماز ظهر برگزار می‌شود. حتماً به صورت جماعت خوانده می‌شود. حضور در آن در زمان غیبت واجب نیست و انتخاب بین خواندن نماز ظهر جمعه و یا نماز جمعه، اختیاری است. در بین اهل سنت، نماز جمعه واجب عینی است. خواندن دو خطبه قبل از نماز جمعه، واجب است زیرا دو خطبه به جای دو رکعت اول نماز ظهر خوانده می‌شود. در بیشتر اوقات خطیب و امام جمعه یک نفر هستند. وقتی خطبه‌ها خوانده می‌شوند بر همگان واجب است که به آن دو خطبه گوش فرا دهند و سخن گفتن بین آن، مکروه است. اگر کسی به دو خطبه نرسد، باز هم خواندن نماز جمعه جایگزین نماز ظهر می‌شود.
	حداقل تعداد افراد برای برپایی نماز جمعه؟	۵ نفر یک نفر امام و چهار نفر مأوم
	کدام نماز دو قنوت دارد؟	نماز جمعه، یکی قبل از رکوع رکعت اول و دیگری بعد از رکوع رکعت دوم.
	آخرین نماز جمعه کی رفتی؟	پاسخ به عهده گزینش شونده گرامی دو رکعت.
	نحوه خواندنش؟	رکعت اول: حمد + سوره جمعه + قنوت + رکوع. رکعت دوم: حمد + سوره منافقون + رکوع + قنوت
با کی میری نماز جمعه؟	پاسخ به عهده گزینش شونده گران	

مقوله	سوالات	پاسخ‌ها
	قبل خطبه‌ها کی صحبت کرد چی گفت؟	پاسخ به عهده‌گزینش شوندگان
	خطبه‌هاش به چه شکله؟	خطبه اول اندرزه‌های دینی خطبه دوم تشریح دیدگاه‌های سیاسی رسمی ولی فقیه
	بین خطبه‌ها چی کار کردن کسی حرف خاصی زد؟	یک سوره کوچک از قرآن خوانده می‌شود و بر پیامبر (ص) درود می‌فرستند. حمد و ثنای الهی گفته می‌شود. مردم را به تقوای الهی و پرهیز از گناهان دعوت کند. برای مردان و زنان با ایمان طلب آموزش کند.
	موضوع آخرین نماز جمعه؟	پاسخ به عهده‌گزینش شوندگان
	چند بار در ماه میریز؟	پاسخ به عهده‌گزینش شوندگان
	امام جمعه موقت؟	پاسخ به عهده‌گزینش شوندگان
	هدف از رفتن به نماز جمعه؟	۱. با موعظه‌های امام جمعه، ما به جلو حرکت می‌کنیم. ۲. موجب وحدت ملی می‌شود. ۳. در مورد مسائل سیاسی به ما هشدار داده می‌شود و ما آگاه می‌شویم. ۴. دستور الهی است: در آیات ۹ و ۱۰ سوره جمعه در قرآن چنین آمده است: ای کسانی که ایمان آورده‌اید چون برای نماز جمعه ندا در داده شد به سوی ذکر خدا بشتابید و داد و ستد را واگذارید اگر بدانید این برای شما بهتر است (۹) و چون نماز گزارده شد در [روی] زمین پراکنده گردید و فضل خدا را جویا شوید و خدا را بسیار یاد کنید باشد که شما رستگار گردید (۱۰)

مقوله	سؤالات	پاسخ‌ها
	سوره‌هایی که در نماز جمعه خونده میشه چیا؟ چند قنوت داره؟	سوره جمعه در رکعت اول و سوره منافقون در رکعت دوم و هر دو بعد از حمد. نماز جمعه دو تا قنوت دارد.
	شرایط امام جمعه؟	آگاه به مسائل سیاسی - بالغ - عاقل - شیعه دوازده امامی - عادل - حلال‌زاده باشد - نماز را به طور صحیح بخواند - اگر مأوموم مرد است امام او هم باید مرد باشد - اقتدا کردن بچه ممیز که خوب و بد را می‌فهمد به بچه ممیز دیگر جایز نیست، و احتیاط واجب آن است که امام جماعت زن نیز مرد باشد.
	امام جمعه اصلی قم و تهران کیه؟	-
	نماز جماعت میری؟ امام جماعت کی بود کدوم مسجد؟ همیشه میری؟	پاسخ به عهده گزینش شوندگان
نماز جماعت	هدف از نماز جماعت چیه؟	امام صادق (ع): ۱. نماز جماعت وضع شده که بعضی برای بعضی دیگر شهادت به اسلام بدهند. ۲. وضع شده تا دوستان را از امور منفی و زشت، نجات داد. ۳. نماز خوان از بی نماز شناخته می‌شود. ۴. آنکه در اول وقت نماز میخواند با آنکه در اول وقت نماز نمی‌خواند، شناخته می‌شود. علاوه بر فرمایش امام صادق (ع)، ما اتحاد و افعال دست جمعی برای ذکر خدا گفتن را در نماز جماعت مشاهده خواهیم کرد.
	هر چند وقت یک بار نماز جماعت میری؟	پاسخ به عهده گزینش شوندگان

مقوله	سؤالات	پاسخ‌ها
	اگر زمانی که به نماز جماعت رسیدی که امام در سجده بود چگونه اقتدا میکنی؟	صبر می‌کنیم تا امام قیام کنند و به او اقتدا می‌کنیم.
	اگر قیام رکعت سوم به نماز جماعت بررسی چیکار میکنی؟	سریع اقتدا می‌کنیم و اگر بدانیم یا احتمال بدهیم که زمان داریم تا حمد و سوره را بخوانم، می‌خوانیم و اگر بدانیم یا احتمال بدهیم زمان نیست، پس حمد و سوره را نمی‌خوانیم و همراه امام نماز را بجا می‌آوریم و همان یک رکعت برایمان به حساب می‌آید.
	اگر رکعت چهارم بررسی چگونه اقتدا میکنی؟	مثل سوال قبل، با این تفاوت که وقتی امام در حال تشهد و سلام است، ما تجافی (نیمخیز) می‌کنیم تا تشهد و سلام جمع تمام شود و سپس قیام میکنیم و رکعات بعدی را خودمان می‌خوانیم.
	در رکعت دوم نماز جمعه چگونه باید اقتدا کرد؟	رکعت اول را با رکعت دوم امام جمعه می‌خوانیم و رکعت دوم را خودمان می‌خوانیم.
	تجافی چیه؟	نیمخیز در نماز جماعت برای تمام شدن تشهد یا تشهد و سلام
	توی چه رکعاتی میشه به نماز وصل شد؟	در همه رکعات می‌شود به امام جماعت وصل شد، ولی بایستی یا در بین قرائت امام جماعت باشد و یا در حین رکوع.
	اگر به تشهد نماز جماعت بررسی چیکار میکنی؟	صبر می‌کنیم تا امام قیام کند. چون بایستی یا در بین قرائت امام جماعت وصل شد و یا در حین رکوع.
	امام جماعت دانشگاتون؟	پاسخ به عهده گزینش شونده
	نماز جماعت چی میری؟	نماز جمعه، نماز های یومیه، نماز عید فطر، نماز عید قربان.



پاسخ‌ها	سؤالات	مقوله
<p>۱. ثواب بیشتر چون مستحب است.</p> <p>۲. عامل اصلی جلوگیری از گناهان بزرگ، پیامبر (ص): تا انسان مواظب نمازهای پنج‌گانه در اوقاتش می‌باشد، شیطان از او می‌ترسد پس وقتی آن را ضایع ساخت (نمازها را در اوقاتش نخواند) شیطان بر او جرأت نموده و او را به گناهان بزرگ وامی‌دارد.</p> <p>۳. به دلیل حساس بودن نماز اول وقت، حتی جهاد هم نمیتواند باعث شود نماز اول وقت به تأخیر بیفتد. امام حسین - علیه السلام - نیز در ظهر عاشورا هنگامی که وقت نماز فرا رسید، نماز را به همراه اصحاب در اول وقت اقامه کردند. ۵.</p> <p>همچنین به تأخیر انداختن نماز از اول وقت یکی از مصادیق استخفاف و سبک شمردن نماز است که در روایات بسیاری مورد نکوهش شدید قرار گرفته است. تا جائیکه پیامبر اکرم - صلی ا. علیه و آله - فرمودند: «لیس منی من استخف بصلاته» از (امت) من نیست کسی که نماز را سبک بشمارد.</p> <p>۶. عادت دادن شخص به نظم.</p> <p>۷. وجود نشاط، آمادگی و حضور قلب بیشتر در اول وقت.</p> <p>۸. در روایتی از امام رضا - علیه السلام - می‌خوانیم: وقتی وقت نماز فرا رسید نماز را در اول وقت بجای آر زیرا که نمی‌دانی در وقت بعدی چه اتفاقی خواهد افتاد.</p>	<p>چرا نماز تو اول وقت می‌خوانی؟</p>	<p>نمازهای یومیه</p>
<p>پاسخ به عهده گزینش شونده</p>	<p>تو این روزها اذن صبح و ظهر چه ساعتی هستش؟</p>	

مقوله	سؤالات	پاسخ‌ها
	نماز قضا داری؟ بیشتر چه وقتایی قضا میشه؟	پاسخ به عهده گزینش شونده
	از کی شروع کردی به نماز خوندن؟	پاسخ به عهده گزینش شونده
	تا حالا ترک کردی نمازتو؟	پاسخ به عهده گزینش شونده
	سلام نماز رو بگو	پاسخ به عهده گزینش شونده
	در قنوت چی میگی؟	ربنا لا تُرِغْ قُلُوبَنَا بَعْدَ إِذْ هَدَيْتَنَا وَهَبْ لَنَا مِنْ لَدُنْكَ رَحْمَةً إِنَّكَ أَنْتَ الْوَهَّابُ. پروردگارا دلهايمان را، بعد از آنکه هدايت کردی از راه حق منحرف مگردان؛ و از سوی خود رحمتی بر ما ببخش زیرا تویی بخشنده. آل عمران آیه ۸. رَبِّ اغْفِرْ وَارْحَمْ وَ أَنْتَ خَيْرُ الرَّاحِمِينَ. پروردگارا! مرا بیا مرز و رحمت کن؛ و تو بهترین رحم کنندگانی. سوره مومنون آیه ۱۱۸
	قیام متصل به رکوع	قیامی است که قبل از رکوع رفتن داریم.
	آخرین بار کی رفتی نماز عید؟	پاسخ به عهده گزینش شوندگان
	نماز عید فطر واجب یا مستحب، همیشه به فرادی خوندهش؟ نماز عید فطر چطور کی خونده میشه؟	در زمان حضور امام، واجب است و باید به جماعت خواند اما در غیاب ایشان، مستحب است و میتوان به جماعت یا فرادی خواند. وقت نماز عید فطر و قربان از اول آفتاب روز عید تا ظهر است.
نمازهای دیگر	نماز عید فطر و نحوه خوندهش؟	نماز عید فطر دو رکعت است، در رکعت اول بعد از خواندن حمد و سوره باید پنج تکبیر بگوید و بعد از هر تکبیر یک قنوت بخواند و بعد از قنوت پنجم تکبیر دیگری بگوید و به رکوع رود، بعد دو سجده به جا آورد و برخیزد و در رکعت دوم چهار تکبیر بگوید و بعد از هر تکبیر قنوت

پاسخ‌ها	سؤالات	مقوله
<p>بخواند و تکبیر پنجم را بگوید و به رکوع رود و بعد از رکوع دو سجده به جا آورد و تشهد بخواند و سلام گوید. در قنوت این نماز هر دعایی کافی است، ولی مناسب است این دعا را به قصد ثواب بخواند:</p> <p>اللَّهُمَّ أَهْلَ الْكِبْرِيَاءِ وَالْعِظَمَةِ وَأَهْلَ الْجُودِ وَالْجَبْرُوتِ وَأَهْلَ الْعَفْوِ وَالرَّحْمَةِ وَأَهْلَ التَّقْوَى وَالْمَغْفِرَةِ اسْأَلُكَ بِحَقِّ هَذَا الْيَوْمِ الَّذِي جَعَلْتَهُ لِلْمُسْلِمِينَ عِيداً وَلِمُحَمَّدٍ صَلَّى اللَّهُ عَلَيْهِ وَآلِهِ ذُخْراً وَشَرَفاً وَكَرَامَةً وَمَزِيداً أَنْ تُصَلِّيَ عَلَيَّ مُحَمَّدَ وَآلِ مُحَمَّدٍ وَأَنْ تُدْخِلَنِي فِي كُلِّ خَيْرٍ أَدْخَلْتَ فِيهِ مُحَمَّدًا وَآلَ مُحَمَّدٍ وَأَنْ تُخْرِجَنِي مِنْ كُلِّ سُوءٍ أَخْرَجْتَ مِنْهُ مُحَمَّدًا وَآلَ مُحَمَّدٍ صَلِّوْا تَعَلِّيهِ وَعَلَيْهِمُ اللَّهُمَّ إِنِّي اسْأَلُكَ خَيْرَ مَا سَأَلْتُكَ بِهِ عِبَادَتِكَ الصَّالِحُونَ وَأَعُوذُ بِكَ مِمَّا اسْتَعَاذَ مِنْهُ عِبَادُكَ الْمُخْلِصُونَ.</p>		
<p>۱. نماز یومیه ۲. نماز آیات ۳. نماز میت ۴. نماز طواف واجب خانه کعبه ۵. نماز قضای والدین که بر دوش پسر بزرگتر است. ۶. نمازی که به سبب اجیر شدن یا نذر یا قسم و یا عهد واجب می شود.</p>	<p>نماز های واجب؟</p>	
<p>بخش اول سؤال مربوط به گزینش شونده گرامی می باشد. اما پاسخ بخش دوم سؤال: حمد + ۵ قسمت سوره یا ۵ بار حمد و سوره مثال:</p>	<p>تا حالا نماز آیات خونیدی؟ کی؟ به چه صورتی خوانده میشه؟</p>	

مقوله	سؤالات	پاسخ‌ها
		<p>۱. بسم‌الرحمن الرحیم &lt; رکوع</p> <p>۲. قل هو‌الله احد &lt; رکوع</p> <p>۳. الله الصمد &lt; رکوع</p> <p>۴. لم یلد و لم یولد &lt; رکوع</p> <p>۵. ولم یکن له کفواً احد &lt; رکوع</p> <p>* هر کدام از رکوع های نماز آیات رکن است و اگر آنها را کم یا زیاد کنیم چه عمدی، چه سهوی موجب باطل شدن نماز می‌شود.</p> <p>* قبل از رکوع دهم، می‌توان قنوت را خواند.</p> <p>* نماز آیات را می‌توان به جماعت خواند که در آن صورت حمد و سوره را امام جماعت باید بخواند.</p>
	نماز آیات کی‌ها خوانده می‌شود؟	<p>حتی‌اگر نترسیم:</p> <p>زلزله - خسوف (ماه گرفتگی) - کسوف (خورشید گرفتگی).</p> <p>اگر بیشتر مردم ترسند، واجب می‌شود:</p> <p>رعد و برق شدید - بادهای زرد و سرخ.</p>
	آیا هنگام بارش شدید باران و سیل باید نماز آیات خواند؟	اگر موجب ترس شود، بله.
	آیا همیشه نماز آیات رو به جماعت خواند؟	بله
	کدوم نماز قنوت و سوره ندراره؟	نماز احتیاط
	نحوه‌ی خواندن نماز احتیاط و اینکه چه موقع خوانده می‌شود؟	<p>اذان و اقامه ندارد. بدون به هم زدن صورت نماز، تکبیر می‌گوییم و بعد حمد را آهسته (بدون بلند خواندن) خوانده و سوره را نمی‌خوانیم و بعد رکوع، سجود و تشهد و سلام. زمان آن:</p>

پاسخ‌ها	سؤالات	مقوله
<p>بعد از سجده دوم: شک بین ۲ و ۳: دو تا نشسته یا یکی ایستاده شک بین ۲ و ۴: دو تا ایستاده شک بین ۲ و ۳ و ۴: دو تا نشسته + دو تا ایستاده</p> <p>قبل از رکوع: بین ۴ و ۵: دو تا نشسته یا یکی ایستاده</p> <p>در هر حالتی: بین ۳ و ۴: دو تا نشسته یا یکی ایستاده</p>		
<p>۱. نماز های نافله: صبح (۲) - نافله ظهر (۸) - نافله عصر (۸) - نافله مغرب (۴) - نافله عشا (۲) - نافله شب (۱۱). ۲. نماز غفيله (۲ رکعت بين مغرب و عشا) ۳. نماز سلام مسجد ۴. نماز عيد غدیر (۲ رکعت نزدیک به ظهر) ۵. نماز جعفر طیار (در طول روز و شب می‌شود، خواند اما بهتر است در روز جمعه آنرا خواند، ۴ رکعت و دو سلام دارد). ۶. نماز شکر ۷. نماز وحشت (۲ رکعت و برای میتی که شب اول قبر دارد: حمد + آیه الکرسی / حمد + ۱۰ بار سوره قدر) ۸. نماز اموات</p>	<p>نماز های مستحبی چند تا ش رو بگو</p>	
<p>نماز احتیاط - نماز ظهر - نماز عصر</p>	<p>نماز هایی که با یدی با صدای آرام خوانند؟</p>	

ای استناد

## ۴. عقیدتی

مقوله	سؤالات	پاسخ‌ها
	سوره کوثر در وصف کی اومده؟	حضرت فاطمه (س) / محققاً ما به تو خیر کثیر (فاطمه س) دادیم (۱). پس به شکرانه اش برای پروردگارت نماز بخوان و قربانی کن (۲). به راستی که دشمن تو مقطوع النسل است (۳).
	میزان آشنایی با قرآن، قرآن بلدی بخونی؟	پاسخ به عهده گزینش شونده گرامی
	قرآنو بازکن و بخون.	به عهده گزینش شونده گرامی
	کدوم سوره قرآن بیشتر میخونی؟ دریاره چیه؟	پاسخ به عهده گزینش شونده گرامی
قرآن	قلب قرآن؟	یس. دلیل اینکه به آن قلب قرآن می‌گویند این است که این سوره به اصول سه گانه توحید، نبوت و معاد پرداخته است که معصومین (ع) آن را قلب قرآن نام نهادند.
	عروس قرآن؟	الرحمن. دلیل اینکه به آن عروس قرآن گفته می‌شود این است که در این سوره کنایه‌ها، استعاره‌ها و ایهام بیشتری قرار داده شده است و همین باعث شده است که سوره الرحمن زیباتر از سوره‌های دیگر باشد و شباهتش به عروس بیشتر شود؛ زیرا که حسن و زیبایی عروس در این است که در زیر تور و پشت پرده باشد.
	آیت الکرسی در کدام سوره قرآنه؟ و کدام آیه‌ها؟	سوره بقره و آیه ۲۵۵، ۲۵۶ و ۲۵۷. اللَّهُ لَا إِلَهَ إِلَّا هُوَ الْحَيُّ الْقَيُّومُ لَا تَأْخُذُهُ سِنَّةٌ وَلَا نَوْمٌ لَهُ مَا فِي السَّمَاوَاتِ وَمَا فِي الْأَرْضِ مَنْ ذَا الَّذِي يَشْفَعُ عِنْدَهُ إِلَّا بِإِذْنِهِ يَعْلَمُ مَا بَيْنَ أَيْدِيهِمْ وَمَا خَلْفَهُمْ وَلَا يُحِيطُونَ بِشَيْءٍ مِنْ عِلْمِهِ إِلَّا بِمَا شَاءَ وَسِعَ كُرْسِيُّهُ

پاسخ‌ها	سؤالات	مقوله
<p>السَّمَاوَاتِ وَالْأَرْضِ وَلَا يُوَدُّهُ حِفْظُهُمَا وَهُوَ الْعَلِيُّ الْعَظِيمُ (۲۵۵). لَا إِكْرَاهَ فِي الدِّينِ قَدْ تَبَيَّنَ الرُّشْدُ مِنَ الْغَيِّ فَمَنْ يَكْفُرْ بِالطَّاغُوتِ وَيُؤْمِن بِاللَّهِ فَقَدِ اسْتَمْسَكَ بِالْعُرْوَةِ الْوُثْقَىٰ لَا انْفِصَامَ لَهَا وَاللَّهُ سَمِيعٌ عَلِيمٌ (۲۵۶). اللَّهُ وَلِيُّ الَّذِينَ آمَنُوا يُخْرِجُهُم مِّنَ الظُّلُمَاتِ إِلَى النُّورِ وَالَّذِينَ كَفَرُوا أُولِيَاءُ لَهُمُ الطَّاغُوتُ يُخْرِجُونَهُم مِّنَ النُّورِ إِلَى الظُّلُمَاتِ أُولَٰئِكَ أَصْحَابُ النَّارِ هُمْ فِيهَا خَالِدُونَ (۲۵۷).</p>		
<p>پاسخ به عهده گزینش شونده گرامی</p>	<p>تاثیر قرآن تو زندگی‌ت چی بوده؟</p>	
<p>بِسْمِ اللَّهِ الرَّحْمَنِ الرَّحِيمِ. إِنَّا أَنْزَلْنَاهُ فِي لَيْلَةِ الْقَدْرِ (۱) مَا [قرآن را] در شب قدر نازل کردیم (۱). وَمَا أَذْرَاكَ مَا لَيْلَةُ الْقَدْرِ (۲) و از شب قدر چه آگاهت کرد (۲). لَيْلَةُ الْقَدْرِ خَيْرٌ مِّنْ أَلْفِ شَهْرٍ (۳) شب قدر از هزار ماه ارجمندتر است (۳). تَنْزِيلَ الْمَلَائِكَةِ وَالرُّوحِ فِيهَا يَأْتِنُ رَبَّهُمْ مِنْ كُلِّ امْرٍ (۴) در آن [شب] فرشتگان با روح به فرمان پروردگارشان برای هر کاری [که مقرر شده است] فرود آیند (۴). سَلَامٌ هِيَ حَتَّىٰ مَطْلَعِ الْفَجْرِ (۵) [آن شب] تا دم صبح صلح و سلام است (۵)</p>	<p>سوره قدر بخون</p>	
<p>الْحَمْدُ لِلَّهِ رَبِّ الْعَالَمِينَ: ستایش مخصوص خداوندی است که پروردگار جهانیان است. الرَّحْمَنُ الرَّحِيمُ: بخشنده و بخشایشگر است. مَالِكِ يَوْمِ الدِّينِ: (خداوندی که) صاحب روز جزا است. إِيَّاكَ تَعْبُدُ وَإِيَّاكَ نَسْتَعِينُ: (پروردگارا) تنها تو را می‌پرستیم و تنها از تو یاری می‌جوییم. إِيَّاكَ تَعْبُدُ وَإِيَّاكَ نَسْتَعِينُ:</p>	<p>معنی سوره حمد؟</p>	



پاسخ‌ها	سؤالات	مقوله
<p>(پروردگارا) تنها تو را می پرستیم و تنها از تو یاری می جویم. اِهْدِنَا الصِّرَاطَ الْمُسْتَقِيمَ: ما را به راه راست هدایت فرما. صِرَاطَ الَّذِينَ أَنْعَمْتَ عَلَيْهِمْ: راه کسانی که آنان را مشمول نعمت خود ساختی. غَيْرِ الْمَغْضُوبِ عَلَيْهِمْ وَلَا الضَّالِّينَ: نه راه کسانی که بر آنان غضب کردی و نه گمراهان.</p>		
<p>۱. رَبَّنَا لَا تُزِغْ قُلُوبَنَا بَعْدَ إِذْ هَدَيْتَنَا وَهَبْ لَنَا مِنْ لَدُنْكَ رَحْمَةً إِنَّكَ أَنْتَ الْوَهَّابُ. پروردگارا دل‌هایمان را، بعد از آنکه هدایت کردی از راه حق منحرف مگردان؛ و از سوی خود رحمتی بر ما ببخش زیرا تویی بخشنده. آل عمران آیه ۸          ۲. رَبِّ اغْفِرْ وَارْحَمْ وَأَنْتَ خَيْرُ الرَّاحِمِينَ. پروردگارا! مرا بیا مرز و رحمت کن؛ و تو بهترین رحم کنندگانی. سوره مومنون آیه ۱۱۸</p>	<p>دعاهای قرآنی؟</p>	
<p>سجده، ۱۵ - علق، ۱۹ - فصلت، ۳۷ - نجم، ۶۲          لا اله الا الله حقاً حقاً سَجَدْتُ لَكَ يَا رَبِّ تَضَرُّعاً وَرِقَاباً</p>	<p>سجده واجب؟</p>	
<p>انی تارک فیکم الثقلین کتاب الله وعترتی ما ان تمسکتُم بهما لن تضلوا بعدی:          من در میان شما دو امانت نفیس و گرانبها می‌گذارم یکی کتاب خدا قرآن و دیگری عترت و اهل بیت خودم. مادامی که شما به این دو دست بیازید، هرگز گمراه نخواهید شد و این دو یادگار من هیچ‌گاه از هم جدا نمی‌شوند؛ مگر بر سر حوض کوثر.</p>	<p>حدیث ثقلین؟</p>	<p>دعاها و احادیث</p>
<p>پاسخ به عهده گزینش شونده</p>	<p>کدوم دعا بیشتر روت تاثیر داره؟          باچه دعاهایی مانوسی؟ یک          فرازش؟</p>	

پاسخ‌ها	سؤالات	مقوله
<p>۱. خواند دو رکعت نماز؛ در هر رکعت یک حمد و هفت بار سوره توحید. پس از نماز ۷۰ بار استغفرالله ربی و اتوب علیه.</p> <p>۲. جوشن کبیر خوانده می‌شود.</p> <p>۳. همه موارد زیر ده بار گفته می‌شود:</p> <p>بِكَ يَا اللَّهُ - بِمُحَمَّدٍ - بَعْلَى - بِفَاطِمَةَ - بِالْحُسَيْنِ - بِالْحُسَيْنِ - بَعْلَى بْنِ الْحُسَيْنِ - بِمُحَمَّدِ بْنِ عَلِيٍّ - بِجَعْفَرِ بْنِ مُحَمَّدٍ - بِمُوسَى بْنِ جَعْفَرٍ - بَعْلَى بْنِ مُوسَى - بِمُحَمَّدِ بْنِ عَلِيٍّ - بَعْلَى بْنِ مُحَمَّدٍ - بِالْحُسَيْنِ بْنِ عَلِيٍّ - بِلِجْجِهِ.</p> <p>۴. زیارت بارگاه امام حسین (ع) و خواندن زیارت آن حضرت.</p> <p>۵. بیدار ماندن و عبادت کردن برای آمرزیده شدن گناهان.</p> <p>۶. خواندن دو رکعت نماز برای سلامتی امام زمان (عج).</p> <p>۷. خواندن دو رکعت نماز برای شادی روح گذشتگان.</p> <p>۸. خواندن دو رکعت نماز تقدیم به اهل بیت (ع) و خواندن دعای توسل.</p> <p>۹. خواندن دو رکعت نماز حضرت زهرا (س) که در رکعت اول بعد از حمد صد مرتبه سوره قدر و در رکعت دوم بعد از حمد صد مرتبه سوره توحید خوانده می‌شود.</p>	<p>شب احیا چه دعاهایی می‌خوانند؟</p>	
<p>السَّلَامُ عَلَيَّ الْحُسَيْنِ وَعَلَى عَلِيِّ بْنِ الْحُسَيْنِ وَعَلَى أَوْلَادِ الْحُسَيْنِ وَعَلَى أَصْحَابِ الْحُسَيْنِ</p>	<p>در زیارت عاشورا به کی سلام داده شده؟</p>	
<p>در صبح جمعه قبل از طلوع آفتاب / عید فطر / عید قربان / عید غدیر. این دعا مشتمل بر عقاید</p>	<p>دعای ندبه خطاب به کیه؟ و مضمونش؟ و ندبه یعنی چه؟</p>	

مقوله	سوالات	پاسخ‌ها
		شیعه و تأسف بر غیبت امام مهدی (عج) است که از امام ششم شیعیان (امام صادق (ع)) نقل شده است.
	ذکر جوشن کبیر چیه؟	۱۰۰۱ اسم خداوند پشت سر هم آورده شده است. سبحانک لا اله الا انت، الغوث الغوث خلصنا من النار یا رب.
	ذکر سجده زیارت عاشورا؟	در عبارت سجده زیارت عاشورا می خوانیم: «اللَّهُمَّ لَكَ الْحَمْدُ حَمْدَ الشَّاكِرِينَ لَكَ عَلَيَّ مُصَابِهِمُ الْحَمْدُ لِلَّهِ عَلَيَّ عَظِيمَ رِزْيَتِي اللَّهُمَّ ارْزُقْنِي شَفَاعَةَ الْحُسَيْنِ يَوْمَ الْوُرُودِ وَ تَبَّتْ لِي قَدَمُ صِدْقٍ عِنْدَكَ مَعَ الْحُسَيْنِ وَ أَصْحَابِ الْحُسَيْنِ الَّذِينَ بَدَلُوا مَهْجَهُمْ دُونَ الْحُسَيْنِ عَلَيْهِ السَّلَامُ»
	انی سلم لمن سالمکم و... یا کدوم یکی از فروع دین ارتباط داره؟	تولی و تبری
	چه بخشی تو دعای توسل تکرار میشه؟	یا وجیها عندالله اشفع لنا عندالله.
	مضمون دعای کمیل چیه؟	دعای کمیل از دعاهای رایج شیعیان است. مشهور است که دعای کمیل آن دعایی است که جبرائیل به خضر آموخت پس علی آن را به کمیل بن زیاد که از خواص وی بود آموخت. این دعا، حاوی مضامین بلند عرفانی است و شامل مجموعه‌هایی از سری جملات هم آهنگ است که خواننده دعا در آنها از خداوند طلب بخشایش گناهانش را می‌نماید. دعای کمیل در شب‌های نیمه شعبان و در هر شب جمعه خوانده می‌شود. به باور شیعیان برای آسودگی از شر دشمنان و گشایش روزی و آمرزش گناهان

پاسخ‌ها	سؤالات	مقوله
<p>سودمند است. این دعا با درخواست از خداوند متعال شروع می‌شود. در خواستی عارفانه توام با سوز عاشقانه. حضرت علی(ع) این دعا را با نام خداوند آغاز می‌کند و سپس در چند فقره، خداوند را به رحمت، قوت، جبروت، عزت، عظمت، سلطنت، ذات، اسماء، علم و نور الهی، قسم می‌دهد. بعد خداوند را با «یا نُورُ یا قُدُّوسُ یا اَوَّلُ الْاَوَّلینَ وَاٰخِرَ الْاٰخِرینَ» ندا می‌کند و آثار و پیامدهای اعمال آدمی را متذکر می‌شود و از خداوند طلب آموزش می‌کند. حضرت در فقره بعد با یاد خدا به خدا تقرب می‌جوید، خدا را شفیع در گاهش قرار داده و از خدا می‌خواهد که به پیشگاه خدا نزدیک شود، سپاسگزاری را به او یاد دهد، یاد خدا را به خود الهام دهد و از خدا طلب خضوع و خشوع می‌کند و با عباراتی شدت اشتیاق خود به حق را ابراز می‌دارد. در ادامه به فرمان عالم گیر خداوند اشاره کرده و با عباراتی خداوند را بخشایشگر خطاپوش معرفی می‌کند. در بندهای دیگر، آن حضرت ستار العیوب بودن خداوند، دفع بلاها، حفظ لغزش‌ها و عدم استحقاق بنده به تعریف و تمجیدها را بیان می‌کند و به ضعف و نقص و بدحالی، به سنگینی بلا و گرفتاری و قصور و نارسایی‌ها و ... اشاره می‌کند و از آنها نزد خداوند شکوه کرده و از لطف و کرم الهی برای رفع آنها کمک می‌خواهد و با توسل به عزت خداوند از او خواسته‌هایی مطرح می‌کند و به تسویل نفس و تزیین شیطان اشاره می‌کند. با اشاره به سابقه</p>		

پاسخ‌ها	سؤالات	مقوله
<p>لطف ازلی عنوان می‌کند که خداوند موحدان و پرستشگران را در آتش جهنم نمی‌سوزاند. سپس آن حضرت به مقایسه بلاهای دنیا با عذاب آخرت می‌پردازد و می‌گوید: «ای مولای من گیرم که بر عذاب تو شکبیا باشم چگونه بر دوریت صبر کنم؟» بعد به امید بنده مؤمن به رحمت خداوند اشاره می‌کند و می‌گوید «آیا مومن و کافر یکسانند؟» و در پایان باندا کردن خداوند به صفاتی، از خداوند حاجت‌هایی می‌طلبد.</p>		
<p>پاسخ به عهده‌گزینش شونده گرامی</p>	<p>بسیج هستی؟</p>	<p><b>فعالیت‌های عقیدتی و مذهبی</b></p>
<p>در اساننامه بسیج مستضعفین، بسیج را به این صورت تعریف کرده اند: «بسیج نهادی است تحت فرماندهی مقام معظم رهبری که هدف آن نگهداری از انقلاب اسلامی و دستاوردهای آن و جهاد در راه خدا و گسترش حاکمیت قانون خدا در جهان طبق قوانین جمهوری اسلامی ایران و تقویت کامل بنیه دفاعی از طریق همکاری با سایر نیروهای مسلح و همچنین کمک به مردم هنگام بروز بلا و حوادث غیر مترقبه می‌باشد». بسیج به لحاظ لغوی به معنای سامان و اسباب ساز و سازمان جنگ: عزم و اراده، آماده سفر شدن و آماده ساختن نیروهای نظامی یک کشور برای جنگ می‌باشد.</p>	<p>بسیج رو تعریف کن.</p>	
<p>پاسخ به عهده‌گزینش شونده گرامی</p>	<p>چه دوره‌ها و آموزش‌هایی تو بسیج دیدی؟</p>	
<p>پاسخ به عهده‌گزینش شونده گرامی</p>	<p>کدام پایگاه عضو هستی؟ از کی؟ فعال یا عادی؟</p>	

مقوله	سؤالات	پاسخ‌ها
	اسم فرمانده بسیج‌تون؟	پاسخ به عهده‌گزینش شونده گرامی
	چه فعالیت‌هایی توی بسیج انجام میدی؟	پاسخ به عهده‌گزینش شونده گرامی
	در فعالیت‌های مذهبی شرکت میکنی؟ خودت فعالیت‌های مذهبی انجام میدی؟ چه زمانی؟ چیکار میکنی؟	پاسخ به عهده‌گزینش شونده گرامی
	آخرین باری که مسجد رفتی؟	پاسخ به عهده‌گزینش شونده گرامی
	اسم مسجد دانشگاتون؟	پاسخ به عهده‌گزینش شونده گرامی
	منظور از پرستش فقط نمازه؟ عبادتو توی چی مبینی؟	خیر، همین که قدم بر میداریم برای رضای خدا، خود نوعی پرستش است و نماز، هویت دینی یک مسلمان می‌باشد.
	آداب روز جمعه؟	غسل - مسواک - نماز جمعه - استفاده از عطر - پوشیدن بهترین لباس - در شب جمعه مقاربت با همسر مستحب است - رفتن به مسجد با لباس سفید - پیاده رفتن به نماز جمعه - خواندن سوره کهف در جمعه (زمان خاصی ندارد) - زیاد صلوات فرستادن.
	شب‌های قدر چه شب‌هایی هستن؟ اتفاقاتی که میفته؟ چه دعا‌هایی خونده میشه؟	شب ۱۹، ۲۱ و ۲۳ / ضربت خوردن و شهادت امام علی (ع) / نزول یکباره قرآن / جوشن کبیر خونده میشه / سوره عنکبوت و سوره قدر خونده میشه.
	روزه میگیری؟ از کی؟	پاسخ به عهده‌گزینش شونده گرامی
	از چه راهی با خدا ارتباط برقرار می‌کنی.	پاسخ به عهده‌گزینش شونده گرامی
	وظیفه ما در غیاب امام زمان چیه؟	می‌توان در یک جمله خلاصه کرد و گفت بزرگ‌ترین وظیفه شیعیان در عصر غیبت، انتظار

پاسخ‌ها	سؤالات	مقوله
<p>فرج و ظهور دولت جهانی حضرت مهدی (عج) است. عملی شدن انتظار فرج این است که به تمام دستورات قرآن، پیامبر اکرم (ص) و اهل بیت (ع) جامه عمل پبوشانیم.</p> <p>۱. معرفت و شناخت کامل دین یعنی در بخش عقاید، اخلاق، احکام و وظایف، منتظر باید تفکر اسلامی خویش را سامان داده و وضعیت روحی و ایمان درونی خود را تقویت کند.</p> <p>۲. پیروی کامل از قرآن و فرهنگ اهل بیت (ع) به عنوان نزدیک ترین افراد به پیامبر اکرم (ص) و آگاه ترین افراد از حقایق دین.</p> <p>۳. اطاعت از نایبان بر حق امام زمان (مراجع معظم) تقلید به ویژه ولی فقیه) و همراه و هم گام با آنان و زمینه ظهور را فراهم کردن.</p> <p>۴. اتحاد و همبستگی با دیگر مسلمانان به ویژه شیفتگان و منتظران واقعی آن حضرت.</p> <p>۵. کسب آمادگی فکری و فرهنگی جهت آشنا ساختن مردم با حقایق دین و مقابله با خرافات، شبهات و گرایش های انحرافی.</p> <p>۶. امیدواری بر قیام و انقلاب آن حضرت و امید دادن به دیگران و زنده نگه داشتن امید به گشایش همه امور.</p> <p>۷. رعایت تقوا، خود را در محضر خدا دانستن، ترک گناه و خشکانیدن زمینه گناه در جامعه.</p> <p>۸. صبر کردن در برابر آزار و تکذیب و سایر محنت ها و سفارش به حق و صبر و مبارزه همه جانبه در برابر دشمن.</p>		

پاسخ‌ها	سؤالات	مقوله
<p>۹. ایجاد محبت امام عصر (عج) در دل دیگران در میان مردم با ذکر احادیث، کرامات، مناقب و فضایل واقعی و معتبر ایشان و عنایت او به مردم به عنوان امام مهربان و دلسوز.</p> <p>۱۰. آماده سازی محیط برای تشکیل حکومت عدل جهانی و اجرای عدالت و ریشه کن شدن درخت ستم.</p> <p>۱۱. اهتمام در ادای حقوق برادران دینی و دفاع و یاری شیعیان واقعی.</p>		
<p>نظریه ای در فقه شیعه است که نظام سیاسی مشروع در دوران غیبت امامان معصوم را بیان می کند. الهی و انتصابی است و نه انتخابی. فقیه عالم، همه اختیارات امامان معصوم شیعه را داراست، برای همین به او می گویند مطلق. وظایف ولایت فقیه به اصل ۱۱۰ قانون اساسی بر می گردد. پس: فقیه جامع شرایط همان فرد اصلاحی است که در زمانی که مردم از وجود رهبر معصوم محروم اند از طرف خدای متعال و معصوم اجازه اجرای احکام اجتماعی اسلام به او داده شده است.</p>	ولایت فقیه چیه؟	مبانی دینی
<p>به این دلیل که انسان علاوه بر هدایت تکوینی خداوند، نیازمند به هدایت تشریحی نیز می باشد. بنابراین هدایت تشریحی انسان ها، از طریق اصل نبوت و امامت تکمیل می گردد. در ضمن، با استفاده از این دو اصل، ما از پیامبران و امامان الگوبرداری خواهیم کرد و زندگی خود را با آنچه باید شود، تطابق خواهیم داد.</p>	اصل نبوت و امامت چرا لازمه؟	
<p>بایستی گفت که در این دنیا همه حقوق افراد داده نمی شود، یک بخشی از حقوق افراد برای</p>	رابطه ی معاد و عدل الهی؟	



پاسخ‌ها	سؤالات	مقوله
<p>دنیایی دیگر می‌ماند. اگر معاد وجود نداشته باشد، مردم به حقوق خودشان نمی‌رسند. پس بایستی حتما معاد باشد تا عدالت برقرار شود.</p>		
<p>دربارهٔ ضرورت وجود امام در جامعه باید گفت: همان طور که وجود پیامبران برای رشد و تکامل بشر لازم و ضروری است، وجود امام هم برای حفظ دین و ادامهٔ برنامهٔ پیامبر ضرورت دارد. یکی از دلایل، این است که نبوت و امامت یک فیض معنوی از جانب خداوند است و بر اساس قاعده لطف چنین لطفی باید همیشگی باشد. دلایل دیگر:</p> <p>۱. حراست از دین خداوند در سطح کلی.          ۲. تربیت نفوس مستعد          ۳. بقای مذهب          ۴. وجود الگویی زنده که بتواند مقتدای مردم قرار بگیرد.</p>	<p>علت وجود امام؟</p>	
<p>۱. لزوم استمرار در دعوت و ترویج پیوسته آن          ۲. رشد تدریجی سطح فکر جوامع و اقوام          ۳. از بین رفتن یا تحریف تعلیمات پیامبر پیشین</p>	<p>علت اومدن پیامبران متعدد؟</p>	
<p>با کتاب - حضور در سخنرانی‌ها و یا گوش دادن به فایل صوتی سخنرانی‌ها - قرآن - رساله - مقاله از وبگاه‌ها.</p>	<p>مباحث دینی رو چه جور دریافت میکنی؟</p>	
<p>اصول دین: توحید، معاد، نبوت، امامت و عدالت (تحقیقی).          فروع دین: نماز، روزه، خمس، زکات، حج، جهاد، امر به معروف، نهی از منکر، تولی، تبری (تقلیدی).</p>	<p>اصول دین، فروع دین، در چه مسائلی باید تقلید کرد؟</p>	

پاسخ‌ها	سؤالات	مقوله
<p><b>امامت</b>، مهمترین اصل اعتقادی تشیع است که شیعه را از اهل سنت تمیز می دهد و به اهمیت همین بحث است که به شیعیان امامیه نیز می گویند. به معنی رهبری است و در اصطلاح یعنی کسی یا چیزی که با فرمان الهی، راهنما و هدایتگر انسان ها به راه راست است. یک مسلمان برای شناخت وظایف خود و برای هدایت‌مندی در هر زمان نیاز به رهبر و امام دارد، که راه شناس و درستکار باشد و او را به سوی خدا راهنمایی کند. این پیشوا حجتی است که توسط خدا انتخاب شده است و توسط پیامبر و امامان پیشین به مسلمانان معرفی می گردد. بنابراین امامت مفهومی بسیار بنیادی است و امام مسئولیت ها و ویژگی هایی دارد.</p> <p><b>عدل</b>، به معنای ضرورت رعایت استحقاق‌های مکلفان در مقام جزا ( پاداش و عقاب) است. "عدل" در لغت به معنای "میانه روی" و اجتناب از افراط و تفریط است و اگر با "عن" متعدی شود، به معنای عدول و انصراف می آید. این واژه به معنای مثل و هم اندازه (معادل) نیز به کار گرفته می‌شود و گاه به معنای بدل و جانشین و فدیة است. در اصول دین، چنین معنایی دارد:</p> <p>الف. موزون بودن ب. معنی دوم عدل، تساوی و نفعی هرگونه تبعیض است. ج. رعایت حقوق افراد و عطا کردن به هر ذی حق، حق او را د . رعایت استحقاقها در افاضه وجود و امتناع نکردن از افاضه و رحمت به آنچه امکان وجود یا کمال وجود دارد.</p>	<p>امامت چیه؟ عدل چیه؟</p>	

پاسخ‌ها	سؤالات	مقوله
<p>مرجع تقلید کسی است که سالها - به طور معمول حدود چهل سال- درس فقهت خوانده و دارای قدرت فهم و استنباط عمیق از دین و احکام و روایات آن است. فقیه پس از سالها تحصیل علم فقهت به انتشار رساله عملیه می پردازد و وقتی که عده ی زیادی به تقلید از او پرداختند به عنوان مرجع تقلید شناخته می شود. اما ولی فقیه کسی است که فقیه است و توانایی فهم عمیق از دین و مبانی و احکام آن را دارد و گاهی نیز مرجع تقلید است - که البته لازم نیست که حتما مرجع تقلید باشد- و علاوه بر این دو مقام ولایت هم دارد. ولی فقیه سرپرست جامعه اسلامی است و حکم او همان حکم امام زمان(عج) است. مراجع عظام تقلید فقط دارای دو مقام فقهت و مرجعیت هستند اما ولی فقیه دارای مقام فقهت، مرجعیت- که الزامی نیست- و ولایت است. تمام مراجع عظام تقلید نیز همچون مردم عادی در احکام حکومتی باید تابع محض ولی فقیه باشند چون مقام ولایت فوق مقام مرجعیت است.</p>	<p>فرق مجتهد با ولی فقیه؟</p>	
<p>بهترین دلیل و معتبرترین مدرک برای اثبات اینگونه مطالب، قرآن کریم است که حَقانیت و اعتبار آن در درسهای گذشته، واضح گردید و کسی که یک مرور اجمالی بر این کتاب الهی بکند با کمال روشنی در خواهد یافت که دعوت آن، عمومی و همگانی است و اختصاص به قوم و اهل نژاد و زبان معینی ندارد. از جمله، در آیات زیادی همه مردم را بعنوان «یا أَيُّهَا النَّاسُ» یا بَنی</p>	<p>چرا اسلام دین جهانیه؟</p>	

پاسخ‌ها	سؤالات	مقوله
<p>آدم» مورد خطاب، قرار داده و هدایت خود را شامل همه انسانها «الناس و العالمین» دانسته است و همچنین در آیات فراوانی رسالت پیامبر اکرم(ص) را برای همه مردم «الناس و العالمین» ثابت کرده، و در آیه‌ای شمول دعوت وی را نسبت به هر کسی که از آن، مطلع شود مورد تأکید قرار داده است و از سوی دیگر، پیروان سایر ادیان را بعنوان «اهل کتاب» مورد خطاب و عتاب قرار داده و رسالت پیامبر اکرم(ص) را در مورد آنان تثبیت فرموده، و اساساً هدف از نزول قرآن کریم بر پیامبر اکرم(ص) را پیروزی اسلام بر سایر ادیان، شمرده است. با توجه به این آیات، جای هیچگونه شک و شبهه‌ای درباره همگانی بودن دعوت قرآن کریم و جهانی بودن دین مقدس اسلام، باقی نمی‌ماند.</p>		
<p>عاشورا روز دهم ماه محرم است. شهرت این روز نزد شیعیان به دلیل وقایع عاشورای سال ۶۱ هجری قمری است که با گاه‌شماری هجری خورشیدی این روز مطابق است با ۲۱ مهر ۵۹ در این روز امام حسین (ع) و یارانش در واقعه کربلا در جنگ با لشکر یزید به شهادت رسیدند و مسلمانان در آن روز سوگواری می‌کنند. اولین مراسم سوگواری را حضرت زینب (س) در مسجد کوفه بر امام حسین (ع) برگزار کرد. قبل از آن در کنار اجساد شهدا در کربلا برگزار شد. روزه در این روز، مکروه است.</p>	<p>واقعه ی عاشورا؟</p>	<p>تاریخ اسلام</p>

پاسخ‌ها	سؤالات	مقوله
<p>امام محمد باقر (ع) - تولد: ۱ رجب ۵۷ هجری - شهادت: ۷ ذی الحجه ۱۱۴ هجری - محل دفن: قبرستان بقیع.</p> <p>امامان به ترتیب:</p> <ol style="list-style-type: none"> <li>۱. علی (ع): علی بن ابی الطالب (ع)</li> <li>۲. حسن (ع): حسن بن علی (ع)</li> <li>۳. حسین (ع): حسین بن علی (ع)</li> <li>۴. سجاد (ع): علی بن الحسین (ع)</li> <li>۵. محمد باقر (ع): محمد بن علی (ع)</li> <li>۶. جعفر صادق (ع): جعفر بن محمد (ع)</li> <li>۷. موسی کاظم (ع): موسی بن جعفر (ع)</li> <li>۸. رضا (ع): علی بن موسی (ع)</li> <li>۹. محمد تقی (ع): محمد بن علی (ع)</li> <li>۱۰. علی نقی (ع): علی بن محمد (ع)</li> <li>۱۱. عسگری (ع): حسن بن علی (ع)</li> <li>۱۲. مهدی (عج): محمد بن حسن (ع)</li> </ol>	<p>امام پنجم کیه؟</p>	
<ol style="list-style-type: none"> <li>۱. غزوه ابواء - نام دیگر این غزوه ودان است - ماه صفر سال دوم هجری.</li> <li>۲. غزوه بواط - در محلی به نام رضوی - ماه ربیع الاول سال دوم هجری.</li> <li>۳. غزوه عشیره - جمادی الاولی سال دوم هجری. (واقعی آن را در جمادی الآخر می داند)</li> <li>۴. غزوه بدر اولی - نام دیگر این غزوه سفوان است - واقعی آن را در ربیع الاول سال دوم هجری می داند اما ظاهر عبارت ابن هشام جمادی الآخر این سال است.</li> </ol>	<p>غزوات پیامبرو بگو.</p>	

پاسخ‌ها	سؤالات	مقوله
<p>۵. غزوه بدر کبری - نام دیگرش بدر القتال است - ۱۷ رمضان سال دوم هجری.</p> <p>۶. غزوه بنی سلیم - نام دیگرش کدر - شوال سال دوم هجری.</p> <p>۷. غزوه بنی قینقاع - شوال سال دوم هجری.</p> <p>۸. غزوه سویق - ذی حجه سال دوم هجری.</p> <p>۹. غزوه غطفان در نجد - محرم سال سوم هجری. (واقعی آن را در ربیع الاول سال سوم ذکر می‌کند)</p> <p>۱۰. غزوه بحران - که معدنی در حجاز است - ربیع الاخر سال سوم هجری.</p> <p>۱۱. غزوه احد - شوال سال سوم هجری.</p> <p>۱۲. غزوه حمراء الاسد - شوال سال سوم هجری.</p> <p>۱۳. غزوه بنی نضیر - ربیع الاول سال چهارم هجری.</p> <p>۱۴. غزوه ذات الرقاع - در سرزمین نخل - جمادی الاولی سال چهارم هجری.</p> <p>۱۵. غزوه بدرالآخره - نام‌های دیگر آن، بدر الموعده و بدر الصفراء است - شعبان سال چهارم هجری. (واقعی آن را در ذی قعدة ذکر کرده است).</p> <p>۱۶. غزوه دوقه الجندل - ربیع الاول سال پنجم هجری.</p> <p>۱۷. غزوه خندق (احزاب) - شوال سال پنجم هجری. (واقعی آن را در ذی قعدة می‌داند)</p> <p>۱۸. غزوه بنی قریظه - ذی قعدة و ذی حجه سال پنجم هجری.</p>		

پاسخ‌ها	سؤالات	مقوله
<p>۱۹. غزوه بنی لحيان - جمادى الاولى سال ششم هجرى. (واقدى ربيع الاول مى داند)</p> <p>۲۰. غزوه ذى قرد - جمادى الاولى سال ششم هجرى</p> <p>۲۱. غزوه بنى المصطلق - شعبان سال ششم هجرى.</p> <p>۲۲. غزوه حديبيه - ذى قعده سال ششم هجرى.</p> <p>۲۳. غزوه خيبر - محرم سال هفتم هجرى. (واقدى صفر مى داند).</p> <p>۲۴. غزوه فتح مکه - رمضان سال هشتم هجرى.</p> <p>۲۵. غزوه حنين - نام ديگر آن هوازن است - شوال سال هشتم هجرى.</p> <p>۲۶. غزوه طائف - شوال سال هشتم هجرى.</p> <p>۲۷. غزوه تبوک - رجب سال نهم هجرى.</p>		
<p>على التقى الهادى (ع) - تولد: ۱۵ ذى الحجه ۲۱۲ هجرى - نام مادر: سمانه مغربيه (شاهزاده رومى). نام پدر: امام جواد (محمد تقى) (ع). شهادت: ۳ رجب ۲۵۴ هجرى. محل دفن: سامراء</p>	<p>امام دهم/اسمش؟ مادرش؟ محل دفنش؟</p>	
<p>۴ نفر از نائبان امام زمان (عج) در زمان غيبت صغرى بودند.</p>	<p>نواب اربعه کيا بودند؟</p>	
<p>اعلان عمومى براى سفر حج: در سال دهم هجرت، به دستور الهى، آخرين سفر پيامبر اکرم (صلى الله عليه و آله) به مکه براى تعليم حج و اعلام ولايت ائمه (عليهم السلام) آغاز شد. در اين سفر بيش از يكصد و بيست هزار نفر آن حضرت را همراهى کردند که در شرايط آن زمان سابقه نداشت. بلافاصله پس از پايان مراسم حج، اعلام شد همه حجاج از مکه خارج شوند و</p>	<p>واقعه غدیر؟</p>	

پاسخ‌ها	سؤالات	مقوله
<p>برای برنامه ای مهم در غدیر خم - که کمی قبل از محل جدا شدن کاروان‌ها بود - حضور یابند. سه روز پس از پایان مراسم حج، سیل جمعیت به سوی غدیر حرکت کردند. اجتماع عظیم در غدیر: با رسیدن به محل موعود، فرمان توقف از سوی پیامبر (صلی الله علیه و آله) صادر شد و مرکب‌ها از حرکت ایستادند و مردم پیاده شدند و هر کس جایی برای توقف سه روزه آماده کرد. به دستور پیامبر (صلی الله علیه و آله)، سلمان و ابوذر و مقداد و عمار زیر چند درخت کهنسال را آماده کردند و روی درختان، پارچه ای به عنوان سایبان قرار دادند. در زیر سایبان، منبری به بلندی قامت پیامبر (صلی الله علیه و آله) از سنگ‌ها و روانداز شتران ساختند به طوری که حضرت هنگام خطبه بر همه مردم مشرف باشند. هنگام ظهر، پس از ادای نماز جماعت، پیامبر (صلی الله علیه و آله) بر فراز منبر ایستادند و امیرالمؤمنین (علیه السلام) را فرا خواندند تا بر فراز منبر در سمت راست حضرت بایستند. قبل از شروع خطابه، امیرالمؤمنین (علیه السلام) بر فراز منبر یک پله پائین تر در طرف راست آن حضرت ایستاده بودند. سخنرانی پیامبر اکرم (صلی الله علیه و آله): پیامبر اکرم نگاهی به سمت راست و چپ جمعیت نمودند و منتظر شدند تا همه مردم در مقابل منبر اجتماع کنند. سپس سخنرانی تاریخی و آخرین خطابه رسمی خود را برای جهانیان آغاز کردند.</p>		



مقوله	سؤالات	پاسخ‌ها
	چگونگی شهادت حضرت فاطمه (س)	حضرت فاطمه (س) پشت در بود و یکی از یاران عمر با پاهای خود به در کوبید. پهلوه‌های حضرت شکست و حضرت محسن (ع)، سقط شد. دلیل هجوم به خانه حضرت علی (ع): عمر خواستار بیعت اجباری حضرت علی (ع) با ابوبکر بود. دستان آن حضرت را بسته و به سمت ابوبکر برد.
	چندتا از مراجع تقلید نام ببر.	آیت الله سید علی خامنه ای - آیت الله ناصر مکارم شیرازی - آیت الله جوادی آملی - آیت الله صافی گلپایگانی - آیت الله جعفر سبحانی.
	روزه قضا داری؟	پاسخ به عهده گزینش شوندگان گرامی
	کتاب اربعه چیست؟	کافی (اثر کلینی) - من لایحضره الفقیه (اثر شیخ صدوق) - تهذیب الاحکام (اثر شیخ طوسی) - الاستبصار (اثر شیخ طوسی).
سایر سؤالات مربوط به این بخش	الغدیر، مفاتیح، بحارالانوار اثر کیه؟ علامه امینی برای چه عصریه؟	الغدیر: عبدالحسین امینی نجفی مشهور به علامه امینی (متولد: ۱۳۲۰ هجری قمری در تبریز واقع در آذربایجان، وفات: ۲۸ ربیع‌الثانی ۱۳۹۰ هجری قمری یا ۱۲ تیر ۱۳۴۹ شمسی در تهران که در نجف مدفون شد.)، از مراجع بنام شیعه و نویسنده کتاب دائرةالمعارف الغدیر است. مفاتیح الجنان: مجموعه‌ای از دعاها، مناجات، زیارات، اعمال مخصوصه ایام سال و ماه و روزها است که به باور شیعیان از طرف پیامبر اسلام و ائمه شیعیان صادر شده و توسط شیخ عباس قمی جمع‌آوری و تدوین شده‌است. بحارالانوار: اثر علامه مجلسی
	سلفیه چه کسی هستن؟	سلفی به گروهی از مسلمانان اهل سنت گفته می‌شود که به دین اسلام تمسک جسته و خود را

پاسخ‌ها	سؤالات	مقوله
<p>پیرو سلف صالح می‌دانند و در عمل و اعتقادات خود از پیامبر اسلام، صحابه و تابعین تبعیت می‌کنند. سلفی‌ها تنها قرآن و سنت را منابع احکام و تصمیمات خود می‌دانند. سلفی‌گری دو رکن اساسی دارد: یکی بازگشت به شیوه زندگی و مرام سلف صالح و در نهایت سنت حجاز و به خصوص سنت اهل مدینه در ۱۴۰۰ سال پیش، و دوم مبارزه با بدعت، یعنی هر چیزی که سلفی‌ها جدید و خلاف سنت می‌دانند. سلفی‌های معاصر بر معنی خاصی از توحید تأکید زیادی دارند که باعث می‌شود افراد بسیاری «نامعتقد» به آن تلقی گردند.</p>		
<p>حنفیه - مالکیه - شافعیه - حنابله - اشاعره - اهل حدیث - معتزله - ماتریدییه.</p>	انواع مذاهب اهل سنت؟	
<p>بهائیت - وهابیت - فراماسونری - شیطان پرستی.</p>	مذاهب انحرافی؟	
<p>پاسخ به عهده گزینش شونده گرامی</p>	مرجع تقلیدت کیه؟	

## ۵. سیاسی

پاسخ‌ها	سؤالات	مقوله
<p>۱. سرنگونی رژیم استبدادی ۲۵۰۰ ساله شاهنشاهی</p> <p>۲. ارتقای مشارکت سیاسی مردم و آگاهی‌های مردم مانند انتخابات</p> <p>۳. کسب استقلال و آزادی</p> <p>۴. اصل نه شرقی و نه غربی: امام راحل: «ما نه تحت حمایت آمریکا و نه تحت حمایت شوروی و نه تحت حمایت هیچ قدرتی نیستیم. آن چیزی که شما می‌خواستید، جمهوری اسلامی بود. آن چیزی را که شما می‌خواستید نه شرقی نه غربی بود و این حاصل است این را حفظش کنید».</p> <p>۵. تحقیر آمریکا</p> <p>۶. نفی مظاهر فرهنگی غرب و مبارزه با تهاجم فرهنگی</p> <p>۷. عمومی شدن آموزش و ارتقای سطح علمی جامعه</p> <p>۸. دفاع قهرمانانه در مقابل رژیم بعثی عراق</p> <p>۹. تشکیل سپاه و بسیج</p> <p>۱۰. خودکفایی نظامی</p> <p>۱۱. تجدید حیات اسلام در جهان</p> <p>۱۲. پیش‌بینی فروپاشی شوروی سابق</p>	<p>دستاوردهای جمهوری اسلامی؟</p>	<p>ساختار جمهوری اسلامی ایران و قانون اساسی کشور</p>
<p>انگیزه اولیه در تاسیس چنین نهادی، ایجاد نقش میانجی بین مجلس شورای اسلامی و شورای نگهبان بود که در دهه اول انقلاب اسلامی ایران دچار اختلاف نظرها و تعارض‌هایی شده بودند. تعداد اعضای این مجمع ۴۴ نفر ثابت و ۱ نفر میهمان متناسب با موضوع آن جلسه است که</p>	<p>مجمع تشخیص مصلحت و رئیسش و وظایف آنها؟ چند نفرن؟</p>	

پاسخ‌ها	سؤالات	مقوله
<p>اعضای ثابت هر ۵ سال یکبار و از طریق حکم رهبر ایران انتخاب می‌شوند. ریاست این مجمع از ابتدای تاسیس رسمی تا به حال بر عهده اکبر هاشمی رفسنجانی بوده است و مقر مجمع در کاخ مرمر تهران می‌باشد.</p>		
<p>مجلسی متشکل از فقیه‌های «واجد شرایط» است که بر اساس اصل ۱۰۷ قانون اساسی جمهوری اسلامی ایران مسئولیت تعیین ولی فقیه (رهبر جمهوری اسلامی) را دارد. مدت هر دوره این مجلس که اعضای آن به وسیله انتخابات و توسط رأی مستقیم و مخفی مردم انتخاب می‌گردند، هشت سال می‌باشد. مجلس خبرگان رهبری نیز در اجرای ماده ۱ و ۲ آیین‌نامه داخلی این نهاد، تعداد خبرگان را ۸۸ نفر اعلام کرده است (مجلس پنجم). تنها نهادی است که قوانین خودش را خودش وضع می‌کند و هیچ‌کس نمی‌تواند به او فرمان بدهد و به دلیل حساسیت و وظیفه عمده جلسات به صورت غیرعلنی و محرمانه برگزار می‌شود.</p> <p>اصل ۱۱۱ قانون اساسی:</p> <p>«هرگاه رهبر از انجام وظایف قانونی خود ناتوان شود، یا فاقد یکی از شرایط مذکور در اصول پنجم و یکصد و نهم گردد، یا معلوم شود از آغاز فاقد بعضی از شرایط بوده‌است، از مقام خود برکنار خواهد شد. تشخیص این امر به عهده خبرگان مذکور در اصل یکصد و هشتم می‌باشد. در صورت فوت یا کناره‌گیری یا عزل رهبر،</p>	<p>کار مجلس خبرگان، رییس مجلس خبرگان کیست؟</p>	

مقوله	سوالات	پاسخ‌ها
		خبرگان موظفند، در اسرع وقت نسبت به تعیین و معرفی رهبر جدید اقدام نمایند.»
	نمایندگان مجلس خبرگان چطور می‌توانند انتخاب می‌شوند؟	اعضای آن به وسیله انتخابات و توسط رأی مستقیم و مخفی مردم انتخاب می‌گردند.
	تعداد نمایندگان مجلس خبرگان	خبرگان پنجم: ۸۸ کرسی
	رئیس مجلس خبرگان کیست؟	از ۱۳۶۱ تا ۱۳۸۶: علی مشکینی از ۱۳۸۶ تا ۱۳۸۹: علی اکبر هاشمی رفسنجانی از ۱۳۸۹ تا ۱۳۹۳: محمدرضا مهدوی کنی از ۱۳۹۳ تا ۱۳۹۵: محمد یزدی از ۱۳۹۵ تا اکنون: احمد جنتی
	وظیفه شورای نگهبان؟ رئیس شورای نگهبان؟ تعداد اعضا؟	از جمله نهادهای نظارتی نظام جمهوری اسلامی ایران است، تمامی قوانین مجلس شورای اسلامی پیش از اجرا، به تأیید این شورا می‌رسد تا مغایر شرع و قانون اساسی نباشد. تأیید صلاحیت نامزدهای تمامی انتخابات سراسری کشور به جز انتخابات شوراهای شهر و روستا نیز در حیطه وظایف این شورا جای دارد. این شورا از دوازده عضو تشکیل شده است که شش عضو از این دوازده تن فقهای هستند که با حکم رهبر عزل و نصب می‌شوند و شش عضو دیگر حقوقدانانی هستند که با معرفی رئیس قوه قضاییه و رأی نمایندگان مجلس شورای اسلامی انتخاب می‌شوند. دبیر شورای نگهبان بالاترین مقام رسمی این شورا است و در حال حاضر احمد جنتی دبیر کنونی آن است.
	رابطه رهبری و شورای نگهبان؟	انتخاب شش فقیه شورای نگهبان

پاسخ‌ها	سؤالات	مقوله
<p>قوه‌ای است مستقل که پشتیبان حقوق فردی و اجتماعی و مسئول تحقق بخشیدن به عدالت در ایران است. رئیس قوه قضائیه توسط رهبر ایران به مدت ۵ سال به این سمت منصوب می‌شود که باید مجتهد عادل و آگاه به امور قضایی و مدیر و مدبر باشد. ریاست قوه قضائیه را در حال حاضر صادق لاریجانی بر عهده دارد.</p> <p>وظایف:</p> <ol style="list-style-type: none"> <li>۱. رسیدگی و صدور حکم در مورد تظلمات، تعدیات، شکایات، حل و فصل دعوی و رفع خصومات و اخذ تصمیم و اقدام لازم در آن قسمت از امور حسبیه که قانون معین می‌کند.</li> <li>۲. احیای حقوق عامه و گسترش عدل و آزادی‌های مشروع</li> <li>۳. نظارت بر حسن اجرای قوانین</li> <li>۴. کشف جرم و تعقیب و مجازات و تعزیر مجرمین و اجرای حدود و مقررات مدون جزایی اسلام</li> <li>۵. اقدام مناسب برای پیشگیری از وقوع جرم و اصلاح مجرمین</li> </ol>	<p>وظایف قوه قضائیه؟ رئیس قوه قضائیه کیه؟ توسط کی انتخاب میشه و چند ساله؟</p>	
<p>۱۳۵۷: احمد صدر ۱۳۵۷: هاشم صباغیان ۱۳۵۷ تا ۱۳۵۸: اکبر هاشمی رفسنجانی ۱۳۵۸ تا ۱۳۶۰: محمدرضا مهدوی کنی ۱۳۶۰ تا ۱۳۶۴: علی اکبر ناطق نوری ۱۳۶۴ تا ۱۳۶۸: علی اکبر محتشمی پور ۱۳۶۸ تا ۱۳۷۲: عبدالله نوری ۱۳۷۲ تا ۱۳۷۶: علی محمد بشارتی جهرمی</p>	<p>وزیر کشور کیه؟</p>	

مقوله	سؤالات	پاسخ‌ها
		<p>۱۳۷۶ تا ۱۳۷۷: عبدالله نوری</p> <p>۱۳۷۷ تا ۱۳۸۴: عبدالواحد موسوی لاری</p> <p>۱۳۸۴ تا ۱۳۸۷: مصطفی پورمحمدی</p> <p>۱۳۸۷ تا ۱۳۸۸: صادق محصولی</p> <p>۱۳۸۸ تا ۱۳۹۲: مصطفی محمدنجانار</p> <p>۱۳۹۲ تا ۱۳۹۶: عبدالرضا رحمانی فضل‌ی</p>
	اجرای قانون اساسی؟	<p>بر اساس اصل صد و سیزدهم قانون اساسی جمهوری اسلامی ایران، پس از مقام رهبری، رئیس جمهور، عالی ترین مقام رسمی کشور است و مسئولیت اجرای قانون اساسی و ریاست قوه مجریه را جز در اموری که مستقیماً به رهبری مربوط می شود، بر عهده دارد.</p>
	ادیانی که در مجلس به رسمیت شناخته میشوند؟	<p>زرتشتی - مسیحی - کلیبی</p>
	رئیس سازمان صدا و سیما؟	<p>از ۱۳۵۸ تا ۱۳۵۹: صادق قطب زاده</p> <p>از ۱۳۵۹ تا ۱۳۶۱: عبدالله نوری و علی اکبر محتشمی پور</p> <p>از ۱۳۶۱ تا ۱۳۶۳: سید محمد موسوی خوئینی‌ها</p> <p>از ۱۳۶۳ تا ۱۳۷۳: محمد هاشمی</p> <p>از ۱۳۷۳ تا ۱۳۸۳: علی لاریجانی</p> <p>از ۱۳۸۳ تا ۱۳۹۳: عزت الله ضرغامی</p> <p>از ۱۳۹۳ تا ۱۳۹۵: محمد سرافراز</p> <p>از ۱۳۹۵ تا اکنون: عبدالعلی علی‌عسگری</p>
رهبری و ولایت فقیه	رهبر چطور انتخاب میشه؟ کی انتخابش میکنه؟	<p>رهبر انتخاب نمی‌شود، بلکه یک امر انتصابی است. بهتر است بگوئیم، رهبر کشف می‌شود و این کشف بر عهده اعمال مستقیم مجلس خبرگان و حرکت غیرمستقیم مردم است.</p>

پاسخ‌ها	سؤالات	مقوله
پاسخ به عهده گزینش شوندگان گرامی	کدام یک از فرمایشات رهبری رو توزندگیت عملی کردی؟	
پاسخ به عهده گزینش شوندگان گرامی	آخرین سخنرانی رهبری، کی، کجا، چه فرمودند، در حضور کیا؟	
<p>۱. جوانان عزیز باید خطرات و آسیب‌هایی که انقلاب و نظام ما را تهدید می‌کند با بصیرت تمام شناخته و در مقابل آن بایستند. ۲. آنکه جوانان باید پشتیبان ولایت فقیه بوده و سخنان و راهکارهای حضرت امام (ره) را دقیقاً به کار بندند در حال حاضر هم باید با دفاع و پشتیبانی کامل از حضرت آیت الله خامنه ای فرامین و فرمایشات ایشان را مدنظر قرار داده و به آن عمل کنند.</p> <p>با توجه به سخنان رهبر معظم انقلاب، می‌شود رسیدن به اهداف را در کلام ایشان جستجو کرد:</p> <p>۱. تداوم راه و یاد امام خمینی (ره): بی شک یکی از بهترین راهکارهای مقابله با توطئه‌ها آن است که راه و خواسته حضرت امام (ره) عملی شود. رهبری در این مورد می‌فرماید: ما نباید بگذاریم نظام اسلامی از ریشه خود «امام» جدا شود.</p> <p>۲. پافشاری بر اصول و ارزشهای الهی</p> <p>۳. حفظ ارتباط با خدا و اخلاص در عمل و تعمیق معارف اسلامی: رهبر انقلاب: راه نجات، صلاح و پیروزی بر دشمنان خبیث، حفظ ارتباط با خدا، توکل بر او، ترسیدن از دشمنان خدا و با</p>	<p>وظیفه ما در قبال ولایت فقیه؟ به عنوان چه جوانی چطور از ولی فقیه حمایت میکنی؟</p>	



پاسخ‌ها	سؤالات	مقوله
<p>همه وجود حمایت و حراست از جمهوری اسلامی می دانند.</p> <p>۴. حفظ وحدت کلمه: ایشان میفرمایند: وحدت کلمه، رمز پیروزی ملت ایران در مراحل مختلف بوده است.</p> <p>۵. دشمنشناسی و تداوم مبارزه با دشمن و حفظ آمادگی دفاعی: رهبر معظم انقلاب میفرمایند: کشور و ملت ایران به مناسبت سوابق تاریخی، اقتصادی و سیاسی که در دنیا برای خود تعریف کرده است دشمنانی دارد. ایشان در جای دیگری تأکید میکنند ما آمادگی برای دفاع از انقلاب را همیشه لازم میدانیم، نباید روزی بر ما بگذرد که اهمیت آمادگی عمومی، مغفول عنه واقع شود.</p> <p>۶. خسته نشدن و جذب دنیا و راحتی آن نگریدین: رهبر انقلاب امروزه هدف امریکا و استکبار این است که انقلاب و جمهوری اسلامی و ملت ایران را وادار کند که اعلان نماید از حرف خود و حرف امام برگشته است... امروز هم اگر میخواهید ایران عزیز و سربلند بشود. راهش ایستادگی در مقابل توقعات دشمن است.</p> <p>۷. طرد کامل فرهنگ منحط غربی: ایشان در این مورد نیز میفرمایند: فرهنگ غرب، فرهنگ برنامه‌ریزی برای فساد است، فرهنگ دشمنی و بغض با ارزشها و درخشدگیها و فضیلت‌های انسانی است. جوانان عزیز! دشمن روی شما سرمایه‌گذاری زیادی میکند، حواستان جمع باشد.</p>		

پاسخ‌ها	سؤالات	مقوله
<p>دلیل نقلی: توقیع شریف: اسحاق بن یعقوب نامه ای برای حضرت ولی عصر می نویسد و از مشکلاتی که برای او رخ داده است سوال می کند و محمد بن عثمان عمری نماینده آن حضرت نامه را می رساند. جواب آن نامه به خط مبارک صادر می شود که در حوادث و پیشامدها به روایان حدیث رجوع کنید زیرا آنها حجت من بر شمایند و من حجت خدایم.</p> <p>دلیل عقلی:</p> <p>۱. جلوگیری از هرج و مرج و تامین نیازهای اجتماعی</p> <p>۲. حکومت ایده آل آن است که رأس آن امام معصوم باشد و جامعه را اداره کند ولی اکنون که امام معصوم غایب است و به دست آوردن ایده آل میسر نیست، بایستی نزدیک به آن انتخاب شود که ولایت فقیه می باشد.</p>	<p>ولایت فقیه واسه چیه؟ ضرورت ولایت فقیه؟</p>	
<p>۱۳۹۴/۹/۸ - خلاصه نامه: حوادث تلخی که تروریسم کور در فرانسه رقم زد، بار دیگر مرا به گفتگو با شما جوانان برانگیخت. درست است که امروز تروریسم درد مشترک ما و شماست، اما لازم است بدانید که ناامنی و اضطرابی که در حوادث اخیر تجربه کردید، با رنجی که مردم عراق، یمن، سوریه، و افغانستان طی سالهای متمادی تحمل کرده‌اند دو تفاوت عمده دارد. نخست اینکه دنیای اسلام در ابعادی بمراتب وسیع‌تر، در حجمی انبوه‌تر و به مدت بسیار طولانی‌تر قربانی وحشت‌افکنی و خشونت بوده است؛ و دوم اینکه متأسفانه این خشونت‌ها همواره</p>	<p>پیام حضرت اقا به جوانان اروپا و آمریکای شمالی؟</p>	

پاسخ‌ها	سؤالات	مقوله
<p>از طرف برخی از قدرتهای بزرگ به شیوه‌های گوناگون و به شکل مؤثر حمایت شده است. مردم ستمدیده‌ی فلسطین بیش از شصت سال است که بدترین نوع تروریسم را تجربه میکنند. اگر مردم اروپا اکنون چند روزی در خانه‌های خود پناه بگیرند و از حضور در مجامع و مراکز پرجمعیت پرهیز میکنند، یک خانواده‌ی فلسطینی ده‌ها سال است که حتی در خانه‌ی خود از ماشین کشتار و تخریب رژیم صهیونیست در امان نیست. لشکرکشی‌های سالهای اخیر به دنیای اسلام که خود قربانیان بی‌شماری داشت، نمونه‌ای دیگر از منطبق متناقض غرب است. متأسفانه این ریشه‌ها طی سالیان متمادی، بتدریج در اعماق سیاستهای فرهنگی غرب نیز رسوخ کرده و یک هجوم نرم و خاموش را سامان داده است. من تحمیل فرهنگ غرب بر سایر ملتها و کوچک شمردن فرهنگهای مستقل را یک خشونت خاموش و بسیار زیان‌بار تلقی میکنم. به طور مثال، دو عنصر «پرخاشگری» و «بی‌بندوباری اخلاقی» که متأسفانه به مؤلفه‌های اصلی فرهنگ غربی تبدیل شده است، مقبولیت و جایگاه آن را حتی در خاستگاهش تنزل داده است. بنابراین من از شما جوانان میخواهم که بر مبنای یک شناخت درست و با ژرف‌بینی و استفاده از تجربه‌های ناگوار، بنیانهای یک تعامل صحیح و شرافتمندانه را با جهان اسلام پی‌ریزی کنید. در این صورت، در آینده‌ای نه‌چندان دور خواهید دید بنایی که بر چنین شالوده‌ای استوار</p>		

پاسخ‌ها	سؤالات	مقوله
<p>کرده‌اید، سایه‌ی اطمینان و اعتماد را بر سر معمارانش می‌گستراند، گرمای امنیّت و آرامش را به آنان هدیه می‌دهد، و فروغ امید به آینده‌ای روشن را بر صفحه‌ی گیتی می‌تاباند.</p>		
<p>گاهی سردمداران رژیم صهیونیستی، ما را تهدید هم می‌کنند؛ تهدید به حمله‌ی نظامی می‌کنند؛ اما به‌نظم خودشان هم میدانند، و اگر نمیدانند، بدانند که اگر غلطی از آنها سر بزند، جمهوری اسلامی «تل آویو» و «حیف» را با خاک یکسان خواهد کرد. (۱۳۹۲/۱/۱ - حرم مطهر امام رضا (ع))</p>	<p>یه سخن از رهبر که الان یادت باشه بگو.</p>	
<p>طبق اصل ۱۱۰ قانون اساسی وظایف رهبر عبارتند از:</p> <ol style="list-style-type: none"> <li>۱- تعیین سیاست‌های کلی نظام پس از مشورت با جمع تشخیص مصلحت نظام.</li> <li>۲- نظارت بر حسن اجرای سیاستهای کلی نظام.</li> <li>۳- فرمان همه پرسى</li> <li>۴- فرماندهی کل نیروهای مسلح</li> <li>۵- نصب و عزل و قبول استعفاى فقهای شورای نگهبان، رئیس قوه قضائیه، رئیس صدا و سیما، رئیس قوه قضائیه، رئیس صدا و سیما، رئیس ستاد مشترک فرمانده سپاه پاسداران</li> <li>۶- حل اختلاف و تنظیم روابط قوای سه گانه</li> <li>۷- امضا حکم ریاست جمهوری</li> <li>۸- عزل رئیس جمهور</li> <li>۹- عفو یا تخفیف مجازات مجرمین</li> </ol>	<p>وظیفه رهبر؟</p>	

مقوله	سؤالات	پاسخ‌ها
	نقش ولی فقیه در شرایط بحرانی جامعه؟	حفظ وحدت جامعه - ارائه سخنرانی های انگیزه بخش و امیدوارکننده - ارائه راه حل ها با بصیرت بسیار بالا و ...
	اخترین سخنرانی رهبری چی بود؟	پاسخ به عهده گزینش شونده گرامی
	شرایط رهبر؟	اصل ۱۰۹ در مورد شرایط و صفات رهبر می گوید: ۱. صلاحیت علمی لازم برای افتا در ابواب مختلف فقه ۲. عدالت و تقوای لازم برای رهبری امت اسلام ۳. بینش صحیح سیاسی و اجتماعی، تدبیر، شجاعت، مدیریت و قدرت کافی برای رهبری
	رهبر، چه کسانی رو انتخاب میکنه؟	۱. فقهای شورای نگهبان ۲. عالی ترین مقام قوه قضائیه ۳. رئیس سازمان صدا و سیما ۴. رئیس ستاد مشترک ۵. فرمانده کل سپاه پاسداران انقلاب اسلامی ۶. فرمانده عالی نیروی انتظامی و نظامی ۷. امام جمعه استان
توافق هسته‌ای ایران	نظر رهبر، دولت و خودت در مورد مذاکرات هسته ای؟	نظر رهبر: با وجود اینکه من خوش بین نبودم به مذاکره با آمریکا، با این مذاکرات موردی، مخالفت نکردم، موافقت کردم؛ از مذاکره کنندگان هم با همه‌ی وجود حمایت کردم، الان هم حمایت میکنم. از رسیدن به یک توافقی که منافع ملت ایران را تأمین کند و عزت ملت ایران را حفظ کند، صددرصد من حمایت میکنم و استقبال میکنم؛ این را همه بدانند. اگر کسی بگوید که ما مثلاً با توافق یا با رسیدن به یک نقطه مخالفیم، نه، خلاف حق و خلاف واقع

پاسخ‌ها	سؤالات	مقوله
<p>گفته است. اگر یک توافقی انجام بگیرد که این توافق، توافقی باشد که منافع ملت را، منافع کشور را تأمین بکند، بنده کاملاً با آن موافقت خواهم کرد.</p> <p>نظر تیم آموزشی ای‌استخدام: آمریکا همیشه از استراتژی چماق و هویج استفاده می‌کند.</p>		
<p>گروه ۱+۵ (که به صورت گروه پنج به علاوه یک خوانده می‌شود) از پنج عضو شورای امنیت سازمان ملل (آمریکا، روسیه، چین، بریتانیا و فرانسه) و آلمان تشکیل شده است. دلیل نامگذاری این گروه، حضور پنج عضو دائم شورای امنیت سازمان ملل متحد به همراه کشور آلمان است. از جمله اقدامات این گروه برای حصول توافق با ایران در زمینه فعالیت‌های هسته‌ای می‌توان به ارائه یک بسته پیشنهادی در سال ۲۰۰۸ اشاره کرد. گاهی به سه کشور اروپایی (بریتانیا، فرانسه و آلمان) در برابر سه کشور دیگر (روسیه، چین و آمریکا)، «گروه سه به علاوه سه» گفته می‌شود.</p>	<p>در رابطه با ۱+۵ چیزی می‌دونی؟ چرا بهش می‌گن ۱+۵؟</p>	
<p>پاسخ به عهده‌گزینش شونده گرامی</p>	<p>نظرت در مورد صنعت خودرو؟</p>	
<p>مخفف: دولت اسلامی (منظور غیراسلامی) عراق و شام</p> <p>اهداف: هدف سازمان دهندگان داعش نیز بازگرداندن چیزی است که آنان آن را «خلافت اسلامی و اجرای شریعت» می‌نامند و عراق و سوریه نیز جولانگاه عملیات داعش است. اولین هدف داعش تحکیم کنترل بر شهرهایی است که در دو سوی مرز به تصرف در آورده است.</p>	<p>داعش یعنی چی؟ هدفش چیه؟</p>	<p>مسائل روز و اخبار</p>

مقوله	سؤالات	پاسخ‌ها
	دو نفر از شخصیت های سیاسی اجتماعی مهم جهان؟	امام خمینی (ره) - امام خامنه‌ای - امام موسی صدر - مالکوم ایکس - نلسون ماندلا - ال جگوارا - هوگو چاوز.
	مهمترین موضوع در جامعه ی جهانی در حال حاضر؟	پاسخ به عهده گزینش شونده گرامی
	مهمترین موضوع در داخل کشور در حال حاضر؟	پاسخ به عهده گزینش شونده گرامی
	آخرین اخباری که خوندی چی بوده؟	پاسخ به عهده گزینش شونده گرامی
	اخبار و از کجا پیگیری میکنی؟	پاسخ به عهده گزینش شونده گرامی
	روزنامه چی میخونی؟	پاسخ به عهده گزینش شونده گرامی
	مهمترین اخبار دنیا؟	پاسخ به عهده گزینش شونده گرامی
	از سال ۹۰ به اینور چه راهپیمایی هایی و چه انتخاباتی شرکت کردی؟	پاسخ به عهده گزینش شونده گرامی
	مهمترین راهپیمایی چه؟	پاسخ به عهده گزینش شونده گرامی
	راهپیمایی میری، چه وقتایی؟ آخرین بار کی بوده؟ کجاست و در چه خیابانی؟ چندتا رفتین؟ سخنرانش کی بود؟ درمورد چی صحبت میکرد؟	پاسخ به عهده گزینش شونده گرامی
انتخابات و راهپیمایی	روز قدس چه روزیه و چرا امام این روز رو انتخاب کردن؟	روز قدس، مناسبتی رسمی در جمهوری اسلامی ایران است که از یک سال پس از انقلاب ایران، در آخرین جمعه ماه رمضان و در حمایت از ملت فلسطین برگزار می‌شود. امام خمینی (ره)، در مورد روز قدس گفته بود: «روز قدس فقط روز

پاسخ‌ها	سؤالات	مقوله
<p>فلسطین نیست، روز اسلام است؛ روز حکومت اسلامی است. روزی است که باید جمهوری اسلامی در سراسر کشورها بیرق آن برافراشته شود. روزی است که باید به ابرقدرتها فهماند که دیگر آنها نمی‌توانند در ممالک اسلامی پیشروی کنند. من روز قدس را روز اسلام و روز رسول اکرم می‌دانم، و روزی است که باید ما تمام قوای خودمان را مجهز کنیم.» همچنین او در شرح جهانی بودن این روز گفت: «روز قدس، جهانی است، و روزی نیست که فقط اختصاص به قدس داشته باشد. روز مقابله مستضعفین با مستکبرین است، روز مقابله ملت‌هایی است که در زیر فشار ظلم آمریکا و غیر آمریکا بودند، روزی است که باید مستضعفین مجهز بشوند، در مقابل مستکبرین، و دماغ مستکبرین را به خاک بمالند... روز قدس، روزی است که باید سرنوشت ملت‌های مستضعف معلوم شود باید ملت‌های مستضعف در مقابل مستکبرین اعلان وجود بکنند، باید همانطور که ایران قیام کرد، و دماغ مستکبرین را به خاک مالید، و خواهد مالید، تمام ملت‌ها قیام کنند، و این جرثومه‌های فساد را به زیاله‌دانها بریزند.»</p>		
پاسخ به عهده گزینش شونده گرامی	نظرت در مورد انتخابات ۸۸؟	
پاسخ به عهده گزینش شونده گرامی	ملاکت برای انتخاب افراد در انتخابات، به چه کسی رای میدی (خصوصیاتش)؟ آخرین انتخاباتی که شرکت کردی؟	



پاسخ‌ها	سؤالات	مقوله
پاسخ به عهده گزینش شونده گرامی	چندتا از انتخابات تو شکرت نکردی؟ چرا؟	
وحدت - یکدلی - ابراز قدرت - ابراز هم صدایی و یکنوایی و ...	هدف از رفتن به راهپیمایی چیست؟	
اقدام برای تعیین سرنوشت کشور - ناکامی دشمنان - وحدت ملی.	هدف از رای دادن در انتخابات چیست؟	
ولی نعمت	امام مردم را به چه اسمی توصیف کردن؟	سایر سؤالات مربوط به این بخش
پاسخ به عهده گزینش شونده گرامی	نظرت در مورد سیاست؟	

### مهمترین رویدادهای سال هجری شمسی (پرتکرارترین‌ها در گزینش استخدامی)

خرداد	اردیبهشت	فروردین
۳. فتح خرمشهر در عملیات بیت المقدس (۱۳۶۱) - روز مقاومت و ایثار و پیروزی	۲. تأسیس سپاه پاسداران انقلاب اسلامی (۱۳۵۸) - سالروز اعلام انقلاب فرهنگی (۱۳۵۹)	۲. حمله ماموران شاهنشاه به مدرسه فیضیه قم (۱۳۴۳)
۷. افتتاح اولین دوره مجلس شورای اسلامی (۱۳۵۹)	۵. شکست حمله نظامی آمریکا به ایران در طیس (۱۳۵۹)	۱۲. روز جمهوری اسلامی ایران
۱۴. رحلت امام خمینی (ره) و انتخاب آیت‌ا. خامنه‌ای به رهبری (۱۳۶۸)	۱۰. آغاز عملیات بیت المقدس	۲۰. روز ملی فناوری هسته‌ای
۱۵. قیام ۱۵ خرداد (۱۳۴۲) - زندانی شدن امام خمینی (ره) به دست ماموران ستم شاهی پهلوی (۱۳۴۲)	۱۲. شهادت استاد مطهری (روز معلم)	۲۱. شهادت علی صیاد شیرازی
	۲۴. لغو امتیاز تنباکو به فتوای آیت‌ا. میرزا حسن شیرازی (۱۲۷۰)	۲۹. روز ارتش جمهوری اسلامی ایران
شهریور	مرداد	تیر
۲. آغاز هفته دولت	۲۳. روز مقاومت اسلامی	۱. سالروز صدور فرمان امام خمینی (ره) مبنی بر تأسیس سازمان تبلیغات اسلامی (۱۳۶۰)
۸. شهادت رجایی و باهنر (۱۳۶۰)	۲۶. بازگشت اولین آزادگان به میهن اسلامی (۱۳۶۹)	۷. شهادت آیت‌ا. بهشتی و ۷۲ تن از یاران امام با انفجار بمب (۱۳۶۰) - روز قوه قضائیه
۱۷. قیام هفده شهریور و کشتار مردم توسط شاه (۱۳۵۷)	۲۸. کودتای آمریکا برای بازگشت شاه (۱۳۳۲)	۱۲. سرنگونی هواپیمای مسافربری جمهوری اسلامی ایران توسط ناوگان آمریکائی (۱۳۶۷)
۱۹. وفات آیت‌ا. طالقانی (اولین امام جمعه تهران (۱۳۵۸))		۲۳. گشایش نخستین مجلس خبرگان رهبری (۱۳۶۲)
۲۰. شهادت دومین شهید محراب: آیت‌ا. مدنی (۱۳۶۰)		۲۵. روز بهزیستی و تأمین اجتماعی
۳۱. آغاز جنگ تحمیلی (۱۳۵۹) - آغاز هفته دفاع مقدس		۲۷. اعلام پذیرش قطعنامه ۵۹۸ شورای امنیت از سوی ایران (۱۳۶۷)

آذر	آبان	مهر
۵. روز بسیج مستضعفان	۴. اعتراض و افشای امام خمینی (ره)	۵. شکست حصر آبادان
۱۲. تصویب قانون اساسی جمهوری اسلامی ایران (۱۳۵۸)	۸. شهادت شهید فهمیده - روز بسیج دانش آموزی	۱۳. هجرت امام خمینی (ره) از عراق به فرانسه (۱۳۵۷) - روز نیروی انتظامی
۱۶. روز دانشجو	۱۰. شهادت اولین شهید محراب: آیت ا. قاضی طباطبایی (۱۳۵۸) - روز ملی مبارزه با استکبار جهانی - تبعید امام به ترکیه (۱۳۴۳)	۲۳. شهادت پنجمین شهید محراب آیت ا. اشرفی اصفهانی (۱۳۶۱)
۱۹. تشکیل شورای عالی انقلاب فرهنگی به فرمان امام (۱۳۶۳)	۲۰. شهادت سومین شهید محراب: آیت ا. دستغیب (۱۳۶۰)	۲۶. شهادت آیت ا. سید مصطفی خمینی (۱۳۵۶)
اسفند	بهمن	دی
۲۴. برگزاری انتخابات اولین دوره مجلس شورای اسلامی (۱۳۵۸)	۵. انتخاب اولین دوره ریاست جمهوری اسلامی ایران (۱۳۵۸)	۷. سالروز تشکیل نهضت سوادآموزی به فرمان امام (۱۳۵۸)
۲۹. روز ملی شدن صنعت نفت (۱۳۲۹)	۶. سالروز حماسه مردم <b>آمل</b>	۱۳. ابلاغ پیام تاریخی امام (ره) به گورباچوف، رهبر شوروی سابق (۱۳۶۷)
	۱۲. بازگشت حضرت امام به ایران (۱۳۵۷) و آغاز دهه مبارک فجر	۱۹. قیام خونین مردم قم (۱۳۵۶)
	۲۱. شکسته شدن حکومت نظامی به فرمان امام خمینی (ره) (۱۳۵۷)	۲۲. تشکیل شورای انقلاب توسط امام (۱۳۵۷)
		۲۶. فرار شاه (۱۳۵۷)

### مهمترین رویدادهای سال هجری قمری (پرتکرارترین‌ها در گزینش استخدامی)

ربیع الاول	صفر	محرم
<p>۱. هجرت پیامبر (ص) از مکه به مدینه</p> <p>۸. شهادت امام حسن عسگری (ع)</p> <p>۱۲. میلاد حضرت رسول اکرم (ص)</p> <p>به روایت اهل سنت - آغاز هفته وحدت</p> <p>۱۷. میلاد حضرت رسول اکرم (ص)</p> <p>به روایت اهل شیعه و ولادت حضرت امام جعفر صادق (ع) موسس مذهب جعفری: امام ششم شیعیان</p>	<p>۷. ولادت امام موسی کاظم (ع): امام هفتم شیعیان</p> <p>۲۰. اربعین حسینی</p> <p>۲۸. رحلت پیامبر (ص) و شهادت حضرت امام حسن (ع)</p>	<p>۹. تاسوعای حسینی</p> <p>۱۰. عاشورای حسینی</p> <p>۱۲. شهادت امام زین العابدین (ع)</p>
جمادی الثانی	جمادی الاول	ربیع الثانی
<p>۳. شهادت حضرت فاطمه (س)</p> <p>۲۰. ولادت حضرت فاطمه (س) - روز زن (مادر)</p>	<p>۵. ولادت حضرت زینب (س) - روز پرستار</p>	<p>۸. ولادت امام حسن عسگری (ع): امام یازدهم شیعیان</p> <p>۱۰. وفات حضرت معصومه (س)</p>

رمضان	شعبان	رجب
۱۰. وفات حضرت خدیجه (س)	۳. ولادت حضرت امام حسین (ع) - روز پاسدار	۱. ولادت حضرت امام محمد باقر (ع): امام پنجم شیعیان
۱۵. ولادت حضرت امام حسن مجتبی (ع)	۴. ولادت حضرت ابوالفضل (ع) - روز جانباز	۳. شهادت حضرت امام علی نقی الهادی (ع): امام دهم شیعیان
۱۹. ضربت خوردن حضرت امام علی (ع)	۵. ولادت امام زین العابدین (ع)	۱۰. ولادت حضرت امام محمد تقی (جواد الثمه) (ع): امام نهم شیعیان
۲۱. شهادت حضرت امیرالمومنین علی (ع)	۱۱. ولادت حضرت علی اکبر (ع) - روز جوان	۱۳. ولادت حضرت امیرالمومنین علی (ع) - روز پدر - آغاز ایام البیض (اعتکاف): ۱۳، ۱۴ و ۱۵ رجب
* آخرین جمعه ماه رمضان: روز قدس	۱۵. ولادت حضرت مهدی (عج)	۱۵. وفات حضرت زینب (س)
		۲۵. شهادت حضرت امام موسی کاظم (ع)
		۲۷. مبعث پیامبر (ص)
ذی الحجه	ذی القعدة	شوال
۱. سالروز ازدواج حضرت امام علی (ع) و حضرت فاطمه (س) - روز ازدواج	۱. ولادت حضرت معصومه (س) - روز دختران	۱. عید سعید فطر
۷. شهادت حضرت امام محمد باقر (ع)	۱۱. ولادت حضرت امام رضا (ع)	۲۵. شهادت امام جعفر صادق (ع)
۹. روز عرفه - روز نیایش	۳۰. شهادت حضرت امام محمد تقی (ع) (جواد الثمه)	
۱۰. عید قربان		
۱۵. ولادت حضرت امام علی نقی الهادی (ع)		
۱۸. عید غدیر خم (۱۰هـ.ق)		
۲۴. روز مباهله پیامبر (ص)		

ای استناد

# ضمایم

اصل سوالات استخدامی



## مقدمه

همان گونه که در مقدمه فصل دوم آورده شده است، تیم آموزشی ای استخدام در بخش ضمایم این کتاب سعی کرده است، مهمترین سؤالاتی که دقیقاً توسط سازمان سنجش آموزش کشور برای آزمون‌های استخدامی طراحی شده است را به همراه پاسخ تشریحی ارائه دهد. در این بخش، سعی ای استخدام بر این بوده است که از بین سؤالات مختلف و تکراری سازمان سنجش آموزش کشور، آن دسته از سؤالاتی که هدفمند طراحی شده‌اند را بررسی و صرفاً به همان سؤالات اکتفا شود.

داوطلبان گرامی با عنایت به این که این سؤالات از آزمون‌های مختلفی چون فراگیر دستگاه‌های اجرایی، آموزش و پرورش، تأمین اجتماعی، دستیاران ستادی، دیوان محاسبات کشور و ... استخراج شده‌اند، می‌توانند نمونه‌های آماری مناسبی از یک جامعه آماری استاندارد داشته باشند. بازه زمانی این سؤالات، از دو ساله اخیر تا اکنون می‌باشد، چرا که نمونه‌های جدید همواره از لحاظ مشابه بودن با سؤالاتی که در آینده قرار است طراحی شوند، مناسب دارند و باعث می‌شود داوطلبان راحت‌تر سؤالات آتی را پیش‌بینی نمایند.

به منظور دسترسی پیدا کردن به همه سؤالات سازمان سنجش آموزش کشور، می‌توانید به سامانه ای استخدام رجوع کنید و اصل سؤالات را به طور کامل دریافت نمایید.





# اصل سوالات

سازمان سنجش آموزش کشور

کامپیوتر و ICDL

۱. کدام مورد، آدرس صفحات وبی که اخیرا مشاهده کرده‌اید را ذخیره می‌کند؟

(۱) Bookmark (۲) Favorites (۳) History (۴) Tools

پاسخ: آدرس صفحاتی اینترنتی که اخیرا توسط کاربر مشاهده شده در قسمت History ذخیره می‌گردد. بنابراین گزینه ۳ صحیح می‌باشد.

۲. اگر بخواهید بدون استفاده از ماوس، اندازه یک پنجره را تغییر داده و یا آن را حرکت دهید، از کدام مورد استفاده می‌کنید؟

(۱) Alt+Space (۲) Ctrl+Shift  
(۳) Shift+Alt (۴) کلید پنجره روی صفحه کلید

پاسخ: جهت تغییر اندازه یک پنجره با کیبورد از کلیدهای ترکیبی Alt+Space استفاده می‌کنیم. بنابراین گزینه ۱ صحیح می‌باشد.

۳. کدام دستگاه قابلیت اتصال از طریق درگاه USB را ندارد؟

(۱) Webcam (۲) Printer (۳) Monitor (۴) DVD Drive

پاسخ: گزینه ۳ صحیح می‌باشد. مانیتورها فقط از طریق پورت‌های VGA یا HDMI قابلیت اتصال دارند.

۴. کدام حافظه دارای سرعت دسترسی بیشتر و ظرفیت کمتری نسبت به دیگر حافظه هایی است که CPU به آنها دسترسی دارد؟

EROM (۱) Cache (۲) RAM (۳) ROM (۴)

پاسخ: گزینه ۲ صحیح می باشد. حافظه cache یک حافظه با سرعت دسترسی بالا و حجم کم می باشد که در واقع برای جلوگیری از تاخیر زمانی بوجود آمده بین پردازنده و رم مورد استفاده قرار می گیرد.

---

۵. کدام مورد جهت ایجاد یک زبانه جدید در مرورگر IE مورد استفاده قرار می گیرد؟

Ctrl + N (۱) Ctrl + M (۲) Ctrl + W (۳) Ctrl + T (۴)

پاسخ: جهت ایجاد یک زبانه یا تب جدید در مرورگر IE از Ctrl + T استفاده می کنیم. گزینه ۴ صحیح می باشد. ترکیب کلیدهای Ctrl و Y، معادل عمل Redo می باشد.

---

۶. فرض کنید هر روز بخواهید با باز کردن مرورگر خود صفحه پست الکترونیکی شخصی شما، صفحه وب اصلی شرکت یا اداره ای که در آن مشغول به کار هستید و یک صفحه خبری مشخص بارگزاری شوند. از چه ابزاری این تنظیمات را انجام می دهید؟

Bookmark (۱) Favorite (۲) Home page (۳) History (۴)

پاسخ: گزینه ۳ صحیح می باشد. جهت انتخاب یک صفحه وب برای مرورگر بصورت پیش فرض، از تنظیمات قسمت Home page استفاده می کنیم.

---

۷. ساده ترین راه برای پرینت گرفتن یک نامه در پست الکترونیکی یا هو بدون اینکه سایر مشخصات پست الکترونیکی از قبیل پوشه ها چاپ شود؟

(۱) نامه را باز کرده و محتویات آن را انتخاب و پس از انتقال به فایل ورد از آن پرینت می گیریم.

(۲) نامه را باز کرده و روی آن کلیک راست کرده و پرینت می گیریم.

(۳) روی نامه کلیک راست کرده و پرینت را انتخاب می کنیم.

(۴) نامه را باز کرده و کلیک Ctrl و P را فشار می دهیم.

پاسخ: گزینه ۳ صحیح می باشد. برای این مورد میتوان روی نامه کلیک راست کرده و گزینه پرینت را انتخاب کرد.

۸. در نرم افزار word 2007 نتیجه فشردن کلیدهای → و Ctrl در یک متن فارسی کدام است؟

(۱) پرش به ابتدای کلمه قبلی (۲) انتخاب خط از ابتدا تا مکان فعلی

(۳) انتخاب کلمه قبلی (۴) پرش به ابتدای خط

پاسخ: گزینه ۱ صحیح می باشد. برای پرش به ابتدای کلمه قبلی از کلید های ترکیبی → و Ctrl استفاده می کنیم.

۹. کدام مورد به ترتیب برای ادغام و جدا کردن سلول های یک جدول استفاده می شود؟

Split Cell – Merge Cell (۲)

Split Table – Split Cell (۱)

Insert Cell – Split Cell (۴)

Insert Cell – Merge Cell (۳)

پاسخ: گزینه ۲ صحیح می باشد. برای ادغام سلول های یک جدول از گزینه Merge Cell و برای جدا کردن سلول های یک جدول از گزینه Split Cell استفاده می شود.

---

۱۰. در سیستم عامل ویندوز از کدام موارد زیر میتوان برای حرکت بین چند پنجره باز استفاده کرد؟

Alt + Tab (۲)

Alt + F4 (۱)

Ctrl + Esc (۴)

Alt + Space (۳)

پاسخ: گزینه ۲ صحیح می باشد. جهت حرکت بین چند پنجره باز در ویندوز از Alt + Tab بهره می بریم.

---

۱۱. در یک کاربرد از یک فایل اکسل جهت انتخاب چند سطر که به طور متوالی واقع شده است از کدام کلید باید کمک گرفت؟

Tab (۴)

Shift (۳)

Ctrl (۲) Alt (۱)

پاسخ: جهت انتخاب چند سطر که به طور متوالی واقع شده است از کلید Shift استفاده می شود. پس گزینه ۳ صحیح می باشد.

---

۱۲. جهت اجرای نمایش یک فایل Power Point از اسلاید جاری از کدام مورد استفاده می شود؟

Ctrl +F9 (۴)

Shift + F5 (۳)

F5 (۲)

F11 (۱)

پاسخ: گزینه ۳ صحیح می باشد.

۱۳. انتخاب کدام مورد در تنظیمات Text Wrapping باعث شده است که جایگذاری شکل و متن بصورت زیر انجام شود؟

Inline (۴)

Tight (۳)

Square (۲)

Through (۱)

پاسخ: گزینه ۴ صحیح می باشد. برای استفاده از عکس در لابلای متون گزینه Inline را انتخاب می کنیم.

۱۴. در محیط نرم افزار Access کدام مورد صحیح است؟

(۱) کوچک ترین واحد در یک پایگاه داده، رکورد است.

(۲) اندازه نوع داده Text، از نوع داده Memo بیشتر است.

(۳) امکان ارتباط (Relation) بین جداول وجود ندارد.

(۴) رابطه چند به یک در پایگاه داده وجود ندارد.

پاسخ: گزینه ۲ صحیح می باشد.

۱۵. در محیط Word یک جدول ایجاد کرده‌اید؛ با انتخاب جدول و فشار دادن کلید Delete کدام مورد زیر حاصل خواهد شد؟

(۱) پاک شدن محتویات جدول (۲) حذف خطوط جدول

(۳) پاک شدن عنوان جدول (۴) حذف جدول

پاسخ: گزینه ۱ صحیح می‌باشد. با عمل ذکر شده فقط محتویات جدول حذف می‌شود و خود جدول حذف نمی‌شود.

---

۱۶. در یک سند Word با فشار دادن هم زمان کلید های CTRL و Enter کدام مورد زیر رخ خواهد داد؟

(۱) انتخاب Paragraph (۲) رفتن به انتهای Paragraph

(۳) ایجاد یک صفحه جدید (۴) رفتن به انتهای سند

پاسخ: گزینه ۳ صحیح می‌باشد. با فشار دادن کلیدهای ذکر شده یک صفحه جدید در ورد ایجاد می‌شود.

---

۱۷. آیکن روبرو، کدام نماد را در نرم افزار 2007 Power Point فعال می کند؟



Normal (۱)

Slide Show (۲)

Slide Sorter (۳)

Notes Page (۴)

پاسخ: گزینه ۲ صحیح می باشد. این آیکون نماد slide show در پاورپوینت نسخه ۲۰۰۷ می باشد.

۱۸. کدام مورد در خصوص پست های الکترونیکی که Marks as Read شده اند، صحیح است؟

(۱) پست ها در صورت خوانده شدن، حذف می شوند.

(۲) پست ها بلافاصله پس از ورود به صندوق ورودی به شکل خوانده شده نمایش داده می شوند.

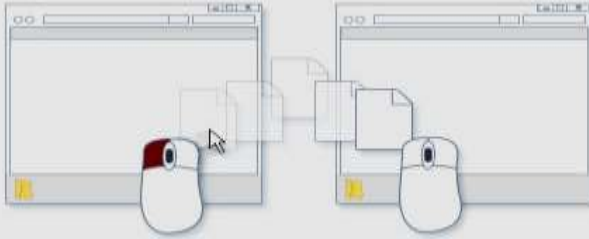
(۳) بدون اینکه پست ها باز شوند به شکلی نمایش داده می شوند که خوانده شده اند.

(۴) پست ها در صورت خوانده نشدن تا مدت زمان مشخصی، حذف می شوند.

پاسخ: گزینه ۲ صحیح می باشد. ایمیل های marks as read بدین معناست که پست ها بلافاصله پس از ورود به صندوق ورودی به شکل خوانده شده نمایش داده می شوند.



۱۹. تصویر رو به رو نشان دهنده انجام کدام عمل است؟



(۱) ایجاد میانبر برای یک فایل

(۲) کپی یا انتقال فایل

(۳) ایجاد یک نسخه موقت از همان فایل

(۴) ساخت یک فایل خالی از همان نوع و به همان اسم

پاسخ: شکل نمایش داده شده کپی یا انتقال فایل می باشد.

۲۰. فرض کنید در محل کارتان، کامپیوترها به یکدیگر متصل شده اند، به طوری که کارمندان می توانند فایل ها و پرینتر را با یکدیگر به اشتراک بگذارند. در اتصال کامپیوترها به یکدیگر، از کدام نوع شبکه استفاده شده است؟

LAN (۲)


ISDN (۱)

WAN (۴)

TCP/IP (۳) (۲)

پاسخ: گزینه ۲ صحیح می‌باشد. Local Area Network به معنی شبکه محلی یک شبکه رایانه‌ای است که محدوده جغرافیایی کوچکی مانند یک خانه یا دفتر کار یا گروهی از ساختمانها را پوشش می‌دهد.

۲۱. در محیط Windows کدام مورد جهت بزرگ کردن اندازه یک پنجره مناسب است. به طوری که تمام صفحه نمایش را در برگیرد؟



پاسخ: گزینه ۲ صحیح می‌باشد. جهت نمایش یک پنجره بصورت فول اسکرین از استفاده می‌شود.

۲۲. کدام توصیف زیر در مورد موتور جستجو صحیح می‌باشد؟

- (۱) برنامه‌ای است که جهت پیدا کردن یک اتصال به اینترنت استفاده می‌شود.
- (۲) برنامه‌ای است که به کاربر کمک می‌کند تا اطلاعات روی اینترنت را پیدا کند.
- (۳) برنامه‌ای است که جهت پیدا کردن صفحات وبی که اخیرا بازدید شده اند استفاده می‌شود.
- (۴) برنامه‌ای است برای پیدا کردن افرادی که در یک روز مشخص از یک صفحه بازدید کرده اند.

پاسخ: گزینه صحیح ۲ می‌باشد. موتور جستجو گوگل و یاهو و .. امکانی برای جستجوی صفحات وب در اینترنت می‌باشد.

۲۳. در محیط ویندوز، برنامه های در حال اجرا توسط کدام نوار نمایش داده می شود؟

Taskbar (۴) Menu Bar (۳) Title Bar (۲) Toolbar (۱)

پاسخ: گزینه ۴ صحیح می باشد. برنامه های در حال اجرا در محیط ویندوز توسط Taskbar نمایش داده می شود.

۲۴. جهت ایجاد بوک مارک در یک سند ورد ۲۰۰۷، به کدام زبانه مراجعه می کنید؟

Insert (۲) Page layout (۱)

References (۴) Home (۳)

پاسخ: طبق شکل زیر گزینه ۲ صحیح است.



۲۵. به منظور درج کردن یک رابطه ریاضی در محیط ورد ۲۰۰۷، از کدام مورد استفاده می شود؟

Insert->Function (۲) Tools->Equation (۱)

Tools->Function (۴) Insert->Equation (۳)

پاسخ: طبق شکل زیر گزینه ۳ صحیح می باشد.



۲۶. اگر بخواهید در یک سند ورد، در انتهای آخرین خط سند قرار گیرد. از ترکیب کلید Ctrl و کدام یک از کلیدهای میانبر زیر، استفاده می کنید؟

End (۲)

Enter (۱)

Tab (۴)

Page Down (۳)

پاسخ: گزینه صحیح ۲ می باشد. به بخش کلیدهای ترکیبی که در انتهای این بخش است توجه کنید.

۲۷. برای وارد کردن آهنگ، از کدام ابزار زیر استفاده می کنید؟

WordArt (۴)

Object (۳)

Symbol (۲)

Hyperlink (۱)

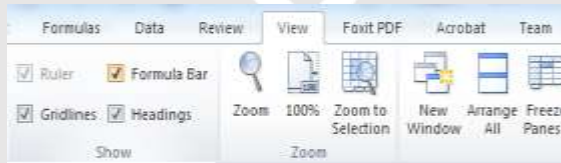
پاسخ: گزینه ۳ صحیح می باشد. حتماً ابزارهای ورد را به صورت عملی بررسی کنید و تفاوت بین ابزارها را بیابید.

۲۸. شکل زیر بخشی از یک فایل اکسل ۲۰۰۷ را نشان می‌دهد، جهت فعالسازی نوار فرمول نویسی formula bar به کدام زبانه باید مراجعه کرد؟



insert (۱)      data (۲)      view (۳)      formulas (۴)

پاسخ: گزینه صحیح ۳ می‌باشد. در منوی view و بخش show طبق تصویر زیر میتوان formula bar را فعال یا غیر فعال کرد.



۲۹. در تصویر زیر از یک فایل اکسل عبارت صحیح است؟

	A	B
1	a	4
2	b	30
3	c	3
4	d	50
5	e	8
6		19
7		

Average(B1:B5) (۲)

Average(B1;B5) (۱)

MEDIN(B1;B5) (۴)

MEDIN(B1:B5) (۳)

پاسخ: گزینه ۲ صحیح می‌باشد. زیرا اگر تمام اعداد ستون B را به هم جمع کرده و تقسیم بر ۵ نمایید به عدد ۱۹ میرسید.

---

۳۰. در سطرهاى ۱ تا ۸ ستون A از کاربرد اکسل اعداد ۱ تا ۸ و در همان سطرها برای ستون B اعداد ۲ تا ۹ قرار دارد و در خانه C1 دستور  $=A1^B1$  را تایپ کرده و در خانه های C2 تا C8 کپی می‌کنیم. اگر اعداد ستون های A و B را حذف کنیم کدام نتیجه در ستون C حاصل خواهد شد؟

(۱) صفر

(۲) #NUM

(۳) #REF

(۴) همان نتیجه حاصل خواهد شد.

پاسخ: گزینه ۲ صحیح می‌باشد.

---

۳۱. جهت زمانبندی انتقال از یک اسلاید به اسلاید دیگر از کدام زبانه استفاده می‌شود؟

(۱) Animations

(۲) Slide Show

(۳) Design

(۴) View

پاسخ: گزینه ۲ صحیح می‌باشد جهت زمانبندی انتقال از یک اسلاید به اسلاید دیگر از Slide Show استفاده می‌شود.

---

۳۲. یک فایل Power Point شامل ۶۵ اسلاید می‌باشد. اگر بخواهید در پایین هر ۶۵ اسلاید به صورت «شماره اسلاید» ظاهر شود از کدام ابزار استفاده می‌کنید؟

Slide Number (۲)

Slide Master (۱)

Object (۴)

Slide Sorter (۳)

پاسخ: گزینه ۲ صحیح می‌باشد.

---

۳۳. در محیط Access کدام ابزار برای تعیین ارتباط بین جداول مناسب است؟

Relationship (۲)

Macro (۱)

Dependencies (۴)

Object (۳)

پاسخ: گزینه ۲ صحیح می‌باشد. در محیط access برای تعیین ارتباط بین جداول گزینه ی Relationship کاربرد دارد.

---

۳۴. در محیط ویندوز یا یک بار کلیک چپ کردن رو یک فایل یا پوشه ان را انتخاب کرده‌اید اگر مجددا روی آی‌کون انتخاب شده کلیک چپ کنید چه اتفاقی می افتد؟

(۱) عمل خاصی اتفاق نمی افتد.

(۲) فایل یا پوشه مورد نظر باز می‌شود.

۳) امکان نام گذاری مجدد روی فایل فراهم می شود.

۴) امکان ایجاد shortcut فراهم خواهد شد.





پاسخ: گزینه ۱ صحیح می باشد. در صورت دو بار کلیک کردن پوشه باز می شود.

۳۵. روش رایج درگاه اتصال یک گوشی همراه به یک شبکه محلی کدام است؟

Bluetooth (۴)      Infrared (۳)      Wi-Fi (۲)      Wireless (۱)

پاسخ: برای اتصال یک گوشی همراه به یک شبکه محلی از Wi-Fi استفاده می کنیم. لذا گزینه ۲ صحیح می باشد.

۳۶. در محیط ورد ۲۰۰۷ جهت ایجاد یک لیست چند سطحی از کدام یک از آیکونهای زیر استفاده می شود؟

 (۴)       (۳)       (۲)       (۱)

پاسخ: پاسخ گزینه ۳ می باشد.

۳۷. جهت نوشتن یک ورد به صورت دو ستونی از کدام یک از موارد زیر استفاده می شود؟

Page Layout + Orientation (۲)      Home + Paragraph (۱)

Page layout + Columns (۴)      Home + Style (۳)



پاسخ: گزینه ۴ صحیح می باشد.

۳۸. یک فایل Power Point با پسوند PPSX ذخیره شده است کدام مورد در خصوص این فایل صحیح است؟

(۱) قابل ویرایش نیست.

(۲) بطور معمول در حالت Slide Show باز می شود.

(۳) قابل تبدیل به فرمت PDF یا فرمت های ویدئویی نیست.

(۴) به منظور سازگاری با نسخه های قدیمی Power Point ایجاد می شود.

پاسخ: گزینه ۲ صحیح می باشد. فایل های با پسوند PPSX بطور معمول در حالت Slide Show باز می شوند.

۳۹. در محیط نرم افزار Power Point 2007، کدام عمل با استفاده از ویژگی های موجود در گروه زیر امکان پذیر نیست؟

(۱) بازگرداندن اسلاید به حالت اول و پاک کردن تمام اشیای موجود بر روی آن

(۲) ایجاد یک اسلاید جدید با قابلیت انتخاب آرایش های پیش فرض

(۳) تغییر آرایش یک اسلاید، بدون تغییر اشیای موجود بر روی آن

(۴) حذف کامل اسلاید به همراه تمام اشیای روی آن



پاسخ: گزینه ۳ صحیح می باشد. تغییر آرایش یک اسلاید و در واقع Edit کردن آن با استفاده از ویژگی های موجود در عکس امکان پذیر نمی باشد.

۴۰. در نرم افزار Power Point 2007 مناسب ترین روش برای پرش به اسلایدهای نامتوالی در هنگام ارائه کدام است؟

(۱) تغییر به نمای Normal و انتخاب اسلاید مورد نظر

(۲) استفاده از کلیدهای جهتی چپ و راست برای بازگشت به عقب و جلو در همان نمای Slide Show

(۳) تغییر به نمای Slide Sorter و مرتب سازی اسلاید ها بر اساس ترتیب نمایش در ارائه

(۴) راست کلیک بر روی اسلاید و انتخاب اسلاید مورد نظر در Go to Slide

پاسخ: گزینه ۴ صحیح می باشد.

۴۱. در صورتی که یک نامه را از صندوق ورودی پست الکترونیکی خود به شکل معمولی حذف کنید کدام عمل انجام می شود؟

(۱) انتقال از صندوق ورودی به پوشه نامه های حذف شده و قابل بازگردانی به صندوق ورودی

(۲) کپی از صندوق ورودی به پوشه نامه های حذف شده و قابل بازگردانی به صندوق ورودی

(۳) انتقال از صندوق ورودی به پوشه نامه های حذف شده و قابل بازگردانی به OUT BOX

(۴) کپی از صندوق ورودی به پوشه نامه های حذف شده و قابل بازگردانی به OUT BOX

پاسخ: گزینه ۱ صحیح می‌باشد. در صورت حذف یک نامه از صندوق ورودی به شکل معمولی، نامه از صندوق ورودی به پوشه نامه‌های حذف شده منتقل شده و قابل بازگردانی به صندوق ورودی می‌باشد.

۴۲. در یک موتور جستجوی استاندارد کدام یک از عملگرهای زیر برای جستجوی دقیق یک عبارت به همان صورتی که وارد شده است، استفاده می‌شود؟

(۱) " " (۲) + (۳) ( ) (۴) { }

پاسخ: گزینه ۱ صحیح می‌باشد. برای جستجوی دقیق یک عبارت به همان صورتی که وارد شده است، متن مورد نظر را داخل نماد " " قرار می‌دهیم.

۴۳. در یک سند Word 2007 کدام مورد می‌تواند کاربر را به یک مکان از پیش تعیین شده در سند منتقل کند؟

Outlines (۲)

Bookmarks (۱)

Citation (۴)

Subdocuments (۳)

پاسخ: گزینه ۱ صحیح می‌باشد. برای دسترسی به یک مکان از پیش تعیین شده از گزینه بوکمارک Bookmarks استفاده می‌کنیم.

۴۴. برای محاسبه عبارت  $A1+A2+A3+B4+B5+B6+7$  کدام فرمول مناسب است؟

SUM(A1: B6+7) (۲)

SUM(A1:A3:B4:B6:7) (۱)

SUM(A1:A3+B4:B6+7) (۴)

SUM(A1+A3:B4+B6+7) (۳)

پاسخ: گزینه ۱ صحیح می‌باشد.

۴۵. در یک سند Word 2007 ابزار لازم برای ایجاد شماره خط در حاشیه سند در کدام بخش قرار دارد؟

Insert (۱) View (۲) References (۳) Page Layout (۴)

پاسخ: گزینه ۴ صحیح می‌باشد. اگر میخواهید در مقابل هر خط از نوشته های خود شماره گذاری کنید از سربرگ Page Layout به کادر گروه Page Setup مراجعه کنید و گزینه Line Number را انتخاب نمایید.

۴۶. در محیط نرم افزار Excel در صورت حذف یک سلول ممکن است کدام یک از عملیات زیر بر روی سلول دیگر رخ دهد؟

(۱) انتقال سلول ها از سمت چپ به راست یا بالا به پائین

(۲) انتقال سلول ها از سمت راست به چپ یا پائین به بالا

(۳) انتقال سلول ها از سمت چپ به راست یا پائین به بالا

(۴) حذف یک سلول امکان پذیر نیست و می بایست کل ردیف یا ستون را حذف کرد.

پاسخ: گزینه ۴ صحیح می‌باشد. حذف یک سلول به تنهایی، در نرم افزار اکسل غیر ممکن می‌باشد و باید کل ردیف یا ستون را حذف کرد.

۴۷. درج کدامیک از علائم زیر در هنگام نوشتن فرمول در سلول الزامی است؟

(۱) وابسته به توابع استفاده شده در فرمول است

(۲) مساوی

(۴) پرانتز

(۳) جمع

پاسخ: گزینه ۲ صحیح می‌باشد. در هنگام نوشتن فرمول در سلول، گذاشتن علامت مساوی الزامی است.

۴۸. فرض کنید در سلول A1 فرمول B4+D6 را درج کرده‌اید. اگر این سلول را در A2 کپی کنید نتیجه کدام خواهد بود؟

(۱) B5+D7 (۲) #REF! (۳) C4+E6 (۴) B4+D6

پاسخ: گزینه ۴ صحیح می‌باشد. همان فرمول عیناً در سلول جدید کپی خواهد شد.

۴۹. در یک وب سایت بر روی لینک یک فایل راست کلیک می‌کنید، انتخاب کدام مورد باعث دانلود فایل بر روی سیستم شما خواهد شد؟

Save As (۲)

Copy Link Address (۱)

Copy (۴)

Save Target As (۳)

پاسخ: گزینه ۳ صحیح می‌باشد. برای ذخیره سازی (دانلود) یک فایل در وب سایت، بر روی گزینه مورد نظر کلیک راست کرده و گزینه ی Save Target As را انتخاب می‌نمائیم.

۵۰. شکل زیر، در نسخه های جدید PowerPoint (۲۰۰۷ به بعد) چه کاربردی دارد؟



(۱) ایجاد یک نمایش دلخواه از چند اسلاید

(۲) حرکت بین بخش های مختلف اسلاید

(۳) نحوه ظاهر شدن یک اسلاید در حین نمایش

(۴) تعیین جهت حرکت یک شکل در یک اسلاید

پاسخ: گزینه ۳ صحیح می باشد. نحوه ظاهر شدن یک اسلاید در حین نمایش را نشان می دهد.

در ادامه به دلیل اینکه سوالات زیادی در مورد کلیدهای میانبر در نرم افزارهای آفیس مطرح می شود کلیدهای پر کاربرد جمع آوری شده است تا با مطالعه موارد زیر بتوانید با تسلط بیشتری به سوالات آزمونها پاسخ دهید.

### کلیدهای میانبر در Excel

عملکرد	کلید ترکیبی
این کلید میانبر اکسل، شیت بعدی اکسل را فعال می کند.	CTRL+PGDOWN
ترکیب کلید کنترل با هر یک از چهار جهت اصلی باعث می شود به آخرین بخش اطلاعات در جهتی که از کلید آن استفاده کرده اید، بروید. به عنوان مثال اگر شما ۱۰ سطر اطلاعات داشته باشید و یکی از سلولهای سطر اول فعال باشد با استفاده از ترکیب کلید کنترل و جهت پایین به سطر دهم خواهید رفت.	CTRL+کلیدهای چهار جهت اصلی
این کلید میانبر باعث می شود تا اولین سلول شیت یعنی سلول A1 فعال شود.	CTRL+HOME
این کلید میانبر اکسل، پنجره مخصوص فرمت کردن سلول را نمایش می دهد.	CTRL+1
این کلید میانبر ابزار فیلتر را برای اطلاعات شیت اکسل فعال می کند.	CTRL+SHIFT+L
یکی از مفیدترین کلیدهای میانبر اکسل است. زمانی که شما در اکسل فرمول نویسی می کنید با کلید F4 می توانید حالت های مختلف نسبی یا مطلق بودن داده ها را فعال کنید. مثلاً اگر مکان نمای شما روی کلمه	F4

عملکرد	کلید ترکیبی
A1 باشد و از F4 استفاده کنید، اکسل A1 رو به صورت فرمول مطلق یعنی \$A\$1 تبدیل می کند.	
این کلید میانبر محدوده ای را که در اکسل انتخاب کردیم به جدول یا همان TABLE تبدیل می کند.	CTRL+T
برای ذخیره کردن فایل استفاده می شود.	CTRL+S
این کلید میانبر یک ورکیوک جدید باز می کند.	CTRL+N
این کلید میانبر پنجره ای را برای باز کردن فایل اکسل باز می کند.	CTRL+O
این کلید میانبر اکسل ورکیوک فعلی را که در حال کار با آن هستیم، می بندد.	CTRL+W
با استفاده از این کلید میانبر پنجره جستجو در اکسل باز می شود.	CTRL+F
با استفاده از این کلید میانبر می توانیم کل ستونی را که در حال ویرایش یکی از سلول های آن هستیم، انتخاب کنیم.	CTRL+SPACE
با استفاده از این کلید میانبر می توانیم کل سطری را که در حال ویرایش یکی از سلول های آن هستیم، انتخاب کنیم.	SHIFT+SPACE
این کلید میانبر برای استفاده از قابلیت AUTOSUM اکسل استفاده می شود. اگر تعدادی سلول را انتخاب کنیم و از این کلید میانبر استفاده کنیم، اکسل به صورت خودکار جمع مقادیر آنها را در انتهای سلول ها اضافه می کند.	= + ALT
این کلید میانبر اکسل برای ضخیم کردن یا همان BOLD کردن نوشته های سلول استفاده می شود.	CTRL+B
با استفاده از این کلید ترکیبی می توانیم ریون یا همان نوار ابزار قسمت بالای اکسل را مخفی یا ظاهر کنیم. با مخفی کردن ریون تعداد سطرهایی که می توانیم	CTRL+F1



عملکرد	کلید ترکیبی
یکجا بینیم، افزایش پیدا می کند و می توانیم بهتر روی کار با فایلمان تمرکز کنیم.	
با استفاده از این کلید ترکیبی می توانیم آخرین سلول حاوی اطلاعات رو انتخاب کنیم.	CTRL+END
با استفاده از این کلید می توانیم زمانی که می خواهیم داخل یک سلول چند خط مطلب بنویسیم، برویم به خط بعد.	ALT+ENTER
این کلید ترکیبی فرمول اولین سلول محدوده انتخاب شده را در تمام سلول های پایین تر کپی می کند.	CTRL+D
این کلید پنجره Paste Special را باز می کند که برای Paste کردن محتویات اطلاعات حافظه موقت با فرم های خاص استفاده می شود. مثلاً زمانی که می خواهیم به جای فرمول، مقدار سلول Paste شود.	CTRL+ALT+V
این کلید ترکیبی از سلول فعلی تا آخرین سلول شیت را انتخاب می کند.	CTRL+SHIFT+END
با استفاده از این کلید میانبر می توانیم از سلول فعلی تا آخرین محدوده شیت که اطلاعات دارد را انتخاب کنیم. فرض کنید سلولی که فعال است A5 باشد و ما تا ستون Z اطلاعات داشته باشیم. حالا اگر از CTRL و SHIFT و جهت چپ به صورت همزمان استفاده کنیم، سلولهای A5 تا Z5 انتخاب می شود.	CTRL+SHIFT+جهت دار
با استفاده از این کلید میانبر اکسل، ستون یا ستون های انتخاب شده مخفی و ظاهر می شوند.	CTRL+0
با استفاده از این کلید میانبر، سطر یا سطرهای انتخاب شده مخفی و ظاهر می شوند.	CTRL+9

## کلیدهای میانبر در Word

عملکرد	کلید ترکیبی	محور
ایجاد یک سند جدید	Ctrl+N	کلیدهای عمومی
فراخوانی یک سند متفاوت	Ctrl+O	
حرکت میان سند های باز	Ctrl+F6	
ذخیره سازی یک سند	Ctrl+S	
چاپ یک سند	Ctrl+P	
بستن یک سند	Ctrl+W	
یک صفحه کامل به بالا	Page up	کلیدهای میانبر حرکت در سند
یک صفحه کامل به پایین	Page down	
ابتدای سطر	Home	
انتهای سطر	End	
ابتدای یک سند	Ctrl+Home	
انتهای یک سند	Ctrl+End	
یک سطر بالا	کلید جهت نمای بالا	
یک سطر پایین	کلید جهت نمای پایین	
یک کاراکتر به سمت راست یا چپ	کلید جهت نمای راست یا چپ	
حذف کلمه یا عبارتی در سمت راست (بعد)	Ctrl+Del مکان نما	
حذف کلمه یا عبارتی در سمت راست (قبل)	Ctrl+Backspace	
حرکت مکان نما به بالای صفحه نمایش	Ctrl+Page up	
حرکت مکان نما به پایین صفحه نمایش	Ctrl+Page down	

عملکرد	کلید ترکیبی	محور
انتخاب کاراکتر سمت راست اشاره گر	Shift+کلید جهت نمای راست	کلید های میانبر کار با متن
انتخاب کاراکتر سمت چپ اشاره گر	Shift+کلید جهت نمای چپ	
انتخاب یک واژه	Shift+Ctrl+کلید جهت نمای راست	
انتخاب یک سطر	Shift+End	
انتخاب یک پاراگراف	Shift+Ctrl+کلید جهت نمای پایین	
انتخاب تمام سند	A+Ctrl	
رفتن به یک صفحه مشخص	G+Ctrl	
حذف کاراکتر قبلی	اشاره گر Backspace	کلید های میانبر ویرایش متن
حذف کاراکتر که اشاره گر روی آن قرار دارد یا متنی که انتخاب شده است.	Delete	
حذف واژه قبلی	اشاره گر Ctrl+ Backspace	
حذف کاراکتر بعدی	اشاره گر Ctrl+Delete	
کپی و حذف متن	انتخاب شده Ctrl+X	
کپی گرفتن از متن	انتخاب شده Ctrl+C	
الصاق متن کپی شده	Ctrl+V	
بررسی املایی یک سند	F7	
یافتن متن در سند	Ctrl+F	
جایگزینی متن در سند	Ctrl+H	
عمل Undo	Ctrl+Z	
عمل Redo	Ctrl+Y	
پایان سطر و انتقال به سطر بعدی	Enter	
حرکت به سمت پایین در Tab	Outline	

عملکرد	کلید ترکیبی	محور
درج تورفتگی سطر اول پاراگراف یا پرش به ایستگاههای پرشی	Tab	کلیدهای میان بر قالب بندی متن
حذف یا افزودن سطر جاری	Ctrl+0	
تغییر قلم	F+Shift+Ctrl	
تغییر اندازه قلم	P+Shift+Ctrl	
پررنگ کردن قلم	B+Ctrl	
ایتالیک کردن قلم	I+Ctrl	
زیر خط دار کردن قلم	U+Ctrl	
دو زیر خط دار کردن قلم	D+Shift+Ctrl	
حذف قالب بندی کاراکتر	Space Bar+Ctrl	
فضای خطوط تنها پاراگراف	Ctrl+۱	
فضای دو برابر خطوط پاراگراف	Ctrl+۲	
فضای ۱/۵ برابر خطوط پاراگراف	Ctrl+۵	
تراز بندی وسط پاراگراف	E+Ctrl	
تراز بندی چپ پاراگراف	L+Ctrl	
تراز بندی راست پاراگراف	R+Ctrl	
تراز بندی از دو طرف پاراگراف	J+Ctrl	
برجسته کردن پاراگراف از چپ	M+Ctrl	
برجسته کردن پاراگراف از راست	M+shift+Ctrl	
حذف قالب بندی پاراگراف	Q+Ctrl	
به روز رسانی فیلدها	F9	
تغییر روش نمایش فیلد منتخب	Shift+F9	
تغییر روش تمام فیلدهای سند	Alt+F9	
افزایش اندازه قلم به اندازه یک رقم	Ctrl+] ]	
تبدیل ابتدای کلمات به حروف کوچک یا بزرگ	AK+shift+Ctrl	
تغییر قلم جاری	F+Shift+Ctrl	

عملکرد	کلید ترکیبی	محور
تغییر اندازه قلم جاری	F3+Shift	
ایجاد تو رفتگی از سطر بعدی	P+Shift+Ctrl	
حذف تو رفتگی سطر بعدی	Ctrl+T	
حذف تو رفتگی سطر دوم	T+Shift+Ctrl	
انتخاب همه سند	A+Ctrl	
درج یک شکستگی سطری	Enter+Shift	
انتقال به سطر یا صفحه بعدی	Ctrl+Enter	
آشکار یا پنهان نمودن علائم	H+Shift+Ctrl	

## کلیدهای میانبر در Power Point

عملکرد	کلید ترکیبی
ایجاد نمایش جدید	Ctrl + N
باز کردن نمایش های موجود	Ctrl + O
بستن نمایش	Ctrl + W
خروج از پاورپوینت	ALT + F4
خروج از پاور پوینت	Ctrl + Q
ذخیره	Ctrl + S
ذخیره به عنوان ...	F12
اسلاید جدید	Ctrl + M
نسخه قابل چاپ	Ctrl + P
بازگرداندن به عقب (Undo)	Ctrl + Z
بازگردانی حرکت به جلو (Redo)	Ctrl + Y
لینک کردن	Ctrl + K
راهنما	F1
بررسی املائی	F7
ماکرو	ALT + F8
پررنگ کردن متن (بولد کردن)	Ctrl + B
کج کردن متن (ایتالیک کردن)	Ctrl + I
خط زیر متن	Ctrl + U
تغییر در نوشتار متن	SHIFT + F3
وسط چین کردن متن	Ctrl + E
چپ چین کردن متن	Ctrl + L
راست چین کردن متن	Ctrl + R
ابتدا اشیا مورد نظر در یک صفحه را انتخاب کنید. سپس با فشردن این کلید ترکیبی اشیا انتخاب شده از سمت شما به یک گروه واحد تبدیل می شوند.	Ctrl + G

عملکرد	کلید ترکیبی
اگر قبلا اشیای منتخب در یک صفحه را به گروه واحد تبدیل کردید، با استفاده از این کلید ترکیبی این گروه بندی از بین می‌رود و اشیاء از هم جدا می‌شوند.	Ctrl + Shift + G
تبدیل دوباره اشیاء به یک گروه واحد	Ctrl + Shift + J
حرکت دادن اشیاء بر روی خطوط مشبک (توری)	Arrow Keys
برای تغییر سایز یکسان طول و عرض اشیاء استفاده می‌شود.	Shift + Resize
حرکت شی یا گروه اشیاء طبق خطوط راهنمای طول و عرضی	Shift + Drag
اگر میخواهید از شی و یا گروه اشیاء انتخاب شده، یک کپی ایجاد کنید و کپی ایجاد شده را طبق راهنمای خطوط طولی و عرضی در صفحه جا به جا کنید از این کلید ترکیبی استفاده نمایید.	Shift + Ctrl + Drag
جایگزین کردن	Ctrl + H
ابتدای نمایش	Ctrl + Home
انتهای نمایش	Ctrl + End
بازگشت به یک صفحه قبل	Page Up
رفتن به یک صفحه بعد	Page Down
انتخاب همه موارد موجود	Ctrl + A
رفتن به صفحه ابتدایی نمایش موجود	Shift + Home
رفتن به صفحه آخر نمایش موجود	Shift + End
انتخاب شی گرافیکی بعدی	Tab
انتخاب شی گرافیکی قبلی	Shift + Tab
شروع نمایش اسلاید	F5
پایان نمایش اسلاید	ESC
تغییر اشاره گر ماوس به قلم	Ctrl + P
مخفی کردن اشاره گر ماوس	Ctrl + H
تغییر اشاره گر ماوس به فلش	Click + A

عملکرد	کلید ترکیبی
تغییر اشاره گر ماوس به پاک کن	Ctrl + E
اگر بر روی نمایش ساخته شده و در حال اجرا با خودکار چیزی رسم کرده و یا نوشته باشید، با این کلید ترکیبی می‌توانید آن را نمایش داده و یا مخفی کنید.	Ctrl + M
اگر در هنگام نمایش اسلاید فلش ماوس را به قلم تبدیل کرده باشید و چیزی را روی صفحه نوشته باشید با فشردن این کلید تمامی نوشته های شما از صفحه پاک خواهد شد.	E
پنجره ای در صفحه نمایش باز شده و شامل تمامی صفحات ساخته شده و عنوان های آنها می‌باشد.	Ctrl + S





## اصل سوالات

سازمان سنجش آموزش کشور

هوش و توانمندی‌های عمومی

راهنمایی: متن زیر را به دقت بخوانید و صحیح ترین پاسخ را برای سوالات انتخاب کنید

تجاری سازی فناوری، بخشی از نوآوری است و اگر نوآوری از پرداختن به ایده تا ورود به بازار در نظر گرفته شود، بدون تجاری سازی قطعاً چیزی به نام نوآوری و فناوری وجود نخواهد داشت. در چندین سال اخیر، فناوری نانو بعنوان یک فناوری پیشرفته و برخوردار از رشد شناخته شده و هر روز بر کاربردهای آن در صنایع و بخش های آن اضافه می گردد. تجاری سازی و ایجاد کسب و کار از طریق فناوری نانو به عنوان یک هدف و آرمان مورد توجه کشورها و شرکت های مختلف دنیا قرار گرفته است. فناوری نانو دربرگیرنده فرصت های کسب و کاری ویژه برای تک تک شرکت ها با مزایای اجتماعی بزرگ در سطح جهان است. برای اینکه این مزایا آشکارتر شوند لازم است تا محصولات و فرآیندهای ارائه شده بوسیله فناوری نانو به بازار عرضه شوند. که این امر مستلزم فرآیند تجاری سازی است.

فناوری نانو به تکنیک طراحی، توصیف، تولید و کاربرد ساختار، ابزار و سیستم ها در مقیاس نانو اطلاق می شود. این فناوری با کنترل ابعاد و ساختار ماده در دامنه ۱ تا ۱۰۰ نانومتر، ویژگی های جدید و بی نظیری را به ماده می دهد. با افزایش فرصت های سرمایه گذاری و علاقه به این موضوع، کلمه نانو بصورت متداول و اغلب کتابخانه ای مورد استفاده قرار می گیرد که منجر به برخی انتقادات در جوامع علمی شده است باید متوجه بود که علم نانو بطور اساسی، از علوم دیگری از قبیل شیمی، علوم چندبخشی و فناوری های زیرساخت ها شکل گرفته است. با این حال، استفاده از این کلمه به محققان اجازه میدهد تا اثر فرآیندها (مانند تولیدات نانو) و ساختارهای مواد (مانند نانو موادها) را نمایان تر کنند.

تجاری سازی نتایج تحقیق، یکی از گام های مهم نظام نوآوری است که پایداری و استمرار امر تحقیق را تضمین می کند و متناسب با آن، علاوه بر فراهم آوردن ارزش های اقتصادی قابل توجه برای سازمان ها، رشد اقتصادی دانش محور جامعه را نیز تسریع می نماید. تجاری سازی، تحقق فرآیندی است که ورود به بازار می تواند ایجاد درآمد کند. فناوری اگر در قفسه بماند، هیچ درآمدی ایجاد نمی کند. تجاری سازی فناوری، فرآیندی پیچیده است که شامل بخش های مختلف است. فرآیند تجاری سازی نیازمند توسعه محصول، ارزیابی بازار، راهبردهای بازار، مالی، ساخت و حسابداری است. برای تجارت مناسب و موفق باید محیط چندوجهی موجود باشد.

۱. با پرداختن به موضوع تجاری سازی نویسنده در صدد است تا ...

۱) شرط لازم و کافی برای موفقیت شرکت های بزرگ در عرصه جهانی را معرفی نماید

۲) یکی از ابعاد اصلی نوآوری و فناوری را توضیح دهد

۳) تعریف جدید از آن ارائه دهد و مزیت های آن را برشمرد.

۴) روش های توسعه آن را از منظر تکنولوژی، مورد نقد و بررسی قرار دهد.

پاسخ: گزینه ۲ صحیح می باشد. نویسنده در صدد است با پرداختن به موضوع تجاری سازی یکی از ابعاد اصلی نوآوری و فناوری را توضیح دهد.

۲. باتوجه به متن می توان نتیجه گرفت که شرکت های بزرگ در سطح جهان...

۱) بهتر است برای توسعه بخش فناوری خود فرصت های شغلی جدید ایجاد کنند

۲) از تلفیق فناوری نانو و تجاری سازی بصورت ویژه سود می برند

۳) نقش مهمی در توسعه تجاری سازی در سال های اخیر ایفا کرده اند

۴) در یک اقدام مشترک، تولید محصولات نانو خود را افزایش داده اند

پاسخ: گزینه ۳ صحیح می باشد. در خط سوم متن می خوانیم ” تجاری سازی و ایجاد کسب و کار از طریق فناوری نانو به عنوان یک هدف و آرمان مورد توجه کشورها و شرکت های مختلف دنیا قرار گرفته است ” در واقع این شرکت ها نقش مهمی در توسعه تجاری سازی در سال های اخیر ایفا کرده اند.

۳. کدام گزینه، نظر نویسنده متن را درباره استفاده از کلمه نانو به خوبی بیان می کند؟

۱) اگر تعریف جامع و کاملی از آن در دست نبود، انتقادهای مجامع علمی به استفاده متداول از آن، وارد بود.

۲) به نادیده گرفته شدن نقش علوم دیگر در حوزه فناوری می انجامد.

۳) استفاده متداول از آن، در افزایش فرصت های سرمایه گذاری تاثیر مثبت دارد.

۴) می تواند بر افزایش کیفیت پژوهش های حوزه نانو تکنولوژی، تاثیر مثبت بگذارد.

پاسخ: گزینه ۱ صحیح می باشد.

۴. کدام مورد، درباره تجاری سازی فناوری را می توان از پارگراف سوم متن نتیجه گرفت؟

الف) بالفعل شدن اثر درآمدزایی آن، تحت شرایطی خاص امکان پذیر است.

ب) گرچه به ظاهر پیچیده می نماید اما در عمل، یک فرآیند ساده خطی بیش نیست.

ج) تاثیرات آن در بخش مالی اقتصاد، بسیار گسترده تر از اثرات آن در بخش غیرمالی است.

پاسخ: گزینه ۳ صحیح می‌باشد. با مطالعه پارگراف سوم تنها نتیجه می‌گیریم که تاثیرات آن در بخش مالی اقتصاد، بسیار گسترده تر از اثرات آن در بخش غیرمالی است.

راهنمایی: متن زیر را با دقت بخوانید و صحیح‌ترین پاسخ را برای سوال‌ها انتخاب کنید

محققان در حال ساخت ریز روبات‌های اجتماعی هستند که پس از تزریق بدن انسان وارد خون وی می‌شوند. برخلاف روبات‌های کوچکی که صدها عضو متحرک دارند، این روبات‌ها از نژاد متفاوتی هستند و تماما از مواد شیمیایی ساخته شده‌اند. هر یک از روبات‌ها، به اندازه یک موجود تک سلولی است و از طریق رگ‌های خونی به بخش‌های بدن که غدد آن در حال شکل‌گیری اند، دارو حمل می‌کنند. دکتر فرانتیسک استپانک، که به عنوان مهندس شیمی در کالج سلطنتی لندن فعالیت می‌کند، در حال کشت اولین نمونه روبات‌های شیمیایی است. وی می‌گوید "سطح روبات‌ها به گونه‌ای طراحی شده که خود را به سلول سرطانی رسانده و به آن می‌چسبند. سپس به صورت ناگهانی تعداد زیادی روبات در سلول انباشته شده و با آزاد کردن دارو، سلول سرطانی را از بین می‌برند" همانند حشرات که با استفاده از فرومون، یکدیگر را به منبع غذایی راهنمایی می‌کنند، این ریز روبات‌های اجتماعی نیز از طریق سیگنال‌های اجتماعی با یکدیگر ارتباط برقرار می‌کنند. پوسته بیرونی روبات‌ها از منقذهای ریزی پوشیده شده که تعیین می‌کنند چه موادی وارد روبات شوند و چه موقع محموله آن آزاد شود. دکتر استپانک می‌گوید "وقتی روبات تنهاست، منقذهای بسته می‌ماند. اما زمانی که روبات‌ها با یکدیگر هستند و روی یک هدف قفل کرده‌اند، ناگهان غلظت مولکول آزاد شده هر روبات بیش از اندازه می‌شوند و این یک سیگنال به بقیه روبات‌هاست. همگی به محض دریافت سیگنال، منقذهای خود را باز کرده و ماده

شیمیایی فعال شده را جهت خنثی کردن هدف آزاد می کنند ” با وجود ترس اولیه، رها کردن ریز روبات ها در بدن انسان، روش مطمئنی برای تزریق داروست. هر روبات برای سمی بودن بسیار کوچک است و جمعیت روبات ها، فقط وقتی محموله دارویی خود را رها می کند که در محل مورد نظر جمع شده باشند. دو سال است استپانک روی این پروژه پنج ساله کار می کند. کار زیادی در پیش است اما او و گروهش، تاکنون موفق به یافتن راهی برای آزاد کردن محموله های ریز روبات ها شده اند. ریز روبات ها را می توان با هر وظیفه ای سازگار کرد. از چنین روبات هایی می توان برای مقابله با انتشار مواد شیمیایی یا پاکسازی محیط استفاده کرد.

۵. براساس متن، کدام مورد درباره ریز روبات ها، صحیح است؟

- ۱) تنها برای یک هدف ساخته شده اند.
  - ۲) توسط سلول های سرطانی ساخته می شوند.
  - ۳) وظیفه انتقال و آزاد سازی دارو در خون را به عهده دارند.
  - ۴) در مبارزه با سلول های سرطانی، مستقل از هم عمل می کنند.
- پاسخ: گزینه ۳ صحیح می باشد. همانطور که در خط سوم ملاحظه می نمائید ” و از طریق رگ های خونی به بخش های از بدن که غدد آن در حال شکل گیری اند، دارو حمل می کنند و بعد در خط شش ” با آزاد کردن دارو، سلول سرطانی را از بین می برند ”.

۶. هدف اصلی نویسنده در پاراگراف دوم متن، کدام است؟

- ۱) توضیح عملکرد روبات ها در ارتباط با یکدیگر

۲) بررسی تاثیر ریز روبات ها بر سلول های سرطانی

۳) توصیف ساختار فیزیکی ریز روبات ها

۴) مقایسه ریز روبات ها با حشرات

پاسخ: گزینه ۱ صحیح می باشد. با مطالعه پارگراف دوم متن، نویسنده اطلاعاتی در مورد عملکرد روبات ها در ارتباط با یکدیگر به ما می دهد.

۷. متن به کدام پرسش زیر پاسخ نمیدهد؟

۱) منفذهای موجود در پوسته بیرونی ریز روبات ها چه نقشی ایفا می کند؟

۲) چگونه ریز روبات ها نیازهای غذایی سلول ها را بر طرف می کنند؟

۳) از ریز روبات ها برای انتقال چه مواردی استفاده می شود؟

۴) ساختار فیزیکی و شیمیایی ریز روباتها چگونه است؟

پاسخ: گزینه ۲ صحیح می باشد. همانطور که در متن آمده وظیفه ریز روبات ها از بین بردن سلول های سرطانی می باشد و نقشی در برطرف کردن نیازهای غذایی سلول ها ندارند اما موارد دیگر در متن به صورت واضح توضیح داده شده است.

۸. کدام مورد، لحن نویسنده متن را درباره ریز روبات ها به خوبی بیان می کند؟

۱) بی علاقه      ۲) نگران      ۳) غیر علمی      ۴) خوش بینانه

پاسخ: گزینه ۴ صحیح می‌باشد. با توجه به اینکه هنوز سال دوم از پروژه‌ی پنج ساله هستند، بنابراین نمی‌توان بطور قاطع در مورد نتیجه آزمایشات صحبت کرد که این مورد می‌تواند کمی خوش بینانه باشد.

راهنمایی: برای پاسخگویی به زیر لازم است موقعیتی را که در هر سوال مطرح شده مورد تجزیه و تحلیل قرار دهید و سپس گزینه‌ای را که فکر می‌کنید پاسخ مناسب‌تری برای آن سوال است، انتخاب کنید. هر سوال را با دقت بخوانید و با توجه به واقعیت‌های مطرح شده در هر سوال و نتایج که بیان شده و بیان نشده ولی قابل استنتاج است، پاسخی را که صحیح‌تر به نظر می‌رسد انتخاب و در پاسخنامه علامت بزنید.

۹. در کشور «الف» که زبان انگلیسی به عنوان زبان خارجی در مدارس تدریس می‌شود، معلمان درس «فن نگارش انگلیسی» با آنکه می‌دانند که بر اساس تحقیقات انجام شده تصحیح انشای دانش‌آموزان تأثیری بر روی رشد فن نگارش در آنها نمی‌گذارد، ولی همواره انشا‌های دانش‌آموزان را به دقت تصحیح و به آنان بر می‌گردانند و این در حالی است که انجام این کار، وقت بسیاری از آنها می‌گیرد.

کدام مورد در صورتیکه صحیح فرض شود، به منطقی‌ترین وجه، تناقض موجود در متن فوق را برطرف می‌سازد؟

(۱) قوانین آموزش و پرورش در کشور «الف» تصحیح تکالیف درسی از جانب معلمان را اختیاری کرده است.

(۲) وقت آزاد معلمان کشور «الف» به دلیل آنکه ساعات موظف تدریس آنها ۱۰ ساعت در هفته است زیاد می‌باشد.



۳) معلمان زبان انگلیسی در کشورهای دیگر نیز، بر تصحیح دقیق انشای فراگیران این زبان، تأکید بسیار زیادی دارند.

۴) معلمان می‌دانند که چنانچه شاگردان از غلط‌های نگارشی خود آگاه نباشند، انگیزه لازم برای مطالعه شخصی و بهبود فن نگارش پیدا نمی‌کنند.

پاسخ: گزینه ۴ صحیح می‌باشد.

۱۰. اندازه‌گیری‌های جدید نشان می‌دهد که میزان انبساط عالم از آنچه در گذشته اندازه گرفته شده بیشتر است و انرژی تاریک نمی‌تواند تنها پاسخ انبساط عالم باشد، شاید زمان آن فرا رسیده است که به مطالعه دقیق‌تر سایر مدل‌های انبساطی موجود بپردازیم. کدام مورد را می‌توان به درستی از متن فوق استنباط کرد؟

۱) میزان انبساط عالم با گذشت زمان بیشتر می‌شود.

۲) برخی مدل‌های انبساطی، آن‌طور که باید، مورد توجه قرار نگرفته‌اند.

۳) برخی مدل‌های انبساطی، نقش انرژی تاریک در انبساط عالم را کم برآورد کرده‌اند.

۴) اندازه‌گیری میزان انبساط عالم، بدون استفاده از یک مدل انبساطی دقیق، ممکن نیست.

پاسخ: گزینه ۲ صحیح می‌باشد. با نگاهی به این قسمت از متن " شاید زمان آن فرا رسیده است که به مطالعه دقیق‌تر سایر مدل‌های انبساطی موجود بپردازیم. " در می‌یابیم که برخی مدل‌های انبساطی، آن‌طور که باید، هنوز مورد توجه قرار نگرفته‌اند. و نویسنده از لزوم مطالعه دقیق‌تر در مورد آن صحبت می‌کند.

۱۱. درست است که احاطه شدن با واقعیت مجازی، ترسناک به نظر می‌رسد، اما این ترس دست کمی از واهمه‌ای که اجداد ما از بلندگو و تلگراف داشتند، ندارد. غرق شدن در دنیایی که واقعی نیست، برای درک جهان‌های دور از دسترس جالب است، اما محاصره شدن با تصاویر و صداهایی که همگی ساختگی‌اند، اگر به قیمت پایین کشیدن کرکره دنیای واقعی تمام شود، چیزی نیست که .....

(۱) بخواهیم با دسته گل به استقبالش برویم.

(۲) حتی از گوشه نظر اجداد بنی بشر نگذشته باشد.

(۳) بدون آن، راحت بتوان به درک واقعیت عینی رسید.

(۴) خالقان آثار علمی-تخیلی جهان با آن مخالفتی داشته باشند.

پاسخ: گزینه ۱ صحیح می‌باشد. بطور قطع می‌توان گفت که بلندگو و تلگراف به قیمت پایین کشیدن کرکره دنیای واقعی برای اجدا ما تمام نشده ولی محاصره شدن با تصاویر و صداهایی که همگی ساختگی‌اند، اگر به قیمت پایین کشیدن کرکره دنیای واقعی تمام شود، چیزی نیست که آنچنان خوشایند ما باشد و بخواهیم با دسته گل به استقبالش برویم.

۱۲. نیوزلند دارای یکی از متفاوت‌ترین اقلیم‌ها و محیط‌های زیستی جهان است. و مسئولان این کشور قصد دارند تا برای حفاظت از این جانداران بومی این سرزمین، شکارچیان آنها را حذف کنند. موجوداتی مانند گربه‌ها، موش‌ها، قاقم‌ها، پاسام‌ها و موش خرما‌ها که هیچ‌کدام بومی این سرزمین نیستند، هر ساله میلیون‌ها گونه بومی نیوزلند را شکار می‌کنند. به همین دلیل قرار است دولت نیوزلند بودجه‌ای ۲۸ میلیون دلاری برای شناسایی و از میان برداشتن موجودات شکارچی‌ای که از خارج به این سرزمین آمده‌اند اختصاص دهد.

کدام مورد در صورتی که صحیح فرض شود به بهترین وجه، طرح پیشنهادی در استدلال فوق را تضعیف می‌کند.

(۱) بسیاری از طرفداران حیات وحش، با کشتار هرگونه جانوری تحت هرگونه توجیهی.

(۲) کشورهای دیگری که با مشکلی نظیر نیوزیلند روبرو بودند طرحی مشابه را.

(۳) افزایش تعداد گونه‌های بومی، در صورت حذف شکارچیان آنها به میزانی خواهد بود که مهار آنها بودجه سالانه بالغ بر ۴ میلیارد دلار نیاز خواهد داشت.

(۴) در حال حاضر، طرح‌هایی برای کنترل ضرر و زیان مالی که برخی گونه‌های بومی در صورت افزایش تعدادشان، ممکن است به محصولات کشاورزی وارد آورند، در دست اجرا می‌باشد.

پاسخ: گزینه ۳ صحیح می‌باشد مورد سوم اگر صحیح فرض شود از میان برداشتن موجودات شکارچی به لحاظ اقتصادی مقرون به صرفه نمی‌باشد زیرا برای مهار جمعیت گونه‌های بومی، بودجه‌ای به مراتب سنگین‌تر باید اختصاص داده شود.

۱۳. بزرگترین هواپیمای اطفاء حریق که ۲۰ هزار گالن مواد ضد حریق حمل می‌کند یک بوئینگ ۷۴۷-۴۰۰ است. البته پرواز این هواپیما نیز بسیار هزینه‌بر است تا جایی که بخشی از هزینه هفته‌ای ۱۰۰ میلیون دلاری اداره جنگل‌های منطقه الف برای اطفاء حریق‌های اخیر صرف همین هواپیما شده است. کدام یک از موارد زیر می‌توان به درستی، از اطلاعات مندرج در متن فوق، استنباط کرد؟

(۱) حریق‌های منطقه الف در سال‌های اخیر، نسبت به گذشته بیشتر و شدیدتر شده است.

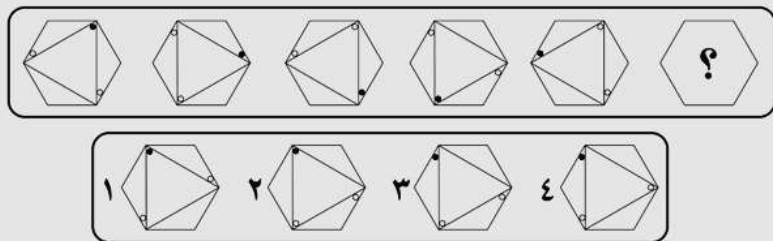
(۲) هزینه‌ای که هم‌اکنون صرف اطفاء حریق جنگل‌های منطقه الف می‌شود، کافی نیست.

۳) استفاده از هواپیمای جدید، با اطفاء سریع تر حریق های منطقه جنگلی الف در دراز مدت هزینه مربوط به این کار را کاهش خواهد داد.

۴) اطفای حریق های منطقه الف از چنان اهمیتی برخوردار است که صرف هزینه بالای استفاده از هواپیمای جدید را توجیه می کند.

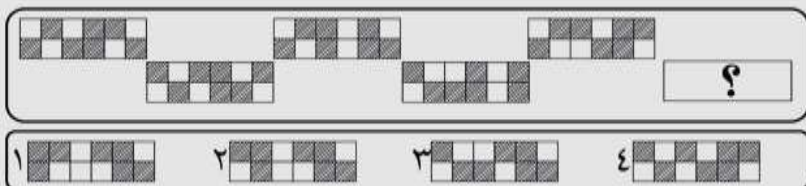
پاسخ: گزینه ۴ صحیح می باشد.

۱۴.

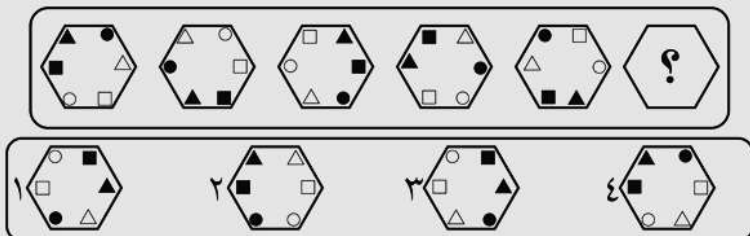


پاسخ: گزینه ۳ صحیح می باشد.

۱۵.



پاسخ: گزینه ۳ صحیح می باشد.



پاسخ: گزینه ۱ صحیح می باشد.

الگوی تکرار رفته در این سوال بدین صورت می باشد:


در مرحله اول شکل را ۹۰ درجه حول محور خودش به سمت چپ دوران می دهیم



سپس اشکالی در قسمت قرمز رنگ قرار دارند یا هم جابجا می کنیم



۱۷. در شکل زیر بین اشکال رابطه خاصی وجود دارد، به جای علامت سوال کدام شکل قرار می‌گیرد؟



(۲)



(۴)



(۱)



(۳)

پاسخ: گزینه ۴ صحیح می‌باشد.

راهنمایی: با توجه به اطلاعات زیر، به سوال ها پاسخ دهید.

A, B, C و D اسامی اعضای یک خانواده چهار نفری شامل پدر، مادر، دختر، پسر(نه لزوماً به ترتیب) می باشند که هر کدام دارای یکی از مشاغل پزشک، معلم، روزنامه نگار و مدیر آژانس هواپیمایی (نه لزوماً به ترتیب) هستند، به طوری که هیچ دو نفری از آنها نه هم سن هستند و نه هم شغل، اطلاعات زیر، در مورد این افراد موجود است.

- کسی که شغلش روزنامه نگار است، نه مرد است و نه D
- B از کسی که شغلش پزشک است، پیرتر است.
- A و C نه خواهر و برادرند و نه یکی فرزند دیگری.
- اگر پسر خانواده پزشک باشد، خواهرش مدیر آژانس هواپیمایی نیست.

۱۸. شغل کسی که نامش D است، چیست؟

- (۱) پزشک  
(۲) معلم  
(۳) مدیر آژانس هواپیمایی  
(۴) به طور قطع نمی توان پیدا کرد.

پاسخ: گزینه ۱ صحیح می باشد.

۱۹. اگر دختر خانواده معلم باشد، A و B چه نسبتی با یکدیگر دارند؟

- (۱) مادر و دختر  
(۲) مادرو پسر  
(۳) پدر و دختر  
(۴) به طور قطع نمی توان پیدا کرد.

پاسخ: گزینه ۴ صحیح می‌باشد.

۲۰. اگر B، پسر مدیر آژانس هواپیمایی باشد، کدام افراد با یکدیگر، نسبت مادر-دختری دارند؟

- (۱) روزنامه نگار و معلم  
(۲) مدیر آژانس و معلم  
(۳) روزنامه نگار و پزشک  
(۴) مدیر آژانس و روزنامه نگار

پاسخ: گزینه ۳ صحیح می‌باشد.

۲۱. اگر شغل مادر خانواده معلم باشد، کدام مورد زیر به طور قطع صحیح است؟

- I. B روزنامه نگار است  
II. مدیر آژانس هواپیمایی، پدر کسی است که شغلش پزشک است.  
III. C و D، پدر و پسر هستند.

- (۱) فقط II  
(۲) فقط I و II  
(۳) فقط II و III  
(۴) I، II، III

پاسخ: گزینه ۴ صحیح می‌باشد.

۲۲. در رشته اعداد زیر، نسبت  $x$  به  $y$  کدام است؟

0      2      6      14       $x$       62       $y$       254



۵/۱ (۴)

۴/۲ (۳)

۳ (۲)

۲ (۱)

پاسخ: گزینه ۳ صحیح می‌باشد.

$$x = 2(8) + 14 = 30$$

$$62 = 2(16) + 30$$

$$y = 2(32) + 62 = 126$$

$$254 = 2(64) + 126$$

$$\frac{x}{y} = \frac{126}{130} = 4/2$$

راهنمایی: با توجه به اطلاعات زیر، به سوالات زیر پاسخ دهید.

در یک میوه فروشی، ۵ ظرف در دو طبقه مطابق شکل وجود دارد. در هر یک از این ظروف یکی از سه نوع میوه زردآلو، گیلان و هلو با کیفیت‌های درجه ۱ و درجه ۲ چیده شده است. در مورد چیدمان ظروف و میوه‌ها محدودیت‌های زیر برقرار است:

طبقه دوم
طبقه اول

\* میوه‌های مشابه، چه از لحاظ نوع و چه از لحاظ کیفیت دقیقاً کنار یکدیگر در یک طبقه قرار نمی‌گیرند.

\* گیلان، نه از درجه ۲ است و نه در طبقه ۲ قرار دارد.

\* در هر طبقه، حداقل دو ظرف قرار دارد.

شکل زیر برگرفته از اطلاعات سوال می باشد



۲۳. اگر هلوی درجه ۱ در منتهی الیه سمت چپ طبقه اول باشد، نوع میوه چند ظرف مشخص می شود؟

۵ (۴)

۴ (۳)

۳ (۲)

۲ (۱)

پاسخ: گزینه ۲ صحیح می باشد. اگر هلوی درجه یک در منتهی الیه سمت چپ طبقه اول باشد، و طبق یکی از مفروضات سوال گیلای درجه یک باید در این طبقه باشد، بنابراین گیلای درجه یک در منتهی الیه سمت راست ظرف قرار می گیرد و چون دو میوه از یک نوع نمی تواند کنار هم باشند، لذا طبقه اول باید سه ظرف میوه داشته باشد و در وسط زردآلو درجه دو باشد.

۲۴. در طبقه دوم از راست به چپ، میوه زردآلو درجه ۱ و هلو درجه ۲ چیده شده است. کدام مورد در خصوص چیدمان میوه در طبقه اول، از راست به چپ لزوماً صحیح است؟

(۱) گیلای درجه ۱، زردآلو درجه ۲، هلو درجه ۱

(۲) هلو درجه ۱، زردآلو درجه ۲، گیلای درجه ۱

(۳) زردآلو درجه ۲، گیلای درجه ۱، هلو درجه ۱

۴) نمی توان اظهار نظر کرد.

پاسخ: گزینه ۴ صحیح می باشد. گزینه های اول و دوم هر دو می تواند صحیح باشد زیرا هیچکدام مفروضات مسئله را نقض نمی کنند اما در مورد گزینه سوم باید بگوئیم که در کل غلط است زیرا دو میوه از یک نوع در یک طبقه قرار گرفته اند و این مورد یکی از فرضیات مسئله را نقض می کند، بنابراین گزینه ۴ صحیح می باشد.

۲۵. اگر هلو درجه ۲، در طبقه اول و بین دو میوه دیگر قرار داده شده باشد، کدام مورد صحیح است؟

۱) هلو درجه ۱ و زردآلو درجه ۲ در طبقه دوم قرار دارند.

۲) گیلان درجه ۱ در منتهی الیه سمت چپ طبقه اول قرار دارد.

۳) سمت چپ هلو درجه ۲، زردآلو درجه ۱ قرار گرفته است.

۴) سمت چپ هلو درجه ۲، میوه گیلان درجه ۱ قرار گرفته است.

پاسخ: گزینه ۱ صحیح می باشد در مورد گزینه اول با قطعیت می توان گفت که هلو درجه ۱ و زردآلو درجه ۲ در طبقه دوم قرار دارند، اما هر دو مورد هر کدام از سه گزینه دیگر با قطعیت نمی توان اظهار نظر کرد، برای مثال گیلان درجه ۱ ممکن است در منتهی الیه سمت چپ قرار داشته باشد یا در منتهی الیه سمت راست اما بطور قطع نمی توان نظر داد.

۲۶. در چند حالت مختلف زردآلو درجه ۲، در طبقه اول و بین دو میوه دیگر قرار گرفته است؟

۶ (۴)

۴ (۳)

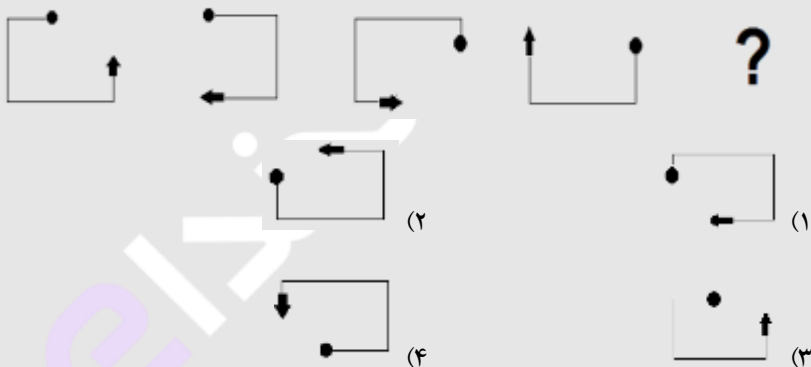
۳ (۲)

۲ (۱)

پاسخ: گزینه ۱ صحیح می‌باشد وقتی زردآلو درجه ۲ در طبقه اول و وسط قرار بگیرد یعنی در ظروف دیگر حتماً باید میوه درجه ۱ باشد و از نوع زردآلو هم نباشد، بنابراین دو حالت دارد که بدین صورت می‌باشد:

(گیلاس درجه ۱، زردآلو درجه ۲، هلو درجه ۱) (هلو درجه ۱، زردآلو درجه ۲، گیلاس درجه ۱)

۲۷. از چپ به راست، بین الگوها ارتباط خاصی وجود دارد. به جای علامت سوال کدام الگو (موارد ۱ تا ۴) باید قرار بگیرد تا این ارتباط حفظ شود؟



پاسخ: گزینه ۴ صحیح می‌باشد.

۲۸.  $\frac{3}{5}$  اعضای یک باشگاه خبرنگاران را زنان تشکیل می‌دهند.  $\frac{1}{4}$  این زنان، شغل دیگری هم دارند. همچنین می‌دانیم که  $\frac{1}{3}$  خبرنگاران مرد در این باشگاه، دارای شغل دیگری نیز

هستند. اگر تعداد کل خبرنگارانی که در این باشگاه فقط به حرفه خبرنگاری مشغول می باشند ۴۳۰ نفر باشد، تعداد کل خبرنگاران این باشگاه کدام است؟

- ۶۰۰ (۴)      ۷۲۰ (۳)      ۱۰۰۰ (۲)      ۱۲۰۰ (۱)

پاسخ: گزینه ۴ صحیح می باشد.

$$\frac{3}{5} \times \frac{3}{4} = \frac{9}{20} \text{ زنانی که فقط شغل خبرنگاری دارند:}$$

$$\frac{2}{5} \times \frac{2}{3} = \frac{4}{15} \text{ مردانی که فقط شغل خبرنگاری دارند:}$$

$$\frac{9}{20} + \frac{4}{15} = \frac{43}{60} \text{ تعدادی مردان و زنانی که فقط شغل خبرنگاری دارند:}$$

حال اگر تعداد اعضای باشگاه را  $x$  در نظر بگیریم  $\frac{43}{60}$  آنها فقط شغل خبرنگاری دارند بنابراین:  $\frac{43}{60}x = 430 \rightarrow x = 600$

راهنمایی: هر یک از سوالات زیر را بخوانید و پاسخ صحیح را انتخاب کنید و در پاسخنامه علامت بزنید. توجه داشته باشید که هر سوال فقط یک پاسخ صحیح دارد.

۲۹. بین اعداد زیر ارتباط خاصی برقرار است. به جای علامت سوال کدام عدد باید قرار بگیرد تا این ارتباط همچنان حفظ شود؟

- 213    273    333    423    543    693

- ۸۷۳ (۴)      ۷۸۳ (۳)      ۷۵۳ (۲)      ۹۴۳ (۱)

پاسخ: گزینه ۴ صحیح می باشد.

الگوی این سوال بدینصورت می باشد :

$$\begin{array}{r} 2 \times 3 = 6 \\ \textcircled{2} \textcircled{1} \textcircled{3} \\ + 6 \\ \hline 273 \end{array} \quad \begin{array}{r} 2 \times 3 = 6 \\ \textcircled{2} \textcircled{7} \textcircled{3} \\ + 6 \\ \hline 333 \end{array} \quad \begin{array}{r} 3 \times 3 = 9 \\ \textcircled{3} \textcircled{3} \textcircled{3} \\ + 9 \\ \hline 423 \end{array}$$

و در نهایت خواهیم داشت :

$$\begin{array}{r} 6 \times 3 = 18 \\ \textcircled{6} \textcircled{9} \textcircled{3} \\ + 18 \\ \hline 873 \end{array}$$

۳۰. حاصلضرب سه عدد برابر ۹۷۲۰ است. نسبت کوچکترین عدد به عدد میانی ۲ به ۳ است و عدد میانی به عدد بزرگ ۲ به ۵ است میانگین این سه عدد کدام است؟

۱۵ (۴)

۲۰ (۳)

۲۵ (۲)

۱۰ (۱)

پاسخ: گزینه ۲ صحیح می باشد.

$$abc = 9720$$

$$\begin{cases} \frac{a}{b} = \frac{2}{3} \rightarrow a = \frac{2}{3}b \\ \frac{b}{c} = \frac{2}{5} \rightarrow c = \frac{5}{2}b \end{cases} \rightarrow \text{جاگذاری} \rightarrow \left(\frac{2}{3}b\right)(b)\left(\frac{5}{2}b\right) = 9720$$

$$\rightarrow \frac{a+b+c}{3} = 25 \quad \text{میانگین} \quad b = 18 \quad a = 12 \quad c = 45$$

۳۱. در یک کارخانه قطعه زنی، ۶ دستگاه در حال کار هستند، و در هر ۶ دقیقه، ۲۷۰ قطعه یکسان تولید می کنند، از این ۶ دستگاه یکی از دستگاه ها بعد از هر ۲۰ دقیقه کار کردن، ۱۰ دقیقه خاموش می شود و یکدستگاه دیگر بعد از هر ۳۰ دقیقه کار کردن، ۱۰ دقیقه خاموش می شود. برای تولید ۲۱۶۰۰ قطعه، حداقل چه مدت زمان لازم است؟

(۱) هشت ساعت و پنجاه دقیقه (۲) هشت ساعت

(۳) هشت ساعت و چهل دقیقه (۴) هشت ساعت و بیست دقیقه

پاسخ: گزینه ۱ صحیح می باشد. میانگین هر دستگاه سالم در ۶ دقیقه = ۴۵ قطعه - میانگین هر دستگاه سالم در دقیقه = ۷.۵ قطعه

$$\left\{ \begin{array}{l} \text{قطعه} \\ \text{4 دستگاه} \rightarrow 7.5 \frac{\text{min}}{\text{قطعه}} \\ \text{یکدستگاه} \rightarrow \frac{2}{3} * 7.5 = 5 \frac{\text{min}}{\text{قطعه}} \\ \text{یکدستگاه} \rightarrow \frac{3}{4} * 7.5 = 5.625 \frac{\text{min}}{\text{قطعه}} \end{array} \right.$$

$$[5 + 4(7.5) + 5.625] * x = 21600 \rightarrow x = 8.82$$

۸ = ساعت و ۸۲ بزرگتر از ۴۵ (نزدیک به ۵۰)

۳۲. یک هواپیمای مسافربری در مسیر پرواز خود از شهر A به شهر B در مسیر رفت جهت باد و در مسیر برگشت، خلاف جهت باد حرکت می‌کند. نسبت مدت زمان رفت به مدت زمان برگشت ۲ به ۳ است. نسبت سرعت هواپیما به سرعت باد، کدام است؟

- (۱) ۳ به ۲      (۲) ۵ به ۱      (۳) ۵ به ۲      (۴) ۳ به ۱

پاسخ: گزینه ۲ صحیح می‌باشد.

$$\begin{array}{l}
 \xrightarrow{\text{y جهت باد}} \\
 A \xleftarrow{x} \xrightarrow{x} B \quad \frac{y+x}{y-x} = \frac{2}{3} \\
 \xrightarrow{\text{جمع در مخرج}} \quad \frac{y+x}{y-x+y+x} = \frac{2}{2+3} \rightarrow \frac{y+x}{y} = \frac{4}{5} \\
 \xrightarrow{\text{تفریق در صورت}} \quad \frac{y+x-y}{y} = \frac{4-5}{5} \rightarrow \frac{x}{y} = \frac{1}{5}
 \end{array}$$

۳۳. مغازه داری ۲۶ کیلو چای ۲۰ هزار تومانی را با ۳۰ کیلو چای ۳۶ هزار تومانی مخلوط کرده و هر کیلو را ۳۰ هزار تومان می‌فروشد. وی از فروش هر کیلو چای چند درصد سود می‌کند؟

- (۱) ۷/۵ درصد      (۲) ۳ درصد      (۳) ۵ درصد      (۴) ۶ درصد

پاسخ: گزینه ۲ صحیح می‌باشد.

$$\text{قیمت واقعی هر کیلو} \quad \frac{26(20000)+30(36000)}{56} = 28571$$



$$\text{درصد سود} \sim 5\% \frac{30000 - 28571}{28571}$$

۳۴. A برای سیم کشی ساختمان، نیازمند ۱۲ روز و در هر روز ۸ ساعت کار است. B برای انجام همین کار به ۸ روز کار و در هر روز ۱۰ ساعت کار نیازمند است. اگر این دو نفر با هم روزی ۹ ساعت کار کنند، سیم کشی ساختمان چند روز طول می کشد؟

- ۴ (۱)                      ۱۰ (۲)                      ۷ (۳)                      ۵ (۴)

پاسخ: گزینه ۲ صحیح می باشد.

$$A \rightarrow 12 * 8 = 96 \text{ ساعت کار نیاز دارد}$$

$$B \rightarrow 8 * 10 = 80 \text{ به ۸۰ ساعت کار نیاز دارد}$$

$$\frac{96+80}{2} = 88 \text{ ساعت با هم}$$

$$\rightarrow 88 \div 9 = 9/7 \sim 10$$

۳۵. بهروز، امیر و رضا یک کار را هر کدام به تنهایی به ترتیب در ۱۲، ۱۸ و ۳۶ روز انجام می دهند. اگر بهروز به تنهایی این کار را شروع کند و امیر و رضا در ابتدای روز پنجم به او ملحق شوند. انجام کار از شروع تا پایان چندمین روز طول می کشد؟

- ۶ (۱)                      ۸ (۲)                      ۹ (۳)                      ۱۰ (۴)

پاسخ: گزینه ۲ صحیح می باشد. بهروز به تنهایی ۱۲ روز کار می کند و ۴ روز کار کرده است یعنی  $\frac{1}{3}$  از کار را انجام داده و  $\frac{2}{3}$  باقی مانده، اگر تمامی افراد شروع بکار نمایند کل کار را در ۶ روز به تمام می رسانند. حال باید بررسی کنیم که کار را در چند روز تمام می کنند طبق جدول زیر خواهیم داشت (=4)

۱	۶
$\frac{2}{3}$	؟

بنابراین بعد از ۴ روز کاری بهروز، باقی افراد باید ۴ روز کار کنند تا کار به اتمام برسد، در نتیجه ۸ روز کاری بطول می انجامد.

۳۶. محل اولیه عقربه های ساعت شمار و دقیقه شمار یک ساعت عقربه ای به گونه ای است که ساعت ۴ بعدازظهر را نشان می دهد، زمانی که عقربه های دقیقه شمار برای اولین بار به محل عقربه ساعت شمار می رسد، زاویه بین آنها چند درجه خواهد بود؟


- ۱۲ (۴)                      ۱۱ (۳)                      ۱۰ (۲)                      ۵ (۱)

پاسخ: گزینه ۲ صحیح می باشد  $30 = \frac{360}{12}$  میزان درجه در هر ساعت می باشد. حال چون ۲۰ دقیقه مورد نظر است عقربه ساعت شمار در این ۲۰ دقیقه ۱۰ درجه طی می کند تا ۴۰ دقیقه بعد ۳۰ درجه خود را کامل کند. بنابراین زاویه بین ساعت شمار و دقیقه شمار ۱۰ درجه خواهد بود.

۳۷. سه خط موازی با ۶ خط موازی دیگر در ۱۸ نقطه با هم برخورد کرده اند حداکثر تعداد متوازی الاضلاع های تشکیل شده از برخورد این دو دسته خط موازی، کدام است؟

- ۸ (۴)                      ۱۰ (۳)                      ۳۶ (۲)                      ۴۵ (۱)

پاسخ: گزینه ۳ صحیح می باشد شکل روبرو را می توان برای سوال فرض نمود، همانطور که می بینیم ۱۸ نقطه تلاقی وجود دارد و تعداد ۱۰ متوازی الاضلاع تشکیل شده است.



۳۸. اگر نسبت طول اضلاع یک مثلث قائم الزاویه ۳ به ۴ باشد، نسبت طول ارتفاع وارد بر وتر به طول وتر این مثلث، کدام است؟

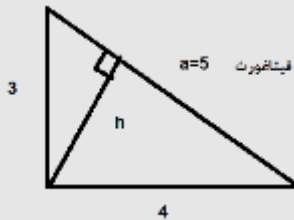
۲۵ به ۱۳ (۴)

۳۵ به ۱۲ (۳)

۲۵ به ۱۲ (۲)

۳۰ به ۱۳ (۱)

پاسخ: گزینه ۲ صحیح است.



$$ah = 3 * 4 = 12 \rightarrow h = 12/5 \rightarrow h/a \rightarrow \frac{12}{5} = 12/25$$

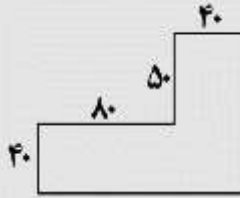
۳۹. می‌خواهیم زمینی به شکل زیر را کاشی کنیم. کاشی‌هایی که در اختیار داریم  $3 * 3$  هستند اگر هیچ کاشی برش داده نشوند کمترین مساحتی که از این زمین کاشی نمی‌شود، کدام است؟

۱۳۰ (۴)

۱۳۱ (۳)

۱۷۰ (۲)

۱۷۱ (۱)



پاسخ: گزینه ۳ صحیح می‌باشد شکل روبرو نحوه کاشی کاری و مناطقی که باقی مانده است را به خوبی نشان می‌دهد.

	$81 = 81 \times 1$ $50 = 50 \times 1$ $81 + 50 = 131$
--	---

۴۰. مقداری جو و گندم به نسبت های ۵ و ۷ کاملاً مخلوط شده اند. پس از آنکه ۹ کیلوگرم از مخلوط را برداشته و به جای آن به همان مقدار جو بریزیم، نسبت جو به گندم ۹ به ۷ می‌شود. نهایتاً این مخلوط چند کیلوگرم گندم خواهد داشت؟

$$\frac{135}{12} \text{ (۴)}$$

$$\frac{324}{12} \text{ (۳)}$$

$$\frac{189}{12} \text{ (۲)}$$

$$\frac{1035}{12} \text{ (۱)}$$

پاسخ: گزینه ۲ صحیح است. پس از برداشت و جایگذاری ۹ کیلو جو داریم  $5x+7x+9$  برابر کل موجودی می‌باشد. پس داریم

$$\frac{5x+9}{7x} = \frac{9}{x} \rightarrow x=9/4*7=63/4=189/12$$

راهنمایی: با توجه به اطلاعات جدول و نمودار به سوالات زیر پاسخ دهید.

مجموع برنامه های تولیدی شبکه های مختلف صدا و سیما جمهوری اسلامی ایران در سال ۱۳۷۶ برابر ۱۲۰۰۰ برنامه بوده است. برنامه های اطلاعات عمومی شبکه سوم سیما، ۷/۵ درصد کل برنامه های تولیدی شبکه دوم سیما بوده است. برخی اطلاعات جدول و نمودار در دست نیست.



درصد تولید برنامه در شبکه های مختلف سیما در سال ۱۳۷۶

شبکه	دوم	سوم
ورزشی		۲۹۵۰
اطلاعات عمومی	۴۷۵	
هنری		۳۰
فرهنگی و اجتماعی	۹۲۵	۲۵۰

تعداد برنامه های مختلف تولیدی شبکه های دوم و سوم در سال ۱۳۷۶

۴۱. تقریباً چند درصد از برنامه های تولیدی شبکه ۳ را برنامه های ورزشی و هنری تشکیل داده می دهد؟

۶۲/۵ (۴)

۵۱ (۳)

۴۲ (۲)

۳۷/۵ (۱)

پاسخ: گزینه ۲ صحیح می باشد.

باتوجه به ۳۰ درصد کل برنامه ها برای شبکه سوم، ۳۶۰۰ خواهد بود و بنابراین برنامه ی اطلاعات عمومی باز راه زیر بدست می آید:

$$3600 - 2950 - 20 - 450 = 180 \text{ اطلاعات عمومی}$$

حال برای برنامه های ورزشی هنری شبکه دوم خواهیم داشت: ورزشی و هنری =  $x$

$$180 = 0.075(475 + 925 + x)$$

$$x = 1000$$

اکنون کل برنامه های شبکه دو ۲۴۰۰ بوده که برای یافتن درصد خواهیم داشت:

$$\frac{1000}{2400} = 42$$

۴۲. چه تعداد از برنامه ها، در سایر شبکه ها تولید شده است؟

۱۱۴۰ (۴)

۱۰۴۰ (۳)

۹۰۰ (۲)

۸۰۰ (۱)

پاسخ: گزینه ۴ صحیح می باشد.

کل برنامه های شبکه دو ۲۴۰۰ بود، بنابراین داریم  $\frac{2400}{12000} = 20$  یعنی ۲۰ درصد در نتیجه برای باقی شبکه ها ۵.۹ درصد باقی می ماند که تعداد آنها از رابطه ی زیر بدست می آید:

$$0.095 \times 12000 = 1140$$

۴۳. با توجه به شکل‌های مقابل مقدار؟ را بیابید:



۵۸ (۴)

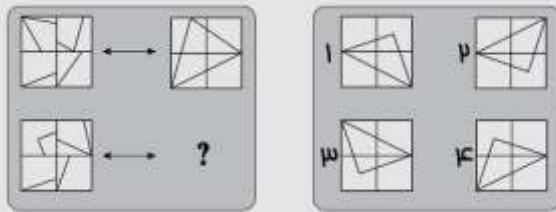
۳۸ (۳)

۱۸ (۲)

۱۶ (۱)

پاسخ: گزینه ۳ صحیح می باشد. فرمول به این صورت می باشد که دو عدد ردیف پایین در هم ضرب شده و منهای ۱۰ می شود عدد بالایی مثلا در اولین شکل می شود ۵ ضربدر ۶ منهای ۱۰ برابر ۲۰ می شود و به همین ترتیب در مورد شکل دوم عدد ۳۸ حاصل می شود.

۴۴



پاسخ: گزینه ۳ صحیح می باشد.

الگوی این سوال به ترتیب زیر می باشد :

۱- در ابتدا مربع های شکل اول را به صورت زیر شماره گذاری می نمایم



۲- مربع شماره یک را حول محور مشخص شده ۹۰ درجه خلاف عقربه های ساعت دوران می دهیم.



۳- مربع شماره ۲ را حول محور مشخص شده بر خلاف عقربه های ساعت ۱۸۰ درجه ، دوران می دهیم .



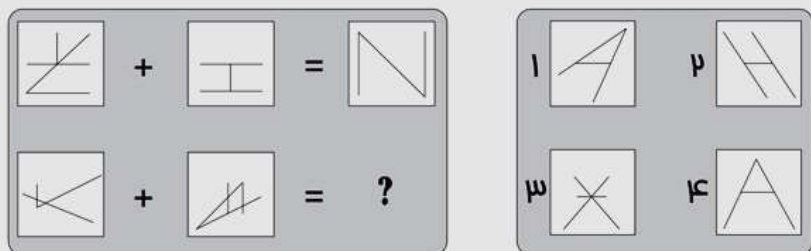
۴- مربع شماره ۳ را نیز حول محور مشخص شده دوران می دهیم .



۵- در آخر هم مربع شماره ۴ را نیز حول محور مشخص شده دوران می دهیم .







پاسخ: گزینه ۴ صحیح می باشد.

در مرحله اول شکل سمت چپ را ۱۸۰ درجه، حول محور خودش دوران می دهیم



سپس آن را بر روی شکل سمت راست منطبق می کنیم



سپس خطوط مشترک بین هر دو شکل را حذف می کنیم

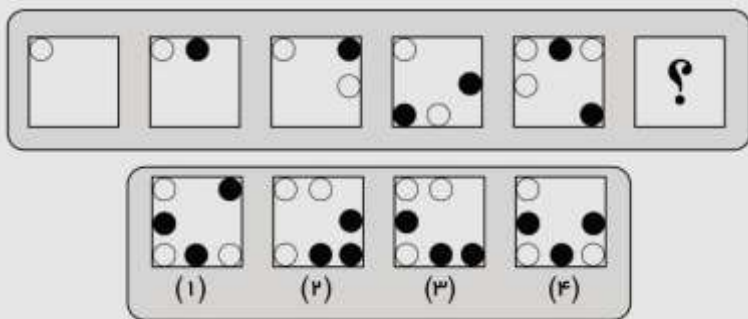


حالا شکل بدست آمده را ۹۰ درجه به سمت راست دوران می دهیم



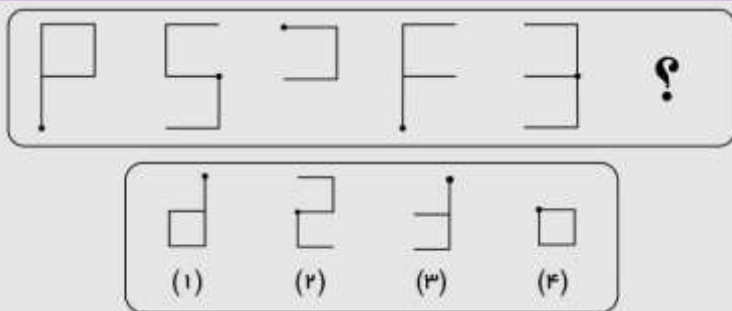
راهنمایی: در سوال های زیر از چپ به راست بین الگوها ارتباط خاصی برقرار است. به جای علامت سوال کدام الگوی (از میان موارد ۱ تا ۴) قرار بگیر تا این ارتباط حفظ شود؟

۴۶.



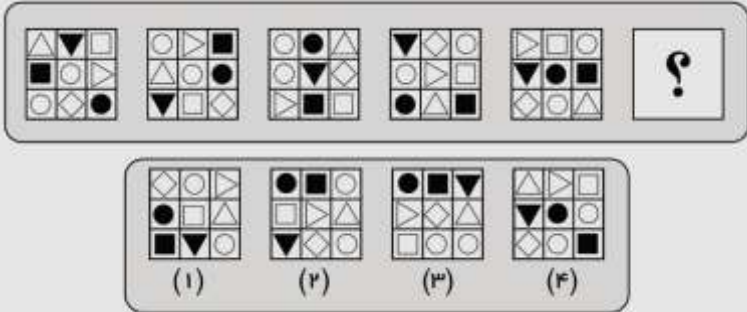
پاسخ: گزینه ۳ صحیح می باشد.

۴۷.



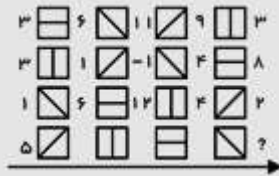
پاسخ: گزینه ۴ صحیح می باشد.

۴۸.



پاسخ: گزینه ۳ صحیح می باشد. توجه داشته باشید که الگوی این سوال در هر مرحله بدینصورت می باشد: در هر مرحله مربع سیاه رنگ به جای مربع سفید رنگ منتقل می شود دایره سیاه رنگ به مکان مثلث سفید رنگ (مثلث بر روی یک زاویه نشسته است) منتقل می شود لوزی سفید رنگ به جای دایره سیاه منتقل می شود.

۴۹. در شکل زیر، بین اعداد و اشکال، ارتباط خاص و مشترکی برقرار است. به جای علامت سوال، کدام عدد باید قرار یگیرد؟



۷ (۴)

۶ (۳)

۲ (۲)

۱) صفر

پاسخ: گزینه ۴ صحیح می‌باشد.

شکل / یعنی ۲-

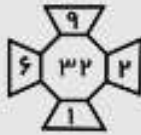
شکل \ یعنی ۵+

شکل | یعنی تقسیم بر ۳

۵۰. در هر کدام از شکل های زیر، بین اعداد ارتباط خاصی برقرار است. به جای علامت سوال، کدام عدد باید قرار بگیرد؟



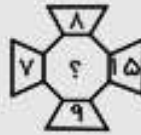
۲۰ (۴)



۱۶ (۳)



۱۲ (۲)



۸ (۱)

پاسخ: گزینه ۱ صحیح می‌باشد.

در هر شکل اعداد بالا و پایین را از هم کم کنید، و همینطور اعداد سمت راست و چپ را نیز از هم کم کنید. حاصلها را در هم ضرب کنید، نتیجه عدد داخل شکل خواهد شد.

در شکل سمت راست:

$$8 - 9 = 1$$

$$15 - 7 = 8$$

$$8 * 1 = 8$$



# اصل سوالات

سازمان سنجش آموزش کشور

ریاضیات و آمار

۱. حاصل  $\sqrt[3]{0.5} \left( \frac{1}{\sqrt[3]{4} + \sqrt[3]{2} + 1} + 1 \right)$  کدام است؟

- (۱)  $\frac{1}{2}$       (۲)  $\sqrt[3]{2}$       (۳)  $\sqrt{5}$       (۴) 1

پاسخ: گزینه ۴ صحیح می باشد.

$$\sqrt[3]{0.5} = \sqrt[3]{1/2} = \frac{1}{\sqrt[3]{2}}$$

$$\frac{1}{\sqrt[3]{2}} * \left( \frac{1}{\sqrt[3]{2^2} + \sqrt[3]{2} + 1} + 1 \right) = \frac{1}{\sqrt[3]{2^3 + \sqrt[3]{2^2} + \sqrt[3]{2}}} + \frac{1}{\sqrt[3]{2}} = \frac{\sqrt[3]{2} + 2 + \sqrt[3]{2^2} + \sqrt[3]{2}}{\sqrt[3]{2}(2 + \sqrt[3]{2^2} + \sqrt[3]{2})} = \frac{2 + \sqrt[3]{2^2} + 2\sqrt[3]{2}}{2 + \sqrt[3]{2^2} + 2\sqrt[3]{2}} = 1$$

۲. حاصل  $(\sqrt[8]{27} \div \sqrt[5]{9}) \sqrt[9]{9^5 \sqrt[3]{3}}$  کدام است؟

- (۱)  $\sqrt[6]{3}$       (۲)  $\sqrt[5]{3}$       (۳)  $\sqrt[8]{3}$       (۴)  $\sqrt[4]{3}$

پاسخ: گزینه ۴ صحیح می باشد.

$$I = \frac{3}{3^8} \times 3^{-\frac{2}{5}} \times \frac{11}{3^{40}} = 3^{\frac{15-16+11}{40}} = \frac{10}{3^{40}} = \frac{1}{3^4} = I = \sqrt[4]{3}$$

۳. اگر  $f(x) = \begin{cases} 3 + 2 \left[ -\frac{x}{2} \right] & x > 0 \\ 7 - \frac{[x^2 - 3]}{11} & x \leq 0 \end{cases}$  باشد مقدار  $f(2f(5))$  کدام است؟  
 ([ ]: تابع جز صحیح می باشد)؟

- (۱)  $\frac{76}{11}$       (۲) ۴      (۳) ۷      (۴)  $\frac{71}{11}$

پاسخ: گزینه ۲ صحیح می باشد

$$F(5) = 3 + 2 \left[ -\frac{5}{2} \right] = 3 + 2 * (-3) = -3$$

$$F(2f(5)) = f(-6) = 7 - \frac{[36-3]}{11} = 7 - 33/11 = 4$$

۴. خانواده ای دارای سه فرزند دختر است. احتمال اینکه فرزند چهارم پسر باشد، کدام است؟

$\frac{1}{2}$  (۴)                       $\frac{1}{4}$  (۳)                       $\frac{1}{8}$  (۲)                       $\frac{1}{16}$  (۱)

پاسخ: گزینه ۴ صحیح می باشد. تولد فرزند چهارم ارتباطی و تاثیری از فرزندهای دیگر ندارد و مستقل است.

۵. حاصل  $\sqrt{0/14} + \sqrt{0/016} - \sqrt{\left(\frac{24}{7}\right) \left(\frac{56}{1920}\right)}$  کدام است؟

$0/2$  (۴)                       $0/3$  (۳)                       $0/4$  (۲)                       $0/1$  (۱)

پاسخ: گزینه ۴ صحیح می باشد.

$$\sqrt{0/14} + \sqrt{0/016} - \sqrt{\frac{24}{7} * \frac{56}{1920}} = \sqrt{\frac{14}{100} + \frac{4}{10\sqrt{10}}} -$$

$$\sqrt{\frac{24}{7} * \frac{8*7}{24*80}} =$$

$$\frac{1}{10} (\sqrt{14 + 4\sqrt{10}} - \sqrt{10}) = \frac{1}{10} (\sqrt{14 + 4 * 3.3} - \sqrt{3.3}) = \frac{1}{10} * 2 = \frac{2}{10}$$

۶. طول اضلاع یک مثلث قائم الزاویه تشکیل دنباله حسابی می دهند، اگر محیط این مثلث ۴۸ واحد باشد، مساحت مثلث بر حسب واحد مربع کدام است؟

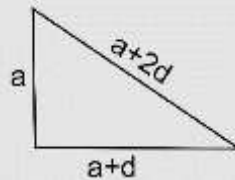
۱۲۰ (۴)

۹۶ (۳)

۷۲ (۲)

۵۴ (۱)

پاسخ: گزینه ۳ صحیح می باشد.



$$a + a + d + a + 2d = 48$$

$$\rightarrow (a + 2d)^2 = a^2 + (a + d)^2 \rightarrow a^2 - 2ad - 3d^2 = 0$$

$$\text{حل معادله درجه دوم} \rightarrow a = \frac{2d \pm 4d}{2}$$

$$\rightarrow \begin{cases} a = 3d \rightarrow d = 4, a = 12 \\ a = -d \rightarrow 0 = 16 \text{ غ ق ق} \end{cases}$$

$$s = \frac{1}{2}a(a + d) = \frac{1}{2} \times 12 \times 16 = 96$$

۷. تعداد اعضای کدام مجموعه بیشتر است؟

$$\left\{ x \in \mathbb{N} \mid \frac{2x}{x^2-3} = 1 \right\} \text{ (۲)}$$

$$\left\{ x \in \mathbb{N} \mid \frac{x}{x^2+1} = 1 \right\} \text{ (۱)}$$

$$\left\{ x \in \mathbb{N} \mid \frac{x}{x^2-3} = 1 \right\} \text{ (۴)}$$

$$\left\{ x \in \mathbb{N} \mid \frac{2x}{x^2+1} = -1 \right\} \text{ (۳)}$$



پاسخ: گزینه ۲ صحیح می‌باشد. اگر در هریک از گزینه های ۱ و ۳ و ۴ معادلات را حل کنیم به حالتی می‌رسیم که هیچ مجموعه جوابی ندارد برای مثال گزینه ۱ را بررسی می‌کنیم:

$$\frac{x}{x^2 + 1} = 1 \rightarrow x^2 + 1 = 0 \rightarrow \Delta < 0 \quad \text{جواب برای } \Delta \text{ نیست}$$

$$\frac{2x}{x^2 - 3} = 1 \rightarrow x^2 - 2x - 3 = 0 \rightarrow x = 3 \quad \text{و } 3 \in \mathbb{N}$$

فقط گزینه ۲ یک جواب دارد

۸ با حروف کلمه آموزش چند کلمه پنج حرفی می‌توان ساخت به طوری که حرف و حرف وسط کلمه باشد؟

۱۲۰ (۱)

۹۶ (۲)

۵۴ (۳)

۲۴ (۴)

پاسخ: گزینه ۴ صحیح می‌باشد.

$$\frac{4}{-} \times \frac{3}{-} \times \frac{1}{-} \times \frac{2}{-} \times \frac{1}{-} = 24 \quad \text{طبق اصل شمارش خواهیم داشت}$$

۹. در دسته بندی اعداد زوج به صورت... (۱۲، ۱۰، ۸)، (۶، ۴)، (۲)، آخرین عدد در دسته پانزدهم، کدام است؟

۲۳۸ (۴)

۲۴۴ (۳)

۲۴۲ (۲)

۲۴۰ (۱)

پاسخ: پاسخ صحیح گزینه ۱ می‌باشد. فرض کنیم  $a_n$  آخرین دسته  $n$  باشد پس داریم:

$$\begin{aligned} a_1 &= 1 & a_2 &= 2+4 & a_3 &= 2+4+6 & \dots & a_{15} &= 2+4+6+\dots+30 \\ & & & & & & & & = 2(1+2+3+\dots+15) = 2 * \frac{15*16}{2} = 240 \end{aligned}$$

۱۰. واریانس داده‌های ۱۲۵۶، ۱۲۵۸، ۱۲۶۰، ۱۲۵۹ و ۱۲۵۷، کدام است؟

- (۱) ۲      (۲) ۳      (۳) ۲.۵      (۴) ۳.۵

پاسخ: گزینه ۱ صحیح می‌باشد.

طبق فرمول واریانس که  $\frac{\sum x_i^2 - x^2}{n}$  پس  $\frac{1+1+4+0+4}{5} = 2$  خواهد بود.

۱۱. دو خط  $3x - 4by = 5$  و  $ax + 3y = 10$  در نقطه  $A(K, 2)$  بر هم

عمودند. اگر نقطه  $A$  در ناحیه دوم باشد، مقدار  $ab$  کدام است؟

- (۱) ۳      (۲)  $\frac{1}{4}$       (۳) ۴      (۴)  $\frac{1}{3}$

پاسخ: گزینه ۳ صحیح می‌باشد.

$$\begin{cases} 3x - 4by = 5 \\ ax + 3y = 10 \end{cases} \rightarrow \left(\frac{3a}{4b}\right) \left(-\frac{a}{3}\right) \rightarrow a=4b$$

حاصلضرب شیب  $S$  در فرمول بالا را  $-1$  در نظر می‌گیریم.

$$\begin{cases} 3k - 8b = 5 \\ ak + 6 = 10 \end{cases} \rightarrow \text{غ ق ق } a=3/2, a=-4 \rightarrow \text{حل دستگاه}$$

چون  $A(K, 2)$  در ناحیه دوم است؛ پس  $K < 0$  و  $a < 0$  پس  $a = -4$  و چون  $a = 4b$

پس  $b = -1$  و  $ab = 4$  می‌باشد.

۱۲. اگر  $A$  و  $B$ ، دو مجموعه غیر تهی باشند،  $(B'-A)'$  با کدام مجموعه، برابر است؟

$$B \cup A' \quad (۴) \quad B \cup A \quad (۳) \quad B \cap A' \quad (۲) \quad B' \cap A' \quad (۱)$$

پاسخ: گزینه ۲ صحیح می باشد.

$$(B' - A)' = (B')' \cap A' = B \cap A'$$

۱۳. برای چند مقدار  $m$  ریشه های حقیقی معادله  $(2m-3)x^2 + (m^2-4)x - 4 = 0$  قرینه اند؟

$$(۱) \text{ هیچ مقدار } m \quad (۲) \quad ۱ \quad (۳) \quad ۲ \quad (۴) \quad ۳$$

پاسخ: گزینه ۳ صحیح می باشد.

مجموع ریشه ها صفر است  
ضرب ریشه ها منفی است  
معادله دو ریشه دارد  
اگر ریشه ها قرینه باشند

$$s = x_1 + x_2 = \frac{-b}{a} = 0 \rightarrow b = 0 \rightarrow m^2 - 4 = 0 \rightarrow m = \pm 2$$

$$\begin{cases} m = -2 \rightarrow -7x^2 - 4 = 0 \rightarrow x^2 = \frac{-4}{7} & \text{غ ق ق} \\ m = 2 \rightarrow x^2 - 4 = 0 \rightarrow x^2 = \pm 2 & \text{ق ق} \end{cases}$$

بنابراین فقط به ازای  $m = \pm 2$  شرایط مسئله برقرار است.

۱۴. جامعه آماری با ۱۵ داده به صورت زیر، دسته بندی شده است. میانگین جامعه کدام است؟

دسته ها	۷-۱۱	۱۱-۱۵	۱۵-۱۹	۱۹-۲۳
فراوانی	۴	۵	۲	۴

۱۵.۹ (۴)

۱۴.۶ (۳)

۱۳.۹ (۲)

۱۲.۶ (۱)

پاسخ: گزینه ۳ صحیح می باشد.

مرکز دسته ها به ترتیب از چپ به راست می شود ۹ و ۱۳ و ۱۷ و ۲۱ پس:

$$\bar{X} = \frac{\sum f_i x_i}{N} = \frac{9 \times 4 + 13 \times 5 + 17 \times 2 + 21 \times 4}{15} = 14.6$$

۱۵. اگر  $2x - 3$  و  $\sqrt{x}$  و  $x$  سه جمله اول یک دنباله هندسی باشد، جمله دهم چند برابر جمله هفتم است؟

 $2\sqrt{2}$  (۴)

3 (۳)

2 (۲)

 $3\sqrt{2}$  (۱)

پاسخ: گزینه ۴ صحیح می باشد.

بنا بر خاصیت تصاعد هندسی داریم:

$$x = 2 \quad \text{از حل معادله} \quad (\sqrt{x})^2 = x(2x - 3)$$

یعنی  $q = \sqrt{2}$  و  $q_1 = 1$  و  $2$  و  $1\sqrt{2}$  بنابراین جملات تصاعد عبارتند

از:

لذا:

$$\begin{cases} q_7 = 1(\sqrt{2})^{7-1} = (\sqrt{2})^6 \\ q_{10} = 1(\sqrt{2})^{10-1} = (\sqrt{2})^9 \end{cases}$$

$$\frac{q_{10}}{q_7} = \frac{(\sqrt{2})^9}{(\sqrt{2})^6} = 2\sqrt{2}$$

۱۶. انتهای کمان  $x$  در ناحیه سوم مثلثاتی و  $I = \sqrt{1 + \cot^2 x} + \sqrt{1 + \sin 2x}$   $\cos x$  است. اگر  $\sin x = a$  باشد، مقدار  $I$  کدام است؟

(۱)  $2a$       (۲)  $-\frac{a^2+1}{a}$       (۳)  $2\sqrt{1+a^2}$       (۴)  $-\frac{a^2-1}{a}$

پاسخ: گزینه ۴ صحیح می باشد.

$$1 + \cot^2 x = 1 + \frac{\cos^2 x}{\sin^2 x} = \frac{\sin^2 x + \cos^2 x}{\sin^2 x} = \frac{1}{\sin^2 x}$$

$$\begin{aligned} \sin^2 x + \cos^2 x &= 1 \rightarrow \sqrt{1 + 2\sin^2 x} \\ &= \sqrt{\sin^2 x + \cos^2 x + 2 \sin x \cos x} \\ &= \sqrt{(\sin x + \cos x)^2} \end{aligned}$$

با توجه به اینکه کمان  $x$  در ناحیه سوم است بنابراین  $\sin x$  و  $\cos x$  هر دو منفی می باشند لذا خواهیم داشت:

$$\begin{aligned} -\frac{1}{\sin x} - (\sin x + \cos x) + \cos x &= -\frac{1}{\sin x} - \sin x = -\frac{1}{a} - a \\ &= -\frac{a^2 + 1}{a} \end{aligned}$$

۱۷. منحنی تابع  $y = x^2 + a$ ، دو واحد به سمت راست محور  $x$  ها منتقل شده و خط  $y = x - 1$  را در نقاطی با طول صحیح و منفی قطع می کند. بیشترین مقدار  $a$  کدام است؟

- (۱) ۱      (۲) -۲      (۳) ۲      (۴) -۱

پاسخ: ؟ صورت سوال غلط می باشد.

۱۸. اگر  $(32-40)$ ، حدود دسته سوم جدول فراوانی با ۵ دسته باشد، مرکز دسته دوم کدام است؟

- (۱) ۳۰      (۲) ۲۸      (۳) ۲۶      (۴) ۲۴

پاسخ: گزینه ۲ صحیح می باشد.

طول دسته برابر  $8 = 40 - 32$  و فاصله دسته قبل  $24 = 32 - 8$  خواهد بود لذا

$$\text{مرکز دسته دوم} = \frac{24 + 32}{2} = 28$$

۱۹. مربع مجموع دو عدد مثبت، از مجموع مربعات آن دو عدد، ۱۰۸ واحد بیشتر است. اگر اختلاف دو عدد ۳ باشد مجموع ارقام حاصلضرب این دو عدد کدام است؟

- (۱) ۱۵      (۲) ۷      (۳) ۹      (۴) ۱۲

پاسخ: گزینه ۳ صحیح می باشد

اگر دو عدد را  $a$  و  $b$  فرض کنیم

$$(a + b)^2 = a^2 + b^2 + 108 \quad \text{ساده سازی} \quad ab = 54 \quad (*)$$

از سویی  $a - b = 3$  و  $a = 3 + b$  و با جایگذاری در (\*) خواهیم داشت

$$(3 + b) * b = 54 \rightarrow b^2 + 3b - 54 = 0$$

$$\text{پس از حل} \quad b = 6$$

از خود (\*) واضح است که  $ab = 54$  و  $9 = 5 + 4$  می باشد  $a = 9$

۲۰. تعداد جواب های نامعادله  $|x - x^3| \leq x$  در مجموعه اعداد طبیعی، کدام است؟

۴ (۴)

۱ (۳)

۲ (۲)

۳ (۱)

پاسخ: گزینه ۳ صحیح می باشد.

$$|x - x^3| \leq x$$

$$\rightarrow x^3 \leq x^3 - x \leq x \quad \text{در } X=1 \text{ معادله صدق می کند اما برای } x > 2 \text{ داریم}$$

$$2x, \quad x^2 \leq 2$$

با شرط  $x > 2$  جواب ندارد پس تنها جواب  $x=1$  می باشد.

۲۱. اگر A و B، به ترتیب مجموعه اعداد طبیعی و مجموعه اعداد صحیح باشند، مجموعه

$A \Delta B$  کدام است؟

$$\{ \dots, -2, -1, 0 \} \quad (۲)$$

$$\{ \dots, -2, -1 \} \quad (۱)$$

$$\{ \{ 1, 2, 3, \dots \} \quad (۴)$$

$$\{ 0, 1, 2, 3, \dots \} \quad (۳)$$

پاسخ: گزینه ۲ صحیح می باشد.





$$\frac{\binom{5}{4}}{2^5} + \frac{\binom{5}{3}}{2^5} = \frac{5}{32} + \frac{10}{32} = \frac{15}{32}$$

۲۵. در جدول فراوانی تجمعی زیر، میانگین داده ها کدام است؟

مرکز دسته	۲۵	۲۶	۲۷	۲۸	۲۹
فراوانی تجمعی	۸	۲۴	۴۴	۶۸	۸۰

$$۲۶/۷ \quad (۴)$$

$$۲۷/۲ \quad (۳)$$

$$۲۷/۱ \quad (۲)$$

$$۲۶/۸ \quad (۱)$$

پاسخ: گزینه صحیح ۳ می باشد.

$$\bar{x} = \frac{\sum fix_i}{\sum x_i} = \frac{25 \cdot 8 + 26 \cdot 16 + 27 \cdot 20 + 28 \cdot 24 + 29 \cdot 12}{80} = 27/2$$

۲۶. اگر مجموعه های  $B-A$  و  $C$  طوری باشند که  $A \subseteq B - C$ ، در این صورت مجموعه  $C-A$  با کدامیک از مجموعه های زیر، به طور قطع برابر است؟

$$C \quad (۴)$$

$$C \cap A \quad (۳)$$

$$B - A \quad (۲)$$

$$C \Delta A \quad (۱)$$

پاسخ: گزینه ۴ صحیح می باشد.

$$۲۷. تعداد ریشه های معادله  $1 - \frac{1}{1+\frac{x}{x-1}} - \frac{2x}{2x+1} = \frac{4x-1}{4x^2-1}$  کدام است؟$$

$$\text{ندارد} \quad (۴)$$

$$۳ \quad (۳)$$

$$۲ \quad (۲)$$

$$۱ \quad (۱)$$

پاسخ: گزینه ۱ صحیح می‌باشد.

$$1 - \frac{1}{\frac{2x-1}{x-1}} - \frac{2x}{2x+1} = \frac{4x-1}{4x^2-1} \rightarrow \frac{6x^2-x}{4x^2-1}$$

$$= \frac{4x-1}{4x^2-1}$$

$$\rightarrow 6x^2 - x = 4x - 1 \rightarrow x_1 : x_2 = \frac{5 \pm 1}{12} = \frac{1}{2} \text{ و } \frac{1}{3}$$

$x = \frac{1}{2}$  چون جزو دامنه تابع نیست مورد قبول نیست.

$x = \frac{1}{3}$  مورد قبول می‌باشد، بنابراین معادله فقط یک جواب دارد.

۲۸. به ازای کدام مقدار  $m$  سهمی به معادله  $y = 3x^2 + mx + 1$  همواره بالای سهمی به معادله  $y = 2x^2 + x - 2$  قرار دارد؟

$$1 - 2\sqrt{3} < m < 1 + 2\sqrt{3} \quad (۱)$$

$$-2 < m < 2 \quad (۲)$$

$$-3 < m < 3 \quad (۳)$$

$$1 - 3\sqrt{2} < m < 1 + 3\sqrt{2} \quad (۴)$$

پاسخ: گزینه ۱ صحیح می‌باشد.

$$3x^2 + mx + 1 > 2x^2 + x - 2 \text{ یعنی } x^2 + (m-1)x + 3 > 0$$

بایستی

تعیین علامت می‌کنیم کافی است مبین یا همان  $\Delta$  همواره منفی باشد

$$\Delta < 0 \rightarrow (m - 1)^2 - 12 < 0$$

حل و ساده سازی:

$$1 - 2\sqrt{3} < m < 2\sqrt{3} + 1$$

۲۹. واریانس داده های ۱۲۹۹، ۱۳۰۴، ۱۳۰۳، ۱۳۰۷، ۱۳۰۲ کدام است؟

۶.۴ (۴)

۶.۸ (۳)

۴.۳ (۲)

۴.۵ (۱)

پاسخ: گزینه ۳ صحیح می‌باشد.

$\bar{X} = 1303$  طبق فرمول واریانس که  $\frac{\sum(x_i - \bar{x})^2}{n}$  می‌باشد داده ها را جایگذاری

می‌کنیم؛ پس:

$$\frac{\sum(x_i - 1303)^2}{5} = \dots\dots\dots = 6.8$$

۳۰. اگر  $A = \{n \in N | n^2 \leq 7\}$  و  $B = \{m \in Z | [m] = 4\}$  باشد، مجموعه  $A \cup B$  دارای چند عضو است؟ ( $[0]$  تابع جزء صحیح است)

۵ (۴)

۳ (۳)

بی شمار (۲)

عضوی ندارد. (۱)

پاسخ: گزینه ۲ صحیح می‌باشد.

۳۱. کلاس A دارای ۵ ردیف صندلی است، به طوری که به جز ردیف اول که ۴ صندلی دارد، سایر ردیف‌ها دارای ۷ صندلی هستند. با فرض خالی بودن همه صندلی‌ها، احتمال اینکه احمد، ردیف اول را برای نشستن انتخاب نکند، کدام است؟

$$\frac{7}{8} \text{ (۴)}$$

$$\frac{1}{8} \text{ (۳)}$$

$$\frac{1}{5} \text{ (۲)}$$

$$\frac{4}{5} \text{ (۱)}$$

پاسخ: گزینه ۳ صحیح می‌باشد.

$$A \text{ احتمال پیشامد} = \frac{7}{4+28} = \frac{7}{8}$$

۳۲. اگر ماتریس A، معکوس ماتریس  $\begin{bmatrix} -1 & 2 & 3 \\ 0 & 2 & 4 \\ 0 & 0 & 1 \end{bmatrix}$  باشد، آنگاه درایه  $a_{22}$  کدام است؟

$$-2 \text{ (۴)}$$

$$\frac{-3}{2} \text{ (۳)}$$

$$\frac{1}{2} \text{ (۲)}$$

$$1 \text{ (۱)}$$

پاسخ: گزینه ۲ صحیح می‌باشد.

طبق قاعده محاسبه ماتریس معکوس، عضو  $a_{ij}$  از ماتریس  $A^{-1}$  می‌شود  $\frac{a_{ji}}{|A|}$  یعنی:

$$\frac{(-1)^{2+2} \begin{vmatrix} -1 & 3 \\ 0 & 1 \end{vmatrix}}{(-1)(2) + 0 + 3(0)} = \frac{-1}{-2} = \frac{1}{2}$$

۳۳. مجموع ریشه‌های صحیح معادله  $\frac{1}{x^2-2x-2} - \frac{1}{x^2-2x-5} = \frac{3}{2}$ ، کدام است؟

$$2 \text{ (۴)}$$

$$3 \text{ (۳)}$$

$$4 \text{ (۲)}$$

$$1 \text{ (۱)}$$

پاسخ: گزینه ۴ صحیح می باشد.

$$\frac{-3}{(x^2 - 2x - 2)(x^2 - 2x - 5)} = \frac{3}{2}$$

مخرج مشترک گرفته و ساده می کنیم

$$\Rightarrow (x^2 - 2x - 2)(x^2 - 2x - 5) = -2 \rightarrow$$

$$ab = -2 \rightarrow \begin{cases} a = -2 \text{ و } b = 1 \\ \text{یا} \\ a = 1 \text{ و } b = -2 \end{cases}$$

اگر  $a = -2$  لذا  $x^2 - 2x - 2$  و از آنجا  $2$  و  $x = 0$  می شود که پس از آن مقدار  $x^2 - 2x - 5$  یا همان  $b$  مینیمم نمی شود.

اگر  $b = -2$  لذا  $x^2 - 2x - 5$  و از آنجا  $1$  و  $x = 3$  می شود که پس از آن مقدار  $x^2 - 2x - 2$  یا همان  $a$  مینیمم می شود. پس ریشه ها  $3$  و  $1$  هستند که  $3 - 1 = 2$  می شود.

۳۴. انحراف معیار داده های آماری ۶۶، ۷۰، ۶۲، ۷۴ و ۷۸ کدام است؟

$4\sqrt{2} \quad (۴)$

$۲ \quad (۳)$

$۴ \quad (۲)$

$۲\sqrt{2} \quad (۱)$

پاسخ: گزینه صحیح ۴ می باشد.

تعداد داده = ۵

میانگین داده:  $74+62+70+66+78$  تقسیم بر ۵ می شود ۷۰

مربع اختلاف هر داده با میانگین به شرح زیر است:

مربع اختلاف هر داده با میانگین	داده
۷۴ منهای ۷۰ به توان ۲ می شود ۱۶	۷۴
۶۲ منهای ۷۰ به توان ۲ می شود ۶۴	۶۲
۷۰ منهای ۷۰ به توان ۲ می شود ۰	۷۰
۶۶ منهای ۷۰ به توان ۲ می شود ۱۶	۶۶
۶۴ منهای ۷۰ به توان ۲ می شود ۶۴	۷۸

واریانس داده ها:  $16+64+0+64+64$  تقسیم بر ۵ می شود ۳۲

انحراف معیار برابر رادیکال واریانس داده ها می باشد که می شود  $\sqrt{32}=4\sqrt{2}$  پس گزینه صحیح ۴ می باشد.

۳۵. اگر  $\begin{bmatrix} a \\ b \end{bmatrix} = \begin{bmatrix} 1 \\ 3 \end{bmatrix}$  و  $\begin{bmatrix} 2 & 1 & 1 \\ 0 & 1 & -1 \end{bmatrix}$  باشد، حاصل  $a-b$  کدام است؟

۳ (۴)

۱ (۳)

۲ (۲)

۵ (۱)

پاسخ: گزینه ۱ صحیح می باشد.

سه ماتریس داده شده را اگر درهم ضرب کنیم به  $\begin{bmatrix} 1 \\ 3 \end{bmatrix}$  می‌رسیم که پس از حل دستگاه  $a = 4$ ،  $b = -1$ ، لذا  $a - b = 5$  می‌شود.

۳۶. اگر تابع  $f(x) = \begin{cases} (x+3)|x| & |x| < 1 \\ ax+2 & |x| \geq 1 \end{cases}$  پیوسته باشد، مقدار  $a$  کدام است؟

۲ (۴)

۳ (۳)

۴ (۲)

۵ (۱)

پاسخ: گزینه ۴ صحیح می‌باشد.

$$\lim_{x \rightarrow 1^-} (x+3)|x| = \lim_{x \rightarrow 1^+} ax+2$$

چون  $|x| = 1$  می‌شود پس:  $a+2 = 4|x| \rightarrow a = 2$

۳۷. اگر  $A^{-1} = \begin{bmatrix} a & 0 \\ b & c \end{bmatrix}$  معکوس ماتریکس  $A = \begin{bmatrix} 1 & 0 \\ x & -1 \end{bmatrix}$  به ازای جمیع مقادیر  $x$  باشد، حاصل  $b+c$  کدام است؟

-x-1 (۴)

1-x (۳)

x+1 (۲)

x-1 (۱)

پاسخ: گزینه ۱ صحیح می‌باشد.

چون معکوس هم هستند  $\begin{bmatrix} a & 0 \\ b & c \end{bmatrix} = \begin{bmatrix} 1 & 0 \\ x & -1 \end{bmatrix}$  پس:

$$b+x = x-1, c = -1, b = x$$

۳۸. اگر خطوط  $y = (3n-1)x + 2$  و  $y = mx - 2$  با هم موازی باشند، کدام رابطه بین  $m$  و  $n$  برقرار است؟

$$6n - m = 2 \quad (۲)$$

$$6n + m = 2 \quad (۱)$$

$$n + 6m = 2 \quad (۴)$$

$$6n - m = -2 \quad (۳)$$

پاسخ: گزینه ۲ صحیح می باشد.

$$\begin{cases} y = (3n - 1)x \\ 2y - mx = 2 \end{cases} \longrightarrow \begin{cases} y = (3n - 1)x \\ y = \frac{m}{2}x + 1 \end{cases} \longrightarrow 3n - 1 = \frac{m}{2} \quad \underline{6n - m = 2}$$

۳۹. اگر  $A = \begin{bmatrix} 1 & 2 \\ 0 & 1 \end{bmatrix}$  باشد، مجموع درایه های ماتریس  $A^{95}$  کدام است؟

$$۱۹۲ \quad (۴)$$

$$۱۹۰ \quad (۳)$$

$$۱۸۸ \quad (۲)$$

$$۱۸۰ \quad (۱)$$

پاسخ: گزینه ۴ صحیح می باشد.

$$A = \begin{bmatrix} 1 & 2 \\ 0 & 1 \end{bmatrix}, A^2 = \begin{bmatrix} 1 & 4 \\ 0 & 1 \end{bmatrix}, A^3 = \begin{bmatrix} 1 & 6 \\ 0 & 1 \end{bmatrix} \dots$$

$$A^n = \begin{bmatrix} 1 & 2 + (n - 1)d \\ 0 & 1 \end{bmatrix} \quad (n \geq 1, d = 2)$$

$$\text{مجموع درایه ها} = 1 + 1 + (2 + 94 \times 2) = 192$$

۴۰. اگر  $[a, b]$  برد تابع  $y = x - \frac{1}{4}[4x]$  باشد، حاصل  $2 - b$  کدام است؟

$$\frac{5}{3} \quad (۴)$$

$$\frac{5}{4} \quad (۳)$$

$$\frac{7}{4} \quad (۲)$$

$$\frac{2}{3} \quad (۱)$$

پاسخ: گزینه ۲ صحیح می باشد.

$$y = x - \frac{1}{4}[4x] \rightarrow 4y = x - [x] \quad (*)$$



می دانیم  $0 \leq x - [x] < 1$  پس در عبارت (\*)  $y = \frac{1}{4}$  می دهیم:

$$y = \frac{1}{4} \rightarrow \text{برد تابع} = \left[ a, \frac{1}{4} \right) \rightarrow 2 - b = 2 - \frac{1}{4} = \frac{7}{4}$$

۴۱. چند تصاعد حسابی با قدر نسبت طبیعی بزرگ تر از واحد می توان ساخت به طوری که سه جمله ی این تصاعد یکی از اعداد ۱، ۲، ...، ۸ باشد؟ (جمله نخست طبیعی است)

۸ (۴)

۷ (۳)

۶ (۲)

۵ (۱)

پاسخ: گزینه ۲ صحیح می باشد.

۵ و ۸ و ...	۱ و ... و ۱۰ و	۶ و ۸ و ...	۸ و ۱۱ و ...	۱ و ... و ۱۰ و	۷ و ۹ و ...
۱ و ۳ و	۱ و ۴ و ۷	۲ و ۴ و	۲ و ۵ و	۴ و ۶ و ۸	۳ و ۵ و

۴۲. منحنی  $x^2 - 3x - 4 = 0$ ، محور x ها را در دو نقطه قطع می کند. فاصله این دو نقطه از یکدیگر کدام است؟

۲ (۴)

۳ (۳)

۵ (۲)

۶ (۱)

پاسخ: گزینه ۲ صحیح می باشد.

$$(x+1)(x-4) = 0 \rightarrow x = -1, 4 \rightarrow \begin{vmatrix} -1 & 4 \\ 0 & 0 \end{vmatrix}$$

$$d = \sqrt{(y - y_0)^2 + (x - x_0)^2} = \sqrt{25 + 0} = 5$$

۴۳. اگر  $a, \sqrt{3}a, a + 2$  سه جمله اول یک دنباله هندسی باشند، حاصل  $a_9 - a_7$  کدام است؟

۶۳ (۴)

۵۴ (۳)

۲۷ (۲)

۱۸ (۱)

پاسخ: گزینه ۳ صحیح می باشد.

می دانیم قدر نسبت برابر  $\sqrt{3}$  است پس طبق قاعده تصاعد هندسی مجذور جمله وسط برابر حاصلضرب جمله اول و سوم است پس:

$$(\sqrt{3}a)^2 = a(a + 2) \rightarrow 2a^2 - 2a = 0 \rightarrow a = 0, a = 1$$

بنابراین جملات تصاعد هندسی می شوند ۱ و  $\sqrt{3}$  و ۳ و قدر نسبت  $\sqrt{3}$  است یعنی:

$$a_9 - a_7 = a_1 r^8 - a_1 r^6 = 1 \times (\sqrt{3})^8 - 1 \times (\sqrt{3})^6 = \sqrt{3}^6 (\sqrt{3}^2 - 1) = 54$$

۴۴. حاصل  $\lim_{x \rightarrow 0^+} [x^2] + [x^3]$  کدام است؟

-۲ (۴)

-۱ (۳)

صفر (۲)

۲ (۱)

پاسخ: گزینه ۲ صحیح می باشد.

$$x \rightarrow 0^+ \quad \text{lin}[x^2] + [x^3] = 0 + 0 = 0$$

۴۵. مجموعه جواب نامعادله  $(x^2 - 2\sqrt{5}x + 5)(3x - 2) \leq 0$ ، شامل چند عدد طبیعی است؟

۲ (۲)

۱ (۱)

۴ عضو طبیعی ندارد.

۳ (۳)

پاسخ: گزینه ۴ صحیح می باشد.

تعیین علامت می کنیم:

$$(x^2 - 2\sqrt{5}x + 5) = (x - \sqrt{5})^2 = 0 \rightarrow x = \sqrt{5}$$

$$3x - 2 = 0 \rightarrow x = \frac{2}{3}$$

برای منفی شدن  $(x^2 - 2\sqrt{5}x + 5)(3x - 2)$  بایستی پرانتز اول منفی شود و پرانتز دوم همواره مثبت است؛ لذا  $x \leq \frac{2}{3}$  که بدیهی است هیچ عدد طبیعی در این فاصله نخواهیم داشت.

۴۶. با حروف کلمه «اشتغال»، چند کلمه چهار حرفی می توان نوشت، به طوری که حرف "الف"، یک در میان ظاهر شود؟

۷۲۰ (۴)

۳۶۰ (۳)

۲۴ (۲)

۱۲ (۱)

پاسخ: گزینه ۲ صحیح می باشد.

$$\frac{1}{1} \times \frac{4}{4} \times \frac{1}{1} \times \frac{3}{3} = 12$$

با توجه به تغییر محل الف ۱۲ در ۲ ضرب می شود که حاصل ۲۴ می شود.

۴۷. چند عدد شش رقمی می توان با اعداد ۳ و ۵ و ۷ نوشت، بطوری که هر عدد حداقل یکبار ظاهر شود؟

۳۶۰ (۴)

۵۴۰ (۳)

۷۲۰ (۲)

۲۷۰ (۱)

پاسخ: گزینه ۳ صحیح می باشد.

$$(3^6) * 3^3 = 540$$

۴۸. در یک خانواده فرزند بزرگتر از میان سه فرزند دختر است، با کدام احتمال دو فرزند دیگر نیز دختر است؟

$$\frac{1}{8} (۴)$$

$$\frac{1}{7} (۳)$$

$$\frac{1}{2} (۲)$$

$$\frac{1}{4} (۱)$$

پاسخ: گزینه ۱ صحیح می‌باشد.

راه حل اول:

فضای نمونه عبارت است از (پ پ)، (پ و د)، (د و پ)، (د و د)

$$P(\text{هر دو دختر}) = \frac{1}{4} \rightarrow P = \frac{1}{4}$$

راه حل دوم:

چون دو پیشامد مستقل داریم:

$$\rightarrow P(\text{هر دو دختر}) = P(\text{دختر بودن اولی}) \times P(\text{دختر بودن دومی}) \rightarrow P = \frac{1}{2} \times \frac{1}{2} = \frac{1}{4}$$

راه حل سوم:

در احتمال های دو حالتی اگر  $P$  احتمال پیروزی و  $q = 1 - p$  احتمال شکست باشد احتمال  $X$  پیروزی از  $N$  بار آزمایش عبارت است از:

$$P = \binom{N}{p} p^x (q)^{N-x} \rightarrow P = \binom{2}{2} \left(\frac{1}{2}\right)^2 = \frac{1}{4} \rightarrow p = \frac{1}{4}$$

۴۹. در کدام یک از نمودارهای آماری، فقط از فراوانی نسبی برای رسم آن استفاده می‌شود؟

(۱) دایره ای

(۲) چندضلعی

(۳) ستونی

(۴) مستطیلی

پاسخ: گزینه ۱ صحیح می‌باشد.

۵۰. از کیسه ای که شامل کارت هایی به شماره های ۱ و ۲ و ۳ و ۴ و ۵ و ۶ و ۷ است. سه کارت به تصادف خارج می‌کنیم و به تصادف کنار هم قرار می‌دهیم. احتمال اینکه این عدد سه رقمی زوج باشد کدام است؟

$$\frac{2}{5} \text{ (۴)}$$

$$\frac{1}{15} \text{ (۳)}$$

$$\frac{2}{15} \text{ (۲)}$$

$$\frac{1}{5} \text{ (۱)}$$

پاسخ: گزینه ۴ صحیح می‌باشد.

$$\text{تعداد کل حالات ممکن} \quad 5 * 4 * 3 = 60$$

برای زوج بودن رقم یکان باید ۲ یا ۴ باشد:

$$4 * 3 * 1 = 12$$

الف) اگر رقم یکان ۲ باشد

$$4 * 3 * 1 = 12$$

ب) اگر رقم یکان ۴ باشد

بنابر این از جمع حالات الف و ب داریم  $12 + 12 = 24$  یعنی در نهایت:

$$\frac{24}{60} = \frac{2}{5}$$



## اصل سوالات

سازمان سنجش آموزش کشور

اطلاعات عمومی و مسائل روز

۱. همه پرسى بازنگرى قانون اساسى جمهورى اسلامى ايران در چه زمانى برگزار شد؟

(۱) فروردین ۱۳۶۸ (۲) مرداد ۱۳۶۸ (۳) شهریور ۱۳۶۸ (۴) بهمن ۱۳۶۸

پاسخ: گزینه ۲ صحیح می‌باشد. همه پرسى بازنگرى قانون اساسى جمهورى اسلامى ايران در مرداد ۱۳۶۸ برگزار شد.

۲. میرعماد خطاط نامى ایرانی، معاصر کدام حاکم بوده است؟

(۱) آقا محمد خان قاجار (۲) شاه عباس صفوی

(۳) هولاکو خان (۴) مظفرالدین شاه قاجار

پاسخ: گزینه ۲ صحیح می‌باشد. میرعماد خطاط شهیر ایرانی با شاه عباس صفوی معاصر بود

۳. کدام یک از کشورهای زیر، نقشی در توافق جامع نهایی هسته ای وین با عنوان «برجام» نداشت؟

(۱) چین (۲) فرانسه (۳) آلمان (۴) ژاپن

پاسخ: در راستای توافق جامع بر سر برنامه هسته‌ای ایران و بدنبال تفاهم هسته‌ای لوزان، در سه‌شنبه ۲۳ تیر ۱۳۹۴ (۱۴ ژوئیه ۲۰۱۵) در وین اتریش بین ایران، اتحادیه اروپا و گروه ۵+۱ (شامل چین، فرانسه، روسیه، پادشاهی متحد بریتانیا، ایالات متحده آمریکا و آلمان) منعقد شد. گزینه ۴ صحیح می‌باشد.

۴. کوه تفتان به کدامیک از شهرهای زیر نزدیکتر است؟

- (۱) کرمانشاه (۲) کرج (۳) زاهدان (۴) اصفهان

پاسخ: گزینه ۳ صحیح می‌باشد. این کوه در منطقه‌ی جنوب شرقی ایران، در استان سیستان و بلوچستان، سرحد بلوچستان قرار گرفته‌است.

۵. طاق بستان در کدام یک از استان‌های ایران قرار دارد؟

- (۱) ایلام (۲) کردستان (۳) کرمانشاه (۴) همدان

پاسخ: گزینه ۳ صحیح می‌باشد طاق بستان مجموعه‌ای از سنگ نگاره‌ها و سنگ نوشته‌های دوره ساسانی است که در شمال غربی شهر کرمانشاه واقع شده است.

۶. «فارسی شکر است»، از آثار کدام یک از نویسندگان ایران است؟

- (۱) محمد علی جمال زاده (۲) جلال آل احمد

- (۳) صادق هدایت (۴) پرویز ناتل خانلری

پاسخ: محمد علی جمال زاده داستان کوتاه «فارسی شکر است» را که در کتاب یکی بود یکی نبود او چاپ شده‌است، گزینه ۱ صحیح می‌باشد.



۷. نهج البلاغه توسط کدام یک از افراد زیر، گرد آوری شد؟

- (۱) شیخ صدوق  
 (۲) شیخ کلینی  
 (۳) سید رضی  
 (۴) علامه مجلسی

پاسخ: خدمت بزرگ سید رضی، جمع آوری نهج البلاغه بود.

۸. شهید محمد ابراهیم همت، سردار فاتح ایرانی، در کدام عملیات به درجه رفیع شهادت نائل آمد؟

- (۱) خیبر  
 (۲) فتح المبین  
 (۳) بیت المقدس  
 (۴) کربلای ۴

پاسخ: در جریان عملیات خیبر، همچنان که نیروهای ایرانی در برابر ارتش عراق مقاومت می کردند هنگامی که همت برای بررسی وضعیت جبهه جلو رفته بود بر اثر اصابت گلولهی توپ در نزدیکی اش همراه با معاونش اکبر زجاجی، در غروب ۱۷ اسفند ۱۳۶۲ در محل تقاطع جاده‌های جزایر مجنون شمالی و جنوبی شهید شدند.

۹. دریاچه «مهارلو» در کدام استان ایران واقع شده است؟

- (۱) اصفهان  
 (۲) کرمان  
 (۳) مرکزی  
 (۴) فارس

پاسخ: دریاچه مهارلو (نام‌های دیگر: مهلو، مهلویه و ماهلویه، نام قدیمی: جنکال، یا دریاچه نمک) واقع در شهرستان سروستان، از دریاچه‌های استان فارس ایران است.

۱۰. کدام مورد، از جنبه های مهم توسعه اقتصادی نیست؟

(۱) افزایش آزادی افراد در انتخاب

(۲) ایجاد شرایط مناسب برای رشد «عزت نفس» افراد جامعه

(۳) افزایش روز افزون کاربردهای تکنولوژی در جامعه

(۴) ارتقای سطح زندگی مردم

پاسخ: از مهم ترین جنبه های توسعه اقتصادی می توان به ارتقای سطح زندگی مردم، افزایش آزادی افراد در انتخاب و افزایش روز افزون کاربردهای تکنولوژی در جامعه اشاره کرد. لذا گزینه ۲ صحیح است.

۱۱. آثار تاریخی چغازنبیل متعلق به کدام استان ایران می باشد؟

(۱) سمنان (۲) خوزستان (۳) کردستان (۴) گیلان

پاسخ: گزینه ۲ صحیح می باشد. چغازنبیل در جنوب غربی ایران، در استان خوزستان و در شهرستان شوش واقع شده است.

۱۲. آثار تاریخی شوش متعلق به کدام استان ایران است؟

(۱) اصفهان (۲) خوزستان (۳) خراسان جنوبی (۴) یزد

پاسخ: گزینه ۲ صحیح می باشد. شوش واقع در استان خوزستان یکی از قدیمی ترین سکونت گاه های شناخته شده جهان است.

۱۳. مهمترین پادشاهی که به لقب صاحبقران مشهور شد کیست؟

(۱) ناصرالدین شاه (۲) فتحعلی شاه قاجار

(۳) نادرشاه افشار (۴) شاه عباس دوم

پاسخ: گزینه ۱ صحیح می‌باشد سلطان صاحبقران لقب ناصرالدین شاه قاجار بود.

۱۴. رشته کوه اشترانکوه در کدام استان کشور قرار دارد؟

(۱) مرکزی (۲) همدان (۳) لرستان (۴) تبریز

پاسخ: گزینه ۳ صحیح می‌باشد. رشته کوه اشترانکوه در استان لرستان واقع شده است.

۱۵. مرز خسروی بین ایران و کدام کشور است؟

(۱) ترکیه (۲) آذربایجان (۳) ترکمنستان (۴) عراق

پاسخ: گزینه ۴ صحیح می‌باشد. مرز خسروی بین کشورهای ایران و عراق می‌باشد.

۱۶. ریاست مجلس خبرگان رهبری تا سال ۱۳۸۶ برعهده چه کسی بوده است؟

(۱) آیت الله مهدوی کنی (۲) آیت الله هاشمی

(۳) آیت الله هشترودی (۴) آیت الله مشکینی

پاسخ: گزینه ۴ صحیح می‌باشد. ریاست مجلس خبرگان رهبری را تا سال ۱۳۸۶ آیت الله مشکینی بر عهده داشتند.

۱۷. کتاب های «قلب قرآن» و «گناهان کبیره» از کدام یک از بزرگان انقلاب اسلامی است؟

(۱) مرحوم سید احمد خمینی (ره) (۲) آیت ... طالقانی

(۳) آیت ... بهشتی (۴) آیت ... دستغیب

پاسخ: گزینه ۴ صحیح می‌باشد این دو کتاب از آثار شهید آیت الله دستغیب می‌باشد.

۱۸. دیوان محاسبات کشور زیر نظر کدام نهاد است؟

(۱) مجلس شورای اسلامی (۲) قوه قضاییه

(۳) قوه مجریه (۴) سازمان بازرسی

پاسخ: گزینه ۱ صحیح می‌باشد. دیوان محاسبات کشور سازمانی دولتی است که در امور مالی و اداری مستقل است؛ یکی از نهادهای وابسته به مجلس شورای اسلامی است که وظیفه نظارت بر همه فرایندهای مالی کشور را بر عهده دارد و به عنوان بازوی نظارتی مجلس عمل می‌کند.

۱۹. تفسیر قانون عادی در جمهوری اسلامی ایران، با کدام مقام (مقامات) است؟

(۱) هیأت وزیران

(۲) اعضای شورای نگهبان

(۳) نمایندگان مجلس شورای اسلامی

(۴) قضاوت دیوان عالی کشور

پاسخ: گزینه ۳ صحیح می‌باشد. «شرح و تفسیر قوانین عادی در صلاحیت مجلس شورای اسلامی است.»

۲۰. کدام رود، از ارتفاعات چهل چشمه سرچشمه می‌گیرد؟

(۱) کرخه

(۲) کارون

(۳) قزل اوزون

(۴) هریرود

پاسخ: گزینه ۳ صحیح می‌باشد.

این رودخانه از ارتفاعات چهل چشمه استان کردستان سرچشمه گرفته و پس از عبور از منطقه گروس (بیجار) و جذب رودخانه‌های متعدد وارد جلگه خمسه شده و رودخانه‌های زنجان رود و ابهرچای را ضمیمه خود ساخته و به مسیر خود ادامه می‌دهد.

۲۱. تهران در زمان سلطنت کدام پادشاه، به عنوان پایتخت انتخاب شد؟

(۱) آغا محمد خان قاجار

(۲) شاه اسماعیل صفوی

(۳) مظفردالدین شاه

(۴) نادرشاه افشار

پاسخ: گزینه ۱ صحیح می‌باشد. پس از مرگ کریمخان زند آقا محمدخان پس از نبرد سختی که با لطفعلی خان زند داشت بر کشور چیره گردید و تهران را در آغاز سده سیزدهم و به سال ۱۰۲۴ پایتخت خویش قرار داد.

۲۲. محل استقرار «دیوان کیفری بین‌المللی» کجاست؟

- (۱) لاهه (۲) لندن (۳) نیویورک (۴) واشنگتن

پاسخ: گزینه ۱ صحیح می‌باشد.

دیوان کیفری بین‌المللی اولین دادگاه دائمی بین‌المللی برای رسیدگی به جرایم نسل‌کشی، جنایات علیه بشریت، جنایت جنگی است که مقر آن در لاهه، هلند قرار دارد.

۲۳. بانک‌های دولتی تخصصی در کشور کدامند؟

- (۱) تجارت - مسکن - صنعت و معدن  
(۲) کشاورزی - مسکن - صنعت و معدن  
(۳) رفاه کارگران - تجارت - مسکن  
(۴) ملت - صادرات - تجارت

پاسخ: گزینه ۲ صحیح می‌باشد. بانک‌های کشاورزی، صنعت و معدن و مسکن از جمله بانک‌های دولتی تخصصی می‌باشند.

۲۴. کتاب «معاد» از آثار کدامیک از بزرگان انقلاب است؟

- (۱) دکتر شریعتی (۲) آیت‌الله طالقانی (۳) آیت‌الله مطهری (۴) آیت‌الله دستغیب

پاسخ: گزینه ۴ صحیح می‌باشد. کتاب با عنوان معاد هم از شهید مطهری وجود دارد و هم از شهید دستغیب منتهی کتاب شهید مطهری مجموعه سخنرانی های ایشان پیرامون معاد می‌باشد که توسط شاگردان ایشان از صوت به کتاب برگردانده شده اما کتاب معاد شهید دستغیب تألیف مستقیم خود ایشان می‌باشد.

۲۵. امامت نماز عید فطر سال ۵۷ که منجر به تظاهرات وسیعی علیه رژیم پهلوی شد با چه کسی بود؟

(۱) آیت ... طالقانی (۲) شهید باهنر (۳) شهید مفتاح (۴) شهید محلاتی

پاسخ: گزینه ۳ صحیح می‌باشد در روز ۱۳ شهریور ۱۳۵۷ نماز عید فطر به امامت دکتر شهید مفتاح برگزار شد.

۲۶. کدام یک از احکام قانونی زیر در ایران مطلق نیست؟

(۱) شکنجه ممنوع است

(۲) حکومت نظامی ممنوع است

(۳) تفتیش عقاید ممنوع است

(۴) فروش بناها و اموال دولتی غیر منحصر به فرد ممنوع است

پاسخ: گزینه ۴ صحیح می‌باشد.

۲۷. کدام مورد از ارکان نماز است؟

- (۱) قیام بعد از رکوع  
(۲) قرائت سوره حمد  
(۳) قیام قبل از رکوع  
(۴) نشستن بین دو سجده

پاسخ: گزینه ۱ صحیح می باشد. ارکان نماز عبارتند از: نیت، تکبیره الاحرام، قیام (هم قیام گفتن تکبیره الاحرام و هم قیام قبل از انجام رکوع)، رکوع، دو سجده توجه شود که واجبات نماز ۱۱ مورد می باشند که ۵ مورد از آن (مواردی که در بالا گفته شد) ارکان نماز می باشند یعنی اگر در نماز به جا آورده نشود یا بیش از مقدار واجب آورده شود، حتی اگر از روی سهو و فراموشی هم باشد، نماز باطل می شود، (ولی واجبات غیر رکنی اگر عمدآ کم و زیاد شود نماز باطل می شود، اما اگر سهواً باشد نماز صحیح است، مانند قرائت).

۲۸. هواپیمایی که به هواپیمای خبرنگاران موسوم شد و در جریان سقوط آن، تعداد زیادی خبرنگار به شهادت رسیدند عازم کجا بود و در کدام تاریخ سقوط کرد؟

- (۱) بندرعباس، ۱۵ آذر ۱۳۸۳  
(۲) چابهار، ۱۵ آذر ۱۳۸۳  
(۳) کنارک، ۱۵ آبان ۱۳۸۴  
(۴) خارک، ۱۵ آبان ۱۳۸۴

پاسخ: گزینه صحیح در بین گزینه ها نمی باشد. این هواپیمای باری- نظامی از نوع سی-۱۳۰ در ۱۵ آذر ۱۳۸۴ برای پوشش خبری رزمایش عاشقان ولایت که در چابهار در جنوب شرقی ایران برگزار می شد عازم بود.



۲۹. به موجب قانون مقررات استخدامی وزارت امور خارجه مصوب سال ۱۳۶۴، وظایف وزارت امور خارجه به کدام بخش ها تقسیم می شود؟

(۱) سیاسی، اقتصادی، فرهنگی، دیپلماتیک

(۲) کنسولی، فرهنگی، اقتصادی، امنیتی

(۳) سیاسی، کنسولی، اقتصادی، فرهنگی

(۴) سیاسی، اقتصادی، امنیتی، دیپلماتیک

پاسخ: گزینه ۱ صحیح می باشد. قانون مقررات استخدامی وزارت امور خارجه مشتمل بر نه ماده و دو تبصره در جلسه روز سه شنبه بیستم فروردین ماه ۱۳۶۴ در مجلس شورای اسلامی تصویب و در تاریخ ۱۳۶۴، ۱، ۲۸ به تأیید شورای محترم نگهبان رسیده است. که بر طبق آن وظایف وزارت امور خارجه به بخش های سیاسی، اقتصادی، فرهنگی، دیپلماتیک تقسیم می شود.

۳۰. در جریان جنگ تحمیلی، کدام شهر در سایه اولین حمله گسترده رزمندگان اسلام، از محاصره ارتش عراق خارج شد؟

(۱) خرمشهر (۲) آبادان (۳) سوسنگرد (۴) مهران

پاسخ: گزینه ۳ صحیح می باشد. تا ۲۵ آبان ۵۹ سوسنگرد زیر آتش بود، حملات عراق شدت یافته بود، امام خمینی (ره) فرمود سوسنگرد آزاد شود، صبح روز ۲۶ آبان ۱۳۵۹ رزمندگان کشورمان یک روزه سوسنگرد را آزاد کردند.

۳۱. در پی کدام اتفاق، اولین دولت موقت جمهوری اسلامی ایران استعفا کرد؟

- (۱) شروع جنگ ایران و عراق  
(۲) انقلاب فرهنگی  
(۳) تسخیر لانه جاسوسی  
(۴) استعفای برخی از اعضای دولت

پاسخ: گزینه ۳ صحیح می‌باشد. پس از تسخیر لانه جاسوسی آمریکا توسط دانشجویان در ۱۳ آبان مهدی بازرگان و دولت او به طور کامل استعفا کردند.

۳۲. سازمان «بازرسی و نظارت بر قیمت و توزیع کالا و خدمات» تابع کدام وزارتخانه است؟

- (۱) صنعت، معدن، تجارت (۲) کشور (۳) جهاد کشاورزی (۴) دادگستری

پاسخ: گزینه ۱ صحیح می‌باشد. این نهاد نظارتی تابع وزارتخانه صنعت، معدن، تجارت می‌باشد.

۳۳. مسئول اصلی و مستقیم تنظیم، سازماندهی و برقراری روابط فرهنگی و اعزام رایزن کشورمان به دیگر کشورها بر عهده کدام نهاد است؟

- (۱) وزارت امور خارجه (۲) سازمان تبلیغات اسلامی

- (۳) معاونت تشکیلات و برنامه (۴) سازمان فرهنگ و ارتباطات اسلامی

پاسخ: گزینه ۴ صحیح می‌باشد. مسئول اصلی و مستقیم تنظیم، سازماندهی و برقراری روابط فرهنگی و اعزام رایزن کشورمان به دیگر کشورها بر عهده سازمان فرهنگ و ارتباطات اسلامی می‌باشد.

۳۴. دستیابی به اهداف سند چشم انداز، در کدام صورت مقدور است؟

- (۱) تولید ناخالص ملی افزایش یابد.
- (۲) محیط غیر قابل تغییر و باثبات باشد
- (۳) در حیطه قواعد و قوانین رسمی کشور تعریف شود.
- (۴) شرایط برای ایجاد درک مشترک و تفاهم بین رهبران جامعه در آینده مطلوب به وجود می آید.

پاسخ: گزینه ۱ صحیح می باشد.

۳۵. در سند چشم انداز ۱۴۰۴، دیپلماسی جمهوری اسلامی ایران، بر پایه کدام مثلث طلایی است؟

- (۱) عزت، حکمت، استقلال
- (۲) عزت، حکمت، مصلحت
- (۳) عزت، اقتدار، استقلال
- (۴) مصلحت، استقلال، آزادی

پاسخ: گزینه ۲ صحیح می باشد. در سند چشم انداز ۱۴۰۴ ایران اسلامی دارای تعامل سازنده و مؤثر با جهان بر اساس اصول عزت، حکمت و مصلحت می باشد.

۳۶. روز جهانی قلم و روز قلم در ایران، به ترتیب چه روزهایی هستند؟

- (۱) ۱۴ اردیبهشت، ۱۶ تیر
- (۲) ۱۴ تیر، ۱۶ اردیبهشت
- (۳) ۱۶ اردیبهشت، ۱۴ تیر
- (۴) ۲۶ تیر، ۲۴ تیر

پاسخ: گزینه ۳ صحیح می‌باشد. روز جهانی قلم ۱۶ اردیبهشت و روز قلم در ایران ۱۴ تیر می‌باشد.

۳۷. ریاست دبیرخانه پیشگیری و مقابله با جرایم فناوری اطلاعات کدام مقر است؟

(۱) وزیر فرهنگ و ارشاد اسلامی (۲) دادستان کل کشور

(۳) وزیر ارتباطات و فناوری اطلاعات (۴) وزیر اطلاعات

پاسخ: گزینه ۲ صحیح می‌باشد. ریاست دبیرخانه پیشگیری و مقابله با جرایم فناوری اطلاعات از وظایف دادستان کل کشور می‌باشد.

۳۸. تعامل سازنده با کدام یک از موارد زیر، از ویژگی‌های جامعه ایرانی در سند ۱۴۰۴ است؟

(۱) کشورهای آسیای جنوب شرقی (۲) کشورهای منطقه

(۳) کشورهای حوزه خلیج فارس (۴) جهان

پاسخ: گزینه ۴ صحیح می‌باشد. در سند چشم‌انداز ۱۴۰۴ ایران اسلامی دارای تعامل سازنده و مؤثر بر اساس اصول عزت، حکمت و مصلحت با جهان می‌باشد.

۳۹. اگر شورا منحل شود، مرجع صلاحیت دار برای رسیدگی به اعتراض شورا به انحلال، کدام است؟

(۱) وزارت کشور (۲) دادگاه (۳) استانداری (۴) شورای نگهبان

پاسخ: گزینه ۱ صحیح می‌باشد.

۴۰. امام خمینی (ره) معتقد بودند: وقتی دشمنان بخواهند ملتی را برای ابد مطیع خود سازند...

- (۱) روح اعتماد به نفس را از آنها می‌گیرند.
  - (۲) نظام اقتصادی خود را بر آن ملت تحمیل خواهند کرد.
  - (۳) در مقام وحدت شکنی بین قشرهای ملت بر می‌آیند.
  - (۴) درصد ترویج فسق و فجور در بین آن ملت بر می‌آیند.
- پاسخ: گزینه ۱ صحیح می‌باشد. به فرموده امام راحل (ره) وقتی دشمنان بخواهند ملتی را برای ابد مطیع خود سازند روح اعتماد به نفس را از آنها می‌گیرند.

۴۱. رئیس مجلس چه نوع نظارتی بر مصوبات قوه مجریه دارد؟

- (۱) قانونی (۲) قضایی (۳) سلسله مراتبی (۴) اداری

پاسخ: گزینه ۱ صحیح می‌باشد. وظیفه اولیه مجلس شورای اسلامی وضع قانون است. قانونگذاری به نمایندگان مجلس شورای اسلامی امکان نظارت مستمر و همه جانبه را می‌دهد و اصولاً حدود اختیارات وزراء و دولت را قانون معین می‌کند. (اصل ۱۳۳) دولت در صورت اجرای ناقص یا عدم اجرای قوانین و یا عدم اجرای قوانین مصوب مجلس باید پاسخگو باشد و نمایندگان می‌توانند از طرق قانونی دولت را مورد پرسش قرار دهند.

۴۲. ویژگی های جامعه ایرانی با تاکید بر ارزش های اسلامی، ملی، انقلابی، مردم سالاری دینی، عدالت اجتماعی و آزادی های مشروع در کدام یک از اسناد زیر به صراحت آمده است؟

(۱) نقشه جامع علمی کشور

(۲) سیاست های کلی نظام در برنامه ششم توسعه اقتصادی، اجتماعی و فرهنگی

(۳) برنامه چهارم توسعه اقتصادی، اجتماعی و فرهنگی

(۴) سند چشم انداز ۱۴۰۴

پاسخ: گزینه ۴ صحیح می باشد. تمام موارد گفته شده به صراحت در سند چشم انداز ۱۴۰۴ آمده است.

۴۳. کدام مورد عضو شورای بازنگری قانون اساسی است؟

(۱) معاون اول رئیس جمهور

(۲) فقط شش نفر فقیه شورای نگهبان

(۳) کلیه اعضای شورای نگهبان

(۴) کلیه اعضای مجمع تشخیص مصلحت نظام

پاسخ: گزینه ۳ صحیح می باشد. مقام رهبری پس از مشورت با مجمع تشخیص مصلحت نظام طی حکمی خطاب به رئیس جمهور موارد اصلاح یا متمیم قانون اساسی را به شورای بازنگری قانون اساسی با ترکیب زیر پیشنهاد می نماید:

- ۱- اعضای شورای نگهبان ۲- رؤسای قوای سه گانه. ۳- اعضای ثابت مجمع تشخیص مصلحت نظام.
- ۴- پنج نفر از اعضای مجلس خبرگان رهبری ۵- ده نفر به انتخاب مقام رهبری ۶- سه نفر از هیأت وزیران.
- ۷- سه نفر از قوه قضائیه ۸- ده نفر از نمایندگان مجلس شورای اسلامی ۹- سه نفر از دانشگاهیان.

۴۴. آیا قاضی دادگاه می تواند از اجرای آیین نامه مخالف با قانون امتناع کند؟

- ۱) خیر، اما می تواند تا تعیین تکلیف آیین نامه در دیوان عدالت اداری، از صدور رأی امتناع کند
- ۲) بلی و می تواند ابطال آن را از دیوان عدالت اداری تقاضا کند.
- ۳) خیر و پرونده را باید برای دیوان عدالت اداری ارسال کند.
- ۴) بلی و باید ابطال آن را از دیوان عدالت اداری بخواهد.
- پاسخ: گزینه ۲ صحیح می باشد.

۴۵. آیسیکو (ISESCO) از جمله تشکیلات زیر مجموعه کدام نهاد است؟

- ۱) سازمان ملل متحد
- ۲) اتحادیه عرب
- ۳) سازمان همکاری اسلامی
- ۴) اتحادیه آفریقا

پاسخ: گزینه ۳ صحیح می‌باشد. آی‌سی‌اس‌کو یا ISESCO یک سازمان علمی، فرهنگی و آموزشی وابسته به سازمان کنفرانس اسلامی است که در مه ۱۹۷۹ تأسیس شد. مقر آن در مراکش قرار دارد. ۵۷ کشور اسلامی از جمله ایران عضو این سازمان هستند.

۴۶. برای معرفی به مجلس جهت اخذ رأی اعتماد، کدام وزیر را دیگران باید به رئیس جمهور پیشنهاد کنند؟

(۱) فرهنگ و ارشاد اسلامی (۲) اطلاعات

(۳) امور خارجه (۴) دادگستری

پاسخ: گزینه ۴ صحیح می‌باشد. وزارت دادگستری یکی از وزارت خانه‌های ایران است که به موجب اصل یکصد و شصتم قانون اساسی وزیر آن مسئولیت کلیه مسائل مربوط به روابط قوه قضائیه با قوه مجریه و قوه مقننه را بر عهده دارد و از میان کسانی که رئیس قوه قضائیه به رئیس جمهور پیشنهاد می‌کند انتخاب می‌گردد.

۴۷. نام کدام نهاد، در قانون اساسی بیان نشده است؟

(۱) شورای عالی انقلاب اسلامی (۲) شورای عالی امنیت ملی

(۳) شورای نظارت بر صدا و سیما (۴) دیوان عالی کشور

پاسخ: گزینه ۱ صحیح می‌باشد.



۴۸. رسیدگی به اتهام رئیس جمهور در مورد جرایم عادی در کجا بررسی می شود؟

(۱) دادگاه ویژه (۲) دادگاه عمومی

(۳) دیوان عالی کشور (۴) مجلس

پاسخ: گزینه ۲ صحیح می باشد. طبق اصل یکصد و چهلم: رسیدگی به اتهام رئیس جمهور و معاونان او و وزیران در مورد جرائم عادی با اطلاع مجلس شورای اسلامی در دادگاه های عمومی دادگستری انجام می شود.

۴۹. طبق برنامه چهارم توسعه اختصاص عواید نفت برای توسعه سرمایه گذاری بر چه اساسی است؟

(۱) کارآفرینی و توسعه تامین اجتماعی (۲) کارآیی و بازدهی

(۳) سوددهی و توسعه (۴) اشتغال و درآمدزایی

پاسخ: گزینه ۲ صحیح می باشد. اختصاص عواید نفت برای توسعه سرمایه گذاری بر اساس کارآیی و بازدهی می باشد.

۵۰. براساس قانون جرایم رایانه ای، کدام یک از موارد زیر موظف به بحث و تبادل نظر درخصوص فیلتر شدن وبلاگ ها است؟

(۱) وزارت اطلاعات

(۲) وزارت فرهنگ و ارشاد اسلامی

۳) وزارت ارتباطات و فناوری اطلاعات

۴) کارگروه تعیین مصادیق محتوای مجرمانه رایانه ای

پاسخ: گزینه ۴ صحیح می‌باشد. این کارگروه که زیر نظر دادستان کل کشور فعالیت می‌کند، موظفند هر ۲ هفته یکبار تشکیل جلسه دهند و در این جلسات در خصوص فیلتر شدن وب‌گاه‌های مختلف، بحث و تبادل نظر و رای‌گیری می‌شود.



# اصل سوالات

سازمان سنجش آموزش کشور

معارف اسلامی

۱. این کلام امیرالمومنین علیه السلام با کدام عبارت هم معنی است؟

” خدا رحمت کند کسی را که بداند از کجا آمده، در کجاست و به کجا می رود. ”

(۱) خدای متعال شناخت خیر و نیکی و گرایش به آن و شناخت بدی و بیزاری از آن را در ما قرار داده است.

(۲) هر کس در خود می نگرد یا به تماشای جهان می نشیند، خدا را می یابد و محباش را حس می کند.

(۳) ارزش هر کس به درک و فهم وی از حقیقت هستی و جایگاه خود در نظام آفرینش بستگی دارد.

(۴) خداوند ما را صاحب اراده و اختیار آفرید و مسئول سرنوشت خویش قرار داد.

پاسخ: گزینه ۳ صحیح می باشد. در درس سوم دین و زندگی دوم دبیرستان که در مورد آشنایی با جایگاه انسان در نظام خلقت و ارزشهای انسان می باشد چنین خواندیم که ارزش هر کس به درک و فهم وی از حقیقت هستی و جایگاه خود در نظام آفرینش بستگی دارد. و این حدیث از امام علی (ع) خود بیانگر اهمیت شناخت انسان از پیرامون خود می باشد.

۲. آیه ی شریفه ی «و فی الارض آیات للموقنین و فی انفسکم افلا تبصرون» ناظر بر کدامیک از راه های خدایابی است؟

(۱) راه تجربه (۲) برهان وجوب و امکان (۳) برهان فطرت (۴) راه عقل

پاسخ: گزینه ۴ صحیح می‌باشد. به هر سو از جوانب عالم که توجه کنیم، می‌بینیم آیتی است روشن و برهانی است قاطع بر وحدانیت رب آن، و اینکه رب عالم شریکی ندارد. برهانی که در آن حق و حقیقت برای اهل یقین از راه عقل جلوه می‌کند، پس در این عالم آیاتی است برای اهل یقین.

۳. آگاهی انسان به حالات روانی و احساسات و عواطف خود، بیانگر کدام علم است؟

(۱) اکتسابی (۲) حضوری (۳) حصولی (۴) با واسطه

پاسخ: گزینه ۲ صحیح است. علم حضوری یعنی علمی که عین واقعیت معلوم پیش عالم (نفس یا ادراک کننده دیگری) حاضر است و عالم شخصیت معلوم را می‌یابد، مانند علم نفس به ذات خود و عواطف و حالات وجدانی و ذهنی خود.

۴. کدام یک از آیات زیر، بر این امر تاکید دارد که خداوند در میان موجودات خود، انسان را برگزیده و بهشت ویژه را به او اختصاص داد؟

(۱) یا ایها النفس المطمئنه ارجعی الی ربک

(۲) ولقد کرمتنا بنی ادم و حملنا فی البر و البحر

(۳) انا هدیناه السبیل اما شاکر و اما کفورا

(۴) و سحر لکم ما فی السماوات و ما فی الارض

پاسخ: گزینه ۲ صحیح می‌باشد. آیه ۷۰ - سوره ی اسراء: وهما نانا فرزندان آدم را گرامی داشتیم و آنان را در خشکی و دریا (بر مرکب ها) حمل کردیم و از چیزهای پاکیزه روزی شان دادیم و آنان را بر بسیاری از آفریده های خود برتری کامل دادیم.

۵. آیه شریفه «و ان علیکم لحافظین کراما کاتبین یعلمون ما تفعلون» اشاره به کدام یک از شاهدان و گواهان روز حساب و در کدام مرحله از روز قیامت دارد؟

(۱) پیامبران و ائمه معصومین - اول

(۲) پیامبران و ائمه معصومین - دوم

(۳) فرشتگان و ماموران الهی - اول

(۴) فرشتگان و ماموران الهی - دوم

پاسخ: گزینه ۴ صحیح می‌باشد. خطاب به انسانی که به خداوند کریم مغرور شده است، در حالی که فرشتگان اعمال او را ثبت میکنند که مربوط به گواهان روز حساب از مرحله دوم قیامت است.

۶. با توجه به فضای کلی قرآن و روایات «شناخت معانی اوصاف الهی» با کدام مورد، سازگاری بیشتری دارد؟

(۱) تنها معنای صفات در کاربرد الهی و غیرالهی آن متفاوت است، بلکه اساساً آدمی راهی بسوی درک معانی صفات الهی ندارد.

(۲) تفاوت جدی میان معانی اوصاف الهی و اوصاف آفریدگان در میان نیست، بلکه یکسانی بین آنها وجود دارد

۳) اوصاف الهی با معانی اوصاف موجودات دیگر متفاوت است و اساساً آدمی راهی بسوی درک معانی صفات الهی ندارد.

۴) اوصاف الهی با معانی اوصاف موجودات دیگر متفاوت است؛ اما این مطلب به معنای فهم ناپذیری اوصاف خداوند نیست.

پاسخ: گزینه ۴ صحیح می باشد.

۷. از آیه ی شریفه «یا أَيُّهَا الَّذِينَ آمَنُوا عَلَيْكُمْ أَنْفُسُكُمْ» کدام مورد مفهوم می گردد؟

۱) خدا شناسی مقدمه کمال انسانی است.

۲) خود شناسی مقدمه جهان شناسی است.

۳) خدا شناسی مقدمه خود شناسی است.

۴) خود شناسی مقدمه خدا شناسی است.

پاسخ: گزینه ۴ صحیح می باشد. این آیه شریفه بخشی از آیه ی ۱۰۵ سوره مائده می باشد که خداوند می فرماید: ای کسانی که ایمان آورده اید، مراقب خودتان باشید، و مفهوم آن این است که هر بنده ای که خودش را آنچنان که مظهر وجه حق می باشد بشناسد، پروردگار خود را خواهد یافت.

۸. فلسفه ی آفرینش و غایت خلقت، از دیدگاه اسلام چیست و بالاترین درجه ی آن کدام است؟

- ۱) شکوفا شدن روح آرمان خواهی فطرت و شخصیت اخلاقی در انسان - عبودیت و بندگی
- ۲) شکوفا شدن روح آرمان خواهی فطرت و شخصیت اخلاقی در انسان - یقین شهودی
- ۳) نیل به مقام مقرب الهی و متمتع شدن انسان از رزق و نعمت های بیکران الهی - عبودیت و بندگی
- ۴) نیل به مقام مقرب الهی و متمتع شدن انسان از رزق و نعمت های بیکران الهی - یقین شهودی

پاسخ: گزینه ۳ صحیح است. در مورد فلسفه ی آفرینش از دیدگاه اسلام اینگونه می خوانیم که: برای رسیدن به کمال نه اینکه هدف نهایی و غایه الغایات باشد بلکه هدف مقدمی است و چون راه نزدیک شدن به کمال مطلق فقط یکی است و آن همان خط مستقیم است لذا فرمود فقط برای عبادت خلق کردم و در سوره ی «یس» فرمود صراط مستقیم عبادت خداست؛ راه فقط یکی است و آن هم طریق عبودیت و بندگی خداست.

۹. آیه شریفه «الم أعهد الیکم یا بنی آدم ان لاتعبدوا الشیطان انه لکم عدوّ مبین»، بیانگر کدام موضوع است؟

- ۱) عمل به تعهدات، واجب است، علی الخصوص که آن تعهد، با ذات باری تعالی باشد.
- ۲) شیطان، دشمن کینه توز و قسم خورده انسان است که او را از عمل به تعهدات، منصرف می کند.
- ۳) عبادت شیطان، به معنای اطاعت از دستور های منحرف کننده ی اوست که با عبادت خداوند، منافات دارد.



۴) پرستش خدا، نوعی خداجویی است که به حکم فطرت، در نهاد انسان نهاده شده است.

پاسخ: گزینه ۲ صحیح است. «ای فرزندان آدم مگر با شما عهد نکرده بودم که شیطان را میپرستید زیرا وی دشمن آشکار شماست» همانطور که از ترجمه ی آیه هم پیداست بیانگر آن است که شیطان دشمن قسم خورده ی انسان می باشد.

۱۰. حدیث «دعوت کننده مردم باشید اما نه با زبان، بلکه با پارسایی، تلاش، نماز و نیکی که این رفتارها خود دعوت کننده هستند» به کدام مفهوم اشاره دارد؟

(۱) موثرترین راه فراخوانی به خیر و نیکی دعوت غیر زبانی است.

(۲) موثرترین راه فراخوانی به خیر و نیکی دعوت عملی است.

(۳) دعوت به خیر و نیکی قبل از امر به معروف و نهی از منکر می باشد.

(۴) دعوت به خیر و نیکی در شخص موجب تعهد می شود.

پاسخ: گزینه ۲ صحیح می باشد. امام صادق موثرترین راه فراخوانی به خیر و نیکی را دعوت عملی می داند.

۱۱. هدایت ویژه الهی در مورد انسان، به دلیل کدام یک از خصوصیات زیر می باشد؟

(۱) روح فطرت (۲) روح و عقل (۳) عقل و اختیار (۴) فطرت و غریزه

پاسخ: گزینه ۳ صحیح می‌باشد. از ویژگی های انسان، توانایی، تفکر و تعقل و قدرت اختیار و انتخاب اوست.

۱۲. کدام عبارت، تمرین دوری از گناه تقویت روح ایمان و توجه به خداست؟

(۱) حج (۲) وحدت (۳) روزه (۴) نماز

پاسخ: گزینه ۴ صحیح است به تعبیر اسلام نماز تمرین دوری از گناه تقویت روح ایمان و توجه به خداست.

۱۳. آیه شریفه «قالوا الم تکن ارض الله واسعة فتهاجروا فیها...»، خطاب به چه کسانی و در کدام عالم است؟

(۱) دوزخیان - قیامت (۲) دوزخیان - برزخ

(۳) بهشتیان - قیامت (۴) بهشتیان - برزخ

پاسخ: گزینه ۱ صحیح می‌باشد. با توجه به ترجمه آیه (سوره نسا آیه ۹۷): آیا زمین خداوند وسیع نبود تا در آن (از محیط کفر به محیط اسلام) مهاجرت کنید؟ پس آنان جایگاهشان جهنم است و آن بد جای بازگشتی است. گزینه ۱ صحیح می‌باشد.

۱۴. با توجه به آیه شریفه ی «وَاللَّهُ هُوَ الْغَنِيُّ الْحَمِيدُ» صفت "غنی" ناظر بر کدام مطلب است؟

(۱) نیازمندی موجودات زنده به خداوند، فقط به مرحله به وجود آمدن و پدیدار شدن اختصاص دارد.

۲) هرچه انسان در کسب کمالات پیش رود، نسبت به دیگران غنی تر و نسبت به خداوند تغییر نمی کند.

۳) انسان ها هر قدر که به معنای حقیقی کامل تر شوند فقر و نیازمندی خود را به خداوند درک می کنند.

۴) چون وجود مخلوقات وابسته به خدا است. اگر اراده کند، می تواند ما را ببرد و مخلوقات دیگری را به جای ما بیاورد.

پاسخ: گزینه ۲ صحیح می باشد. در درس اول دینی سال چهارم دبیرستان در ذیل واژه غنی این مطلب آمده است که نسبت غنی و فقیر بین خداوند و مخلوقات هیچ گاه تغییر نمی کند.

۱۵. پیام آیات شریفه ی «قل هو الله احد» و «الحمد لله» به ترتیب بیانگر کدام بعد از ابعاد توحید است؟

۱) ذاتی، عبادی ۲) افعالی، صفاتی ۳) ذاتی، صفاتی ۴) افعالی، عبادی

پاسخ: گزینه ۱ صحیح می باشد آیه شریفه «قل هو الله احد» دلالت بر توحید ذاتی دارد و آیه شریفه «الحمد لله» دلالت بر توحید عبادی دارد؛ زیرا در این آیه، حمد را که از مصداق های عبادت است، منحصر برای خداوند قرار داده است.

۱۶. چرا جامعه اسلامی نیازمند حکومت و ولایت است و رهبری جزو احکام بسیار مهم شمرده شده است؟

۱) شیوه رسیدن به احکام الهی، توسط علمای دین مشخص شده و برای نشر آن، به حکومت نیاز است.

۲) با وجود تنظیم روابط اجتماعی و اقتصادی توسط مردم، رهبری باید معنویات را سرپرستی نماید.

۳) صرف نظر از حیات فردی مسلمانان، حکومت باید بر بعد اجتماعی آنان تأثیرگذار باشد.

۴) برنامه هدایت انسان، باید جامع و دربرگیرنده حیات فردی و اجتماعی انسان باشد.

پاسخ: گزینه ۴ صحیح می‌باشد. اسلام دینی کامل و در بردارنده هدایت انسان در همه ابعاد فردی و اجتماعی است. بنابراین برنامه هدایت انسان نیز باید در برگیرنده حیات فردی و اجتماعی باشد.

۱۷. مطابق کدام مورد، وجود پیامبر گرامی اسلام (ص) واسطه همه خیرات و برکات مادی و معنوی به انسان هاست؟

- ۱) مرجعیت دینی  
۲) سیره و سنت پیامبر  
۳) تمسک به قرآن  
۴) احادیث نبوی و علوی

پاسخ: گزینه ۳ صحیح می‌باشد.

۱۸. از حدیث امام صادق (ص) که فرمودند: «الله همان است که همه مخلوقات هنگام نیاز ها، سختیها و ناامیدی از هر چیز او پناه می آورند» کدام موضوع مفهوم می‌گردد؟

- ۱) فطری بودن خداشناسی  
۲) گرایش درونی انسان  
۳) فطری بودن خداپرستی  
۴) گرایش فطری انسان

پاسخ: گزینه ۱ صحیح می‌باشد. از آیات و روایات نیک بر می‌آید که خداشناسی، فطری است. بدین معنا که ما پیش تر معرفتی نسبت به داوند داشته ایم، ولی آن را فراموش کرده ایم؛ پیامبران ما را به تأمل در آفاق و انفس خواندند، تا به شناخت فطری آگاهی پیدا کنیم؛ یعنی انبیا نگفتند که ای مردم بدانید که خدا وجود دارد، بلکه گفتند: «ای مردم، بدانید که می‌دانید خدا وجود دارد». قرآن نیز می‌فرماید: «فذكر انما انت مذكر». به تعبیر امام علی علیه السلام: لیستادوهم میثاق فطرته. همچنین هنگامی که از امیرالمؤمنین علی علیه السلام پرسیدند که آیا پروردگارت را هنگام پرستش دیده‌ای، فرمود: ما کنت اعبد ربا لم اراه. وقتی پرسیدند چگونه دیده‌ای، فرمود: لاتدرکه العیون فی مشاهده الابصار ولکن راته القلوب بحقائق الایمان.

۱۹. سخن حکیمانه، مولای متقیان، «فی حلالها حساب و فی حرامها عقاب» بیانگر کدام موضوع است؟

- ۱) در قیامت، خدا از همه، اعمال آدمی سوال می‌کند
- ۲) در برزخ، فرشتگان از اعمال آدمی سوال می‌کند
- ۳) حسابرسی خدا به صورتی است که حجت بر بندگان به پایان می‌رسد
- ۴) در قیامت، اعمال زشت ابتدا مورد بازخواست واقع می‌شوند

پاسخ: گزینه ۱ صحیح می‌باشد. در این مسیر نه تنها درآمد حرام انسان کیفر و مجازات دارد بلکه حتی درآمد حلال او نیز مورد حساب و کتاب قرار می‌گیرد و در واقع در قیامت، خدا از همه، اعمال آدمی سوال می‌کند زیرا صرف این که در آمدی حلال باشد موجب سلب مسئولیت از انسان نمی‌گردد بلکه ادای حقوق الهی از این مال حلال مانند خمس و زکات و انفاق در راه خدا و تأمین مخارج لازم خانواده و امثال آن نیز مورد پرسش قرار می‌گیرد.

۲۰. ریشه بحران های فراروی انسان ناشی از کدام امر است و قران کریم زندگی تنگ و سخت را معلول کدام مورد می داند؟

(۱) خود شناسی - روگردانی از خدا      (۲) خدا ناشناسی - روگردانی از خدا

(۳) خود ناشناسی - غفلت از فطرت      (۴) خدا ناشناسی - غفلت از فطرت

پاسخ: گزینه ۲ صحیح می باشد. اگر انسان حقیقت واقعی خود و هدف خلقت را بداند گرفتار بحران های متعددی که بشر امروزی گرفتار آن شده است نمی شود چون به بحران های فراروی آدمی نظیر بحران های معرفتی، اخلاقی، روانی، معنوی و الحاد گرایی توجه می کنیم در می یابیم که همه آنها از خود ناشناسی یا عدم شناخت انسان ناشی شده اند و طبق آیه ۲۰ سوره طه - "و من اعرض عن ذکرى فان له معیسه ضنکا". و هر کس از یاد من دل بگرداند در حقیقت زندگی تنگ خواهد داشت.

۲۱. اسماء الهی «رب» و «احد»، به ترتیب مبین کدام یک از مراتب توحید هستند؟

(۱) ذاتی - ذاتی      (۲) افعالی - ذاتی      (۳) ذاتی - افعالی      (۴) افعالی - افعالی

پاسخ: گزینه ۲ صحیح می باشد. بنابر توحید افعالی او همچنانکه در ذات خود شریک ندارد، در فاعلیت نیز که شامل خالقیت، ربوبیت، مالکیت و حاکمیت تکوینی است، شریک ندارد. توحید ذاتی نخستین مرتبه از مراتب توحید است و به معنی اعتقاد به احدیت و یگانگی ذات خدا را گویند. ذات خداوند تعدد و دوگانگی بر نمی تابد و مثل و مانندی ندارد.

۲۲. اگر ممکن الوجود، بیواسطه یا با واسطه معلول علتی باشد که خود معلول آن موجود ممکن است، این احتمال چه حکمی دارد و مستلزم چه امری است؟

(۱) باطل است، تسلسل (۲) باطل نیست، دور

(۳) باطل است، دور (۴) باطل نیست، تسلسل

پاسخ: گزینه ۱ صحیح می باشد برهان وجوب و امکان: ما می دانیم که وجود داریم و وجود داشتن ما حقیقت است و مثل ما انسانها موجودات دیگری مثل حیوانات و گیاهان و... نیز وجود دارند که همه این موجودات یا واجب الوجودند و یا ممکن الوجود و فرض سومی وجود ندارد. اگر آن موجود در وجود داشتن خود وابسته به غیر خود باشد ممکن الوجود است و اگر وجودش مستقل باشد و وابسته به موجود دیگری نباشد واجب الوجود است که در صورت دوم وجود واجب الوجود (خدا) ثابت می شود. صورت دوم یعنی مستقل بودن وجود بیان کننده واجب الوجود است اما در صورت اول یعنی اگر موجود مفروض ممکن الوجود باشد بنا بر اصل علیت نیازمند علت خواهد بود و با توجه به امتناع تسلسل و امتناع دور آن ممکن الوجود با واسطه یا بی واسطه معلول علتی است که آن علت (واجب الوجود) معلول شی دیگری نیست در نتیجه باز هم وجود واجب الوجود اثبات می شود.

۲۳. آیات شریفه ی «إِنَّ فِي السَّمَاوَاتِ وَالْأَرْضِ لَآيَاتٍ لِلْمُؤْمِنِينَ» و «لَوْ كَانَ فِيهِمَا آلِهَةٌ إِلَّا اللَّهُ لَفَسَدَتَا» به ترتیب بر کدام یک از تقریرهای برهان نظم دلالت می کند؟

(۱) بداهت عقلی از ناظمی مدبر، از موارد جزئی نظم، به ناظم حکیم پی می بریم

(۲) هماهنگی در کل عالم، از موارد جزئی نظم، به ناظم حکیم پی می بریم

(۳) بداهت عقلی از ناظمی مدبر، بر هدفمندی موجودات منظم تأکید دارد

۴) هماهنگی در کل عالم، بر هدفمندی موجودات منظم تأکید دارد

پاسخ: گزینه ۳ صحیح می‌باشد. هر چیزی در این جهان بیانگر وجود خالق و آیه ای از آیات الهی است و آیه دوم که از روش برهان خلف به اثبات وجود و یگانگی خداوند می‌پردازد و بر برهان هماهنگی از تقریر های برهان نظم دلالت دارد و اینکه (درختان در تابستان همواره میوه های گوارا می‌دهند) برای برهان هدفمندی.

۲۴. شیطان سوگند یاد کرده است آدم را فریب دهد، کار او چگونه است و خطاب به دوزخیان چه می‌گوید؟

۱) آراستن و زیبا نشان دادن دنیا - من اختیاری بر شما نداشتم، پس مرا ملامت نکنید و خود را ملامت کنید.

۲) دادن وعده های دروغین به پیروان خود - مرا بر شما هیچ تسلطی نبود، جز اینکه شما را دعوت کردم و اجابت نمودید.

۳) دادن وعده های دروغین به پیروان خود - من اختیاری بر شما نداشتم، پس مرا ملامت نکنید و خود را ملامت کنید.

۴) آراستن و زیبا نشان دادن دنیا - مرا بر شما هیچ تسلطی نبود، جز اینکه شما را دعوت کردم و اجابت نمودید.

پاسخ: گزینه ۳ صحیح می‌باشد شیطان از طریق دادن وعده های دروغین به انسان ها آنها را گمراه می‌کند و در جواب دوزخیان که شیطان عامل گمراهی خود می‌دانند می‌گوید: من اختیاری بر شما نداشتم، پس مرا ملامت نکنید و خود را ملامت کنید.



۲۵. عبارت های «خداوند به هر موجودی، به اندازه شایستگی و قابلیت او نعمت داده است» و «جهان بر عدالت استوار شده»، به ترتیب کدام معنای عدل اشاره دارد؟

- (۱) تکوینی - تشریحی  
(۲) تشریحی - تشریحی  
(۳) تکوینی - تکوینی  
(۴) تشریحی - تکوینی

پاسخ: گزینه ۱ صحیح می باشد. اقسام عدل الهی:

۱- عدل تکوینی (وجودی): خداوند به هر موجودی به اندازه شایستگی های او از مواهب و نعمت هایش عطا می کند و هیچ استعداد و قابلیت را، در این حوزه، بی پاسخ و مهمل نمی گذارد. به دیگر سخن، خداوند متعال به هر یک از مخلوقات خویش، به اندازه ظرفیت وجودی آن، افزای می کند و آن ها را به قدر قابلیت و استعدادشان از کمالات بهره مند می سازد.

۲- عدل تشریحی (وضعی): خداوند از یک سو، در وضع تکالیف و جعل قوانینی که سعادت و کمال انسان در گرو آن است، فرو گذار نمی کند و از سوی دیگر، هیچ انسانی را به عملی که بیش از استطاعت اوست، مکلف نمی سازد. بنابراین، شریعت الهی به هر دو معنای یاد شده، عادلانه است.

۲۶. «مرگ جامعه» در اثر کدام عامل (عوامل) پدید می آید؟

- (۱) عدم اطاعت از حاکم دینی  
(۲) ترک جهاد و راحت طلبی  
(۳) ظلم و ستم و گناه و نافرمانی از خدا  
(۴) بی توجهی به امور اخروی و دنیوی

پاسخ: گزینه ۳ صحیح می باشد. قرآن برای جامعه، همانند فرد، مرگ قائل است و مرگ جامعه بر اثر ظلم و ستم و گناه و نافرمانی خدا پیش می آید. قرآن در این باره در سوره

اعراف آیه ۳۷ می فرماید؛ برای هر امتی اجلی است که چون فرا رسد نه ساعتی آن را پس اندازند و نه پیش و پروردگارت هرگز بر آن نبوده که شهرهایی را که مردمش صالح اند، به ستم هلاک کند.

۲۷. خداوند، چگونه انسان ها را به صورت ویژه هدایت نموده است؟

(۱) با خلقت متفاوت و ایجاد حس رقابت در میان انسان ها

(۲) متناسب با دو ویژگی تعقل و اختیار با فرستادن دین

(۳) خلقت اقوام مختلف با شعبات و گوناگون و نژاد متفاوت

(۴) پیامبرانی را فرستاد تا مردم را به ادیان مختلف دعوت کنند

پاسخ: گزینه ۲ صحیح می باشد. خداوند دو ویژگی تعقل و اختیار انسان را با فرستادن دین راهنمایی و هدایت کرده است.

۲۸. با توجه به آیه ی شریفه «لقد ارسلنا بالبینات و انزلنا معهم الكتاب المیزان...» مسلمانان وظیفه دارند جامعه را براساس کدام مورد بنا کنند و برترین مقام رسول خدا کدام است؟

(۱) کتاب خدا - ولایت ظاهری

(۲) کتاب خدا - ولایت معنوی

(۳) قسط - ولایت ظاهری

(۴) قسط - ولایت معنوی

پاسخ: گزینه ۴ صحیح است. در درس چهارم کتاب دین و زندگی ۳ (گستره رسالت پیامبر (ص)) به این مورد اشاره شده است که مسلمانان وظیفه دارند جامعه را براساس قسط بنا کنند و برترین مقام رسول خدا ولایت معنوی می‌باشد.

۲۹. حدیث شریف منزلت در شان چه کسی بود و منزلت هارون نزد موسی کدام مورد است؟

۱) حضرت علی - مشاور، پشتیبان و شریک در امر هدایت مردم

۲) حضرت محمد - مشاور، پشتیبان و شریک در امر هدایت مردم

۳) حضرت علی - برادر، وصی و جانشین من در میان مردم

۴) حضرت محمد - برادر، وصی و جانشین من در میان مردم

پاسخ: گزینه ۱ صحیح است. پیام حدیث منزلت ۱. شان و منزلت حضرت علی ۲. ختم نبوت

۳۰. از آیه شریفه ی «وَجِدُوا بِهَا وَاسْتَيْقَنَتْهَا أَنْفُسُهُمْ ظُلْمًا وَعُلُوًّا»؛ «با آنکه دل هایشان بدان یقین داشت، از روی ظلم و تکبر آن را انکار کردند»، کدام مفهوم دریافت می‌شود؟

۱) علم بدون ایمان ۲) ایمان بدون علم ۳) عمل بدون ایمان ۴) ایمان بدون عمل

پاسخ: گزینه ۱ صحیح است. قرآن کریم به مواردی اشاره می‌کند که کسانی علم داشته‌اند اما ایمان نداشته‌اند. در مورد فرعونیان می‌فرماید: وَجَدُوا بِهَا وَاسْتَيْقَنَتْهَا أَنْفُسُهُمْ ظُلْمًا وَعُلُوًّا؛ و با آن که دل هایشان بدان یقین داشت، از روی ظلم و تکبر آن را انکار کردند. آنان

کاملاً می دانستند که خدا وجود دارد و حضرت موسی (علیه السلام) نیز پیامبر آن خدا است، ولی به لحاظ روحیه برتری جویی و ستم کاری که داشتند این مسأله را انکار می کردند.

۳۱. امامان معصوم چگونه تلاش می کردند تا از تحریف اسلام جلوگیری کنند و مردم را از ظلمت به روشنایی برسانند؟

- ۱) سکوت در برابر خلفا و اقدام برای جمع آوری قرآن و رفته تحریف آن
  - ۲) قیام برای انجام مسئولیت های مربوط به مرجعیت دینی و ولایت ظاهری
  - ۳) اقدام برای حفظ سخنان و سیره ی پیامبر اسلام به همراه تعلیم و تفسیر قرآن
  - ۴) معرفی خود به عنوان امام بر حق و تلاش برای جمع آوری شیعیان و ایجاد نهضت اسلامی
- پاسخ: گزینه ۲ صحیح است. مسولیت سه گانه امامت: ۱. اقدامات مربوط به مرجعیت دینی ۲. مجاهده ۳. راهنمایی مردم با ولایت معنوی

۳۲. کدام مورد، بیانگر وظیفه فقها در دوران غیبت امام زمان (عج الله تعالی فرجه الشریف) می باشد؟

- ۱) احکام و مسایل زمان پیامبر و امامان را به خوبی بداند و همانند آنان خود را آماده سازند.
- ۲) احکام، مسایل و رویداد های جدید را که در زمان پیامبر و امامان اتفاق نیفتاده به دست آورند.
- ۳) وقت خود را صرف مطالعه دقیق منابع اسلامی نمایند تا در زمان ظهور بتوانند احکام لازم را صادر نمایند.
- ۴) در صورت ناتوانی حاکمان از حل مشکلات مردم بتوانند براساس قوانین اسلام حاکمان را راهنمایی کنند.

پاسخ: گزینه ۲ صحیح است. در درس ۱۱ کتاب دین و زندگی ۳ (مرجعیت و ولایت فقیه) به این مورد اشاره شده است که یکی از وظایف فقها در دوران غیبت امام زمان (عج الله تعالی فرجه الشریف) احکام، مسایل و رویداد های جدید را که در زمان پیامبر و امامان اتفاق نیفتاده به دست آورند.

۳۳. خداوند با در نظر گرفتن کدام یک از مراتب کمال، پیامبر (ص) را واسطه فیض و رحمت و برکت به مخلوقات و بندگان قرار داد؟

(۱) ولایت ظاهری (۲) ولایت معنوی (۳) معجزه (۴) عصمت

پاسخ: گزینه ۲ صحیح می باشد. ولایت معنوی، عنایت ویژه خداوند به بندگان خاص است که آنها می توانند بر دل و قلب مومنان تاثیر بگذارند و آنها را هدایت کنند و یا واسطه فیض و رحمت و برکت به مخلوقات و بندگان خدا می شوند و یا می توانند در طبیعت تصرف کرده و معجزات انجام دهند.

۳۴. «اشاره به پیدایش نخستین انسان» و «اشاره به هدف داری خلقت انسان و جهان»، به ترتیب بیانگر کدام استدلال برای اثبات معاد است؟

(۱) امکان - ضرورت (۲) ضرورت - ضرورت

(۳) امکان - امکان (۴) ضرورت - امکان

پاسخ: گزینه ۱ صحیح می باشد.

۳۵. اگر انسان چیزی را اجاره کرد از بین برود، چه حکمی دارد؟

- (۱) ولو این که در نگهداری آن کوتاهی نکرده، ضامن است.
- (۲) در هر صورت، چون حق تصرف داشته، ضامن نیست.
- (۳) در هر صورت، چون در دست او ضایع شده، ضامن است.
- (۴) چنانچه در نگهداری آن کوتاهی نکرده، ضامن نیست.

پاسخ: گزینه ۴ صحیح می باشد.

۳۶. از دقت در آیه شریفه «حتی اذا جاء احدهم الموت قال رب ارجعون، لعلی اعمل صالحا فیما ترک...» کدام مفهوم دریافت می شود؟

- (۱) در عالم برزخ فعالیت آگاهانه روح و جسم ادامه می یابد
- (۲) حیثه درک و آگاهی انسان بعد از مرگ بیشتر می شود
- (۳) اختیار از انسان سلب می شود و پرونده اعمال او بسته می شود
- (۴) فرشتگان حقیقت وجود انسان را که همان روح و جسم است توفی می کنند

پاسخ: گزینه ۳ صحیح است با کمی دقت در ترجمه آیات («هنگامی که مرگ هریک از آنان فرا رسد، می گوید: پروردگارا! مرا بازگردانید»، «شاید در آنچه از خود به جای گذاشته‌ام، کار نیکی انجام دهم. هرگز! این سخنی است که او به زبان می گوید و در پی

آنان برزخی است تا روزی که برانگیخته شوند.» درمی یابیم که با مرگ انسان اختیار از وی سلب می شود و پرونده اعمال او بسته می شود.

۳۷. «ابتلای به بیماری در اثر عدم رعایت قوانین بهداشتی» و «خود را محاط در نتایج اعمال خویشتن یافتن» ، به ترتیب منجر به تحقق کدام یک از انواع کیفر می شود؟

(۱) طبیعی - اخروی (۲) عین عمل - اخروی

(۳) عین عمل - محصول عمل (۴) طبیعی - محصول عمل

پاسخ: گزینه ۱ صحیح است. پاداش و اعمال اخروی ما ساخته اعمال ما می باشد.

۳۸. «شکستن نماز واجب در غیر ناچاری» و «برای حفظ مال و جلوگیری از ضرر مالی و بدنی»، به ترتیب چه حکمی دارد؟

(۱) مکروه - اشکال دارد (۲) مکروه - مانعی ندارد

(۲) حرام - اشکال دارد (۴) حرام - مانعی ندارد

پاسخ: گزینه ۴ صحیح می باشد. شکستن نماز واجب برای مواقعی که لزومی ندارد و نماز گزار ناچار نمی باشد حرام بوده ولی برای حفظ مال و جلوگیری از ضرر مالی و بدنی مانعی ندارد.

۳۹. کدام یک از صفات خداوند دو چهره تکوینی و تشریحی دارد؟

(۱) مالکیت (۲) خالقیت (۳) ربوبیت (۴) ولایت

پاسخ: گزینه ۳ صحیح می‌باشد. توحید در ربوبیت دارای دو جلوه تدبیر تکوینی و تشریحی می‌باشد.

۴۰. حساس ترین و ارزشمند ترین دوره عمر انسان، کدام دوره است و به چه دلیل؟

(۱) نوجوانی و جوانی - دوره رشد و تقویت معرفت و آگاهی است.

(۲) بلوغ تا ازدواج - دوره رشد و تقویت معرفت و آگاهی است.

(۳) نوجوانی و جوانی - دوره تقویت عفاف و پاکدامنی می‌باشد.

(۴) بلوغ تا ازدواج - دوره تقویت عفاف و پاکدامنی می‌باشد.

پاسخ: گزینه ۴ صحیح است؛ همانطور که در درس چهاردهم دین و زندگی سال سوم (زمینه های پیوند) به این مورد اشاره شده است جواب درست گزینه ی ۴ می‌باشد.

۴۱. از آیه ی شریفه ی «اذا جاء احدهم الموت قال رب ارجعون» کدام مفهوم دریافت می‌گردد؟

(۱) آدمی در فاصله ی برزخی، زنده و آگاه است، نه معدوم و خاموش.

(۲) کافران پس از آنکه دو مرگ و دو زندگی را مشاهده می‌کنند، اظهار یقین می‌کنند.

(۳) انسان مجموع نفس و بدن است و در برزخ، ادراکات کلی و روحی دارد.

(۴) رجوع به دنیا پس از حلول مرگ، ممکن نیست مگر در شرایط خاص



پاسخ: گزینه ۴ صحیح می‌باشد. مفهوم آیه مورد نظر به موضوع عدم بازگشت به این دنیا پس از مرگ مگر در شرایط خاص اشاره دارد.

۴۲. «بی توجهی به عفاف و پاکدامنی» و «رشوه گیری» به ترتیب از کدام نوع گناهان است؟

(۱) فردی، فردی و نیازمند توبه فردی

(۲) اجتماعی، فردی و نیازمند توبه اجتماعی

(۳) اجتماعی، اجتماعی و نیازمند توبه اجتماعی

(۴) فردی، اجتماعی و نیازمند توبه فردی

پاسخ: گزینه ۳ صحیح است. گناهانی همچون «بی توجهی به عفاف و پاکدامنی» و «رشوه گیری» از جمله گناهان اجتماعی محسوب می‌شوند و نیازمند توبه اجتماعی می‌باشند.

۴۳. عبارت «لا حول و لا قوة الا بالله العلی العظیم» و «الحمد لله رب العالمین» به ترتیب بیانگر کدام بعد از توحید است؟

(۱) افعالی - عبادی (۲) ذاتی - ربوبی (۳) افعالی - ربوبی (۴) ذاتی - عبادی

پاسخ: گزینه ۳ صحیح می‌باشد. آیه «الحمد لله رب العالمین» بیانگر توحید نظری، توحید افعالی، توحید در ربوبیت است.

۴۴. عامل اصلی وحدت جامعه اسلامی، بر مبنای کدام مورد است و برای انجام این مسئولیت (وحدت)، ابتدا باید یکدیگر را به کدام امر دعوت کنیم؟

(۱) فالف بین قلوبکم - يدعون الی الخیر

(۲) واعتصمو بحبل الله - یامرون با المعروف

(۳) فالف بین قلوبکم - یامرون با المعروف

(۴) واعتصمو بحبل الله - يدعون الی الخیر

پاسخ: گزینه ۴ صحیح است. با نگاهی به پیام آیات درس چهاردهم دین و زندگی سال دوم در می یابیم: قرآن کریم پس از سفارش به تقوا و وحدت، از دو وظیفه ی مهم اجتماعی سخن می گوید (۱- دعوت به نیکی ۲- امر به معروف و نهی از منکر) قرآن از مؤمنان می خواهد که یکدیگر را به خیر و نیکی دعوت کنند و مانع ترک واجبات و ارتکاب گناهان در جامعه شوند.

۴۵. بهترین گواهان قیامت چه کسانی هستند؟ چرا؟

(۱) فرشتگان الهی، معیار سنجش اعمال دیگر انسان ها هستند.

(۲) پیامبران و امامان، ظاهر و باطن اعمال انسان ها را در دنیا دیده اند.

(۳) فرشتگان الهی، ظاهر و باطن اعمال انسان ها را در دنیا دیده اند.

(۴) پیامبران و امامان، معیار سنجش اعمال دیگر انسان ها هستند.

پاسخ: گزینه ۲ صحیح می‌باشد. در درس هشتم از دین‌زندگی سال دوم (واقعه ی بزرگ) می‌خوانیم: براساس آیات و روایات، پیامبران و امامان شاهدان عدل الهی هستند؛ همان گونه که در دنیا ناظر و شاهد بر اعمال انسان‌ها بوده‌اند. آنان همچنین معیار سنجش اعمال دیگر انسان‌ها می‌باشند و چون ظاهر و باطن اعمال انسان‌ها را در دنیا دیده‌اند و از هر خطایی مصون و محفوظ‌اند، بهترین گواهان قیامت‌اند.

۴۶. قرآن کریم خدا را «حی لا یموت» می‌خواند، تعبیر «حی» بیانگر کدام مفهوم است؟

(۱) اشتراک لفظی حیات برای خدا و مخلوقات

(۲) اشتراک معنوی حیات برای خدا و مخلوقات

(۳) اختصاص حیات بصورت یک صفت فعل، برای خداوند است.

(۴) انحصار وصف حیات برای ذات خداوند، ازلی و ابدی است.

پاسخ: گزینه ۴ صحیح می‌باشد. در درس دهم از کتاب دینی سال دوم متوسطه اینگونه خواندیم که: حیات خداوند، بر خلاف حیات مخلوقاتش، حادث نیست، بلکه به تبعیت ازلیت ذاتی الهی، حیات او نیز، که عین ذاتش است، حیات قدیمی و ازلی است.

۴۷. «بگو من برای ادای رسالتم از شما پاداش نمی‌طلبم جز...» پیامبر گرامی اسلام (ص) از جانب خداوند چه چیزی را به عنوان مزد تلاش‌های طاقت‌فرسای خود از مردم طلب می‌کند؟

(۱) مودت همراه با اطاعت کردن از اهل بیت

(۲) ایمان همراه با اطاعت کردن از اهل بیت

(۳) مودت کردن همراه با محبت کرن به اهل بیت

(۴) ایمان همراه با محبت کرده به اهل بیت

پاسخ: گزینه ۱ صحیح می‌باشد. شأن نزول آیه مودت: ابن بابویه از حضرت رضا (علیه السلام) سبب نزول آیه را این چنین نقل می‌کند: چون رسول اکرم (صلی الله علیه واله وسلم) در مدینه منوره مال و ثروتی نداشت، حال آن که در حوادث فراروی که احتیاج به مال داشت؛ انصار و اصحاب با خود گفتند خدای تعالی ما را به دست پیامبر خاتم (صلی الله علیه واله وسلم) هدایت و رهبری فرموده است لذا نیکوست که برای رفع آن نیازها، برای او مالی جمع کنیم.

آن‌ها به حضور پیامبر (صلی الله علیه وآله وسلم) رفتند و عرضه داشتند: ای رسول خدا، تن و جان و مال ما فدای تو باد. می‌خواهیم قسمتی از اموال خود را حضورتان تقدیم بداریم و شما را مستغنی و بی‌نیاز کنیم. پروردگار آیه فوق را نازل نمود و فرمود:

ای محمد به این مردم بگو من از شما مزد رسالت طلب نمی‌کنم مگر آنکه دوستی مرا در حق اهل بیت و ذریه‌ام منظور داشته و دوستدار و علاقمند به آل عصمت و طهارت باشید که این نیز به نفع شماست. زیرا وسیله هدایت یافتن شماست.

۴۸. لباس نمازگزار نباید از حیوان حرام گوشت باشد. اگر موی آن، همراه نمازگزار باشد، نمازش چه حکمی دارد؟

(۱) صحیح (۲) باطل (۳) مباح (۴) مکروه

پاسخ: گزینه ۲ صحیح است. اگر مویی از حیوان حرام گوشت، مانند: خرگوش، خوکچه هندی (همستر)، گربه، سگ و میمون - به لباس یا بدن نمازگزار چسبیده باشد، نماز باطل است.

۴۹. پیامبران الهی بعد از دعوت انسان به توحید و خداپرستی، مهم ترین مطالبی را که تعلیم نموده اند کدام است؟

(۱) از وجود عالمی پس از مرگ، به نام برزخ خبر می دادند.

(۲) با آوردن معجزه نبوت خویش را ثابت می کردند تا مردم را هدایت کنند.

(۳) با بیان مطالب اخلاقی و اجتماعی، جامعه را به سعادت رهنمون کنند.

(۴) وجود جهان پس از مرگ که بازگشت همگان، به آن عالم است.

پاسخ: گزینه ۴ صحیح می باشد در درس هفتم از کتاب دین و زندگی سال دوم دبیرستان به این موضوع اشاره شده است.

۵۰. ریشه بت پرستی و شرک جدید آن است که برخی از انسان ها، در عین قبول داشتن خداوند ...

(۱) دین و دستورات آن را در متن زندگی خود وارد نمی کنند و تمایلات دنیایی و نفسانی خود را اصل قرار می دهند.

(۲) در انتخاب نوع پوشش، نوع غذا، نوع تفریح و مشاهده فیلم ها از الگوهای غیر دینی استفاده می کنند.

(۳) آن چنان به امور دنیوی سرگرم شده اند که خدا را فراموش کرده و خداوند بر قلب آنها جایگاهی ندارد.

(۴) گرفتن ارباب هایی جز خداوند و روی آوردن به دنیا و آن را بعنوان وسیله محور زندگی قرار می دهند.

پاسخ: گزینه ۳ صحیح می باشد. این مطلب برگرفته از درس سوم دینی پیش دانشگاهی (حقیقت بندگی) می باشد. برخی از انسان ها، در عین قبول داشتن خداوند آن چنان به امور دنیوی سرگرم شده اند که خدا را فراموش کرده و خداوند بر قلب آنها جایگاهی ندارد.



# اصل سوالات

سازمان سنجش آموزش کشور

زبان و ادبیات فارسی و  
اصول نگارش

۱. در کدام عبارت، زمان فعل «مضارع مستمر» است؟

(۱) هفته آینده، در جلسه بزرگداشت سعدی شرکت می‌کنم.

(۲) شرح حال بزرگان ادب را دارم می‌نویسم.

(۳) بهتر است، هرچه زودتر به کلاس درس بروم.

(۴) درباره اتفاق دیروز، برای دوستانم داشتم سخن می‌گفتم.

پاسخ: واژه «دارم می‌نویسم» مضارع مستمر می‌باشد. پس گزینه ۲ صحیح است.

۲. آرایه شاخص بیت زیر، کدام است؟

گلستان کند آتشی بر خلیل      گروهی بر آتش برد زآب نیل

(۱) تشبیه      (۲) تمثیل      (۳) تلمیح      (۴) تضمین

پاسخ: گزینه ۳ صحیح می‌باشد تلمیح: یعنی در عبارت یا بیت اشاره ای به حدیث، آیه و یا

روایتی داشته باشیم که در اینجا به شکافتن رود نیل توسط موسی (ع) اشاره شده است.

۳. در عبارت زیر، «ورد» به کدام معناست؟

در فصل ربیع که صولت برد آرمیده بود و ایام دولت ورد رسیده

(۱) اردبیهشت      (۲) فروردین      (۳) کل سرخ      (۴) دعا

پاسخ: گزینه ۳ صحیح می‌باشد.



۴. معنی واژه های «سائل و درج» به ترتیب کدام اند؟

(۱) گدا، صندوقچه (۲) پرسنده، درجه دار

(۳) گدا، درجه بندی (۴) سعی کننده، صندوقچه

پاسخ: گزینه ۱ صحیح می باشد. سائل در لغت به معنای فقیر، گدا، متکدی و درج به معنای صندوقچه جواهرات می باشد.

۵. معنی واژه های «مقدم و انوشه» به ترتیب کدام است؟

(۱) قدم نهادن، ماندگار (۲) باز آمدن از سفر، جاوید

(۳) پیش افتاده، باقی (۴) وقت آمدن، باقیمانده

پاسخ: گزینه ۲ صحیح می باشد معنای واژگان مقدم و انوشه به ترتیب باز آمدن از سفر و جاوید می باشد.

۶. معنی واژه های «امارت، تمکین، زاد، لوا»، به ترتیب در کدام مورد، درست آمده است؟

(۱) آباد کردن، بزرگداشت، زیاد بودن، درفش

(۲) پادشاهی، جا و مکان، تولد، علم

(۳) حکومت، احترام، توشه، پرچم

(۴) سلطنت، محل اقامت، زیادی، سایه

پاسخ: گزینه ۳ صحیح می‌باشد. در لغت، امارت: حکومت، قلمروی پادشاهی، تمکین: پیروی کردن، احترام، توشه: توشه، خوراک؛ لوا: پرچم، بیرق معنا شده است.

۷. مفهوم «شهادت پله عروج مردان حق است» از کدام بیت دریافت می‌شود؟

- (۱) هر سری در خور اقبال کلاهی دارد      سایه دار فنا تاج سر مردان است
- (۲) در عشق اگر دمی قرارت باشد      با صحبت این و آن چه کارت باشد
- (۳) سخن سرا شود چون بریده شد سر او      اگر چه هیچ سخن سر بریده نسراید
- (۴) پاکدل را زیان به تن نرسد      ور رسد جز به پیرهن نرسد
- پاسخ: گزینه ۱ صحیح می‌باشد. مفهوم این جمله از بیت اول که از آثار صائب تبریزی می‌باشد دریافت می‌گردد.

۸. در بیت زیر معنای «دم در کشیدن» کدام است؟

- ” مرا مگوی که خاموش و دم در کش      که در چمن نتوان یافت مرغ را خاموش ”
- (۱) فراموش کردن      (۲) صبور بودن      (۳) سکوت کردن      (۴) بیقراری نکردن
- پاسخ: گزینه ۳ صحیح می‌باشد. دم در کشیدن به معنای سکوت کردن ساکت شدن خاموش گشتن می‌باشد.

۹. منظومه «مروارید مهر» از سروده های کیست؟

(۱) سهراب سپهری (۲) رهی معیری (۳) حمید سبزواری (۴) فریدون مشیری

پاسخ: گزینه ۴ صحیح می باشد. منظومه مروارید مهر از آثار فریدون مشیری می باشد.

۱۰. از نظر نگارش فارسی، به کار بردن کدام کلمه، درست است؟

(۱) پیشنهادات (۲) تاثیرات (۳) فرمایشات (۴) گزارشات

پاسخ: گزینه ۲ صحیح می باشد کلمات پیشنهاد، فرمایش و گزارش که فارسی هستند برای جمع بستند نباید با «ات» جمع شوند ولی تاثیر چون کلمه ای عربی است و از ریشه اثر می باشد می تواند با «ات» جمع شود.

۱۱. آرایه های بیت زیر کدامند؟

یک عمر همچو غنچه در این بوستان سرا  
خون خورده ایم تا گره از دل گشاده ایم

(۱) تشبیه - استعاره (۲) تشبیه - تلمیح

(۳) کنایه - ابهام (۴) استعاره - تلمیح

پاسخ: گزینه ۱ صحیح می باشد. «بوستان سرا» استعاره از دنیا است. ۲- تشبیه انسان به غنچه «یم» (ما) در «خورده ایم» مشبه و «غنچه» مشبه به است؛ ۳- خون خوردن کنایه از تحمل رنج

و سختی بسیار و گره از دل گشادن کنایه از برطرف کردن مشکلات است. ۴- مراعات نظیر بین غنچه و بوستان.

۱۲. اگر بیت زیر، اولین بیت از یک شعر ده بیتی باشد، آن شعر در کدام قالب سروده شده است؟

آب حیات من است خاک سرکوی دوست      گردو جهان خرمی است ما و غم روی دوست

(۱) قطعه      (۲) مثنوی      (۳) قصیده      (۴) غزل

پاسخ: گزینه ۴ صحیح می‌باشد در ادب فارسی به قالبی از شعر سنتی فارسی غزل می‌گویند. در قالب غزل که معمولاً بین ۵ تا ۱۴ بیت دارد، مصراع‌های نخست با مصراع‌های زوج هم قافیه هستند. موضوع اصلی غزل بیان عواطف و احساسات، ذکر زیبایی و کمال معشوق و شکوه از روزگار است و ابیات غزل فارسی از لحاظ مضمون دارای استقلال‌اند.

۱۳. در کدام گروه کلمه، غلط املایی وجود دارد؟

(۱) هرم آفتاب - بخت‌ر و خودخواهی      (۲) نسیان و غفلت - فلق و شفق

(۳) غمین و محزون - آراسته و متین      (۴) قرب و بُعد - جذر و مدّ

پاسخ: گزینه ۴ صحیح می‌باشد. املا صحیح واژه جذرومد، جزرومد می‌باشد.

۱۴. معنای کلمات «تفرغ - سخته» در کدام گزینه صحیح است؟

(۱) پرداختن از کاری - سنجیده      (۲) جدایی - نسنجیده

۳) پراکنده شدن - سنجیده گفتن

۴) واپرداختن - آسودگی

پاسخ: گزینه ۱ صحیح می‌باشد معنای کلمات تفرغ و سخته در لغت به ترتیب به معنای: از کاری فارغ شدن؛ دست از کار کشیدن و سنجیده و وزن شده می‌باشد.

۱۵. برای جدا کردن جمله‌هایی که از جهت ساختمان و مفهوم، مستقل به نظر می‌رسند؛ ولی در یک عبارت طولانی، با یکدیگر وابستگی معنایی دارند، از کدام علامت نگارشی استفاده می‌شود؟

۱) خط فاصله      ۲) ویرگول      ۳) نقطه ویرگول      ۴) سه نقطه

پاسخ: گزینه ۳ صحیح می‌باشد. نشانه نقطه ویرگول، نشانه مکثی بیشتر از ویرگول و کمتر از نقطه است. و برای جدا کردن جمله‌هایی که از جهت ساختمان و مفهوم، مستقل به نظر می‌رسند.

۱۶. مفهوم کنایی «سیر را از گرسنه چه غم» در کدام بیت نهفته شده است؟

۱) ما عبث در سینه دریا نفس را سوختیم      گوهر مقصود در دامان ساحل بوده است

۲) جان و هر چه در او هست با نعیم بهشت      نه نعمتی است که باز آورد فقیر از دوست

۳) ملامت گوی عاشق را چه گوید مردم دانا؟      که حال غرقه در دریا ندارد خفته بر ساحل

۴) ستایش سرایان نه یار تواند      ملامت کنان دوستدار تواند

پاسخ: گزینه ۳ صحیح می‌باشد. با توجه به معنای بیت سوم خواهیم دید که کنایه از غفلت مردمان مرفه از حال مردمان زیردست و فقیر می‌باشد.

۱۷. داستان «دیوار» از آثار مشهور کدام نویسنده معاصر است؟

۱) صادق چوبک

۲) جمال میرصادقی

۳) صادق هدایت

۴) تقی پورنامداریان

پاسخ: گزینه ۳ صحیح می‌باشد. داستان دیوار از آثار صادق هدایت می‌باشد.

۱۸. بیت زیر، با کدام عبارت قرابت مفهومی دارد؟

کریمان را به دست اندر دم نیست      خداوندان نعمت را کرم نیست

۱) آن که بردینار دسترس ندارد، در همه دنیا کس ندارد

۲) عالم بی عمل درخت بی بر است و زاهد بی علم خانه، بی در

۳) درویش را دست قدرت بسته است و توانگر را پای ارادت شکسته

۴) تلمیذ بی ادراک عاشق بی زراست و رونده، بی معرفت مر بی پر

پاسخ: گزینه ۳ صحیح می‌باشد. معنای بیت و گزینه سوم هر دو به این موضوع اشاره دارد که: بخشندگان پولی در دست ندارند و ثروتمندان بخششی ندارند.

۱۹. مصراع «رنگ رخسار خبر می دهد از سر ضمیر» با کدام بیت قرابت مفهومی دارد؟

- (۱) نیکم نظر افتاد بر آن منظر مطبوع / کاول نظرم هر چه وجود از نظر افتاد
  - (۲) در سوخته پنهان نتوان داشتن آتش / ما هیچ نگفتیم و حکایت به درافتاد
  - (۳) با هر که خبر گفتم از اوصاف جمیل / مشتاق چنان شد که چو من بی خبر افتاد
  - (۴) صاحب نظران این نفس گرم چو آتش / دانند که در خرمن من بیشتر افتاد
- پاسخ: گزینه ۲ صحیح می باشد.

۲۰. در بیت زیر به ترتیب «ایهام و ایهام تناسب» کدام است؟

” نوای نغمه ی عشاق از اصفهان چه خوش آید / مرا که میل عراقست و شاهدان عراقی ”

- (۱) نوا - اصفهان
- (۲) عشاق - اصفهان
- (۳) عشاق - نوا
- (۴) نغمه - شاهد

پاسخ: گزینه ۳ صحیح می باشد.

۲۱. در متن زیر املائی کدام واژه غلط است؟

”تا دفع مضرت خصم به نعمت می توان کرد، خصومت روا نباشد که خون از مال شریف تر، مصاف وقتی روا باشد که تدبیر و حزم دیگر نماند. به حزیمت پشت دادن به که با شمشیر مشت زدن“

(۱) حزیمت (۲) حزم (۳) مصاف (۴) مضرت

پاسخ: گزینه ۱ صحیح می باشد. املائی صحیح حزیمت، هزیمت می باشد که به معنای شکست و پراکندگی لشکر می باشد.

۲۲. در کدام عبارت غلط املائی وجود دارد؟

(۱) صحرا که معرکه و حوش و طیور را بر بساطی شده

(۲) خارکنی را دیدم گفتمش به مهمانی حاتم چرا نیروی که خلقی بر بساط او گرد آمده اند

(۳) او چون سورت آن شیران و صولت آن دلبران مشاهده کرد انگشت ندامت گزیدن گرفت

(۴) عابدان جزای طاعت خواهند و بازرگانان بهای بظاعت من بنده امید آورده ام نه طاعت و بدریوزه آمده ام نه به تجارت

پاسخ: گزینه ۴ صحیح می باشد. در گزینه چهارم واژه بظاعت غلط بوده و املائی صحیح آن «بضاعت» می باشد.

۲۳. مفهوم بیت زیر با کدام بیت تناسب دارد؟

«که گفته در رخ زیبا نظر خطا باشد / خطا بود که نیند روی زیبا را»



- (۱) پیر دردی کش ما گرچه ندارد زر و زور / خوش عتاببخش و خطاپوش خدایی دارد
- (۲) ای که گفتمی نه صواب است نظر به رخ خوبان / از صواب اهل نظر باز شناسد خطا را
- (۳) ما چون نشانه پای به گل در بمانده ایم / خصم آن حریف نیست که تیرش خطا رود
- (۴) خطای بنده نگیری که مهتران ملوک / شنیده اند نصیحت ز کهتران خدم
- پاسخ: گزینه ۲ صحیح می‌باشد.

۲۴. آرایه های بیت زیر کدامند؟

” کاکل مشک فشان بر مه شب پوش مپوش سنبل غالیه سا بر گل خود روی مسای ”

- (۱) تشبیه، حسن تعلیل
- (۲) استعاره، واج آرایه
- (۳) جناس، تلمیح
- (۴) مجاز، حسن تعادل
- پاسخ: گزینه ۲ صحیح می‌باشد. آرایه های استعاره و واج آرایه در بیت مورد نظر بکار رفته اند.

۲۵. کدام عبارت، فاقد غلط نگارشی است؟

- (۱) مس سر و پا از اعمال وضو است.
- (۲) او روز گذشته از طرف خود استیفا داد.

۳) عدّه ای با خرید نان بیش از حد افراط می کنند.

۴) همه بچه های کلاس به او احسن گفتند.

پاسخ: گزینه ۳ صحیح می باشد. کلمات مسح، استعفا و احسن به ترتیب در گزینه های ۱،

۲ و ۴ دارای غلط نگارشی می باشند.

۲۶. کدام واژه ها «صفت نسبی» هستند؟

۱) زیبایی-خواب آلوده

۲) گذشته - فراموشکار

۳) گل اندود - آبدیده

۴) آسمانی - دروغین

پاسخ: گزینه ۴ صحیح می باشد. صفت نسبی آن است که نسبت به چیزی یا محلی را برساند

و علامت های آن عبارت است از:

۱- «ی» در آخر کلمه مانند: آسمانی، زمینی، آتشی، هوایی، خاکی، پارسی، اصفهانی،

نیشابوری «ی» نسبت همواره به مفرد پیوسته می شود و کلماتی از قبیل: کاوبانی، خسروانی،

کیانی، پهلوانی، نادر است و بر آن قیاس نمی توان کرد.

۲- «ه» مخفی و غیرملفوظ: دوروزه، یکشنبه، یکساله، صده، دهه، هزاره و این «ه» غالباً در

ترکیبات عددی استعمال می شود؛ و گاهی تنهایی در غیر این مورد استعمال شده است، مثل:

نبرده

۳- «ین» و این در آخر اسم ها درمی آید: سفالین، جوین، گندمین، بلورین، گلین؛ و گاهی

این ادات را با «ه» جمع می کنند و در آخر کلمه می آورند: بلورینه، زرینه، سیمینه، پشمینه

۴- «گان» مانند: گروگان، پدرگان

۲۷. بیت زیر فاقد کدام آرایه ی ادبی است؟

”دست از مس وجود چومردان ره بشوی/ تا کیمیای عشق بیایی و زر شوی“

(۱) تشبیه (۲) کنایه (۳) استعاره (۴) ایهام

پاسخ: گزینه صحیح می باشد.

۲۸. کدام عبارت به ویرایش نیاز دارد؟

(۱) هنر، آدمی را به شناخت، چشمه زیبایی ها فرا می خواند.

(۲) از فرمایشات جناب عالی در طول سال، بسیار بهره بردیم.

(۳) نوع بیماری پس از تحقیقات و آزمایش های متعدد، شناخته شد.

(۴) گاهی که دوست فاضلی را می بینم از او برای همکاری، شخصا دعوت می کنم.

پاسخ: گزینه ۴ صحیح می باشد.

۲۹. کتاب «در خدمت و خیانت روشنفکران» اثر کیست؟

(۱) صادق هدایت (۲) زرین کوب

(۳) ملک الشعرای بهار (۴) جلال آل احمد

پاسخ: گزینه ۴ صحیح می‌باشد. کتاب «در خدمت و خیانت روشنفکران» کتابی از جلال آل احمد است که در سال ۱۳۴۳ نوشته شد و نخستین بار در سال ۱۳۵۸ شمسی منتشر گردید.

۳۰. معنی واژه های «ساری - شاذ» به ترتیب کدام است؟

- (۱) بانشاط - تیز  
(۲) نفوذ کننده - نادر  
(۳) مسرور - طرب جوی  
(۴) سروری - تیزی

پاسخ: معنی لغات ساری و شاذ به ترتیب نفوذ کننده و نادر می‌باشد. پس گزینه ۲ صحیح است.

۳۱. در بیت زیر، معنای «صدزبان» کدام است؟

«صاحب سری عزیزی صدزبان / گر بدی آنجا بداری صلحشان»

- (۱) معترض و گله مند  
(۲) سخن چین و حراف  
(۳) فصیح و بلیغ  
(۴) فتنه انگیز و جاسوسی

پاسخ: واژه " صدزبان " به معنای فصیح و بلیغ می‌باشد. پس گزینه ۳ صحیح است.

۳۲. کدام بیت فاقد آرایه پارادوکس (متناقض نما) است؟

- (۱) اگر پنهان بود پیدا من آن پیدای پنهانم / و گر نادان بود دانا من آن دانای نادانم  
(۲) من آن هشیار سرمستم که نبود بی قدح دستم / نگویم نیستم هستم بلی هم این و هم آنم  
(۳) ز معنی نیستم خالی بهر صورت که می‌بینم / بصورت نیستم مایل بهر معنی که می‌دانم

۴) برو از کفر و دین بگذر مرا از کفر دین مشمر / که هم ایمان من کفرست و هم کفرست ایمانم  
 پاسخ: گزینه ۳ صحیح می‌باشد. متناقض‌نما یا تناقض‌ظاهری آوردن دو واژه یا دو معنی  
 که به ظاهر متناقض و متضاد به نظر می‌رسند مانند: غم شیرین، جک جلدی. در تمامی گزینه  
 ها به جز گزینه سوم این آرایه بکار رفته است. ”پیدای پنهان”، ”هشیار سرمست”، ”کفر  
 دین”

۳۳. کدام بیت، دارای آرایه متناقض‌نما (پارادوکس) است؟

- ۱) شادی ندارد آنکه ندارد به دل غمی
  - ۲) کی شود این روان من ساکن
  - ۳) ز خاک من اگر گندم بر آید
  - ۴) بشوی ای خردمند از آن دوستدست
- آن را که نیست عالم غم نیست عالمی  
 این چنین ساکن روان که منم  
 از آن گرنان پزی مستی فزاید  
 که با دشمنانت بود هم نشست

پاسخ: گزینه ۲ صحیح می‌باشد. متناقض‌نما یا تناقض‌ظاهری آوردن دو واژه یا دو معنی که  
 به ظاهر متناقض و متضاد به نظر می‌رسند مانند: ساکن روان.

۳۴. داستان «گاو» و «جزیره سرگردانی»، به ترتیب از آثار کدام یک از نویسندگان بزرگ  
 است؟

- ۱) صادق هدایت-غلام حسین یوسفی
- ۲) غلام حسین ساعدی-سیمین دانشور
- ۳) صادق هدایت-جلال آل احمد
- ۴) صادق چوبک-سیمین دانشور

پاسخ: گزینه ۲ صحیح می‌باشد. داستان گاو نوشته غلامحسین ساعدی می‌باشد و جزیره سرگردانی نام رمانی نوشته خانم سیمین دانشور است که در سال ۱۳۷۲ از سوی انتشارات خوارزمی در تهران به چاپ رسیده است.

۳۵. کدام عبارت، فاقد حشو (تکرار زاید) است؟

(۱) دکتر محمد معین، در سن پنجاه سالگی بدرود حیات گفت.

(۲) آخرین مسابقه فینال را در خانه دوستم مشاهده کردم.

(۳) در شب لیلة القدر، دو رکعت نماز حاجات به جای آوردم.

(۴) کودک، با کوشش فراوان، بوته ذرت را از زمین کند.

پاسخ: گزینه ۴ صحیح می‌باشد. در دستور زبان حشو به کلمه یا عبارت زایدی گفته می‌شود که جمله از جهت معنی به آن نیازی ندارد و تعادل لفظ و معنی را در جمله به هم می‌زند و گاه می‌تواند باعث فساد معنی شود. مانند واژه ی «سن» در عبارت اول، «آخرین مسابقه» در عبارت دوم و «دو رکعت» در عبارت سوم.

۳۶. کدام اثر، از ملك الشعرى بهار است؟

(۲) تصحیح کلیات سعدی

(۱) شرح مثنوی مولوی

(۴) سبک شناسی

(۳) تصحیح جوامع الحکایات

پاسخ: گزینه ۴ صحیح می‌باشد سبک‌شناسی یا تاریخ تطوّر نثر فارسی نام مجموعه کتابی است که محمدتقی بهار، شاعر، نویسنده و روزنامه‌نگار معاصر، آن را در سه جلد تدوین کرد.

۳۷. مفهوم کنایی «کلاه از سر کودک عقل می‌افتد» چیست؟

- (۱) حسرت خوردن عقل  
(۲) تحیر و سرگشتگی خرد  
(۳) بازماندن خردسال از تعقل  
(۴) برحذر بودن خردمند از کودک
- پاسخ: گزینه ۲ صحیح می‌باشد. همانطور که در درس چهاردهم ادبیات پیش دانشگاهی خواندیم «کلاه از سر کودک عقل می‌افتد»، یعنی عقل در برابر عظمت تو عاجز و حیران می‌شود. و در واقع همان معنای تحیر و سرگشتگی خرد را می‌رساند.

۳۸. با توجه به بیت زیر کدام واژه معنای «ایهامی» دارد؟

” گفتم غم تو دارم، گفتا غمت سر آید      گفتم که ماه من شو، گفتا اگر بر آید ”

- (۱) ماه      (۲) غم      (۳) سر آید      (۴) بر آید

پاسخ: گزینه ۱ صحیح می‌باشد.

۳۹. دفتر شعری و ادبی «تو را ای کهن بوم و بر دوست دارم» سروده کدام شاعر معاصر است؟

- (۱) اخوان ثالث      (۲) سلمان هراتی

۳) شفیع کدکنی

۴) هوشنگ ابتهاج

پاسخ: گزینه ۱ صحیح می‌باشد. دفتر شعری و ادبی «تو را ای کهن بوم و بر دوست دارم» سروده مهدی اخوان ثالث می‌باشد.

۴۰. کدام اثر، از آثار «فریدون مشیری» است؟

۱) آه باران

۲) سوت دلان

۳) کرامت آبی

۴) از این اوستا

پاسخ: مجموعه آه باران از آثار فریدون مشیری می‌باشد که در سال ۱۳۶۷ منتشر شد. پس گزینه ۱ صحیح است.

۴۱. معنی واژه های «صفیر- عظت»، به ترتیب چیست؟

۱) بانگ و صدا - پند دادن

۲) فرستاده- نصیحت کردن

۳) فغان و فرساد- بزرگ شمردن

۴) فرستاده - عظیم دانستن

پاسخ: گزینه ۱ صحیح می‌باشد معنای واژه های «صفیر- عظت» به ترتیب بانگ، صدا، آوا - پند دادن نصیحت کردن می‌باشد.

۴۲. عبارت «پروردگارا، از خصلت طمع که دنائت آورد و آبرو ببرد، به درگاه تو پناه می‌آورم» با کدام بیت، قرابت مفهومی دارد؟

۱) دست طمع چو پیش کسان می‌کنی دراز / پل بسته ای که بگذری از آبروی خویش



۲) عدل سلطان گر نپرسد حال مظلومان خویش / گوشه گیران را ز آسایش طمع باید گسیخت

۳) پیش راه حرص پیری چوب نتواند گذاشت / بیشتر دست طمعکار از عصا گردد بلند

۴) طمع در آن لب شیرین نکردم اولی است / ولی چگونه مگس از پی شکر نرود

پاسخ: گزینه ۱ صحیح می‌باشد. بیت اول با عبارت مورد نظر به لحاظ مفهوم نزدیک می‌باشند.

۴۳. بیت «افتادگی آموز اگر طالب فیضی هرگز نخورد آب، زمینی که بلند است» با کدام بیت ارتباط مفهومی دارد؟

۱) صبوری کن در این غم روز کی چند نماند هیچ کس جاوید در بند

۲) افسری کان نه دین نهد بر سر خواهش افسر شمار و خواه افسار

۳) افکنده همچو سفره مباش برای نان همچو تور گرم مشوازی پی شکم

۴) مضمون سرنوشت دو عالم جز این نبود آن سر که خاک شد به ره از آسمان گذشت

پاسخ: گزینه ۴ صحیح می‌باشد. بیت مورد نظر با گزینه چهارم به لحاظ مفهوم ارتباط دارد چرا که هر دو در مدح فروتنی، خشوع و افتادگی صحبت می‌کنند.

۴۴. کدام اثر از «آلبر کامو» است؟

۱) محاکمه      ۲) سوء تفاهم      ۳) وداع با اسحله      ۴) مسخ

پاسخ: گزینه ۲ صحیح می‌باشد سوء تفاهم نمایشنامه‌ای است که در سال ۱۹۴۳ توسط آلبر کامو نوشته شده است.

۴۵. «شهری چون بهشت - نفرین زمین»، به ترتیب از آثار چه کسانی است؟

- ۱) سیمین دانشور - جلال آل احمد  
 ۲) جلال آل احمد - صادق چوبک  
 ۳) سیمین دانشور - جمال میرصادقی  
 ۴) جمال زاده - صادق هدایت

پاسخ: گزینه ۱ صحیح می‌باشد. «شهری چون بهشت - نفرین زمین» به ترتیب از آثار سیمین دانشور، جلال آل احمد می‌باشند.

۴۶. در کدام بیت آرایه «پارادوکس» مشهود است؟

- ۱) آن که روی دوست دید او را به کفر و دین چه کار / وان که مست عشق گشت از باده و جامش بگو مگو  
 ۲) ورق تا نگردانده باد خزان / غنیمت شمر نو بهار جوانی  
 ۳) چرخ مردم خوار اگر روزی دو مردم پرورست / نیست از شفقت مگر پروازی او لاغرست  
 ۴) همین که چشم تو صف های غمزه بر هم زد / نخست قلب سلیم شکستگان بشکست

پاسخ: گزینه ۳ صحیح می‌باشد. متناقض نما یا پارادوکس آوردن دو واژه یا دو معنی که به ظاهر متناقض و متضاد به نظر می‌رسند مانند: غم شیرین. که اینجا در بیت سوم کلمات پرور (به معنای چاق و فربه) و لاغر در بیت آمده است.

۴۷. کدام عبارت فاقد عیب نگارشی است؟

- (۱) در بین دوستان، محمد از نظر علمی، اعلم تر است.
  - (۲) خانم مدیره محترمه، در جلسه حضور بهم رسانید.
  - (۳) مبارزه برای آزادی، پیشینه تاریخی دارد.
  - (۴) روز جمعه، تلفناً از دوستم دلجویی کردم.
- پاسخ: گزینه ۱ صحیح می‌باشد.

۴۸. با توجه به بیت زیر، معنی کلمات «تا-نوا»، به ترتیب کدام است؟

تا لشکر غمت نکند ملک دل خراب جان عزیز خود به نوا می فرستمت

- (۱) آگاه باش - شعر و غزل
  - (۲) برای اینکه - آواز
  - (۳) تا وقتی که - گروگان
  - (۴) برای اینکه - گروگان
- پاسخ: گزینه ۴ صحیح می‌باشد. معنی بیت: برای اینکه لشکر غم تو کشور دلم ویران نکند، جان عزیز خود را به عنوان گروگان برایت می فرستم.

۴۹. «برکشیدن»، در عبارت زیر به کدام معناست؟

«یعقوب آن قوم را که بدو تقرب کرده بودند، فرو گرفت و هرچه داشتند بستند و براند و این سر برکشید و اعتمادها کرد در اسباب ملک»

(۲) به پایگاه بلند رسانید

(۱) زندانی نمود

(۴) احضار کرد

(۳) اعدام کرد

پاسخ: گزینه ۳ صحیح می باشد.

۵۰. در ذکر عنوان مقاله ها، رساله ها، اشعار، روزنامه ها، آثار هنری و بخش های مختلف یک کتاب یا نوشته معمولاً از کدام عبارت نگارشی استفاده می شود؟

(۴) قلاب

(۳) ستاره

(۲) خط فاصله

(۱) گیومه

پاسخ: گزینه ۱ صحیح می باشد. گیومه (») نمادی در نشانه گذاری است که برای دو منظور به کار می رود: سخنی که به طور مستقیم از جایی یا کسی نقل شود (نقل قول مستقیم). اسم ها، لغات و واژگان خاص، عنوان ها، اصطلاحات فنی و یا علمی (فقط برای بار اول).



# اصل سوالات

سازمان سنجش آموزش کشور

زبان انگلیسی

1-As a teacher , if you take the time to understand your students, what motivates them, and their challenges , you .....in a much better positions and much successful.

1) being            2) were            3) have been            4) will be

- پاسخ: گزینه ۴ صحیح می باشد ترجمه سوال: بعنوان یک معلم اگر فرصتی برای فهمیدن انگیزه و علاقه دانش آموزان خود قرار بدهید، شما برای دستیابی به موفقیت، در موقعیت بهتری قرار خواهید گرفت.

2-Not everyone who takes piano lessons becomes a fine musician which shows that music requires innate talent .....training.

1) as well as    2) also    3) additionally    4) including

- پاسخ: گزینه ۱ صحیح می باشد ترجمه سوال: همه افرادی که کلاس پیانو میرن نوازنده خوبی نمیشن و به این معنی که موسیقی علاوه بر تمرین، به استعداد ذاتی هم نیاز دارد. (گزینه یک به معنای علاوه بر)

3-There ..... be someone at home; I can hear voices in the living room.

1) will            2) must            3) shall            4) would

- پاسخ: گزینه ۲ صحیح می باشد ترجمه سوال: باید شخصی داخل خانه باشد، صدایی در اتاق نشیمن می شنوم گزینه دوم به معنای باید، قطعاً (برای قطعیت بخشیدن به شنیدن صدا عنوان شده)

4- I was very angry ..... myself for making such a stupid mistake in the exam.

1) for            2) about            3) against            4) with

- پاسخ: گزینه ۴ صحیح می باشد ترجمه سوال: من خیلی عصبانی بودم برای انجام چنین اشتباه احمقانه‌ای در آزمون. بعد از angry (به معنای عصبانی) حرف اضافه with قرار می گیرد.

5-the little boy who fell into the river couldn't swim, therefore a man jumped in the water and ..... the child.

- 1) throw      2) proved      3) saved      4) accessed

- پاسخ: گزینه ۳ صحیح می باشد ترجمه: بچه ای که تو رودخانه افتاده بود نتوانست شنا کند، بنابراین مردی در رودخانه پرید و بچه را نجات داد.

6-studies have shown that workers of various ages doing overtime can .....chronic stress,and mental illness.

- 1) suffer      2) annoy      3) bother      4) damage

- پاسخ: گزینه ۱ صحیح می باشد تحقیقات نشان داده کارگرانی که درسین مختلف اضافه کاری انجام دادن میتوانند از استرس مزمن و بیماری روانی رنج ببرند.

7-people , even those unfamiliar with one another , tend to gather together in times of .....

- 1) embarrassment      2) emergency  
3) emotion      4) sophistication

- پاسخ: گزینه ۲ صحیح می باشد مردم، حتی آنهایی که با هم غریبه هستند در مواقع اضطراری (بحرانی) تمایل به کنار هم بودن دارند.





scores on a standardized test of learning. By welcoming and encouraging students to raise their own questions about the content or claims being discussed, the teachers could guide students to develop habits of mind for framing and answering questions. therefore, when a teacher creates a climate of respect in the classroom and encourages students to generate their own ideas involving scientific ways of thinking, students are more likely to think deeply and persist in the face of challenges.

### 9-What does the passage mainly discuss ?

- 1) The results of a study investigating the effects of teacher's behavior on student's academic achievement
- 2) Reasons why some students get high scores on a standardized test of learning
- 3) teachers-student relationship and their effect on students learning
- 4) ways to develop positive relationship in classroom environments

- پاسخ: گزینه ۳ صحیح می باشد ترجمه سوال: متن عمدتاً در مورد چی بحث میکنه؟ گزینه سوم صحیح می باشد: روابط معلم و دانش آموز و تاثیر آن بر یادگیری دانش آموز

### 10-What does the word "them" in paragraph 2 refer to ..... ?

- 1) teachers
- 2) needs
- 3) students
- 4) scores

- پاسخ: گزینه ۳ صحیح می باشد کلمه them به دانش آموزان اشاره می کند.

11-All of the following are mentioned in the passage as results of a teacher-student relationship EXCEPT .....

- 1) teachers developing habits of mind
- 2) students performing better
- 3) students feeling safe and secure
- 4) teachers feeling healthy and happy

• پاسخ: گزینه ۱ صحیح می باشد ترجمه سوال: همه موارد زیر در متن به عنوان نتایج خوب رابطه معلم، دانش آموز ذکر شده اند به جز؟ که پاسخ گزینه اول می باشد، توسعه عادات ذهنی معلمان

12-why does the author refer to the study conducted by Jefferson?

- 1) to present an example of positive classroom atmosphere
- 2) to give support to the claims made in the first paragraph
- 3) to describe how a teacher can create a friendly classroom atmosphere
- 4) to inform teachers of the new classroom management theories.

• پاسخ: گزینه 2 صحیح می باشد ترجمه سوال: چرانویسنده به تحقیق جفرسون اشاره می کند؟ جواب گزینه دوم: برای حمایت از ادعاهای مطرح شده در پاراگراف اول

13- Scientists have set up so many experiments to ..... How earthquakes happen.

- 1) Tend
- 2) Solve

3) Find out

4) Keep

- پاسخ: گزینه ۳ صحیح می‌باشد. دانشمندان آزمایش‌های فراوانی را برای یافتن نحوه وقوع زلزله انجام دادند.

14 – Moslems ..... Their shoes whenever they want to enter a mosque.

1) Keep on

2) Take off

3) Put on

4) Turn off

- پاسخ: گزینه ۲ صحیح می‌باشد. مسلمانان هنگام ورود به یک مسجد کفش‌هایشان را در می‌آورند.

15- Before anyone could photograph the strange looking bird, ....

1) It was flying away

2) It has flown away

3) It had been flying away

4) It flew away

- پاسخ: گزینه ۴ صحیح می‌باشد. قبل از اینکه کسی بتواند عکس پرنده عجیب را بگیرد، پرواز کرد و رفت.

16- ....., follow the directions on the bottle carefully.

1) When taking drugs

2) When one takes drugs

3) When in taking drugs

4) When taken drugs

- پاسخ: گزینه ۱ صحیح است. هنگام مصرف دارو، دستور العمل روی بطری را با دقت دنبال کنید.



3) possibility

4) possible it

- پاسخ: گزینه ۱ صحیح می باشد. کامپیوترها هزینه جمع آوری، ذخیره و گزارش اطلاعات حسابداری مدیریتی را پایین آورده اند و امکان تهیه یک گزارش از همه اطلاعاتی که در هر سیستمی موجود است را بوجود آورده اند.

20-... as a “co-op”, a cooperative is a limited liability business that can organize for –profit or not-for profit.

1) Referring to it often

2) It is often referred to

3) Often to be referred to

4) Often referred to

- پاسخ: گزینه ۴ صحیح می باشد. اغلب به عنوان «CO-OP» به آن اشاره میشود، یک تعاونی یک کسب و کار با مسئولیت محدود است که میتواند بصورت انتفاعی یا غیر انتفاعی سازماندهی شود.

21-Many businesses are operated through a separate ----- such as a corporation or a partnership (either formed with or without limited liability) .

1) function

2) entity

3) pioneer

4) union

- پاسخ: گزینه ۲ صحیح می باشد. بسیاری از کسب و کارها از طریق یک موجودیت جداگانه مانند یک بنگاه یا یک شراکت اداره میشوند (تشکیل شده با، یا بدون مسئولیت محدود)

22-Variou regulatory schemes control how commerce is -----  
- particularly vis-à-vis employees and customers.

1) conducted

2) purchased

3) transmitted

4) resulted

- پاسخ: گزینه ۱ صحیح می‌باشد. طرح‌های مختلف نظارت چگونه اداره شدن تجارت را کنترل میکنند بخصوص در رابطه با کارمندان و مشتریان. (vis-à-vis یک عبارت فرانسوی است به معنی در رابطه با، در مقابل با)

23-By about 1900 one finds managers trying to place their theories on what they ----- as a thoroughly scientific basis.

1) involved  
reasoned

2) issued

3) regarded 4)

- پاسخ: گزینه ۳ صحیح می‌باشد. حدود سال ۱۹۰۰ مدیرانی را می‌یابد که تلاش میکردند تئوری‌های خود را بعنوان مواردی که آنها با پایه کاملاً علمی در نظر میگرفتند قرار دهند.

24-What is the best way to get customer -----? The first answer must be to give good overall service.

1) super vision

2) loyalty

3) profit

4) discount

- پاسخ: گزینه ۲ صحیح می‌باشد. بهترین راه برای دستیابی به مشتریان وفادار چیست؟ اولین پاسخ باید ارائه یک سرویس خوب باشد.

25-Tracking the progress of what is done by each worker in a typical day is becoming increasingly ----- as organizations grow, both internally (growing employee numbers, responsibilities) and externally (multiple locations, remote employees).



“Pay and benefits have got to be at a minimum level, and then you’re on to other things,” Foley said. “You want to know you can develop, have a sense of accomplishment, feel like you’re making a difference.”

Many of the companies that took part in the Post-Dispatch survey are relatively white-collar, but the same concerns about development and dignity are seen across the spectrum of business. When local fast-food workers launched a one-day strike last month, their complaints were as much about working conditions and treatment by supervisors as they were about higher wages.

That’s not surprising, Foley said. Surveys have long shown that the way people are treated at work means at least as much as their compensation. Often more.

27- The passage suggests that people who work for a company

- 1) Begin to care about working conditions when they have no financial concerns
- 2) Are more likely to go on strike when they do not have the right to behave at their work place the way they want to
- 3) Sometimes get more satisfaction from the feeling that they are valued than from the money they receive as their salary
- 4) Expect their supervisors to conduct surveys from time to time to find out how much the employees like their responsibilities

• پاسخ: گزینه ۳ صحیح می باشد.

28- the word “do” in paragraph 2 refers to -----

- 1) pay                      2) consult                      3) work                      4) matter

• پاسخ: گزینه ۴ صحیح می باشد.



29- According to the passage, Pete Foley-----

- 1) directs a group of researchers
- 2) criticizes employees who do not consult with others at their work place
- 3) believes employees will never complain if their pay and benefits are below a minimum level
- 4) was once a sad employee who became happy after the result of a survey were implemented at his work place

• پاسخ: گزینه ۱ صحیح می باشد.

30- The author mentions fast-food workers in paragraph 4 primarily in order to...

- 1) demonstrate their concern about their living conditions
- 2) generalize the main point of the passage to workers other than white-collar employees
- 3) emphasize the adoption of strategies intended to prevent any unrest in business companies
- 4) illustrate a case in which the findings of the Post-Dispatch survey cannot be used to analyze the employer-employee relationship

• پاسخ: گزینه ۲ صحیح می باشد.

31- Which of the following is most related to the word "compensation" in the last line of the passage?

- |                     |                    |
|---------------------|--------------------|
| 1) Proper treatment | 2) Sympathy        |
| 3) Development      | 4) Tangible reward |

• پاسخ: گزینه ۴ صحیح می باشد.

- 1) keep all their items in one inventory

- 2) keep their inventory at local clinics
- 3) don't usually keep an inventory of their simple items
- 4) update their inventories frequently

• پاسخ: گزینه ۴ صحیح می باشد.

32- I'll be there at six ..... I get delayed

- |               |               |
|---------------|---------------|
| 1) provided   | 2) in case of |
| 3) as soon as | 4) unless     |

• پاسخ: من ساعت ۶ آنجا خواهم بود، مگر اینکه به تأخیر بخورم. پس گزینه صحیح ۴ می باشد.

33- Tim asked me ..... get him an ice cream.

- |                  |               |
|------------------|---------------|
| 1) that I could  | 2) if I could |
| 3) whether could | 4) could I    |

• پاسخ: تیم از من پرسید که آیا میتوانم برایش بستنی بگیرم. پس گزینه صحیح ۲ می باشد.

34- There was ..... money that the robber couldn't carry it all.

- |                  |             |
|------------------|-------------|
| 1) so much       | 2) too much |
| 3) only a little | 4) enough   |

- پاسخ: آنقدر پول آنجا بود، که سارق نتوانست همه‌ی آن را حمل کند. پس گزینه صحیح ۱ می‌باشد.

35 -shall we meet at seven o'clock? -No, I ..... them.

- 1) have worked                      2) will have worked  
3) will be working                  4) am working

- پاسخ: - آیا ساعت ۷ ملاقات کنیم؟ - نه من آن زمان در حال کار خواهم بود.. پس گزینه صحیح ۳ می‌باشد.

36. Laura is about ..... I am.

- 1) younger than two years              2) two years younger than  
3) younger two years than                4) two years than younger

- پاسخ: لارا حدود دو سال از من جوانتر است.. پس گزینه صحیح ۲ می‌باشد.

37. when you ..... the interview, remember to bring some sample of your work.

- 1) apply              2) achieve              3) switch              4) attend

- پاسخ: زمانی که برای مصاحبه می‌روید، بیاد داشته باشید که چند نمونه از کارتان را نیز ببرید.. پس گزینه صحیح ۴ می‌باشد.



- پاسخ: آن مرد زمانی که پاسپورت تقلبی ش در فرودگاه رویت شد بازداشت شد.. پس گزینه صحیح ۴ می باشد.

In addition to risk – taking and meticulous attention to detail and planning, stunt work requires being in top physical condition. (61) ..... there are a few training programs for stunt performance, most (62) ..... only an overview of the profession. Normally, the people (63) ..... these programs already have experience in dangerous sports, rescue works, or the military. So the best way (64) ..... for a career in stunt work is to train in an area that (65) ..... strong physical conditioning and has an element of physical danger. Martial arts, scuba diving. And wrestling are just a few example.

42- 1) For example    2) Although    3) In spite of    4) If

- پاسخ: گزینه ۱ صحیح می باشد. بطور مثال، چند دوره آموزشی برای بدلکاران وجود دارد.

43- 1) follow    2) realize    3) offer    4) engage

- پاسخ: گزینه ۳ صحیح می باشد بیشتر آن ها یک نمای کلی از این حرفه را ارائه می دهند.

44- 1) who attend    2) to be attending  
3) that they attend    4) attend

- پاسخ: گزینه ۱ صحیح می‌باشد بطور عادی، کسانی که برای یک شغل در حرفه بدلکاری اقدام می‌کنند.

45- 1) preparing                      2) to prepare  
3) prepares                              4) that prepares

- پاسخ: گزینه ۲ صحیح می‌باشد. بنابراین بهترین راه آماده شدن برای این حرفه.

46- 1) applies      2) performs      3) regards      4) involves

- پاسخ: گزینه ۴ صحیح می‌باشد این است که در رشته‌ای که توان جسمانی بالایی نیاز داشته باشد تمرین کنید.

Directions: Choose the word or phrase (1), (2), (3) or (4) that best completes each sentence. Then mark the correct choice on your answer sheet.

47-The idea of enjoying a rainy holiday seems strange to many, ..... it has definite attraction for Arab tourists from the dry Persian gulf coast.

1) in case      2) but      3) because      4) so that

- پاسخ: گزینه ۲ صحیح می‌باشد. ایده لذت بردن از تعطیلات بارانی ممکن است از نگاه بسیاری عجیب بنظر برسد اما مطمئناً برای توریستهای عرب از سواحل خشک خلیج فارس جذاب است.

48-Some people are ..... to become rich over a night by winning the lottery or playing the stock market.

- 1) lucky enough                      2) enough lucky  
3) luckily enough                    4) enough og luck

- پاسخ: گزینه ۱ صحیح می باشد. برخی از مردم آنقدر (به قدر کافی) خوش شانس هستند که یک شبه با بردن لاتاری یا بازی در بازار سهام ثروتمند شوند.

49-I'm fed up ..... the rising cost of living and the high prices of property in the city.

- 1) by                      2) at                      3) on                      4) with

- پاسخ: گزینه ۴ صحیح می باشد. من با بالا رفتن هزینه زندگی و قیمتهای بالای املاک شهر خسته شدم.

50-Most people prefer ..... by airplanes , since air travel is more convenient than traveling by trains.

- 1) be traveling                      2) that travel  
3) travel                                4) to travel

- پاسخ: گزینه ۴ صحیح می باشد. بیشتر مردم ترجیح میدهند که با هواپیما سفر کنند، از آنجاییکه سفر هوایی راحت تر از سفر با قطار است.