



کدام عدد از بقیه بزرگ تر است؟

۱. چهل میلیون و پانصد و شش هزار و شش
۲. چهل میلیون و شصت هزار
۳. چهل و یک میلیون و یک
۴. چهل میلیون و نهصد و نود و نه هزار و نه

عددهای مساوی را به هم وصل کنید.

کامل کنید

- ۳۲۵۰۰ از تا صدتایی تشکیل شده است.
- ۷۰,۰۰۰ از ۷۰ تا تشکیل شده است.
- ۵۴۰۰۰ از ۵ تا و ده هزارتایی تشکیل شده است.
- ۴۲۵۰۰ از ۴ تا و هزارتایی و ۵ تا تشکیل شده است.

عدد ۳۵ را در ۱۰۰ ضرب کنید. ارزش رقم ۵ چه تغییری می کند؟

تفریق روبه رو را چگونه انجام می دهید؟

۱ میلیارد
- ۳۰۰ میلیون

عدد زیر را به حروف بنویسید و برای آن یک مثال بزنید.

۱۱۵۹۲۴۰۰۰۰

عددهای ده هزار، صد میلیون و یک میلیارد را در جدول ارزش مکانی زیر بنویسید و به سوال های زیر پاسخ دهید.

۱. صد میلیون چند برابر ده هزار است؟

۲. یک میلیون از چند تا ده هزار ساخته شده است؟

فارسی



جاهای خالی را با یکی از نشانه های ربط کامل کنید:

۱ سبزه ها در سرمای سخت یا گرمای زیاد، پژمرده می شوند گاهی می بینم از میان سنگلاخ سردرد می آورند.

۲ به صداهای کوتاه و بلند گوش بده آفریده های ساکت خدا را بشناس.

با حروف درهم ریخته ی زیر کلمه هایی بسازید که ارزش املائی داشته باشند.



کلمه هایی را که در املائی آن ها نشانه ی «ط» وجود دارد، از متن درس اول پیدا کنید و بنویسید.

واژه های زیر را معنی کنید.

۳ تصور:

۲ درنگ:

۱ تنومند:

۶ شکوه:

۵ تالاب:

۴ سرشار:

آفریده‌های ساکت خدا کدامند؟

شعر "ای همه هستی ز تو پیدا شده را بخوان" سه کلمه غیر ساده پیدا کن و بنویس.



متضاد واژگان زیر را بنویس.

امید :

توانا :

علوم



کاوشگری یعنی

- | | |
|---|-------------------------|
| ۱ | مدام پرسیدن |
| ۲ | پرسش و پاسخ‌های سوال‌ها |
| ۳ | تحقیق و مطالعه |
| ۴ | گزینه الف و ب صحیح است |

پرسیدن چه نوع سوال‌هایی کاوشگری است؟

- ۱ هر نوع سوالی
- ۲ سوال‌هایی که جواب آن‌ها را نمی‌دانیم.
- ۳ سوال‌هایی که به آزمون‌ها و مطالعاتی معنادار می‌انجامد.
- ۴ سوال‌هایی که جواب آن‌ها طولانی است.

بعد از مرحله‌ی طرح پرسش‌های زیاد چه باید کرد؟

- ۱ فرضیه سازی
- ۲ انجام آزمایش‌های زیاد
- ۳ تحلیل
- ۴ نتیجه‌گیری

کامل کردنی



آخرین مرحله کاوشگری است.

تشریحی



توضیح مناسبی که از شروع تا پایان فرایند کاوشگری ارائه می‌کنیم، چه نام دارد؟

یک نمونه کاوشگری را توضیح دهید.

اجتماعی



چند گزینه ای

در بین اعضای یک خانواده کدام مورد زیر حریم شخصی است؟

- ۱ اتاق خواب ۲ آشپزخانه ۳ سالن ۴ حیاط

کدام یک از رفتارهای زیر ارتباط کلامی است؟

- ۱ حالت تعجب با حرکات صورت ۲ تکان دادن سر به علامت تایید
۳ اخم کردن به عنوان مخالفت با کاری ۴ صدا کردن کسی

علی از دست دوستش محمد ناراحت شده است، علی چگونه می تواند دلخوریش را از محمد به او نشان دهد؟

- ۱ با حالت های صورتش ۲ با صحبت کردن با محمد
۳ با رفتارش ۴ گزینه ۱ و ۳

کامل کردنی



محدوده ای که نباید هیچ کس بدون اجازه و رضایت وارد آن شود نام دارد.
وقتی با پایان آوردن سر، حرف کسی را تایید می کنیم با او ارتباط برقرار کرده ایم.
مهمترین راه ارتباط انسا نها با یکدیگر است.

تشریحی



صدای مناسب گفت و گو چگونه باید باشد؟

هدیه ها



آیه های زیر به کدام موضوع اشاره دارد؟

«وَقُولُوا لِلنَّاسِ حُسْنًا» (بقره - ۸۳)

ترجمه ی آیه ی ۱۰ سوره ی حجرات را بنویسید.

عبارت قرآنی زیر در کدام سوره ی قرآن آمده است و به چه موضوعی اشاره دارد؟

«اجْتَنِبُوا كَثِيرًا مِّنَ الظَّنِّ»

جاهای خالی را کامل کنید.



بلندترین سوره



اولین سوره



سوره ای به نام یکی از قسمت های نماز



سوره ای به نام یکی از روزهای هفته

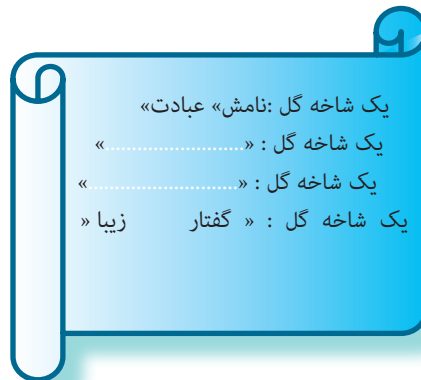
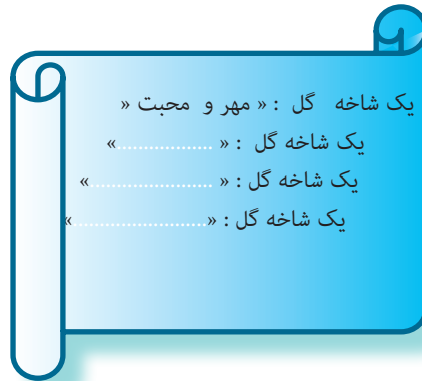


سوره ای به نام یکی از روزهای هفته



سوره هایی به نام جانوران

شعر زیر را کامل کنید.



آدینه ۲ مهر ۲

قیمت یک کتاب لغت نامه ۲۸۰۰۰ تومان است. مدیر مدرسه ای می خواهد ۱۰۰ جلد از این کتاب را برای دانش آموزان تهیه کند. او برای خرید این تعداد کتاب چند چک پول صد هزار تومانی باید پردازد؟

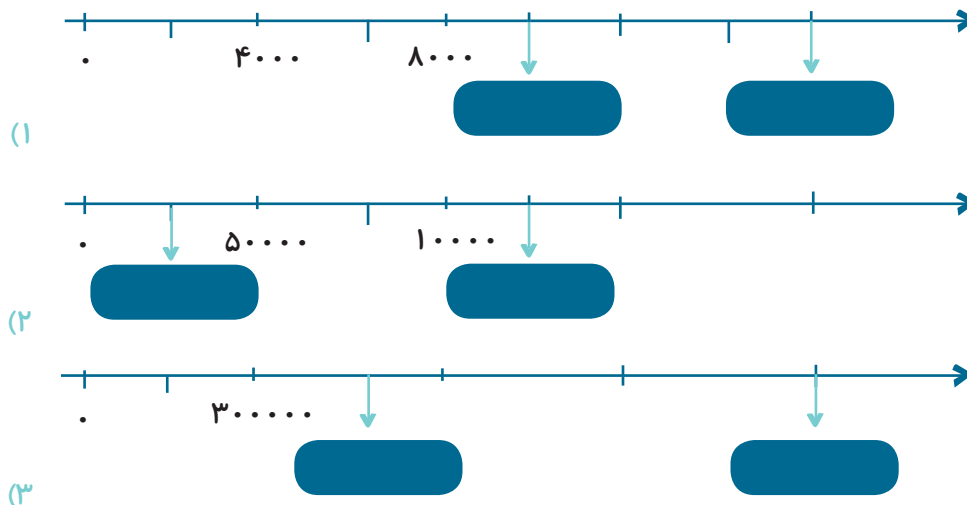
۲۸۰۰۰ ۴

۲۸۰۰ ۳

۲۸۰۰۲

۲۸ ۱

با توجه به محورها در جای خالی عدد مناسب قرار دهید.





عدد داده مستطیل به کدام عدد نزدیک تر است؟ آن را علامت بزنید.

۲,۰۰۰,۰۰۰,۰۰۰	۲,۱۶۹,۹۰۰,۰۰۰	۳,۰۰۰,۰۰۰,۰۰۰
۸۲۵,۱۴۰,۰۰۰	۸۲۵,۱۴۷,۰۰۰	۸۲۵,۱۵۰,۰۰۰
۳۴۰,۰۰۰	۳۴۵,۱۷۶	۳۵۰,۰۰۰
۹۰,۰۰۰,۰۰۰,۰۰۰	۹۶,۱۲۳,۷۹۰,۰۰۰	۱۰۰,۰۰۰,۰۰۰,۰۰۰

بزرگترین عدد ۱۰ رقمی که می توانیم با کنار هم قرار دادن ۵ کارت زیر بسازیم چیست؟

عددهای زیر را روی محور به صورت تقریبی با علامت \uparrow نشان دهید.



حاصل جمع و تفریق های زیر را مانند نمونه به دست آورید و روش کار خود را توضیح دهید.

$$7900 - 800 = 7100$$

۸۰۰ یعنی ۸ تا ۱۰۰ تا ۹ تا ۸ تا کم می کنیم.

۱ $35000 + 6000 =$

۲ $4295 + 50 =$

۳ $24,000,000 + 5,000,000 =$

۴ $320000 + 30000 =$

فارسی




عالم تماشاخانه‌ی شگفتی‌های چیست؟

هم خانواده‌ی واژه‌های زیر را بنویسید.

۱ آفرینش: ۲ لطف: ۳ عظمت:

کلمه های غیر ساده را رنگ بزن.



عبارت زیر چند جمله است؟

"به پروانه ای با بالهای مخملی، به قطره های باران که حلقه های ساکت روی آب را می سازند، گوش بده!"

۱ ۴ ۲ ۳ ۳ ۲ ۴ ۱

در درس اول واژه های مخالف را پیدا کنید و بنویسید.

در ترکیب های زیر ترکیب های اضافی و ترکیب وصفی را مشخص کنید.

صدای شبنم آفریده های ساکت آفرینش خدا

ماهی های تالاب آب گوارا

سراینده شعر "رقص باد و خنده ی گل" کدام است؟

۱- پروین اعتصامی..... ۲- پروین دولت آبادی..... ۳- ناصر خسرو..... ۴- سعدی.....

علوم



کامل کردنی

مواد اطراف ما همیشه در حال.....

افزایش دما معمولا باعث.....(کندتر-تندتر) شدن تغییر می شود/

در تغییر فیزیکی شکل و اندازه ی ماده.....

جدول زیر را کامل کنید.

تغییر شیمیایی	تغییر فیزیکی	تغییر
---------------	--------------	-------

آب-پز کردن تخم مرغ

پختن غذا

خرد کردن کاغذ

فاسد شدن غذا

تشریحی



یک ماده را در اطراف خود نام برده و هر دو تغییر را روی آن انجام دهید.

توضیح مناسبی که از شروع تا پایان فرایند کاوشگری ارائه می کنیم چه نام دارد؟

دو مثال برای هر کدام بنویسید.

تغییر فیزیکی زیان آور:

.....

تغییر فیزیکی مفید:

.....

اجتماعی

.....

چند گزینه ای

کدام یک از ترس های زیرجاست؟

۱ ترس از موجودات خیالی

۳ ترس از غرق شدن در دریا

۲ ترس از آمپول

۴ ترس از دست دادن دیگران

احساس شادی را

۱ فقط خودمان می توانیم به وجود آوریم

۳ فقط گوینده در شنونده ایجاد می کند.

۲ هم خود و هم دیگران در ما ایجاد می کنند

۴ فقط شنونده در گوینده ایجاد می کند.

در ارتباط با ترس کدام مورد درست است؟

۱ ترس، احساس غیرعادی است.

۳ ترس در انسان و جانوران وجود دارد.

۲ ترس از آمپول

۴ هر نوع ترسی بد است.

کامل کردنی

احساس غم احساسی..... است.

ترس از انسان محافظت می کند.

تشریحی

سه راه مقابله با ترس را بنویسید.

دو راه برای برطرف کردن احساس غم بنویسید.

احساسات خوشایند در ما چه تاثیراتی می گذارند؟

هدیه ها

آیه ی ۱۳۴ سوره ی آل عمران با کدام آیه ی قرآن ارتباط مفهومی دارد؟ آن را بنویسید.

در کدام سوره های قرآن به میوه یا خوراکی زیر اشاره شده است؟

() **انجیر و زیتون** () **خرما و انار**

کدام سوره های قرآن به نام پدیده هایی در طبیعت است؟ (۴ مورد)



این حدیث از کیست؟

قرآن دریایی است که هیچ گاه خشک نمی شود.

چه شباهتی میان قرآن و دریا وجود دارد؟



شعر دسته گلی از آسمان از کیست؟

ادینه ۳ مهر ۳

اسکیت سواری موفق شد مسافت ۴۷۶ کیلومتر را ظرف مدت ۳۶ ساعت و ۳۴ دقیقه و ۱۵ ثانیه طی کند. این زمان برابر است با:

۱) ۳۴:۱۵:۳۶ ۲) ۳۶:۳۴:۱۵ ۳) ۳۶:۳۴:۱۵ ۴) ۱۵:۳۴:۳۴

هوایمای تهران - مشهد ساعت ۱۷:۴۵:۸ از فرودگاه مهرآباد پرواز کرد و بعد از ۳۶:۵۹ به مشهد رسید. این هوایما چه ساعتی به مشهد رسیده است؟

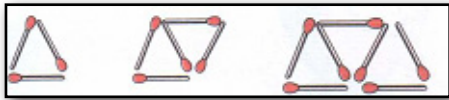
۹ :۵۳:۴۴ ۴

۹ :۱۸:۱۰ ۳

۸ :۵۰ ۲

۸ :۵۳:۴۴ ۱

شکل های زیر با استفاده از چوب کبریت ساخته شده است. شکل چهارم و پنجم را رسم کنید. شکل دوازدهم با چند چوب کبریت ساخته می شود؟



شکل چهارم را با توجه به الگو بکشید.



حاصل جمع اعداد مرکب زیر را به دست آورید.

$$\begin{array}{r} ۲ \text{ } ۴۵' \text{ } ۳۹'' \\ + ۵ \text{ } ۱۷' \text{ } ۱۲'' \\ \hline \end{array}$$

میترا ۱۲ سال دارد. یعنی چند روز؟ (بدون در نظر گرفتن سال کبیسه)

چند ساعت؟

چند دقیقه؟

چند ثانیه؟ (می توانید از ماشین حساب استفاده کنید.)

۱ ۱:۱۵ ، ۱:۲۰ ، ۱:۳۵

۲ ۸ :۵ ، ۳۰ :۸

۳ ۲ :۳۰ :۱۰ ، ۲ :۴۰ :۱۵

۴ ۵ :۱۲ ، ۵ :۲۴ ، ۵ :۳۶

الگوهای زیر را ادامه دهید.

۳ سال و ۲ ماه و ۵ روز و ۷ ساعت بعد از ساعت ۴ بعد از ظهر سیزده فروردین ۱۳۹۵ چه ساعتی و چه روزی و

چه ماهی است؟



کدام گزینه با بقیه هم آهنگ نیست؟

- ۱ هزار ۲ شمار ۳ بر ۴ بهار

ضرب المثل «درخت گردگان با این بلندی، درخت خربزه الله اکبر» با مفهوم کدام ضرب المثل ارتباط دارد؟

- ۱ نابرده رنج گنج میسر نمی شود. ۲ هر چه کنی به خود کنی
۳ بار کج به منزل نمی رسد. ۴ عقلش به چشمش است

جاهای خالی را با مخالف کلماتی که زیرشان خط کشیده شده است، کامل کنید.

- ۱ اجزای خاک مرده (.....) به تاثیر آفتاب ۲ بحر آفریدوبَر (.....) و درختان و آدمی

با هم معنی کلمه های زیر جمله بسازید.

۱ فضل:

۲ بحر:

معنی واژگان زیر را بنویسید.

- ۱ فضل: ۲ نهار: ۳ بنی آدم:

در بیت «توحید گوی او، نه بنی-آدم-اند و بس / هر بلبلی که زمزمه بر شاخسار کرد» منظور شاعر چیست؟

کدام ترکیب با بقیه تفاوت دارد؟

- ۱ درخت نارون ۲ شاخه ی پیچان ۳ رقص باد ۴ فصل پاییز

رابطه ی کدام دسته از واژه ها با بقیه تفاوت دارد؟

- ۱ بروبحر ۲ خورشیدوماه ۳ لیل و نهار ۴ خاور و باختر

ترکیب های کدام دسته همگی وصفی هستند؟

- ۱ نقاشی هنرمندانه-لطف خدا ۲ پروانه ی مغرور-خالق زیبایی
۳ فضل خدا-تاثیر آفتاب ۴ شاخ برهنه-نسیم ملایم

علوم



چند گزینه ای

کدام یک از تغییرات زیر شیمیایی است؟

- ۱ جوشاندن شیر ۲ ترش شدن شیر ۳ حل کردن شکر در چای ۴ خشک کردن نان

تشریحی



هرگاه یک جبه قند را حرارت دهیم، چه تغییری در آن اتفاق می افتد؟ توضیح دهید.

دو تغییر سوختن چوب کبریت و تهیه ی ماست را با هم مقایسه کنید.

تغییر فیزیکی و تغییر شیمیایی را با هم مقایسه کنید.

مادر سارا برای تهیه کوکوی سبزی مراحل زیر را انجام می دهد. در هر مرحله چه نوع تغییری صورت گرفته

است؟

- پاک کردن سبزی
- شست سبزی
- خشک کردن سبزی
- خرد کردن سبزی
- مخلوط کردن با تخم مرغ و نمک
- سرخ کردن آن در روغن

چرا روی قوطی داروها نوشته شده است "در جای خشک و خنک نگه داری شود. دور از نور مستقیم نگه داری شود."

اجتماعی



چند گزینه ای

پس از رسیدن به سن سالگی می توان به دیگران خون اهدا کرد.

۱۸ ۴

۱۷ ۳

۱۶ ۲

۱۵ ۱

کامل کردنی



موسسات و جمعیت هلال احمر به افراد نیازمند کمک می کنند.
وقتی شرایط و احساسات افراد در موقعیت های مختلف درک می کنیم با آن ها کرده ایم.

تشریحی



همدلی را تعریف کنید.

وظیفه ی سازمان انتقال خون چیست؟

چگونه با فرد غمگین همدلی کنیم؟

وظیفه ی هلال احمر چیست؟

هدیه ها



اگر یک ماشین ۲ راننده داشته باشد و هر یک فرمانی به دست بگیرد چه اتفاقی می افتد؟ (۲ مورد)

معنی آیه ی زیر را بنویسید.

«لَوْ كَانَ فِيهِمَا اللَّهُ الْأَلَهُ لَفَسَدَتَا» (انبیاء-۲۲)

.....

دو نشانه ی خدا را در وجود انسان نام ببرید.

هماهنگی در طبیعت و هماهنگی در دستگاههای بدن بیانگر کدام یک از اصول دین است؟

۴-۴ امامت

۳-۳ معاد

۲-۲ توحید

۱-۱ نبوت

نظم و هماهنگی که در جهان اطراف ما وجود دارد، نشانه چیست؟



آدینه ۴ مهر ۴

عبارتهای درست و نادرست را مشخص کنید.

..... یعنی ۵ تا دهگان میلیارد و ۲ یکان میلیارد

..... با توجه به عددهای ...، ۱۵، ۷، ۳، ۱ عدد پنجم عدد ۳۱ می باشد.

..... به عددهای ۳۶، ۲۵، ۱۶، ۹ عددهای مثلثی می گویند.

کدام یک از عددهای زیر، جزء عددهای مربعی است؟

۱۲۱ ۴

۷۲ ۳

۴۵ ۲

۲۰ ۱

کامل کنید.

قد شهاب ۱۴۲۵ میلی متر است؛ یعنی متر ، سانتی متر و میلی متر

۴ دسته ۵۰۰ میلیونی ، می شود

۲۴ میلیارد از ۲۴۰ ساخته شده است.

عددهای بعدی هر الگو را بنویسید.

۱ ۶، ۱۰، ۱۵، ۲۱،

۲ ۱، ۴، ۱۰، ۲۲،

۱ ۷، ۱۳، ۲۵، ۴۹،

می خواهیم دور تا دور یک **رومیزی مستطیل شکل را تور دوزی** کنیم. اگر مجموع طول و عرض رومیزی ۳ متر و ۷۸ سانتی متر و ۲۴ میلی متر باشد چه مقدار تور نیاز داریم؟

داوود ساعت ۶ روز ۲۵ مرداد ۱۳۶۲ و سعید ساعت ۹ روز ۲ شهریور ۱۳۷۰ به دنیا آمد. **اختلاف سن** این دو نفر چقدر است؟

قیمت یک آپارتمان ۸۰ متر مربعی، ۱۲۰ میلیون تومان است. حساب کنید **هر مترمربع** از این آپارتمان چند تومان است؟



جدول زیر را کامل کنید.

هم معنی	مخالف	کلمه
		فاسد
		کهن
		مفید

با حروف درهم ریخته ی زیر کلمه هایی بسازید که **ارزش املائی** داشته باشند.



ی - م - ن - ه



ص - ه - ا - خ



ر - ح - ض - ا

هم خانواده ی کلمه های زیر را بنویسید.

۱ تعجب:

۲ شگفت زده:

معنی واژگان زیر را بنویسید.

۱ طیب:

۲ ناچار:

۳ بلند آوازه:

علوم



کدام یک از تغییرات زیر با دخالت انسان صورت می‌گیرد؟

۱ زرد شدن برگ

۲ ایجاد شکوفه

۳ تغییر فصل

۴ کندن نهر

جدول زیر را کامل کنید.

تغییر	با دخالت انسان	بدون دخالت انسان	فیزیکی	شیمیایی
بارش برف				
زرد شدن برگ درختان				
جوشاندن شیر				
ساختمان سازی				
سوزاندن غذا				

دو نوع تغییر شیمیایی سریع و دو نوع تغییر شیمیایی کند مثال بزنید.

سریع:

کند:

کدام ماده اگر کنار آب قرار بگیرد، دچار تغییر شیمیایی می شود.

۱ طلا

۲ آهن

۳ شکر

۴ الکل

اجتماعی



چند گزینه ای

به تعداد افرادی که فعالیت و هدف مشترکی دارند، می گویند.

۱ دسته

۲ جمعیت

۳ گروه

۴ قبیله

کدام یک از موارد زیر گروه نیستند؟

- ۱ دانش آموزانی که به یک اردو می روند. ۲ افرادی که در یک اداره ی بزرگ کار می کنند.
۳ دانش آموزانی که یک روزنامه دیواری تهیه می کند. ۴ بیمارانی که در مطب یک پزشک نشسته اند.

اولین وظیفه ی اعضای هر گروه آن است که افراد

- ۱ نظم و مقررات داشته باشند. ۲ به نظر یکدیگر احترام بگذارند.
۳ روابط خوبی داشته باشند. ۴ وظایف خود را نشانند.

کار کردنی

اعضای یک گروه باید در تصمیم گیری و انجام کارها و کنند.
گروهی از افراد که برای انجام کاری با یکدیگر مشورت می کنند، نام دارند.
انتخابات شورای دانش آموزی در نیمه ی اول ماه برگزار می شود.

تشریحی

اهمیت مشورت و همفکری را بنویسید.

هدف از تشکیل شورای دانش آموزی چیست؟

هدیه ها

یک نشانه ی خداوند در گیاهان را انتخاب کنید و توضیح دهید.

کدام آیه ی سوره توحید اشاره به یکتایی خداوند دارد؟ با ترجمه بنویسید.

از آیه ی "لَوْ كَانَ فِيهِمَا آلِهَةٌ إِلَّا اللَّهُ لَفَسَدَتَا" چه موضوعی را می فهمیم؟

- ۱ آفرینش آسمان وزمین ۲ هماهنگی میان طلوع و غروب خورشید
۳ دلایل وجود خدای مهربان ۴ غیر ممکن بودن وجود خدایان دیگر

کدام گزینه از شباهتهای قرآن و دریا نیست؟

- ۱) محدودیت و پایان پذیری ۲) نشانه ی خدا ۳) فواید و منافع بسیار ۴) عمیق بودن

آبان آدینه ۵

کدام یک از گزینه های زیر کسر $\frac{۲۷}{۶}$ را نشان می دهد؟

چه کسری از شکل روبه رو رنگی است؟

- ۰.۱ ۰.۲
۰.۳ ۰.۴

هر عدد مخلوط را به کسر مساوی با آن وصل کنید.

در جای خالی چه عددی می توان قرار داد تا تساوی صحیح باشد؟

- ۱) ۲) ۳) ۴)

عددهای مخلوط را به کسر و کسرها را به عدد مخلوط تبدیل کنید.

عدد مخلوط را روی شکل نمایش دهید.

مهشید ساعت و تینا ساعت مطالعه کرده اند. کدام یک بیشتر مطالعه کرده است؟ روش مقایسه خود را توضیح دهید.

فارسی



از بین واژه های زیر کدام یک گوش دادنی است؟

- | | |
|---|--------------|
| ۱ | خش خش برگ |
| ۲ | بوق ماشین |
| ۳ | تلاوت قرآن |
| ۴ | تیک تیک ساعت |

در متن زیر چند غلط املایی وجود دارد. درست این کلمات را بنویسید.

- | | |
|---|--|
| ۱ | هر که در این چهار خسلت کامل بورزد به مقسد نرسد. |
| ۲ | چنان که فروق آتش را هر چه تلاش کنند کم شود، باز هم شله ور می گردد. |


هم خانواده ی کلمه های زیر را بنویسید.

- | | | |
|---|---------|-------|
| ۱ | محافظة: | |
| ۱ | حوادث: | |

دو جمله بنویسید که با کلمه های «هم» به هم وصل شده باشند.

مخالف کلمه های زیر را بنویسید.

- | | |
|---|--------|
| ۱ | خشنود |
| ۲ | فراوان |
- ترکیب های وصفی را با مداد زرد و ترکیب های اضافی را با مداد سبز رنگ بزن.





برای تجزیه نور چه نوری را به منشور می‌تابانند؟

۴ نور قرمز

۳ نور نیلی

۲ نور سفید

۱ نور سبز

وقتی آب را درون لیوان می‌ریزیم، آب و لیوان با هم مانند عمل می‌کنند.

در هنگام تشکیل رنگین کمان نقش منشور را دارد.

اگر بلافاصله پس از بارش باران آفتاب نمایان شود چه پدیده‌ای رخ می‌دهد؟ چگونه؟

وقتی نور خورشید به ذره بین می‌تابد، چه اتفاقی برای آن می‌افتد؟

چرا برای درست کردن رنگین کمان نباید از شیلنگ آب استفاده کنیم؟

نور خورشید پس از عبور از منشور، به چند رنگ مختلف تجزیه می‌شود؟ این عمل منشور را با نقاشی نشان دهید.

نور خورشید پس از عبور از منشور، به چند رنگ مختلف تجزیه می‌شود؟ این عمل منشور را با نقاشی نشان دهید.

وقتی نور خورشید به منشور می‌تابد، نور تجزیه می‌شود و نواری رنگی تشکیل می‌دهد. در دو طرف این نوار رنگی کدام رنگها قرار دارند؟

زرد-سبز قرمز-آبی بنفش-قرمز آبی-زرد

اجتماعی

چند گزینه ای

کدام یک از موارد زیر جمعیت نیست؟

(۱) دانش آموزان یک کلاس (۲) آهوهای یک جنگل

(۳) ماهی های یک استخر (۴) تمام پرندگان

کدام مورد زیر از عوامل جذب جمعیت است؟

- (۱) درآمد بیشتر (۲) جنگ (۳) خشکسالی (۴) کمبود درآمد
کامل کردنی

پراکندگی جمعیت در ناحیه ی ایران کمتر است.

یکی از دلایل افزایش جمعیت در یک ناحیه..... مردم از نواحی دیگر به آنجاست.

تشریحی

جمعیت را تعریف کنید.

علت افزایش جمعیت در جهان را بنویسید.

چرا نواحی داخلی ایران کم جمعیت یا خالی از جمعیت است؟

هدیه ها

سوره ی مریم چندمین سوره ی قرآن است؟

- (۱) هفدهم (۲) هجدهم (۳) نوزدهم (۴) بیستم

خداوند در آیه ی ۴۵ سوره ی آل عمران چه مژده ای را به حضرت مریم (س) داده بود؟

(۱) برتری به تمام زنان دنیا

(۲) صاحب فرزندی می شوی به نام عیسی مسیح که پیامبر است.

(۳) وعده های غذایت از بهشت می آید.

(۴) سرپرست تو یک پیامبر خواهد بود.

کدام گزینه از برترین زنان بهشت نیست؟

(۱) حضرت مریم (س) (۲) حضرت فاطمه (س)

(۳) حضرت خدیجه (س) (۴) حضرت زینب (س)

این جمله ها در مورد چه کسی بیان شده است؟

«شخص بسیار با ایمانی بود. او نذر کرده بود اگر صاحب فرزندی شود، فرزندش را خدمتگزار «بیت المقدس» کند

چه ویژگی مشترکی میان چهار بانوی برتر جهان وجود دارد؟

چرا سرپرست حضرت مریم (س) به حضرت زکریا سپرده شد؟

ادینه ۶ ۲۱۲

محور زیر مربوط به کدام عبارت جمع است؟

- .۰۴ .۰۳ .۰۲ .۰۱

در جاهای خالی عدد مخلوط مناسب بنویسید.

۲)

۱)

حاصل جمع و تفریق های زیر را به دست آورید و در صورت امکان آن را ساده کنید.

۱)

۲)

۳)

برای عبارت یک مسئله بنویسید و حاصل آن را به دست آورید.

عددهای زیر را از کوچک به بزرگ مرتب کنید.

جمع و تفریق های زیر را روی محور نشان دهید و پاسخ را به دست آورید.

(الف)

(ب)

سن محمدرضا ۱۷ سال و ۸ ماه و ۲۵ روز است. او می تواند در سن ۱۸ سالگی در آزمون رانندگی شرکت کرده و در صورت قبول گواهینامه بگیرد.

او چه مدت دیگری باید برای این کار صبر کند؟

طول و عرض اتاق سهیل و متر است. مساحت اتاق او را حساب کنید. آیا سهیل می تواند در اتاقش یک فرش ۹ متر مربعی پهن کند؟ از

بزرگ ترها در مورد طول و عرض فرش ۹ متر مربعی سوال کنید.

فارسی

معنی واژگان زیر را بنویسید.

۱) خشنود:

۲) اندوختن:

۳) معیشت:

برای هر کلمه، یک کلمه مخالف بنویسید.

۱) کاهلی:

۲) غفلت:

چهارکلمه ی غیر ساده از متن درس چهارم پیدا کن و بنویس.

در کدام گزینه صفت و حالت انسان به غیر انسان داده شده است؟

۱- به دانش و گرای و بدو شو بلند

۲- زنادان بنالد دل سنگ و کوه

۳- توانا بود هر که دانا بود

۴- چو خواهی که از بد نیابی گزند

رابطه ی کدام دسته از واژه ها، با بقیه تفاوت دارد؟

۱- حوادث و حادثه

۲- مقام و مرتبه

۳- کاهلی و سستی

۴- فضیلت و برتری

در متن زیر حروف ربط را رنگ بزن.

هم چنین ای فرزندان، بکوشید به کسب هنر و فضیلت، که انسان ثروتمند و باهنر، اگر چه گمنام باشد و دشمن بسیار داشته باشد، به سبب

عقل و هنر خویش در میان مردم شناخته می شود.

علوم

هنگام تشکیل رنگین کمان قطره-های آب در مقابل نور خورشید مانند چه چیزی عمل می-کنند؟

۱) ذره-بین (۲) رنگین کمان (۳) منشور (۴) عدسی
 ذربین نور را در نقطه ای به نام جمع می کند .
 ذربین را معمولا از شیشه یا پلاستیک-های شفاف و به شکل می-سازند.
 اگر ذره بین را مدتی طولانی زیر تابش مستقیم خورشید نگه داریم، چه اتفاقی می-افتد؟

نام نقطه ی مشخص شده در شکل روبرو را بنویسید.

مسیر نور در برخورد به هریک از وسایل زیر ، چه تغییری می کند؟ روی شکل نشان دهید.

در ساخت چه وسایلی از عدسی استفاده شده است؟ چهار مورد نام ببرید.

اجتماعی

چند گزینه ای

میزان تبخیر و آلودگی در آب کم تر است.

۱) اقیانوس (۲) رود (۳) چشمه (۴) قنات

میزان متوسط بارندگی در ایران کم تر از میلی متر است.

۲۵ (۱) ۲۵۰ (۲) ۲۵۰۰ (۳) ۲۰۵ (۴)

کدام گزینه درست نیست؟

۱) آبیاری قطره ای از به هدر رفتن آب جلوگیری می کند.

۲) یکی از راه های ذخیره آب، ساختن سد روی رودهاست.

۳) اقیانوس ها مهم ترین منبع آب شیرین هستند.

۴) بیشتر رودهای ایرانی، فصلی و موقت هستند.

کامل کردنی

آب شیرین مورد نیاز انسان از منابع و به دست می آید.

برای استفاده از آب های زیرزمینی و حفر می کنند.

بیشتر رودهای ایران از رشته کوه های و زاگرس سرچشمه می گیرند.

تشریحی

چرا آب دریاها و اقیانوس ها آب مورد نیاز انسان را تامین نمی کنند؟

آب های زیرزمینی چگونه تشکیل می شود؟

چرا کشور ما کم آب است؟

هدیه ها

اولین جمله ای که حضرت عیسی (ع) بر زبان جاری کرد چه بود؟

۱) من پیغمبر خدا هستم. (۲) من کتاب آسمانی دارم.

۳) من بنده ی خدا هستم. (۴) نام کتابم انجیل است

نام کتاب آسمانی حضرت عیسی (ع)..... است.

به بزرگترین پیامبران خدا پیامبران می گویند.

حضرت عیسی (ع) برای هدایت قوم از جانب خداوند انتخاب شد.

معجزه های حضرت عیسی (ع) را بنویسید.

کدام پیامبر در نوزادی از طرف خدا برگزیده شد؟

۱-حضرت موسی(ع) ۲-حضرت محمد(ع) ۳-حضرت عیسی (ع) ۴-حضرت ابراهیم(ع)

کدام گزینه مربوط به عبارت است؟

(۱)

(۲)

(۳)

(۴) گزینه های ۲ و ۳

وزن بدن انسان آب است. چند کیلوگرم از وزن بدن انسان ۶۰ کیلوگرمی آب است؟

۱۰ (۱۰) ۳۰ (۰۲) ۴۵ (۰۳) ۴۰ (۰۴) ۱۰

برای شکل زیر یک تساوی ضرب بنویسید.

حاصل ضرب های زیر را با رسم شکل به دست آورید.

۱)

۲)

حاصل عبارت های زیر را با رسم محور نشان دهید.

۱)

۲)

مسئله ای بنویسید که پاسخ آن محور زیر باشد.

خانواده ی آقای پدرام در یزد زندگی می کنند. آن ها تصمیم گرفتند در فصل گلاب گیری به کاشان بروند. اگر آن ها مسیر را پیموده باشند چند کیلومتر دیگر باید بروند تا به مقصد برسند؟

برای عبارت داده شده شکل رسم کنید و آن را حل کنید.

فارسی

با استفاده از واژه های داده شده در جای خالی واژه ی مناسب قرار دهید.

پینگ با گفت: «من دانه ای را که شما داده بودید، و هر روز به آن دادم، جوانه نرذ. یک سال از آن کردم اصلا رشد نکرد. برای امروز با خالی آمدم.»

با مخالف کلمه های زیر جمله بسازید.

(۱) کهنه :

(۲) پژمرده :

برای کلمه-های زیر، هم خانواده بنویسید.

(۱) بزرگ: (۲) خندید:

(۳) خندید: (۴) رویید:

در جمله های زیر فعل ها را پیدا کن و رنگ بزن

فردا که بر من و تو وزد باد مهرگان . بگو تو که این کاهلی زچيست؟

من از تو به بيست روز برتر شدم . با تو مرا هنوز نه هنگام داوری است.

در عبارت زیر نهاد جمله ها را مشخص کن.

پس ،حاکم کس فرستاد و آن مرد را طلبید و به نرمی و درشتی زر را بستد و به صاحب زر داد .

عبارت بالا چند جمله است؟

علوم

درکدام یک ازخاکهای زیر بقایای موجودات زنده یافت می شود؟

الف- ماسه ب- خاک رس ۳- خاک باغچه ۴- گزینه ۲ و ۳ صحیح است.
فسیل چیست؟

وقتی جانداران میمیرند قسمت های بدن آن با گذشت زمان از بین می رود.
از جسد جانداران ساکن فسیل بهتری تشکیل می شود.
پیدا شدن فسیل یک ماهی در منطقه ی کویری نشانه چه چیزی می تواند باشد؟

چرا در بیابان ها نسبت به دریاها فسیل کمتری تشکیل شده است؟

از کدام یک از موجودات زیر فسیل کمتری تشکیل شده است؟

۱- ماهی ۲- صدف ۳- حلزون ۴- پروانه

کدام یک از شرایط زیر برای تشکیل فسیل ضروری است؟

۱- آب و هوای گرم و مرطوب ۲- وجود سنگهای زیاد در محیط ۳- وجود گل و لای دریایی ۴- نبود عوامل تجزیه کننده در محیط اجتماعی

چند گزینه ای

مواد اولیه ی کارخانه ها از منابع به دست می آید.

۱) پتروشیمی ۲) طبیعی ۳) نفت ۴) گاز

کدام یک از انسان های زیر بیشترین صنایع مصرفی را در خود جای داده است؟

۱) نیرو ۲) کرمان ۳) همدان ۴) اصفهان

در کارخانه های پتروشیمی، نفت و گاز را به مواد تبدیل می کنند.

۱) اولیه ۲) پلاستیکی ۳) مصرفی ۴) شیمیایی

جور کردنی

از ستون الف به ستون ب وصل کنید.

الف ب

کالا

مواد اولیه

ابزار

نیروی کار

کامل کردنی

هر کارخانه برای تولید کالا به نیاز دارد.

صنایع کارخانه ای به دو دسته، صنایع و صنایع تقسیم می شوند.

تشریحی

مواد اولیه ی صنایع مادر چگونه تأمین می شود؟

هدیه ها

این جمله از کیست؟ «ای بلال اذان بگو و ما را با اذان گفتن خوشحال کن.»

۱) حضرت علی (ع) ۲) پیامبر (ص) ۳) سلمان فارسی ۴) ابوذر

پیامبر (ص) به مسواک زدن اهمیت می داد و می فرمود: «مسواک زدن قبل از نماز، ثواب نماز را برابر می کند.»

پیامبر (ص) می فرمود: «نماز، من است.»

حضرت محمد (ص) درباره ی آشتی دادن دو مسلمان چه می فرماید؟

پیامبر به اسیران جنگی بدر فرمود: "هر کدام از شما که به ده نفر خواندن و نوشتن بیاموزد، آزاد می شود." این فرمایش به کدام ویژگی پیامبر

اشاره دارد؟

۱-ادب ۲-آراستگی ۳-علم دوستی ۴-نوع دوستی
ما مسلمانان چه وظایفی در برابر پیامبر داریم؟
ادینه ۸ ۴ابان
به جای آن که عددی را بر ۳ تقسیم کنیم می توانیم آن را در ضرب کنیم.
۳.۰۱ ۰.۲ ۰.۳ ۰.۴
پاسخ کدام یک از عبارت های زیر نادرست است.
۰.۱ ۰.۲ ۰.۳ ۰.۴
تقسیم های زیر را حل کنید.

از محصول گندم استان یزد به طور مساوی به ۴ استان دیگر صادر می شود. چه کسری از محصول گندم استان یزد به هر یک از این ۴ استان صادر می شود؟

یک مسئله بنویسید که جواب آن حاصل عبارت باشد و حاصل را نیز به دست آورید.

پرهام می خواهد پولش را بین ۳ فقیر تقسیم کند. به هر کدام چه کسری از پول می رسد؟

در یک مهمانی ۲ لیتر شربت را بین ۱۲ نفر و ۳ لیتر شربت را بین ۱۵ نفر دیگر تقسیم کردیم. به کدام گروه شربت بیشتری رسیده است؟ دلیل خود را توضیح دهید.

آیا حاصل با حاصل مساوی است؟ دلیل بیاورید.

کشاورزی زمین خود را به دو قسمت مساوی تقسیم کرد و در یکی از قسمت ها گوجه فرنگی کاشت. او چه کسری از کل زمین را گوجه فرنگی کاشته است؟

فارسی

معنی واژه های زیر را بنویسید.

(۱) خاربن: (۲) بید بن:
شعر « چنار و کدوین » از کیست؟
بیت زیر چند جمله دارد؟
او را چنار گفت: که "امروز ای کدو با تو مرا هنوز، نه هنگام داوری است"
۵-۱ ۴-۲ ۳-۳ ۲-۴
در کدام گزینه مفعول وجود دارد؟
۱- او را چنار گفت .
۲- گل ها را بسیار دوست داشت .
۳ - خود را در آن بالا دید.
۴- بهترین لباس های خود را پوشید.
کدام ترکیب اضافی است؟

۱- سرزمین پهناور ۲- تخت جمشید ۳- اسبی چابک ۴- سپاه عظیم
در بیت های زیر قافیه را بامداد قرمز و ردیف را با مداد آبی رنگ بزن.
ز نادان بنالد دل سنگ و کوه ازیرا ندارد بر کس، شکوه
توانا بود، هر که دانا بود ز دانش دل پیر، برنا بود
علوم
چند گزینه ای

کدام گزینه در مورد حشرات نادرست است؟

۱) در بین موجودات زنده تعداد حشرات بیش از سایر جانوران است.

۲) تعداد فسیل-هایی که از حشرات یافت شده بیشتر از سایر جانوران است.

۳) تعداد فسیل‌هایی که از حشرات یافت شده، کمتر از سایر جانوران است.
۴) حشرات مانند سایر جانوران شرایط فسیل شدن را ندارند.

از کدام مورد فسیل تشکیل نمی‌شود؟

۱) عاج فیل ۲) پوست گاو ۳) ناخن انسان ۴) استخوان مار
تشریحی

زمین‌شناسان در جست و جوی آثار بر جای مانده از جانداران گذشته چه می‌کنند؟

دانشمندان هنگام مطالعه لایه‌های رسوبی چه نکاتی را باید رعایت کنند؟

از فسیل‌ها چه اطلاعاتی به دست می‌آید؟

رد پا چگونه بدست می‌آید؟

اجتماعی

چند گزینه ای

در آزاد راه ها خطر تصادف و خودرو از روبه رو کمتر است زیرا

۱) مسیر رفت و برگشت خودروها با مانع جدا شده است.

۲) رانندگان موظفند با سرعت کمتری حرکت کنند.

۳) پلیس، نظارت بیشتری دارد.

۴) دوربین های بیشتری در جاده ها نصب شده است.

کدام یک از وسایل زیر امروزه از وسایل حمل و نقل نیست؟

۱) مترو ۲) اتوبوس ۳) موتور ۴) گاری

برای تولید کمپوت در کارخانه وجود راه و وسایل حمل و نقل در کدام مورد ضروری نیست؟

۱) حمل میوه به کارخانه ۲) بسته بندی کالا

۳) انتقال کمپوت به فروشگاه ها ۴) رفت و آمد نیروی کار

کامل کردنی

به وسایلی که مردم و کالاها را جابه جا می کند. وسایل می گویند.

وقتی کالا برای فروش به جاهای دیگر فرستاده می شود. به این کار می گویند.

حمل و نقل زمینی از دو طریق راه های جاده ای و انجام می شود.

تشریحی

بازرگانی را تعریف کنید.

انواع راه ها را نام ببرید.

هدیه ها

ترجمه ی آیه ی ۵۶ سوره ی احزاب را بنویسید.

پیامبر (ص) چه سفارش هایی درباره ی رفتار با حیوانات کرده اند؟ (۲ مورد)

معنی آیه زیر را بنویسید

وَ مَا أَرْسَلْنَاكَ إِلَّا رَحْمَةً لِّلْعَالَمِينَ

پیامبر اسلام (ص) درباره ی می فرمود: "نورچشم من است" و مؤذن اسلام در زمان ایشان بود.

۱-روزه - بلال حبشی ۲-روزه - حضرت علی (ع)

۳- نماز - بلال حبشی ۴- نماز - حضرت علی (ع)

ادینه ۹ ۱۱ اذر

ساده شده ی عبارت برابر با کسر می باشد.

شکل زیر مربوط به ضرب می باشد.

حاصل ضرب های زیر را مانند نمونه با استفاده از ساده کردن به دست آورید. عددهای ۱۶ و ۸ بر ۸ بخش پذیرند و عددهای ۲۰ و ۵ بر ۵ بخش پذیرند.

- ۱)
- ۲)
- ۳)
- ۴)
- ۵)
- ۶)
- ۷)
- ۸)
- ۹)
- ۱۰)

حاصل ضرب های زیر را به دو روش به دست آورید. (رسم شکل و عبارت ریاضی)

- ۱)
- ۲)

محیط یک مثلث متساوی الاضلاع سه و سه چهارم (به عدد برده شود) متر است. اندازه هر ضلع آن چند سانتی متر است؟

۱۲۵۰-۱ ۱۲۵۰-۲ ۱۲-۳ و یک دوم (به عدد برده شود) ۳۷۵-۴

عددهای زیر را از کوچک به بزرگ مرتب کنید.

حاصل ضرب زیر را با رسم شکل به دست آورید.

فارسی

با شنیدن کدام یک از صداهای زیر احساس غرور و افتخار می کنید؟

۱) صدای وزش باد ۲) صدای سرود ملی

۳) صدای زنگ مدرسه ۴) صدای چهچه ی بلبل

کدام گزینه با بقیه متفاوت است؟

۱) جاودانگی ۲) پابندگی ۳) خیال انگیز ۴) سازندگی

با افزودن «ی» به آخر کلمه ی «بنده» کدام گزینه صحیح است؟

۱) بندگی ۲) بنده گی ۳) بنده ی ۴) بندگان

جاهای خالی داخل کمانک را با هم معنی کلمات کامل کنید.

۱) تصور (.....) کنید می خواهید حرف های بسیار مهم و ارزشمندی بگویید.

۲) پرچم سه رنگ و زیبای ایران به اهتزاز (.....) درآمد.

۳) سرود ملی خلاصه ی افتخارات، عظمت ها، (.....) و خواسته های یک ملت است.

کلمه های زیر را به ترتیب حروف الفبا مرتب کنید.

ضامن - موزون - اهتزاز - تصور - خلاصه - عظمت

.....و.....و.....و.....و.....و.....و.....و.....و.....

مخالف کلمه-های زیر را بنویسید.

(۱) پیروزی: (۲) فروغ:

همه ی واژه ها به جز واژه ی صفت مرکب است.

۱- وصف ناپذیر ۲- نگارگر ۳- هنر دوست ۴- شور انگیز

علوم

با مطالعه کدام سنگ می توان اطلاعاتی درباره گذشته ی زمین به دست آورد؟

۱- دگرگونی ۲- آذرین ۳- تزیینی ۴- رسوبی

با استفاده از فسیل ها به کدام یک از اطلاعات زیر نمی توان دستیافت؟

۱- آب و هوای گذشته ی زمین

۲- نوع جاندارانی که در گذشته زندگی می کردند.

۳- محل دریاها و خشکی های گذشته ی زمین

۴- ساختمان و تمام اجزای تشکیل دهنده ی بدن جانوران قدیمی

دادن پاسخ احتمالی به پرسش مطرح شده در روش علمی را می گویند.

۱- مشاهده ۲- آزمایش فرضیه ۳- فرضیه سازی ۴- جمع آوری اطلاعات

در کدام یک از وسیله های زیر از عدسی استفاده نشده است؟

۱- دوربین عکاسی ۲- تلسکوپ ۳- عینک ۴- کوره ی آفتابی

کدام یک از تغییرات زیر شیمیایی غیر مفید است؟

۱- تهیه ی ماست از شیر ۲- زنگ زدن آهن ۳- سوختن و آب شدن پارافین ۴- سوختن چوب در شومینه

فسیل های پیدا شده از گیاهان قدیمی نسبت به جانوران قدیمی کمتر است. چرا؟

جمله های درستی با و جمله های نادرستی را با X مشخص کنید.

۱- همه ی سنگ های روی زمین دارای فسیل هستند.

۲- از بدن بی مهرگان فسیل بهتری تشکیل می شود.

۳- با مطالعه ی فسیل ها می توان به شکل و وضعیت خشکی های گذشته ی زمین پی برد.

۴- به آثار و بقایای پر جای مانده از گیاهان و جانوران فسیل می گویند.

اجتماعی

چند گزینه ای

در ارتباط با قطار کدام مورد درست است؟

(۱) قطارها فقط مخصوص حمل مسافر هستند. (۲) به قطار شهری مترو می گویند.

(۳) به راهبرد قطار راننده می گویند. (۴) قطار در هر لحظه و ناگهانی می تواند توقف کند.

حمل و نقل با کشتی بسیار مناسب تر است. زیرا

(۱) همه ی کشورها به دریا راه دارند. (۲) کشتی با سرعت حرکت می کند.

(۳) به جاده سازی نیاز نیست. (۴) کشتی سوخت کمتری مصرف می کند.

کامل کردن

به کسی که کشتی را هدایت می کند، با کاپیتان می گویند.

هدایت هواپیما را خلبا و به عهده دارند.

هزینه ی مسافرت با بسیار زیاد است.

تشریحی

به چه شهری بندر می گویند؟

فواید حمل و نقل هوایی را بنویسید.

صادرات کشورمان را نام ببرید؟

هدیه ها

کدام گزینه جزء اموال عمومی نیست؟
(۱) جامدادی دوستم (۲) میز مدرسه
(۳) پارک (۴) صندلی ایستگاه اتوبوس
آیه ۱ سوره ی مطففین را به همراه ترجمه بنویسید.

در برخورد با این موقعیت چه می کنید؟
«دوستم مدادم را بدون اجازه برداشت و چیزی نوشت و دوباره روی میز گذاشت.»

با توجه به آیات قرآن کریم، نیکوکاران کسانی هستند که..... و قرآن سفارش می کند بدی را با برطرف کن.

۱- هرگز خطا نمی کنند، بی توجهی
۲- هرگز خطا نمی کنند، بدی کردن
۳- خشم خود را فرو می برند، بی توجهی
۴- خشم خود را فرو می برند، نیکی کردن

ادینه ۱۰ ۱۲ اذر

عبارت درست را با علامت و نادرست را با علامت × مشخص کنید.

در یک تاس نسبت عدد ۳ به سایر عددهای تاس ۱ به ۵ است.

در شکل زیر نسبت تعداد دایره ها به کل شکل ها ۳ به ۵ است.

نسبت روزهای ماه آذر به روزهای فصل بهار کدام گزینه است؟

(۰۱) ۳۰ به ۹۰ (۰۲) ۳۰ به ۹۳ (۰۳) ۳۱ به ۹۰ (۰۴) ۳۰ به ۳۶۵

محیط مستطیلی ۴۴ سانتی متر و اندازه ی طول آن ۱۵ سانتی متر است. نسبت به طول به عرض در این مستطیل کدام گزینه است؟

(۰۱) ۱۵ به ۲۹ (۰۲) ۶ به ۱۵ (۰۳) ۱۵ به ۷ (۰۴) ۱۵ به ۴۴

با توجه به شکل به سوال های زیر پاسخ دهید:

۱. مساحت مربع را به دست آورید.

۲. مساحت هر قسمت رنگی چند سانتی متر مربع است؟

۳. نسبت مساحت قسمت رنگی به مساحت کل شکل چیست؟

برای نسبت ۱ به ۷ شکل مناسب بکشید.

فارسی

زبان فارسی مانند ما، همه ی اقوام و مردم سراسر میهن را به هم پیوند می دهد.

زبان فارسی کشور ماست.

جدول زیر را کامل کنید.

کلمه هم خانواده هم معنی

حسود

منصب

فقر

چرا سرود ملی در درس به آینه تشبیه شده است؟

به جای واژه ی داخل کمانک کلمه ی جدید بنویسید و جمله را تغییر دهید.

(۱) هر روز صبح اول به آن می رفت و به آن ها نگاه می کرد. (فردا صبح)

(۲) وقتی ایار در اتاقش نباشد بروید و همه ی طلاها و پول ها را برای خود بردارید. (برداشتند)

در کدام گزینه آرایه ی تشبیه وجود ندارد؟

۱- سرود ملی همچون آئینه ای است که مردم آرزوها و اعتقادات خود را در آن می بینند.

۲- سنگ کوهت در و گوهر است .

۳- دشمن ، ار تو سنگ خاره ای من آهنم.

۴ - جان من فدای خاک پاک میهنم .

کدام جمع با بقیه فرق دارد ؟

۱- اعتقادات ۲- مسابقات ۳ - اوقات ۴- افتخارات
علوم

استخوان-ها چگونه به هم وصل شده-اند؟

(۱) مفصل (۲)رشته-های عصبی (۳) ماهیچه (۴) رشته-هایی محکم

بخش-های نرم زیر پوست و بخش های سفت هستند.

سر ماهیچه-ها به وصل است.

ماهیچه-ها چه نقش-هایی دارند؟ مثال بزنید.

مفصل چیست؟

برای اینکه ماهیچه هایتان خوب رشد کنند و نیرومند شوند ، چه می کنید؟

چرا حرکت ماهیچه ها باعث حرکت استخوان می شود؟

اجتماعی

چند گزینه ای

حکومت ایران در تاریخ از حکومت پادشاهی به جمهوری اسلامی تبدیل شد.

(۱) ۲۲ بهمن ۱۳۵۷ (۲) ۱۲ فروردین ۱۳۵۸

(۳) ۱۲ اردیبهشت ۱۳۵۸ (۴) ۱۱ فروردین ۱۳۵۸

نظارت بر قوه ی مجریه، مقننه و قضاییه، برعهده ی است.

(۱) رئیس جمهور (۲) رئیس مجلس شورای اسلامی

(۳) رئیس قوه ی قضاییه (۴) رهبر

دولت از و هیئت وزیران تشکیل شده است.

(۱) رهبر (۲) رئیس جمهور

(۳) رئیس مجلس شورای اسلامی (۴) شورای اسلامی شهر

قوه ی مقننه وظیفه ی را برعهده دارد.

(۱) اجرای قوانین (۲) حل اختلاف (۳) رسیدگی به شکایات مردم (۴) قانون گذاری

کامل کردنی

نماینده ی مجلس شورای اسلامی هر چهار سال یک بار با انتخاب می شوند.

تشریحی

جمهوری اسلامی چگونه حکومتی است؟

مهم ترین وظایف حکومت در جمهوری اسلامی چیست؟ (۴مورد)

هدیه ها

دانش آموزان در برابر کدام یک از اموال عمومی زیر به طور مستقیم مسئول هستند؟

۱-زمین های بازی و پارک ها و بوستان ها ۲-میز و نیمکت و درب و دیوار و حیاط دبستان

۳-وسایل و اثاث خانه های خودشان ۴-اتوبوس ها و وسایل نقلیه ی عمومی مانند قطار و

کدام گزینه مثالی از کم فروشی است؟

(۱) فروشنده جرم هندوانه را به اندازه اش کشید و فروخت.

(۲) برنج فروش ۱۰۰ گرم برنج را بیشتر کشید و به مشتری داد.

(۳) فروشنده بدون آگاهی از خرابی ترازویش ۱۰۰ گرم میوه را کمتر کشید و فروخت.

(۴) سیب درختی ۲۰۰ گرم کمتر از سه کیلوگرم است و مبلغ سه کیلوگرم گرفته شد.

کدام گزینه معنای آیه ی شریفه ی "ویل للمتفقین" می باشد؟

۱-وای بر جهادگران ۲-وای بر کم فروشان ۳-وای بر کفار ۴-وای بر اعراب

حدیث "خوش رویی کینه را از دل می برد" از کیست؟

- ۱- حضرت محمد(ص) ۲- امام علی (ع) ۳- امام حسین(ع) ۴- حضرت مهدی(عج)
- ۱- چون محبوب خدا بودند.

۲- زیرا کتاب آسمانی برای راهنمایی تمام مردم روزگارشان نازل شده بود.

۳- چون در راه خدا شکنجه های زیادی را تحمل کرده بودند.

۴- تنها پیامبرانی که کتاب آسمانی داشتند، اینان بودند.

داستان حضرت عیسی(ع) و یارانش در برخورد با آن سگ مرده به ما چه می آموزد؟

۱- با حیوانات مهربان باشیم. ۲- قبل از قضاوت خوب فکر کنیم.

۳- بیننده و معرف زیباییهای خلقت باشیم نه زشتی ها و بدی ها ۴- هیچ کدام

لقب حضرت عیسی (ع).....و نام کتاب آسمانی آن حضرت است.

برای محافظت از طبیعت

ادینه ۱۱ ۳ اذر

کدام یک از نسبت های زیر با نسبت برابر نیست؟

- ۰۱ . ۰۲ . ۰۳ . ۰۴

نسبت یک زاویه ی نیم صفحه به یک زاویه ی راست کدام مورد زیر است؟

- ۱) به ۴ ۲) به ۱ ۳) به ۴ ۴) به ۱

کدام یک از نسبت های زیر مساوی اند؟

۱) ۴ چرخ برای یک اتومبیل و ۱۸ چرخ برای ۶ اتومبیل

۲) ۲ میلیون تومان برای ۸ نفر و ۸ میلیون تومان برای ۲ نفر

۳) ۲۱۰ مترمربع مساحت ۳ واحد آپارتمان و ۲۱۰۰ متر مربع مساحت ۱۰ واحد آپارتمان

۴) ۲ کولر برای ۴ اتاق و ۴ کولر برای ۸ اتاق

در جاهای خالی عددهای مناسب بنویسید تا نسبت های مساوی درست شوند.

با استفاده از چوب کبریت شکل های زیر را ساخته ایم. جدول را کامل کنید.

شماره ی شکل	۱	۲	۳	۴	۵	۶	۷	۸	۹
تعداد مربع ها									
تعداد چوب کبریت ها									

آیا در شکل بالا نسبت تعداد مربع ها به چوب کبریت ها متناسب است؟ این نسبت چیست؟

برای شکل مقابل ۴ نسبت مساوی بنویسید.

برای تساوی نسبت های و یک مسئله بنویسید.

فارسی

از میان گزینه های زیر، کدام گزینه با واژه ی «دوست» ترکیب می شود؟

۱) گذشته ۲) شکوه ۳) کتاب ۴) چیرگی

با استفاده از متن مدرس حروف جافتاده در کلمات زیر را بنویسید.
او..... اع - فرو..... - محاف..... ره - ل..... ه - س..... مگین - خا..... ره - پ..... ام - گ..... رگاهی - م..... دونی - و..... ن

هم معنی کلمات را داخل کمانک بنویسید.

۱) در میان این همه شکوه و جلال (.....) خیره کننده اش تاخت و تازی سهمگین (.....) از سوی باختر آغاز گشت.
۲) میهن دوستان تا آخرین قطره ی خون خود در برابر دشمن پایداری (.....) خواهند کرد.

مخالف کلمه های زیر را بنویسید.

۱) نیرومند
۲) عظیم

هم خانواده ی کلمه های زیر را بنویسید.

۱) مانع:
۲) غلتاندن:
۳) شهید:
۴) اندوه:

معنی واژگان زیر را بنویسید.

۱) چیرگی:
۲) میهن:
۳) عظیم:

نهاد و فعل را در جمله های زیر مشخص کنید.

پدر خنده بر گریه ام زد.

که اشکم چو خون از رگ آن دم، جهید.

علوم

استخوان-ها چگونه به هم وصل شده-اند؟

۱) مفصل ۲) رشته-های عصبی ۳) ماهیچه ۴) رشته-هایی محکم
مهره های کمر روی هم قرار گرفته اند. بین هر مهره و مهره ی بعدی وجود دارد.

۱-مفصل ۲-نخاع ۳-ماهیچه ۴-غضروف

نخاع پیام های مغز را به می رساند

۱-پاها ۲-همه بدن بجز سر ۳-تمام نقاط بدن ۴-فقط ماهیچه ها
چه چیزی شکل بدن را به وجود می-آورد؟

چه چیزی باعث تقویت و رشد استخوان-ها می-شود؟

استخوان چگونه به حرکت در می-آید؟

رشته-های عصبی را تعریف کنید.

ساختمان مغز و نخاع چه شباهتی با هم دارند؟

اجتماعی

چند گزینه ای

وسعت کدام یک از کشورهای زیر از همه بیشتر است؟

(۱) ایران (۲) پاکستان (۳) عراق (۴) ترکیه

کشور با جمهوری اسلامی ایران مرز مشترک ندارد.

(۱) ترکیه (۲) ترکمنستان (۳) کویت (۴) افغانستان

کامل کردنی

کشورهای و همسایگان شرقی ایران هستند.

کم وسعت ترین کشور همسایه ایران نام دارد.

جمهوری اسلامی ایران و پاکستان به دریای راه دارند.

مردم جمهوری آذربایجان به زبان صحبت می کنند.

تشریحی

صنایع دستی مهم جمهوری آذربایجان را نام ببرید.

هدیه ها

امام زمان (عج) در روز ظهور خواهد کرد.

این سخن از کیست؟

«ثواب کار نیک در روز جمعه چند برابر می شود.»

۱-امام علی(ع) ۲-پیامبر اسلام(ص) ۳-امام حسین(ع) ۴-امام رضا(ع)

امام علی (ع) درباره ی بهترین روز هفته چه می فرماید؟

پیامبر گرامی اسلام (ص) درباره ی اهمیت نظافت و پاکیزگی در روز جمعه چه می فرماید؟

مراحل غسل جمعه را به ترتیب بنویسید.

امام جمعه در دو خطبه نماز جمعه درباره ی چه مسائلی صحبت می کند؟

ادینه ۱۲ ۴ اذر

محیط یک زمین مستطیل شکل ۸۰ متر است. اگر نسبت طول به عرض ۳ به ۲ باشد طول و عرض این زمین چند متر است؟

(۱) ۴۸ و ۳۲ (۲) ۱۸ و ۵ (۳) ۲۴ و ۱۷ (۴) ۲۴ و ۱۶

مجموع طول و عرض مستطیلی ۳۶۰ و نسبت طول به عرض آن ۵ به ۴ است.

(۱) محیط مستطیل را تعیین کنید.

(۲) مساحت مستطیل چقدر است.

ثلث مجموع پول علی، حسن و حمید ۲۸۰۰۰ تومان است. اگر نسبت پول آنها به ترتیب ۱، ۲ و ۴ باشد، پول هریک را حساب کنید.

نسبت سن نگین به لیلا ۲ به ۵ است. اگر لیلا الان ۳۰ سال سن داشته باشد. نگین ۴ سال بعد، چند ساله خواهد بود؟

۱-۳۰ سال ۲-۱۲ سال ۳-۱۶ سال ۴-۸ سال

شکل زیر یک زاویه ی راست را نشان می دهد. نسبت زاویه ی ۱ به زاویه ۲، ۱ به ۳ است. اندازه ی هر زاویه را به دست آورید.

مجموع دستمزد روزانه ی سه کارگر ۷۸۰۰۰ تومان است. اگر نسبت کار آن ها ۲، ۳ و ۵ باشد سهم هر کدام چند تومان است؟

اگر ۱ ساعت بدون استراحت پیاده روی کنیم حدود ۴ کیلومتر را طی می کنیم. در ۵ ساعت چند کیلومتر طی خواهیم کرد؟ ۳۲ کیلومتر را در چند ساعت طی می کنیم؟

فارسی

نام سردار دلاور و میهن دوست ایرانی چه بود؟

اسکندر (۱) آریوبرزن (۲) کوروش (۳) جمشید (۴)

بیت زیر، سروده‌ی کدام شاعر بزرگ است؟

چو ایران نباشد، تن من مباد بدین بوم و بر، زنده یک تن مباد
رابطه ی کدام دسته از واژه های زیر مانند رابطه ی "نواحی و ناحیه " است؟

۱- محاصره و محصور

۲- اسلحه و سلاح

۳- خفت و خواری

۴- فروغ و تاریکی

در مصرع زیر مفعول کدام است؟ " به منقارم آن سان به سختی گزید."

۱- منقار ۲- سختی ۳- منقارم ۴- "م" در منقارم

بیت زیر چند جمله است؟

"پدر خنده بر گریه ام زد که هان ! وطن داری آموز از ماکیان"

۱- ۴ ۲- ۳ ۳- ۲ ۴- ۱

اجزای تشکیل دهنده ی کلمه های زیر را مانند نمونه بنویسید.

شگفت اور: شگفت + اور

سرزمین : + دلیرانه : +

ناگوار : + سرانجام : +

علوم

سلول عصبی را تعریف کنید.

کدام یک مفصل های زیر حرکتی مشابه دارند؟

۱- زانو - شانه ۲- زانو - آرنج ۳- شانه - جمجمه ۴- لگن - آرنج

کدام بخش اسکلت از نخاع محافظت می کند؟

۱- ستون مهره ها ۲- ساعد ۳- جمجمه ۴- دنده ها

برای پیشگیری از پوکی استخوان، کدام رژیم غذایی زیر مناسب است؟

۱- استفاده از مواد قندی ۲- مصرف غذاهای نشاسته دار

۳- مصرف لبنیات ۴- خوردن غذاهای چرب

حرکت کدام ماهیچه ارادی است؟

۱- روده و معده ۲- مری و دیواره ی رگ ۳- بازو و ران ۴- قلب و روده

کدام اندام به " فرمانده ی بدن " معروف است؟

۱- شش ۲- مغز ۳- قلب ۴- چشم

جاهای خالی را با کلمات مناسب کامل کنید.

ماهیچه ی خون را در رگ ها به جریان در می آورد.

وقتی ساعد روی بازو خم می شود، ماهیچه ی کوتاه تر و ماهیچه ی بلند تر می شود.

لایه ی نرمی که بین مهره ها قرار دارد، نامیده می شود.

اجتماعی

چرا یکی از کشورهای همسایه ی ما را ارمنستان نامیده اند؟

بزرگترین دریاچه ارمنستان نام دارد.

صنایع دستی کشور ارمنستان را بنویسید.

کدام رود ایران را از ارمنستان جدا می کند؟

اگر به ارمنستان سفر کنید چه سوغاتی برای دوستانتان می آورید؟

هدیه ها

کدام گزینه درست است؟

۱- نماز جمعه ۴ رکعت است. ۲- در نماز جمعه دو قنوت داریم.

۳- نماز جمعه خطبه و سخنرانی ندارد. ۴- نماز جمعه را به صورت فرادا می توان بجا آورد.

این توضیحات ویژگی کدام نماز است؟
«این نماز دو رکعتی، دو قنوت دارد و قبل از نماز دو خطبه خوانده می شود.»

چه تفاوتی میان نماز جمعه و نماز دو رکعتی هست؟
نماز جمعه نماز دو رکعتی

.....
.....
.....

فرزندی که جمله ی زیر را ادامه بده.

روزهای جمعه دعا می کنم که

ادینه ۱۳ ۱۱

کدام یک از گزینه های زیر ساده شده ۷۵٪ است؟

..... ۰.۱ ۰.۲ ۰.۳ ۰.۴

۲۰٪ عددی برابر با ۳۶۰ است. این عدد چیست؟

..... ۳۶.۰۱ ۱۸۰۰.۰۲ ۰۳,۱۵۰۰ ۷۲.۰۴

اگر الگوی زیر را ادامه دهیم چند درصد مربع های شکل ۳ و ۴ هم رنگ خواهد شد؟

..... ۵۵٪.۰۱ ۶۴٪.۰۲

..... ۵۲٪.۰۳ ۵۰٪.۰۴

اگر ۲۵٪ عددی ۱۵۰ باشد آن عدد را به دست آورید.

چند درصد از شکل های زیر رنگ شده است؟

..... ۲)

..... ۱)

..... ۴)

..... ۳)

در جعبه ای ۲۰۰ مهره ی سفید و قرمز وجود دارد. اگر ۶۵٪ از مهره ها سفید باشد در این جعبه چند مهره ی قرمز وجود دارد؟

..... ۱۳۰-۱ مهره ۷۰-۲ مهره ۸۰-۳ مهره ۶۰-۴ مهره

بعد از شکستن ۲۰ گردو معلوم شد که ۷ عدد آن خراب است. چند درصد گردوها سالم است؟

فارسی

کدام گزینه نادرست است؟

۱) در مقایسه کردن شباهت های دو چیز را بیان می کنیم.

- ۲) در مقایسه کردن تفاوت های دو چیز را بیان می کنیم.
 ۳) هنگام مقایسه کردن دو چیز ویژگی هر یک را جداگانه بیان نمی کنیم.
 ۴) در مقایسه کردن علت برتری یکی را بر دیگری می نویسیم.

در جمله ی «تو چه دانش آموز منظمی هستی» کدام علامت نگارشی به کار می رود؟
 (۱) ؟ (۲) ! (۳) : (۴) .

جدول زیر را کامل کنید.
 جمله ی گسترش یافته جمله ی کوتاه
 مردی تقریباً پنجاه ساله و خوش اخلاق و محترم بود.
 کتاب ها را تماشا کردیم.

کدام کلمه ها با هم ترکیب نمی شوند و نمی توان واژه ی جدیدی ساخت؟
 خوش - زده - پر - نام
 آور - نما - امید - حافظ

هم خانواده ی کلمه های زیر را بنویسید.
 (۱) منظم: (۲) دقیقه:

در کدام گزینه منادا به کار نرفته است؟

- ۱- ای ایران، ای مرز پر گهر
 ۲- الهی، گاهی به نگاهی
 ۳- پاینده و مانی و جاودان
 ۴- ای مرز پر گهر

کدام گزینه با پسوند انگیز نمی تواند ترکیب شود؟
 ۱- شور ۲- مهر ۳- روح ۴- آهنگ

معنی واژه های زیر را بنویسید.
 اسپیده : افزون : بهروزی:

علوم
 بخش رنگی چشم چه نام دارد؟
 (۱) شبکه (۲) عدسی (۳) عنبیه (۴) قرنیه

عدسی چشم کجا قرار دارد؟
 (۱) پشت مردمک (۲) در قرنیه (۳) در عنبیه (۴) پشت شبکیه

اگر تحذب عدسی شخصی کم شود، شخص مبتلا به بیماری می شود.
 ۱- نزدیک بین می شود. ۲- کور رنگی ۳- دوربین ۴- آستیجمات

روی عنبیه را پرده شفافی به نام می پوشانند.
 بیشتر قسمت های کره چشم در حفاظت می شود.
 به کمک تصویر اجسام روی پرده ی شبکیه که در عقب کره چشم قرار گرفته است تشکیل می شود.
 ما چگونه اجسام را می بینیم و رنگ و شکل آن ها را تشخیص می دهیم؟

چشم افراد نزدیک بین چگونه عمل می-کند؟

پلک زدن چه فوایدی دارد؟

اجتماعی

چند گزینه ای

پرجمعیت ترین کشور همسایه ایران نام دارد.

عراق (۱) پاکستان (۲) افغانستان (۳) ارمنستان (۴)

مهم ترین ورزش ملی پاکستان نام دارد.

فوتبال (۲) هاکی روی یخ (۳) هاکی روی چمن (۴) اسکی

کامل کردنی

بند از مهمترین مراکز تجارت و صادرات و واردات پاکستان است.

بیشتر مردم پاکستان پیرو دین هستند.

مهم ترین عید پاکستان عید است.

تشریحی

صنایع دستی پاکستان را نام ببرید.

ارتباط غیرکلامی را تعریف کنید.

چرا ناحیه ی تهران پرجمعیت ترین جای کشور است؟

واردات چیست؟

هدیه ها

کدام رفتار را تهمت زدن می نامند؟

(۱) نسبت ناروا دادن به کسی (۲) پشت سرکسی صحبت کردن

(۳) در موقع عصبانیت ناسزا گفتن (۴) وسیله ی کسی را بدون اجازه اش برداشتن

این جمله از کیست؟

«بدترین مردم نزد خدا کسی است که مردم از شر زبان او در امان نیستند.»

(۱) پیامبر (ص) (۲) امام علی (ع) (۳) امام باقر (ع) (۴) امام صادق (ع)

«ای کسانی که ایمان آوردید؛ از بسیاری از گمان ها بپرهیزید، چرا که بعضی از گمان ها است.» (حجرات-۱۲)

کدام آیه ی قرآن ما را از مسخره کردن برحذر می دارد؟ ترجمه اش را بنویسید.

کامل کنید.

اگر کسی لقب زشتی به من نسبت دهد،.....

ادینه ۱۴ ۲۲دی

تعداد خط های تقارن نیم دایره بی شمار است.

متوازی الاضلاع خط تقارن ندارد.

در کدام شکل خط تقارن رسم شده است؟

(۱) (۲) (۳) (۴)

کدام موارد زیر بیشتر از بقیه خط تقارن دارد؟

(۱) (۲) (۳) (۴)

نیمه شکل را طوری رسم کنید که خط چین خط تقارن باشد.

قرینه ی هر شکل را نسبت به خط تقارن آن رسم کنید.

قرینه ی شکل های زیر را نسبت به خط تقارن رسم کنید.

فارسی

دلاوران هشت سال دفاع مقدس از نام آوران کشورمان هستند.

(۱) معاصر (۲) فردا (۳) امروز (۴) گزینه الف و ج

هم خانواده ی کلمه های زیر را بنویسید.

(۱) منظم: (۲) دقیقه:

در فصل دوم کتاب درباره ی چه کسانی مطالبی نوشته شده بود؟

ترکیب های اضافی را قرمز و ترکیب های وصفی را آبی رنگ بزن.

آقای فرهنگ ، حرفش را تکرار کرد .

صدای آقای فرهنگ مرا متوجه خود کرد .

آن روز کمی با بچه های کوچه بازی کردیم.

فعل کدام گزینه مضارع است؟

۱- بشناسید ۲- شدند ۳- رفتیم ۴- می خواندند

در جاهای خالی ، نشانه های نگارشی مناسب بگذارید.

آقای فرهنگ دوباره همان حرفش را تکرار کرد و گفت نه این جوری نمی شود بیایید با شما کار دارم

علوم

ما چگونه صداهای مختلف را می شنویم؟

بدن ما برای محافظت از گوش چکار می کند؟

اگر مقدار ماده ی چربی که گوش ترشح می کند زیاد شود چه باید کرد؟

درافرادی که چشمشان سالم است، تصویر رویتشکیل می شود.
پیام بینایی از طریقبه مغز فرستاده می شود.
افراد نزدیک بین، بدون عینک نمی توانند اجسام را واضح ببینند.

پرده ی شفاف جلوی چشم چه نام دارد؟

۱-پلک ۲- عنبیه ۳- قرنیه ۴- عدسی

در تاریکی، مردمک چشم شما چه تغییری می کند؟

۱-تنگ ترمی شود ۲- تغییر نمی کند ۳- گشادتر می شود ۴- هیچ کدام

صداهای شدید چگونه باعث آسیب رساندن به گوش می شوند؟

اجتماعی

کامل کردنی

مردم ترکمنستان به زبان صحبت می کنند.

دین بیشتر مردم ترکمنستان می باشد.

تشریحی

تولیدات مهم کشاورزی ترکمنستان را نام ببرید.

پدر حسین در کارخانه ی ذوب آهن، پدر مجتبی در کارخانه ماشین سازی و پدر رضا در کارخانه ی اتومبیل سازی مشغول به کار است. کدام یک از آنها در تولید صنایع مادر به کشور خدمت می کنند؟

۱- پدر حسین و رضا ۲- پدر مجتبی و رضا ۳- پدر مجتبی و حسین ۴- پدر حسین و رضا و مجتبی

رشته کوههای ترکمنستان از جنوب و جنوب غربی تا کجا کشیده شده اند؟

چرا بافندگی در ترکمنستان رواج دارد؟

هدیه ها

با توجه به درس، آیه ی زیر مربوط به کدام شخصیت درس است؟ «در کارهای بد به یکدیگر کمک نکنید»

(۱) فرهاد (۲) امین (۳) رضا (۴) محمد

معنی آیه زیر را بنویسید.

تهمت زدن و غیبت کردن چه نتایجی می تواند به دنبال داشته باشد؟

کدام گزینه، نام سوره ای از قرآن به نام پیامبران نیست ؟

۱- هود ۲- یونس ۳- ابراهیم ۴- موسی

ادینه ۱۵ ۳

در کدام یک از شکل های زیر نقطه ی (س) مرکز تقارن نیست؟

(۱) (۲) (۳) (۴)

شکل را با توجه به مرکز تقارن آن رنگ کنید.

کدام یک از شکل های زیر قرینه ی شکل (آ) نسبت به نقطه داده شده است؟

قرینه ی شکل های زیر را نسبت به نقطه داده شده، رسم کنید.

در صفحه ی شطرنجی زیر، چهارضلعی رسم کنید که زاویه ی قائمه داشته باشد و نقطه (آ) مرکز تقارن آن باشد.

فارسی

کدام گزینه نادرست است؟

(۱) محمود فرشچیان استادی هنرمند و نام آشنا در نقاشی شد.

(۲) استاد با نگاه های تحسین آمیز هنرمندی او را می دید و تشویق می کرد.

(۳) استاد امامی کشیدن آهو را به محمود سرمشق نداد.

(۴) استاد امامی مردی پرکار اما بسیار کم حرف بود.

با حروف در هم ریخته ی زیر کلمه هایی بسازید که ارزش املائی داشته باشند.

با کلمه های زیر جمله بسازید.

بی صبرانه:

آمیز:

کلماتی را که نشانه ی (ع) دارند، از متن درس دهم پیدا کنید و بنویسید.

بیت زیر سروده ی کدام شاعر بزرگ ایران است؟

نام نیکو گرماند، ز آدمی به کزو ماند سرای زرنگار

۱-مولوی ۲-حافظ ۳-سعدی ۴-نظامی

هم خانواده ی کلمه های زیر را بنویسید.

(۱) شاعر

(۲) طراحی

محمود با شعرهای دلنشین کدام شاعران بزرگ پرورش یافت؟

سه ترکیب معنی دار مانند ترکیب زیر بنویسید.

غروب های خیال انگیز زاینده رود

اسم صفت اسم

.....

.....

.....

علوم

افراد کم شنوا برای تقویت شنوایی خود از وسیله ای بنام استفاده می کنند.

.....پیام شنوایی را دریافت می کند و آن را به سمت مغز می برد.

پلک زدن باعثمرطوب شدن چشم می شود.

کدام بخش چشم را به ترتیب می توان شبیه فیلم عکاسی و دیافراگم دانست؟

۱-عنبیه-مردمک ۲-شکیه-عنبیه ۳-مردمک-قرنیه ۴-شکیه-مشیمیه

چشم شخصی از پشت عینک ریز تر از حالت طبیعی به نظر می رسد. عیب چشم و نوع عدسی او کدام است؟

- ۱- نزدیک بین- مقعر ۲- دوربین- مقعر ۳- دوربین- محدب ۴- نزدیک بین- محدب
 با ورود جسمی تیز به چشم ابتدا به کدام لایه آسیب می زند؟
- ۱- مردمک ۲- قرنیه ۳- عنبیه ۴- صلبیه
- در افراد نزدیک بین تصویر اجسام نزدیک و دور به ترتیب چه تغییری می کنند؟
- ۱- روی شبکیه- پشت شبکیه ۲- پشت شبکیه- روی شبکیه ۳- روی شبکیه- جلوی شبکیه ۴- جلوی شبکیه- روی شبکیه
- هر جمله را به کلمه مناسب وصل کنید.
- صدا را به سمت گوش هدایت می کند. * مجرای گوش
 پیام شنوایی را به مغز می رساند. * لاله ی گوش
 ابتدای آن سوراخ گوش است. * حلزونی گوش
 سلول های گیرنده شنوایی در آن است. * عصب شنوایی
- نام قسمت های مختلف را بر روی شکل بنویسید.

اجتماعی

چند گزینه ای

از خط استوا تا قطب شمال به درجه تقسیم شده است.

۱۸۰ (۱) ۹۰ (۲) ۱۲۰ (۳) ۳۶۰ (۴)

کشور ما در.....خط استوا و در مدار نصف النهار مبداء قرار دارد؟

۱- شمال-غرب ۲- جنوب-شرق ۳- جنوب-غرب ۴- شمال-شرق
 کامل کردنی

نصف النهار مبدا زمین را به دو نیمکره ی و تقسیم می کند.

به چرخش زمین به دور خود حرکت زمین می گویند.

مدت حرکت انتقالی زمین روز است.

نتیجه حرکت چرخشی زمین چیست؟

مدار چیست؟

چه چیزی باعث پیدایش فصلها می شود؟

نصف النهار مبدا را روی شکل نشان دهید؟

هدیه ها

عید غدیر اشاره به کدام گزینه دارد؟

۱) قربانی کردن گوسفندان

۲) بعد از ماه رمضان تمام مسلمانان نماز می خوانند.

۳) جانشینی پیامبر (ص)

۴) مردم به دیدار هم می روند و عید نوروز را به هم تبریک می گویند.

آیه ۵۵ سوره ی مائده : سرپرست شما تنها خداست و پیامبر او و مومنانی که را بر پا می دارند و در حال به نیازمندان می بخشند.

معنی آیه ی زیر چیست؟

«يا أَيُّهَا الرُّسُولُ بَلِّغْ مَا أُنزِلَ إِلَيْكَ مِنْ رَبِّكَ»

پس از آن که پیامبر (ص) امام علی (ع) را به عنوان جانشین خود انتخاب کرد چه دعایی کرد؟

عید غدیر در روز.....ماه.....سال.....اتفاق افتاد.

ادینه ۱۶ ۴دی

کدام یک از اندازه های زیر می تواند اندازه ی زاویه های یک مثلث باشد؟

۰۱. ۲۰ و ۹۰ و ۹۰ .۰۲. ۷۰ و ۴۰ و ۳۰ .۰۳. ۱۰۰ و ۷۰ و ۱۰ .۰۴. ۶۰ و ۶۰ و ۳۰

در کدام یک از گزینه های زیر نیمساز خط تقارن شکل است؟

۰۱. لوزی .۰۲. مثلث مختلف الاضلاع .۰۳. متوازی الاضلاع .۰۴. دوزنقه

مثلث متساوی الساقین یک تقارن دارد.

مجموع دو زاویه ۱۱۰ درجه و یک زاویه ی نیم صفحه را به وجود می آورد.

زاویه خواسته شده را به دست آورید.

نیمساز زاویه مقابل را رسم کنید.

در شکل های زیر اندازه ی زاویه های مورد نظر را به دست آورید.

(۱) (۲) (۳)

(۴) (۵) (۶)

برای ساخت یک پل هوایی بر روی تقاطع پایه های پل را بر روی زمین با زاویه های داده شده نصب کرده اند. زاویه ای که پله با پایه ی پل ساخته است چند درجه است؟

فارسی

کدام کلمه ها با هم ترکیب نمی شوند و نمی توان واژه ی جدیدی ساخت؟

خوش - زده - پر - نام آور - نما - امید - حافظ

معنی واژگان زیر را بنویسید.

(۱) پذیرفتم: (۲) کشمکش: (۳) نام-آور:

برای کلمه های زیر، هم خانواده بنویسید.

(۱) تصویر: (۲) مطالب:

(۳) منظم: (۴) دقیقه:

پنج کلمه بنویس که با "انگیز" و پنج کلمه که با "آمیز" همراه باشد.

در جمله های زیر مفعول را سبز و فعل را زرد رنگ بزن.

در این هنگام ، محمود با خوش حالی و هیجان گفت.

استاد امامی پر کار اما بسیار کم حرف بود .

همان آهویی را که سر مشق داده بودم .

واژگان کدام گزینه هم خانواده نیستند؟

- ۱- مطالعه و مطلع و اطلاعات
۲- تورق و ورق و اوراق
۳- نظم و انضباط و منظم
۴ - دفع و دافع و مدافع

کنایه ی انگشت به دهان ماندن یعنی

- ۱- تعجب کردن
۲- حیرت زده شدن
۳ - ترسیدن
۴ - گزینه ۱ و ۲

علوم

موقع غذا خوردن مزه ی قاشق را تشخیص می دهیم، زیرا:

- ۱- روی زبان گیرنده ای برای مزه وجود ندارد.
۲- دره های سازنده مواد قاشق در آب دهان حل نمی شود.
۳- ذره های غذا با مواد قاشق حل نمی شود.
۴- قاشق با پرزهای زبان برخورد نمی کند.

چه چیزی باعث آسیب دیدن گیرنده های مزه می شود؟

چگونه مزه های مختلف را تشخیص می دهیم؟

برای اینکه مزه غذا ها را تشخیص بدهیم مغز ما علاوه بر گیرنده های مزه باید از چه گیرنده های دیگری پیام دریافت کند؟

کدام مزه ها در دوطرف زبان حس می شوند؟

- ۱- شوری - شیرینی
۲- ترشی- تلخی
۳- شوری- تلخی
۴- ترشی- شوری

ماهیهی ای در دهان که به جویدن غذا کمک می کند نام دارد.
سلولهای گیرنده مزه در روی زبان قرار دارند.
وقتی غذا می جویم ذره های غذا با در دهان مخلوط می شود.

اجتماعی

به گودال های بزرگ سطح زمین می گویند.

- ۱) اقیانوس
۲) دریا
۳) دریاچه
۴) قنات

پرجمعیت ترین قاره ی جهان نام دارد.

- ۱) آسیا
۲) اروپا
۳) آفریقا
۴) آمریکا

در نقشه نام اقیانوس دو بار نوشته شده است.

قاره های و دیرتر کشف و شناخته شدند.

پرجمعیت ترین کشورهای جهان و هستند.

پوشش گیاهی ناحیه ی استوایی چگونه است؟

جنگل های استوایی چگونه به وجود آمدند؟

هدیه ها

پس از آن که پیامبر (ص) امام علی (ع) را به عنوان جانشین خود انتخاب کرد چه دعایی کرد؟

پس از تبعیت مردم با امام علی (ع) جبرئیل امین چه آیه ای را به عنوان هدیه برای پیامبر (ص) آورد؟

پیامبر (ص) در چه روزی جانشین خود را به تمام مسلمانان معرفی کرد؟

جمله ی "مَنْ كُنْتُ مَوْلَاهُ فَهَذَا عَلِيٌّ مَوْلَاهُ" توسط در گفته شد؟
۱- حضرت محمد (ص) ، شب بعثت
۲- حضرت محمد (ص) ، غدیر خم
۳- جبرئیل ، غدیر خم
۴- جبرئیل ، شب بعثت

چرا لازم بود پیامبر اسلام برای خود جانشینی انتخاب کند؟

ادینه ۱۷ ۱ بهمن

کدام گزینه زاویه های یک چهارم ضلعی را نشان می دهد؟

۰۱ ، ۳۰ ، ۸۰ ، ۷۰ و ۵۰ ۰۲ ، ۷۰ ، ۷۰ ، ۵۰ و ۵۰ ۰۳ ، ۱۴۰ ، ۱۴۰ ، ۴۰ و ۴۰ ۰۴ ، ۹۰ ، ۹۰ ، ۶۰ و ۷۰
کامل کنید.

در ۴ ضلع با هم برابر و ضلع ها متوالی بر هم عمودند.
محل برخورد قطرهای یک مربع نقطه ی آن است.
مثلث متساوی الساقین یک تقارن دارد.

مجموع زاویه-های داخلی شکل-های هندسی زیر را به دست آورید.

دو شباهت مربع و لوزی را بنویسید.

در شکل های زیر اندازه ی زاویه های خواسته شده را حساب کنید.

(۱) (۲) (۴)

یک چهار ضلعی را رسم کنید که قطرهای آن دارای ویژگی های زیر باشد:

۱. خط تقارن شکل باشد.

۲. نیمساز زاویه باشد.

فارسی

مدرسه ی معروفی که خواجه نظام الملک تاسیس کرد، چه نام داشت؟

نظامیه (۱) رصدخانه (۲) دارالفنون (۳) (۴) نظامیه

هم معنی واژه ها را داخل کمانک بنویسید.

(۱) چهل سال از حمله ی خاتمان سوز - (.....) مغول به ایران گذشته است.

(۲) نگرانی و اندوه قلب مردم را درهم فشرد (.....) - - (.....)

متن زیر را بخوانید و هر جا لازم است از علائم نگارشی مناسب (؟ ، : ، « ») استفاده کنید.

دستان با شنیدن این سخن سیمرغ بسیار اندوهگین شد و گفت مرا از خود دور می کنی مگر از من خسته شده ای

دور واژه ی درست خط بکشید.

- ۱) وقتی (تشت - طشت) با صدای (مهیب - محیب) فروافتاد، مردم (وهشت زده - وحشت زده) از خواب (برخاستند - برخاستند)
۲) کلیه ی امکانات حکومت (هلاکو - حلاکو) را برای (جذب - جزب) دانشمندان و ساختن (رسدخانه - رصدخانه) بزرگ (مراغه - مراقه) به کار گیرد.

خواجه نصیرالدین چگونه رضایت هلاکو را برای ساختن رصدخانه به دست آورد؟

چهار خط دیکته از درس نقش خرد مندان بنویس. سپس آن را بررسی کن و به خودت امتیاز بده

.....
.....
.....
.....

کدام گزینه جمع مکسر نیست؟

- ۱- مدارس ۲- مساجد ۳- شرایط ۴- تحصیل

علوم

کدام گزینه صحیح نیست؟

- ۱) در پوست ما گیرنده هایی وجود دارد.
۲) پوست چند لایه سلول دارد.
۳) ذره های بودار قابل مشاهده نیستند.
۴) زیر زبان برجستگیهایی وجود دارند که گیرنده های مزه در آن قرار دارند.
کدام یک مسیر درست تشخیص بو را نشان می دهد؟

۱- مغز سلول گیرنده بویایی ذره ی بو

۲- سلول گیرنده بو مغز بینی

۳- ذره ی بودار سلول گیرنده بو در بینی مغز

۴- ذره ی سازنده ی مواد مغز سلول عصبی

چگونه بوی گلی را احساس می کنیم؟

سلولهای گیرنده بو درقرار دارند.

در زیر پوست غده هایو.....وجود دارند.

ضعف در حس بویایی باعث اختلال در احساس کدام اندام زیر می شود؟

۱- پوست ۲- گوش ۳- زبان ۴- چشم

برای حفظ سلامت پوست چه باید ها و نبایدهایی وجود دارد. در جدول زیر بنویسید.

بایدها نبایدها

اجتماعی

قبله در کدام جهت ایران قرار دارد؟

- (۱) جنوب غربی (۲) جنوب شرقی (۳) شمال غربی (۴) شمال شرقی
- به سرزمینی که از سه طرف آب و یک طرف به خشکی راه داشته باشد می گویند.
مهم ترین شهرهای مقدس در جهان و است.
اعمال طواف کعبه در کدام شهر انجام می گیرد؟ معنی طواف را بنویسید.
چرا مکه شهری مقدس است؟
خانه ی کعبه در کدام مسجد قرار دارد؟
چگونه قبله را پیدا کنیم؟
هدیه ها
- مرقد مطهر کدام امامان شیعه در شهر سامرا است؟
- (۱) امام هادی (ع) - امام حسن عسکری (ع) (۲) امام هادی (ع) - امام حسن مجتبی (ع)
(۳) امام جواد (ع) - امام حسن عسکری (ع) (۴) امام هادی (ع) - امام کاظم (ع)

کدام شخصیت از شاگردان امام هادی (ع) است؟

- (۱) علامه حلی (۲) علامه بحرالعلوم (۳) عبدالعظیم حسنی (۴) شیخی

سامرا سال پایتخت حاکمان عباسی بوده است.

تاریخ تولد و شهادت امام هادی (ع) را بنویسید.

روز تولد: روز شهادت:

یک حدیث از امام هادی (ع) بنویسید.

چند نمونه از ویژگیهای امام هادی (ع) را بنویسید.

ادینه ۱۸ ۲ بهمن

از کنار هم قرار دادن دو زاویه زاویه ی تند به وجود می آید؟

- ۰۱ و ۲۰ ۰۲ و ۱۲ ۷۸ و ۰۳ و ۵۱ ۴۲ و ۰۴ و ۳۲ ۵۷

مثلثی رسم کنید که دو زاویه ی ۱۵ و ۲۰ درجه ای داشته باشد. زاویه ی سومی مثلث چند درجه است؟

با توجه به مشخصاتی که در جدول زیر داده شده است نام هر شکل را بنویسید.

نام چهارضلعی

ویژگی شکل

ضلع ها با هم برابرند

قطرها با هم برابرند	-	-	-	-
زاویه های روبه رو برابرند	-	-	-	-
قطرها نیمساز زاویه هستند	-	-	-	-
تعداد زاویه های راست ۴	-	۲	۴	-
تعداد زاویه های باز	-	۲	۱	۲

آقای کمالی تابلوساز است. او می خواهد با کنار هم قرار دادن ۴ قطعه ی برش داده شده تابلویی به شکل زیر بسازد.

۱. این تابلو از چند شکل هندسی تشکیل شده است؟

۲. نام این شکل ها چیست؟

۳. با توجه به زاویه ای داده شده بقیه ی زاویه ها باید چند درجه باشند؟

۴. ضلع های مساوی را با رنگ های متفاوت از دیگر ضلع ها مشخص کنید.

اگر وسط ضلع های یک مستطیل را به طور متوالی به هم وصل کنیم، در داخل مستطیل، شکلی به وجود می آید. مساحت شکل جدید چند درصد مساحت مستطیل است؟

در یک مثلث متساوی الساقین هر یک از زاویه های ساق است.

۱) اندازه ی زاویه سوم چند درجه است؟

۲) اختلاف زاویه ی سوم با زاویه ی قائمه چند درجه است؟

فارسی

دور واژه ی درست خط بکشید.

۱) وقتی (تشت - طشت) با صدای (مهیب - محیب) فروافتاد، مردم (وهشت زده - وحشت زده) از خواب (برخاستند - برخاستند)

۲) کلیه ی امکانات حکومت (هلاکو - حلاکو) را برای (جذب - جزب) دانشمندان و ساختن (رسدخانه - رصدخانه) بزرگ (مراغه - مراقه) به کار گیرد.

هم خانواده ی کلمه ی جامعه را بنویسید.

معنی واژگان زیر را بنویسید.

۱) مهیب:

۲) زیرکانه:

۳) نظامیه:

چند مفعول در عبارت زیر مشاهده می شود؟

"تشتی فراهم آورد و دو تن را مأمور کرد تا آن را شبانگاه از بالای قلعه به پایین اندازند."

۱ - ۴

۲ - ۳

۳ - ۲

۴ - ۱

در بخوان و بیندیش درس یازدهم چند ترکیب وصفی و اضافی پیدا کنید و بنویسید .

آرایه ی نوشته شده در مقابل کدام گزینه نادرست است؟

۱- اگر چه دل ها پر خون است . (کنایه)

۲- به خورشید نزدیک و دور از گروه (کنایه)

- ۳- دل سام شد چون بهشت برین . (تشبیه)
 ۴- ستارگان زیبای آسمان در شبانگاه با او گفت و گو می کردند. (تشبیه)

علوم

- مریم سرما خورده است .۱ و مزه ی غذا ها را حس نمی کند . فکر می کنید علت چیست؟
 ۱-ارتباط حس لامسه با حس بینایی
 ۲ - ارتباط حس چشایی با حس بویایی
 ۳ - ارتباط حس چشایی با شنوایی
 ۴ - ارتباط حس بینایی با چشایی

- کدام مورد در لایه ی بیرونی پوست وجود ندارد؟
 ۱- دهانه ی غده های عرق ۲ - مو ۳ - گیرنده های حسی ۴ - سلول های غیر زنده
 علی بیمار است . او بعد از فرو بردن یک دارو مزه ی آن را حس کرد . به نظر شما داروی او چه طعمی داشته است؟
 ۱- ترش ۲- شور ۳- تلخ ۴ - شیرین

- کدام بک از وظایف پوست نیست؟
 ۱-تنظیم دما ۲ - اندام دفاعی در برابر میکروب
 ۳-دفع مواد زائد ۴- دریافت امواج لرزشی هوا
 عصب کدام حس ، در عمق بیشتری قرار دارد؟
 ۱-زبری ۲ - گرمی ۳ - فشار ۴ - درد
 در کدام قسمت بدن ، رشته های عصبی وجود ندارد؟
 ۱-دندان - لایه های زیرین پوست ۲ - مو - ناخن ها
 ۳-غضروف - استخوان ۴ - مفاصل - ماهیچه ها
 لرزش پرده ی گوش ، در نهایت به کدام قسمت گوش می رسد؟
 ۱- مجرای شنوایی ۲-رشته های عصبی ۳- قسمت حلزونی ۴ - قسمت مخ
 اجتماعی

کافران به پیامبر و یارانش اجازه دادند از دره ی ابی طالب به مکه بازگردند زیرا:

- ۱) عهدنامه را موریا نه خورده بود. ۲) تعداد مسلمانان افزایش یافته بود.
 ۳) پیامبر وعده ی کافران را پذیرفته بود. ۴) کافران دست از دشمنی کشیده بود.
 حضرت محمد (ص) در غار به پیامبری مبعوث شد.
 حضرت محمد (ص) پس ازماموریت یافتند که مردم را پنهانی به دین اسلام دعوت کنند.

چرا کافران از گسترش دین اسلام احساس خطر کردند؟

چرا مسلمانان تصمیم گرفتند به حبشه هجرت کنند؟

چرا کافران به مسلمانان اجازه دادند دوباره به مکه بازگردند؟

هدیه ها

هدیه هفته دوم بهمین

۱-کدام گزینه به مفهوم آیه ی "لو كان الهه الا الله لفسدنا" اشاره دارد؟

دانایی خدا یگانگی خدا قدرت خدا وند تدبیر خداوند

۲-کدام دسته از سوره های قران به نام پیامبران خدا نیست؟

یونس-هود-نوح یوسف -محمد-هود ۳-ابراهیم-طه-مریم ابراهیم-یوسف-نوح

۳-حدیث مقابل از کدام معصوم (ع)است؟

"قران دریایی است که هیچگاه خشک نمی شود."
 حضرت علی(ع) امام حسن مجتبی(ع) امام سجاد(ع) امام محمد باقر (ع)

ایه ی ۷۵ سوره مائده به کدام ویژگی حضرت مریم (س)اشاره دارد؟

پرهیزگاری راستگویی پاکی دائم در حال عبادت بودن

کتاب آسمانی حضرت عیسی(ع) چه نام دارد؟

تورات انجیل قران زبور

رحمه العالمین لقب کدام معصوم است؟

حضرت محمد(ص) حضرت علی(ع) حضرت فاطمه (س) حضرت مهدی (عج)

ادینه ۱۹ ۳ بهمن

نقاط مشخص شده کدام عددهای اعشاری را نشان می-دهند؟

گسترده-ی اعداد اعشاری زیر را بنویسید.

$$۲۰/۰۳۰ = \quad ۱۵/۲۸۹ =$$

الگوهای زیر ادامه دهید.

(۱) ، ، ، ۳/۲۸۹ ، ۳/۲۷۹

(۲) ، ، ۰/۹۵ ، ۰/۹ ، ۰/۸۵

اعداد زیر را از کوچک به بزرگ مرتب کنید.

$$۱/۰۰۱ ، ۰/۱۰ ، ۰/۱ ، ۱/۱ ، ۱/۱۱$$

..... < < <

عدد ۴/۲۵ را به حروف بنویسید. این عدد بین کدام دو عدد صحیح قرار دارد؟

علی می خواهد برای خود یک توپ فوتبال بخرد. او به مغازه های مختلف سر زد و یک نوع توپ را انتخاب کرد که ۴مغازه قیمت و مقدار تخفیف های متفاوت را اعلام کرده بودند. خرید از کدام مغازه به نفع اوست؟

۱- قیمت ۵۵۰۰۰ تومان-تخفیف ۳۰% ۲- قیمت ۵۰۰۰۰ تومان-تخفیف ۲۰%

۳- قیمت ۶۰۰۰۰ تومان-تخفیف ۳۵% ۴- قیمت ۴۵۰۰۰ تومان-تخفیف ۱۰%

عددهای زیر را با حروف و رقم بنویسید.

(۱) (۲) هفتاد و هفت صدم

فارسی

حروف گمشده ی کلمه های زیر را بنویسید.

د...د - احبم - ا.....یت - ناب - ...الت

ملا وقتی دوباره رفت که گوسفند بخرد، به گوسفند چه گفت؟

با مخافت کلمه های زیر جمله بنویسید.

بازگشت بست

حکایت "بو علی و بانگ گاو" با کدام ضرب المثل تناسب دارد؟

۱- بخور تا توانی به بازوی خویش ۲- هر سخن جایی و هر نکته مکانی دارد.

۳- فکر شیرین ، مرد را فربه کند ۴- قدر عافیت کسی داند که به مصیبتی گرفتار آید.

جدول را کامل کنید .

فعل	زمان	شخص
می آید		
گرفته بود		
گذاشتند		
می خواهند		

برای فعل های کدام گزینه می توان ضمیر یا شخص یکسان نوشت؟

- ۱-برخواست-داده-بود-آمد
۲-خورد-بخندد-بخور
۳-آفرید-بود-هستی
۴-گفتند-رسید-گویند

علوم

کدام گزینه از اجزای اهرم است؟

- ۱) میله (۲) تکیه گاه (۳) الاکلنگ (۴) گزینه ۱ و ۲ صحیح است.
الاکلنگ یک است.

اگر بخواهیم جسم سنگین در اهرم بالاتر از جسم سبک بماند، باید آن را به تکیه گاهکنیم
اهرم چیست؟

چگونه اهرم در حالت تعادل قرار می-گیرد؟

مینا از مریم سبک تر است. مینا می خواهد در بازی الاکلنگ، مریم را که از او سنگین تر است، بالا ببرد. چند راه حل پیشنهاد کنید.
کدام وسیله مانند اهرم عمل می کند؟

- ۱)جاده (۲)منگنه (۳)راکت تنیس (۴)هر سه مورد
منگنه شبیه کدام اهرم است؟

اجتماعی

اولین هجرت مسلمانان هجرت آن ها از مکه به بود.

- ۱) مکه (۲) حبشه (۳) مدینه (۴) کربلا

نخستین کار پیامبر پس از هجرت به مدینه بود.

- ۱) تشکیل حکومت اسلامی (۲) مبارزه با کافران مدینه

۳) ساختن مسجد (۴) گزینه ی ۱ و ۳

مبدا تاریخ مسلمانان هجرت پیامبر از به است.

- ۱) مکه به حبشه (۲) مدینه به مکه (۳) مکه به مدینه (۴) حبشه به مکه

پیامبر اسلام در سن ۶۳ سالگی در شهر رحلت فرمودند.

سه دسته ی مخالفان پیامبر در مکه بود.

چرا پیامبر تصمیم گرفت از مکه به مدینه هجرت کند؟

هدیه ها

این سخن از کیست؟ «بهترین دوست تو کسی است که اشتباه تو را فراموش کند و نیکی تو را از یاد نبرد.»

- ۱) امام هادی (ع) (۲) امام حسن عسکری (ع)

۳) امام جواد (ع) (۴) امام رضا (ع)

عسکر به چه معناست؟

- ۱) اسیر (۲) گرفتار (۳) دربند (۴) منطقه ی نظامی

کدام امام معصوم به اجبار حاکمان عباسی به خراسان آمد؟

- ۱) امام رضا (ع) (۲) امام جواد (ع) (۳) امام هادی (ع) (۴) امام حسن عسکری (ع)

جدول زیر را کامل کنید.

امام حسن عسکری (ع)

محل تولد
مدت امامت.....
دشمن ایشان.....
محل دفن.....

کدام رفتار امام حسن عسکری (ع) باعث می شد تا ماموران زندان به او علاقه مند شوند؟

ادینه ۲۰ ۴ بهمن
جاهای خالی را با واحدهای مناسب کامل کن.
گنجایش باک بنزین موتورسیکلت است.
جرم یک انگشتر طلا است.
عرض استخری ۹۸۴ است.
ارتفاع کلاس است.
عددهای زیر را با یک دیگر مقایسه کنید و علامت بگذارید.
هفت و یک دهم

کدام یک از عددهای زیر ۱۰۰۰ برابر عدد $\frac{۰}{۳۸۵}$ است.
۳۸۵۰۰-۴ ۳۸۵۰۰-۳ ۳۸۵۰-۲ ۳۸۵-۱

در یک مخزن لیتر آب وجود دارد. اگر لیتر آب به درون آن بریزیم، مخزن پر خواهد شد. گنجایش مخزن چند لیتر است؟
۲۰-۱ لیتر ۳۰-۲ لیتر ۲۵/۱۲۲-۳ لیتر ۲۵-۴ لیتر

مساحت شکل زیر را به دست آورید.

فارسی
هم خانواده ی کلمه های زیر را بنویسید .
شاهنامه:
افتخار :
آموزش :
تصویر:

در عبارت های زیر ، حروف ربط را مشخص کنید .
دویست سال بود که کشور ما ، نیرومند ترین کشور جهان به شمار می رفت .
در این هنگام ، آن بخش از سپاه اسکندر که در جلگه مانده بود ، راه او را بست.

در عبارت های زیر ارایه های ادبی را پیدا کنید و در مقابل آن بنویسید.
دل هر غنچه تپید . ()
ماهی را هر وقت از آب بگیری ، تازه است. ()
جنگل از باد گریزان چرخ ها می زد چو دریا ()
اب آینه ای است پهناور صورت آسمان در آن پیداست. ()

در عبارت های زیر واژه های مشخص شده ، چه نقشی دارند؟
ز نادان بنالد دل سنگ و کوه - ازیرا ندارد بر کس شکوه

ابر آب داد بیخ درختان مرده را - شاخ برهنه ، پیرهن نوبهار کرد

کدام گزینه فعل مضارع (زمان حال) را نشان می دهد؟

۱-اطبا در معالجت عاجز ماندند ۲- گاو کجاست تا او را بکشم

۳ - او را به میان سرای آوردند. ۴- چنان چه خواجه بوعلی فرموده بود.

به همه ی کلمه های کدام گزینه می توانیم "دوست" اضافه کنیم؟

۱- نوع ، بشر ، هنر ۲- هنر ، حرف ، میهن

۳- مهمان ، ایران ، خاکی ۴ - خدا ، هنری ، وفا

متضاد کدام کلمه نادرست است؟

۱- فرار ≠ قرار ۲- پیش ≠ پس

۳- دشوار ≠ سختی ۴- آزادی ≠ اسارت

علوم

نیرو چیست و چگونه ایجاد می-شود؟

شکل را شرح دهید.

در کدام حالت ، تعادل غیرممکن است؟(وزنه ها جرم یکسانی دارند).

۱ ۲

۳ ۴

در کدام یک از وسایل زیر، تکیه گاه در وسط قرار نمی گیرد؟

۱- قیچی ۲- گردو شکن ۳- ترازوی دو کفه ای ۴ - الاکلنگ

از دیلمی به طول یک متر برای بلند کردن یک وزنه ی ۲۰۰ نیوتنی استفاده می شود . اگر نیروی وارد شده به دیلم ۵۰ نیوتن باشد ، فاصله

ی جسم (وزنه) تا تکیه گاه چند سانتی متر بوده است؟

۱-۲۰ ۲- ۴۰ ۳- ۶۰ ۴- ۸۰

کدام یک از ماشین های زیر ، از نظر نوع اهرم با بقیه متفاوت است؟

۱- دریاکنک نوشابه ۲ - قاشق ۳- موجین انبری ۴ - جاروی فراشی

اجتماعی

دومین مسجد مهم مسلمانان چه نام دارد؟

۱-مسجدالحرام ۲- مسجد کوفه ۳- مسجد جمکران ۴- مسجد النبی

یثرب نام قدیم کدام شهر است؟

۱-مکه ۲- نجف ۳- مدینه ۴- کربلا

نخستین کار پیامبر (ص) در شهر مدینه ،.....و سپسبود.

مهم ترین جنک هایی که پیامبر در آن شرکت داشتند کدام مورد است؟

۱- بدر ۲- احد ۳- خندق ۴- همه موارد

سر دسته مخالفان پیامبر در مکه چه کسی بود؟

۱-همزه ۲- یزید ۳- معاویه ۴- ابو سفیان

سر دسته مخالفان پیامبر در مکه چه کسی بود؟

۱-همزه ۲- یزید ۳- معاویه ۴- ابو سفیان

به جنگیدن با دشمنان به فرمان خدا و برای حفظ دین و دفاع از مسلمانان چه گفته می شود؟

۱-شهادت ۲- رزمندگی ۳- جنگ با کفار

در کشور ایران برای پیدا کردن قبله ،عقربه قبله نما باید به کدام سمت باشد؟

۱-جنوب شرقی ۲- جنوب غربی ۳- شمال غربی ۴- شمال شرقی

مهم ترین مسجد دنیا کدام است؟

۱-مسجد کوفه ۲- مسجدالحرام ۳- مسجدالنبی ۴- مسجدالاقصی

خط اسیا از.....آسیا می گذرد . در این ناحیه هوا در طول سال است.

۱-جنوب ، گرم ۲- مرکز ، گرم ۳- جنوب ، معتدل ۴- مرکز ، معتدل

هدیه ها

هدیه هفته چهارم بهمین

۱- در کدام سوره از قرآن به زشتی "مسخره کردن دیگران و بدگمانی" اشاره شده است؟

حجرات آل عمران مائده انفال

۲- عبارت "من كنت مولاه فهذا علي مولاه" به کدام واقعه ی تاریخی اشاره دارد؟

واقعه ی عاشورا واقعه ی غدیر خم ولادت حضرت علی(ع) مبعث

۳- حضرت عبدالعظیم حسنی از شاگردان کدام امام بزرگوار بود؟

۴- آرامگاه و..... در شهر سامرا قرار دارد.

۵- کامل کنید.

مهدی جان ای امام مهربانم، دوست دارم من هم مانند شما.....

۶- برگزاری جشن عید غدیر در مدرسه چه ماحلی دارد؟ چه وظایفی تعیین می شود؟

۷- چهار ویژگی پیامبر گرامی را بنویسید؟

۸- به نظر شما چرا شرکت در نماز جمعه، اینقدر سفارش شده است؟

ادینه ۲۱ ۱ اسفند

حاصل جمع و تفریق زیر را به کمک محور به دست آورید.

۱)

۲)

وزن پدر فرهاد کیلوگرم و وزن فرهاد کیلوگرم است. اختلاف وزن آن ها را چقدر است؟

۱-۶۴۸/۶ کیلوگرم ۲-۴۶۸/۴ کیلوگرم ۳-۴۶۳۲/۳ کیلوگرم ۴-۲۲/۹۶۸ کیلوگرم

محصول یک باغ میوه ۴ تن است. اگر تن از این محصول فروخته شده باشد، چند کیلوگرم از میوه ها فروش نرفته است؟

حاصل ضرب های زیر را بنویسید.

طول و عرض یک میز به ترتیب ۳۰۷ سانتی متر و ۱/۹ متر است. می خواهیم دورتادور آن را با نوارهای تزئینی، تزئین کنیم. چند متر نوار نیاز داریم؟

حاصل ضرب زیر را به روش مساحتی به دست آورید.

$3/4 \times 2/5 =$

فارسی

پنج کلمه درون جدول مخفی شده اند. آن ها را پیدا کنید و بنویسید.

..... و و و و

واژه های زیر را معنی کنید. سپس با آن ها جمله بسازید.

روان نویسی یعنی جمله:

خوش نویسی یعنی جمله:

جمله ی ناتمام زیر را تا دو سطر ادامه دهید.

روزی دست بر عصای پدر بزرگ مسیری را پیمودم.....

هم معنی واژه های زیر را بنویسید.

۱) غرق تفکر: ۲) رهگذر: ۳) مخصوصا:

۴) رهگذر : ۵) پیغام: ۶) منظور:

به نظر شما پیام نهایی درس « روزی که باران می بارید.» چیست؟

در شعر " بال در بال پرستوهای " منظور از " سوار سبزیپوش " چه کسی است؟

۱- امام علی(ع) ۲- امام زمان(عج) ۳- امام خمینی (ره) ۴- پیامبر(ص)

کدام واژه نمی تواند با بقیه هم خانواده باشد؟

۱- جهل ۲- دهر ۳- سحر ۴- بحر

علوم

کدامیک از وسایل زیر مانند اهرم روبه رو عمل می کند؟

۱) فرغون ۲) پرگار

۳) موجپن ۴) ناخن گیر

برای برافراشتن پرچم، از کدام ابزار استفاده می کنیم؟

۱) گوه ۲) چرخ ۳) محور ۴) قرقره

کامل کنید.

استفاده از برای حرکت دادن اجسام به سمت بالا برای ارتفاع های زیاد مناسب نیست.

..... و از یک میله و چرخنی که به دور آن می چرخد، درست شده است.

در منگنه در وسط قرار می گیرد.

دو مورد از کاربردهای قرقره را نام ببرید؟

با توجه به شکل مقابل در چه صورتی جسم راحت تر از سطح شیب دار بالا می رود؟

الف ۱- طول ب ج کوچک تر شود.

۲- زاویه الف بزرگتر شود.

۳- زاویه ی ب بزرگ تر شود

ج ۴- طول الف ج زیاد تر شود. ب

گردوشکن در کدام طبقه بندی اهرم ها قرار میگیرد؟ چرا؟ (با رسم شکل)

در چه حالتی برای بالا بردن اجسام از سطح شیب دار به نیروی کمتری نیازمندیم؟

اجتماعی

مهمترین محصول کشور عراق است.

بیشترین مردم عراق مسلمان اند و پیش از نیمی از مردم این کشور را تشکیل می دهند.

حکومت صدام در سال به کشور ما حمله کرد.

شهر تاریخی نمرود در نزدیکی شهر قرار دارد.

شکل شکل

علت ناامنی و وضع نامناسب اقتصادی و اجتماعی در عراق را بنویسید.

شهر زیارتی عراق را نام ببرید.

هدیه ها

تولد مخفیانه ی امام زمان (عج) به کدام پیامبر شباهت دارد؟

۱) حضرت عیسی (ع) ۲) حضرت موسی (ع)

۳) حضرت ابراهیم (ع) ۴) حضرت یوسف (ع)

نام مادر گرامی امام زمان (عج) بود.

معصوم یعنی چه؟

پیامبر (ص) درباره آخرین جانشین خود چه می فرماید؟

لقب های امام دوازدهم را بنویسید.

جمله ی دعایی که پس از نام امام دوازدهم بر زبان می آوریم را بنویسید.

ادینه ۲۲ ۲ اسفند

عرض یک مستطیل ۱۷ سانتی متر و طول آن سه برابر عرض است. مساحت این مستطیل چند سانتی متر مربع است؟

جرم یک کیک ۹۰۰ گرم است. علی آن را به ۴ قسمت تقسیم کرد. جرم بزرگ ترین قطعه ی کیک برابر با مجموع ۳ قطعه دیگر است. جرم بزرگ ترین قطعه چند کیلوگرم است؟

۰/۲۵۵-۱ ۰/۱۵۰-۲ ۰/۴۵-۳ ۰/۳-۴

کامل کنید.

هر کیلوگرم ۱۰۰۰ گرم است پس ۴۲ گرم..... کیلوگرم است.

۵۳۰۲ میلی لیتر سانتی مت است.

۵۸۰۱۲ میلی لیتر لیتر است.

محور مربوط به تفریق زیر را رسم کنید.

۰/۵۸-۰/۳۵=

حاصل ضرب های زیر را بدست آورید.

۵/۱×۱/۹=

قد علی ۱۷۳ سانتی متر و قد محمد ۱/۵۶ متر است. قد کدام یک از آنها بلندتر است؟ چقدر؟

اعداد اعشار را به صورت کسر بنویسید.

۰/۰۷۲=

۷۳/۲۴=

فارسی

کلمه های زیر را دسته بندی کنید.

..... (۱)

..... (۲)

مخالف کلمه-های زیر را بنویسید.

(۱) ساکت: (۲) تمیز:

مرد خوش نویس چه چیزی روی کاغذ نوشته بود؟

برای کلمه های زیر هم خانواده بنویسید.

(۱) غرق: (۲) اختیار:

کدام یک از گزینه های زیر ، درموردار عناصر داستانی ، نمی گنجد؟

۱- مکان ۲- رویدادها ۳- شخصیت ۴- عنوان داستان

در عبارت "امیدها به یک باره به نومییدی گرایید" کدام آرایه ی ادبی به کار رفته است؟

۱- تشبیه ۲- ضرب المثل ۳- جان بخشی ۴- تضاد

کدام گزینه در هنگام مقایسه کردن دو چیز ، کاربرد ندارد؟

۱- شباهت ها ۲- تفاوت ها ۳- علت برتری یکی بر دیگری ۴- خلاصه نویسی

علوم

کدام مورد در مورد گوه-ها صحیح نیست؟

۱) مانند کارد عمل می کنند. ۲) در انجام دادن کارها همانند سطح شیب دار عمل می کنند.

۳) یک لبه تیز دارند. ۴) هیچ کدام

چرا جاده های کوهستانی را به جای اینکه مستقیم بسازند ، به شکل مارپیچ می سازند؟

برای جابه جا کردن یک جسم سنگین ، کدام سطح شیب دار را انتخاب می کنید؟

۱ ۲ متر ۲ ۲ متر

بین " قرقره " و " چرخ محور " چه تفاوتی وجود دارد؟

در کدام گروه از وسیله های زیر ، از قرقره استفاده شده است؟

۱- چرخ چاه - مدادتراش رومیزی - همزن دستی

۲- جرثقیل - فرمان اتومبیل - انبر دست

۳- فرغون - آسانسور - میله ی پرچم

۴- جرثقیل - آسانسور - پرده کرکره

اجتماعی

پایتخت کشور عراق شهر.....نام دارد.

در شهر کربلا حرم حضرتو حضرت.....قرار دارد.

منظور از بین الحرمین در کربلا چیست؟

بیعت یعنی چه؟

مرکز خلافت حضرت علی(ع) کدام شهر بود؟

۱- کوفه ۲- بغداد ۳- مدینه ۴- مکه

معاویه که بود؟

چرا عده ای در زمان خلافت حضرت علی(ع) بیعت خود را با او شکستند؟

هدیه ها

هدیه ۲ اسفند

۱- چرا خلیفه عباسی از آزادی امام حسن عسکری (ع) و ارتباط او با مردم می ترسید؟

جدول زیر را کامل کنید.

امام حسن عسکری (ع)

نام

محل تولد

نام پدر

محل دفن

مدت امامت.....
شهرهایی که در آن زندگی کرده اند.....

کدام لقب امام زمان (عج) به معنی هدایت شده می باشد؟
قائم مهدی صاحب الزمان منصور
حضرت مهدی (عج) چندمین معصوم هستند؟
۱۲ ۱۳ ۱۴ ۱۱
هریک از ویژگیهای امام زمان(عج) به کدام یک از پیامبران شباهت دارد؟
تولد مخفیانه عمر طولانی چهره و رفتار
ادینه ۲۳ ۳ اسفند
اندازه قاعده های دوزنقه ای ۷ و ۱۰ سانتی متر و ارتفاع آن ۴ سانتی متر است. مساحت آن را به دست آورید؟
مساحت قسمت رنگی شکل زیر را به دست آورید.

مساحت استخری به شکل متوازی الاضلاع و به ارتفاع ۱۰۰ متر و قاعده ۳۵۰ متر را به دست آورید.

مساحت یک لوزی ۲۴ سانتی متر مربع و با مساحت یک دوزنقه برابر است. یکی از قطرهای لوزی ۶ سانتی متر است. اگر قطر کوچک لوزی دو برابر قاعده ی کوچک دوزنقه باشد:
(۱) قطر بزرگ لوزی چقدر است؟
(۲) قاعده ی کوچک دوزنقه چقدر است؟

دو شباهت متوازی الاضلاع و مربع را بنویسید.
۸/۱۳۶ گرم است و وزن ربع سکه ی لبهار آزادی ۲/۰۳۲ گرم است. تفاوت وزن ۴ ربع سکه با یک سکه ی تمام بهار آزادی چند گرم است؟
۱-۰۰۸/۰ ۲-۱۱۴/۰ ۳-۰۹۲/۰ ۴-۱۴۴/۱
جرم هر سکه تمام بهار آزادی ۱ فارسی

کدام گزینه درست است؟
(۱) افراد ترسو در زندگی به موفقیت می رسند.
(۲) تلخی دارو رنج جراحی سلامتی را تضمین نمی کند.
(۳) شجاعت اخلاقی آن است که حرف راست و درست بگوییم.
(۴) ریشه اصلی ترس های درست در جهل و نادانی است.

حروف جاافتاده در کلمات زیر را بنویسید.
ت.....ادف - و.....یفه - تر.....ناک- خ.....رناک- ت.....مین- م.....انت- حواد.....

با توجه به متن درس «شجاعت»، در جاهای خالی واژه-های مناسب بنویسید.
(۱) شجاعت اخلاقی، آن است که حرف و بگوییم
(۲) ریشه اصلی ترس-های نادرست، در و است.

معنی واژگان زیر را بنویسید.
(۱) نهراسد: (۲) نکوهیده: (۳) عاقبت:

از متن درس « شجاعت » کلمه‌هایی که نشانه‌های داخل جدول را دارند، بنویسید.

ش ص ع ح

کدام یک، از آثار هوشنگ ابتهاج نیست؟

۱- قصه ی خون دل ۲- غزلیات ۳- چکامه ها ۴- قصه ی عشق

در جمله های زیر کلمه هایی که نقش قید دارند را رنگ کنید.

مردم ایران دلاورانه در برابر دشمنان پایداری ورزیدند.

آریو برزن با شمار اندکی از سپاهیان خود یورش برد.

علوم

مواد معدنی مورد نیاز گیاه را چه چیزی به آن می رساند؟

۱) آب ۲) خاک ۳) نور خورشید ۴) هوا

کدام از موارد زیر در تشکیل خاک دخالت ندارند؟

۱) رشد ریشه گیاهان ۲) حفاری جانوران

۳) یخ زدن آب ۴) ذوب شدن یخ

در طبیعت برای تشکیل خاک ابتدا باید در طول سالیان دراز خرد شوند.

جانوران با و خرد شدن سنگ ها را سرعت می بخشد؟

از خاک در چه جاهایی استفاده می شود؟

گیاخاک چیست؟

از بین رفتن جنگل ها در شمال ایران، چه تاثیری بر کشاورزی منطقه دارد؟

اجتماعی

چند گزینه ای

امام حسین (ع) در روز در صحرای کربلا به شهادت رسید.

۱) عرف ۲) محرم ۳) عاشورا ۴) تاسوعا

چرا امام حسین (ع) با یزید بیعت نکرد؟

اهمیت واقعه ی عاشورا را بنویسید.

امام حسین (ع) در مورد هجرت خود چه می فرمایند؟

خوارچ چه کسانی بودند؟

حضرت علی (ع) کی و چگونه به شهادت رسیدند؟

هدیه ها

کدام رفتار نشانه ی اسراف کردن است؟

۱) پس از کار سخت روزانه به حمام رفتن

۲) پس از انجام تمرینات ورزشی در باشگاه به حمام رفتن

۳) روشن کردن ماشین لباسشویی برای یک لباس

۴) روشن کردن کولر در هوای گرم تابستان

ترجمه ی آیه ۳۱ سوره ی اعراف را بنویسید.

اسراف کردن به چه معنا است؟

۱-مصرف درست ۲-زیاد مصرف کردن ۳-کم مصرف کردن ۴-مصرف معمولی

پیامبر گرامی اسلام (ص) درباره ی اسراف نکردن چه می فرماید؟

برای جلوگیری از اسراف هنگام آب دادن به گیاهان چه پیشنهادی می کنید؟

فردی لباس های متفاوتی می خرد و از همه ی آن ها استفاده می کند آیا این رفتار او اسراف کردن است؟

ادینه ۲۴ اسفند

محیط شکل ها را به دست آورید.

(۱) (۲)

محیط میز چوبی دایره شکلی به قطر ۱/۴ متر چقدر می شود؟

۴/۲-۱ ۴/۳۹۶-۲ ۱۲/۵۶-۳ ۳/۱۴-۴

قطر چرخ بزرگ یک دوچرخه ۶۰ سانتی متر و قطر کوچک آن دو سوم (به عدد نوشته شود) قطر چرخ بزرگ است اگر چرخ کوچک ۱۰ دور بزند، دوچرخه چه مسافتی را طی کرده است؟

۱/۲۵۶ متر ۱۲/۵۶-۲ متر ۱/۸۸۴-۳ متر ۱۸/۸۴-۴ متر

پارچه ای داریم به شکل نیم دایره به شعاع ۳۰ سانتی متر می خواهیم دور این پارچه را نوار بدوزیم. چند سانتی متر نوار لازم داریم؟

قطر چرخ دوچرخه ای ۰/۸ متر است. اگر این چرخ ۵۰ دور بچرخد، چند متر راه را طی کرده است؟

چند درصد از شکل مقابل بریده شده است؟

۸۰٪-۱ ۷۵٪-۲ ۷۲درجه
۹۲٪-۳ ۲۰٪-۴

فارسی

در بیت «آن دو را چون دو دوست می دیدند» واژه ی «چون» چه معنایی دارد؟

(۱) مانند (۲) ولی (۳) مثل (۴) گزینه های ۱ و ۳

در جمله ای زیر واژه ی «چون» به چه معنی است؟

مدرسه را دوست دارم چون چیزهای زیادی یاد می گیرم.

(۱) به دلیل اینکه (۲) مثل (۳) مانند (۴) اگر

شعر «کاجستان» سروده ی کیست؟

معنی واژگان زیر را بنویسید.

(۱) اتفاق: (۲) تأمل: (۳) پاگرفت:

معنی بیت زیر را در یک جمله بنویسید.

مهربانی به گوش باد رسید باد، آرام شد، ملایم شد

برای کلمه های زیر هم خانواده بنویسید.

(۱) تحمّل (۲) مهربانی

"و" در کدام گزینه با بقیه فرق دارد؟

۱- شجاع و نترس باشیم
۲- از پزشک و درمان نترسیم .
۳- حرف راست و درست بگوییم .
۴ - برویم و غذا بخوریم.

در کدام گزینه قید وجود ندارد؟

۱- امید بعد از ظهرها به دکان پدربزرگ می رفت. ۲- رهگذران بی اختیار می ایستادند .
۳- قاب های کوچک و بزرگ را نگاه می کرد. ۴- او ، آرام وارد مغازه شد.

علوم

آب از کدام یک از خاک های زیر بیشتر عبور می کند؟

(۱) رس (۲) ماسه (۳) گیا خاک (۴) خاک باغچه

هرچه خاک دانه ریزتر باشد، در آب

(۱) زودتر ته نشین می شود. (۲) دیرتر ته نشین می شود.

(۳) ته نشین نمی شود (۴) بسته به شرایط هر سه حالت ممکن است.

با گذشت زمان خاک توسط و جایجا می شود.

هنگام فرسایش، خاک خود را از دست می دهد و حاصل خیزی آن می یابد.

هر چه پوشش گیاهی زمین باشد ، بیشتر تحت تاثیر عوامل فرسایش خاک قرار می گیرد.
 قطع درختان چگونه سبب فرسایش خاک می شود؟

کدام مورد باعث فرسایش خاک می شود؟

۱- انسان ۲- باد ۳- آب ۴- هر سه

احتمال جاری شدن سیل در کدام خاک بیش تر است؟

۱- ماسه ای ۲- رُسی ۳- کشاورزی ۴- شنی

کدام عامل باعث فرسایش خاک نمی شود؟

۱- جاری شدن سیلاب ۲- چریدن بیش از حد دام ها

۳- داشتن پوشش گیاهی ۴- رانش زمین

اجتماعی

علت اختلاف میان مسلمانان پس از رحلت پیامبر (ص) چه بود؟

۱- بر سر جانشینی پیامبر (ص) ۲- بر سر محل دفن پیامبر (ص)

۳- بر سر مراسم تشییع پیامبر (ص) ۴- بر سر ارث و میراث پیامبر (ص)

چهار خلیفه مسلمانان به ترتیب کدام بودند؟

۱- حضرت علی (ع) - ابوبکر - عثمان - عمر ۱- ابو بکر - حضرت علی (ع) - عثمان - عمر

۳- ابوبکر - عمر - حضرت علی (ع) - عثمان ۴- ابوبکر - عمر - عثمان - حضرت علی (ع)

پس از مدتی تمام سرزمین های اسلامی به جز از پیروان حضرت علی(ع) شدند؟

۱- شام ۲- سامرا ۳- کاظمین ۴- موصل

در زمان پیامبر مکه چگونه فتح شد؟

۱- در جنگ بدر ۲- در جنگ احد ۳- بدون جنگ و خونریزی ۴- در جنگ خندق

بعد از چه اتفاقی پیامبر (ص) از مکه به مدینه سفر کرد؟

۱- هجرت مسلمان به حبشه و تنها شدن در مکه ۲- با خبر شدن از تصمیم کافران برای کشتن پیامبر(ص)

۳- قطع رابطه ی کافران با پیامبر (ص) و مسلمانان ۴- مأموریت خداوند به پیامبر(ص) برای آشکار شدن دعوت به اسلام

هدیه ها

امام خمینی معمولا بعد از نماز صبح و قبل از نمازهای روزانه می خوانند.

همراهی افراد با جنازه از یک مکان تا محل دفن آن می گویند.

معنی آیه ی زیر چیست؟

«وَلَا تَرْكَبُوا إِلَى الَّذِينَ ظَلَمُوا» (هود- ۱۱۳)

این جمله از کیست؟

«فرزندان عزیزم امید است با نشاط و خرمی درس هایتان را خوب بخوانید.»

معنی عبارت قرآنی زیر را بنویسید.

«فَأَقْرَهُوَامَاتٍ سَرْمَنَ الْقُرْآنِ» (مزمل، ۲۰)

این سخن کیست؟

«عشق به امام خمینی، عشق به همه ی خوبی هاست.»

ادینه ۲۵ ۳ فروردین

کامل کنید.

حجم یک شکل با تغییر ظاهری آن

وقتی ابعاد مکعبی ۳ برابر شود، حجم آن برابر می شود.

حجم شکل مقابل را به دست آورید.

واحد مناسب برای برای اندازه گیری موارد زیر را بنویسید.

(۱) محیط زمینی به شکل دایره به قطر ۱۰۰ متر:.....

(۲) حجم یک لیوان:.....

(۳) حجم بنزین داخل باک اتومبیل:.....

میخواهیم با مقوا مکعبی به ضلع ۱۰ سانتی متر بسازیم. چند سانتی متر مربع مقوا به کار می رود؟

حجم مکعب مستطیلی ۲۴۰۰۰ سانتی متر مکعب است. اگر طول آن ۲۰ و عرض آن ۳۰ سانتی متر باشد، ارتفاع آن چقدر است؟

حجم شکل زیر چقدر است؟

طول، عرض و ارتفاع یک جعبه دارو ۵،۱۰ و ۴ سانتی متر است.

(۱) حجم آن چقدر است؟

(۲) در یک جعبه بزرگ به ابعاد ۵۰، ۶۰ و ۲۰ سانتی متر چند جعبه دارو می توان جا داد؟

فارسی

در مصراع های زیر قید را پیدا کن و رنگ بزن .

میوه ی کاج ها فرو می ریخت.

چند روزی مرا تحمل کن .

"را" در کدام مصراع نشانه ی مفعول است ؟

گفت: "ای آشنا بیخش مرا"

دوستی را نمی برم از یاد.

آن دو را چون دو دوست می دیدند.

همه ی کلمه ها با هم ، هم معنی هستند به جز ...

۱-بوم ۲- زیستگاه ۳- پشت بام ۴ - سرزمین

به کدام کلمه نمی توانیم "نویس" اضافه کنیم؟

۱-فیلم نامه ۲ - رمان ۳ - روان ۴ - هنر

برای کلمه های زیر دو هم خانواده بنویسید.

مدارک :.....و..... : احتیاج :.....و.....

چیزی را در ذهن مجسم ساختن از معانی کدام واژه است؟

۱-توصیف ۲- بیم ۳ - تفکر ۴ - تصور

یک حکایت کوتاه از گلستان را انتخاب کن و بنویس.

علوم

جمله های درست و نادرست را مشخص کنید.

گیاهان برای رشد به هوا نیاز دارند.

ماسه، سرشار از ماده غذایی است.

نوع آب در رشد گیاهان اثری ندارد.

گیاهان می توانند بدون نور و در تاریکی هم ، غذا سازی کنند.

در کدامیک از موارد زیر گیاه به خوبی رشد می کند؟

(۱) آب مقطر (۲) آب معمولی (۳) آب شور (۴) آب نسبتاً شور

کدام مورد از شرایط مهم رشد گیاه نیست؟

(۱) نور (۲) آب (۳) خاک (۴) کود

گیاه در کدام آب بهتر رشد می کند؟

۱- آب شور ۲- آب مقطر ۳- آب معمولی ۴- آب دریا

می خواهیم با انجام آزمایش ، بفهمیم نوع کود چه اثری بر رشد گیاه دارد. در این آزمایش چه چیز را باید تغییر بدهیم؟

۱- مقدار آب ۲- نوع کود ۳- نوع گیاه ۴- میزان تابش نور

در کدام نوع آبیاری آب کم تری هدر می رود؟

۱- آبیاری قطره ای ۲- آبیاری سنتی ۳- آبیاری زیر زمینی ۴- آبیاری افشانه ای

اجتماعی

چند گزینه ای

ورود عرب های مسلمان به ایران حکومت را منقرض کرد.

(۱) ساسانیان (۲) سامانیان (۳) اشکانیان (۴) غزنویان

قیام های زیادی غلبه بنی امیه شکل می گرفت زیرا

(۱) قوانین اسلامی را رعایت نمی کردند. (۲) امامان را به شهادت می رساندند.

(۳) نژاد عرب را از بقیه ی نژادها برتر می دانستند. (۴) همه ی موارد درست است.

کامل کردنی

علویان و آل بویه پیرو مذهب بودند.

رودکی پدر شعر فارسی و شاعر معروف دوره ی است.

ابومسلم در چند جنگ سپاهیان بنی امیه را شکست داد و خاندان را به حکومت رساند.

تشریحی

چرا خلفای بنی عباس اغلب وزیران خود را از میان ایرانیان انتخاب می کردند؟

هدیه ها

کدام شخصیت رئیس جمهور ایران بود؟

(۱) شهید محمدعلی رجایی (۲) شهید محمد باهنر

(۳) شهید محمد بهشتی (۴) شهید مرتضی مطهری

روز معلم مصادف با شهادت کدام شخصیت است؟

(۱) شهید محمدعلی رجایی (۲) شهید محمد باهنر

(۳) شهید مرتضی مطهری (۴) شهید محمد بهشتی

ادامه ی شعار زیر را کامل کنید.

«بیست دو بهمن ماه، یوم الله یوم الله

کلمه های جا افتاده در شعارهای زیر را کامل کنید:

«بیست و دو بهمن روز میهن بیست و دو بهمن روز دشمن»

کدام آیه ی قرآن به چنگ زدن ریسمان الهی را اشاره دارد؟ به همراه ترجمه بنویسید.

ادینه ۲۶ فروردین

واحد های داده شده را به عبارت مناسب وصل کنید.

دویست سانتی متر مکعب جعبه ای به ابعاد ۱۰ سانتی متر

سه هزار سانتی متر مکعب دو پاکت شیر پاستوریزه ۱/۵ لیتری

۱۶۰ هزار سانتی متر مکعب کارتن تابلو فرش قاب شده

یک لیتر جعبه ی شربت سرماخوردگی

۲۰ میلی لیتر

جعبه ی قطره ی استریل چشمی

کامل کنید.

گنجایش تنگ ماهی، از گنجایش آکواریوم است.

یک سی سی گنجایش مکعبی تو خالی به ابعاد سانتی متر است.

۱۵/۰ لیتر یعنی سی سی.

حداقل چند سی سی آب را می-توانیم در یک بطری دوغ خانواده ۱/۵ لیتری جا بدهیم؟

در روز درختکاری حمید دور تا دور باغی به شکل دایره و به شعاع ۱۰۰ متر را با فاصله های ۲ متری شمشاد کاشت.

(۱) او چند درخت شمشاد کاشته است؟

(۲) اگر برای آبیاری هر درخت در یک هفته ۳ لیتر آب مصرف شود، برای آبیاری کل درختان چند سی سی آب مصرف می شود؟

مخزنی به شکل مستطیل که ابعاد آن ۳و۴و۵ متر است. گنجایش این مخزن چند متر مکعب است؟ چندلیتر است؟

گنجایش حوضی ۷متر مکعب است. چند لیتر آب در آنجا می گیرد؟

فارسی

در جمله « هر بیماری دوره-ای دارد باید بگذرد » از کدام نشانه-های ربط استفاده می-کنیم؟

(۱) تا (۲) که (۳) اما (۴) و

حروف جا افتاده-ی کلمه-های زیر را بنویسید.

ب... بودی - ... یرت-آور - سرآ...از - حف... - مق...ود - ..رور - ...یبب - اندو...گین - ن...ر - فر...ت

هم معنی کلمات را داخل کمانک بنویسید.

(۱) او از طبیب () پرسید: چرا گفتید به بالین () مادر نروم؟

(۲) باید گوسفندی را که نذر () کرده-ایم، قربانی کنیم و به نیازمندان () بدهیم.

راه رسیدن به دانایی و آشنایی با پدیده-ها چیست؟

در جدول زیر مثال-هایی از نگاه کردن و خوب دیدن بنویسید.

نگاه کردن خوب دیدن

هم خانواده-ی کلمه-های زیر را بنویسید.

(۱) ذهن (۲) شکرانه

معنی واژگان زیر را بنویسید.

(۱) ذهن: (۲) ابرام: (۳) حیرت-زده:

سرآغاز دانایی چیست؟

برای کلمه-های زیر، هم خانواده بنویسید.

(۱) حق: (۲) شوق:

علوم

خاک باغچه مخلوطی از و و است.

خاک هایی که بیشتری دارند ، آب بیشتری را در خود نگه می دارند.

کدام یک از تواناییهای زیر ، موجب زنده ماندن گیاهان و جانوران می شود؟

۱-تتفس جانداران ۲- غذاسازی گیاهان سبز

۳- رشد و تولید مثل جانوران ۴ - حرکت جانوران برای یافتن غذا

بهترین راه افزایش میزان محصول در یک گلخانه ،افزایش کدام مورد زیر است؟

۱-مواد معدنی و آب ۲- اکسیژن و نور

۳ - کربن دی اکسید و دما تا حدی مشخص ۴ - آب و نور شدید و فراوان

گیاه برای جذب املاح معدنی توسط ریشه، به کدام مورد زیر نیاز دارد؟
 ۱-اکسیژن ۲- آب ۳- هوا
 چرا انسان ها سعی می کنند که در محیط زندگی خود گیاهان را پرورش دهند؟
 ۴- کود

شرایط لازم برای زنده ماندن و رشد گیاهان را بنویسید.

اجتماعی

چند گزینه ای

در دوران کدام یک از سلسله های زیر قلمرو ایران گسترش بیشتری یافت؟

۱) سلجوقیان ۲) غزنویان ۳) خوارزمشاهیان ۴) سامانیان

علت گسترش فرهنگ و هنر در دوره ی سلسله های ترک تبار ایران بود.

۱) وجود منابع معدنی بسیار در ایران ۲) لشکرکشی به کشورهای همسایه

۳) استفاده از وزیران خردمند ایرانی ۴) همه ی موارد درست است

کامل کردنی

یکی از کارهای مهم سلطان محمود غزنوی لشکرکشی به کشور بود.

مدارس به دستور خواجه نظام الملک در شهرهای بزرگ ساخته شد.

ابوالقاسم فردوسی از شاعران مشهور دوره ی است.

تشریحی

سه سلسله ی ترک تبار ایران را نام ببرید.

حکومت خوارزمشاهیان چگونه برچیده شد؟

هدیه ها

هدیه ۴ فروردین

۱-در بازیهای رایانه ای اسراف چگونه روی می دهد؟

۲-امام خمینی(ره) چه کارهایی انجام داده اند که نشاندهنده الگو گرفتن ایشان از امامان و پیامبران است؟

۳-مبارزات امام خمینی(ره) برای پیروزی انقلاب اسلامی چند سال به طول انجامید؟

۳۰ ۱۲ ۱۰ ۱۵

۴-چرا خداوند اسراف کاران را دوست ندارد؟

ادینه ۲۷ اریب هشت

برای می-توان از جدول داده-ها، نمودار ستونی، نمودار تصویری، نمودار خط شکسته و یا دایره-ای استفاده کرد.

برای نمودار زیر یک سوال طراحی کنید.

جدول زیر دمای هوای شیراز در روزهای مختلف اولین هفته ی دی ماه را نشان می دهد.

جمعه	پنجشنبه	چهارشنبه	سه شنبه	دوشنبه	یکشنبه	شنبه	روز
۴	۱	۲	۰	۷	۱۲	۱۵	دما به درجه

۱) نمودار خط شکسته ی آن را رسم کنید.

۲) بیشترین اختلاف دما مربوط به کدام روزهای هفته است؟

۳) اختلاف بین بیشترین و کم ترین دما در این هفته چند درجه است؟

برای جمع آوری داده-ها از چه روش-هایی استفاده می-کنیم؟

علی در روز چهارشنبه ۲۵درصد از شبانه روز را به استراحت و ۵۰درصد را به تکالیف و ۱۰ درصد را به عبادت و بقیه را به بازی اختصاص داد.

یک جدول داده مناسب برای برنامه ی او بر اساس دقیقه بکشید.(یک شبانه روز را ۲۴ساعت یا ۱۴۴۰دقیقه است).

یک نمودار دایره ای مناسب رسم کنید.

فارسی

