


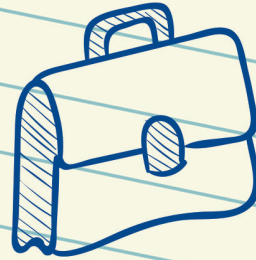
دفترچه شماره‌ی

۵

پنجم
دبستان



پیک خلاق
آدینه



فارسی: درس سوم

ریاضی: کسرهای بزرگ‌تر از واحد

علوم: رنگین کمان

مطالعات اجتماعی: درس پنجم



آبان



به نام خداوند خورشید و ماه

که دل را به نامش خرد داد راه

ریاضی

۱ عدد‌های مخلوط را به کسر تبدیل کنید.

$$۱۲\frac{۲}{۳} =$$

$$۴\frac{۱}{۶} =$$

$$۷\frac{۳}{۴} =$$

۲ کدام کسر بزرگ‌تر از واحد است؟ × بزنید.

(د) $\frac{۴}{۹}$

(ج) $\frac{۱}{۵}$

(ب) $\frac{۱۱}{۶}$

(الف) $\frac{۲}{۸}$

۳ کسرهای بزرگ‌تر از واحد را به صورت یک عدد مخلوط بنویسید.

$$\frac{۱۶}{۳} =$$


$$\frac{۸}{۶} =$$

$$\frac{۱۷}{۵} =$$

۴ کسر مربوط به هر شکل را بنویسید و سپس آن‌ها را با هم مقایسه کنید.




واحد



۵ در جاهای خالی علامت <، = یا > بگذارید.

$$\frac{۲}{۳} \square \frac{۷}{۳}$$

$$\frac{۳}{۷} \square \frac{۱}{۱۴}$$



$$\frac{۴}{۶} \square \frac{۴}{۸}$$

$$\frac{۲۰}{۵} \square ۴$$



فارسی

۱ با واژه‌های زیر، جمله بسازید.

پرس و جو:

بدین‌سان:

شگفت‌زده:

۲ معنی هر واژه را بنویسید. با هر واژه یک جمله بنویسید.

زرگر یعنی:

رفتگر یعنی:

مسگر یعنی:

۳ دو کلمه بنویسید، که با گار ترکیب شود. «مانند: آموز + گار = آموزگار»



..... = +

..... = +

علوم

۱ جاهای خالی را کامل کنید.

(الف) تبدیل آب به بخار یک تغییر است.

(ب) پختن نان یک تغییر است.



۲ کدام تغییر تند و کدام یک کند انجام می‌شود؟

..... سوختن شمع:

..... زنگ زدن آهن:



۲ برای تشکیل رنگین کمان از چه وسایلی می‌توانید استفاده کنید؟

۴ رنگ‌های رنگین کمان را با یک نقاشی نشان دهید.



مطالعات اجتماعی

الف) جاهای خالی را کامل کنید.

۱- به مجموعه افرادی که در یک جا زندگی می‌کنند، می‌گویند.

۲- اگر تعداد افرادی که متولد می‌شوند بیش از افرادی باشد که می‌میرند، جمعیت می‌یابد.

۳- یکی دیگر از دلایل افزایش جمعیت است.

۴- اگر جمعیت زیاد باشد، نیروی زیادی برای از کشورمان داریم.

ب) پاسخ دهید.


۱ نواحی پرجمعیت ایران را نام ببرید.



۲ شما در کدام یک از شهرها یا روستاهای ایران زندگی می‌کنید؟



۳ عوامل جذب‌کننده‌ی جمعیت را نام ببرید. (۴ مورد)



۴ چه عواملی سبب کم شدن جمعیت در یک منطقه می‌شوند؟

بهترین تسمیمی را که در این هفته گرفته‌اید، بنویسید.

چو ایران نباشد تن من میرا

